



华图教师
HTEACHER.NET

乘华图翅膀 圆教师梦想

2021 年湖北省/武汉市事业单位考试

《职业能力倾向测验》督学手册

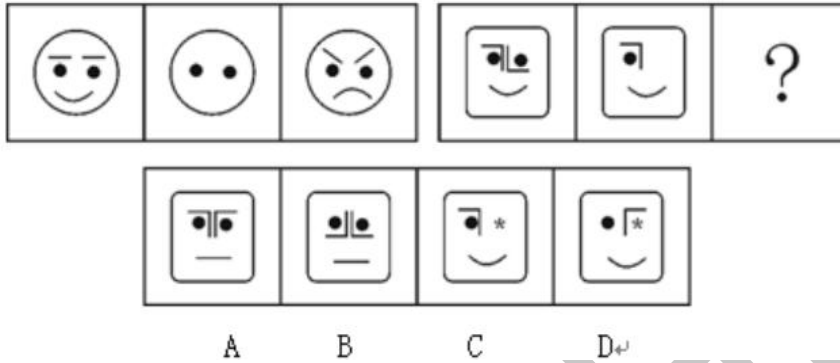
(D 类)

科目名称：判断推理（基础阶段）

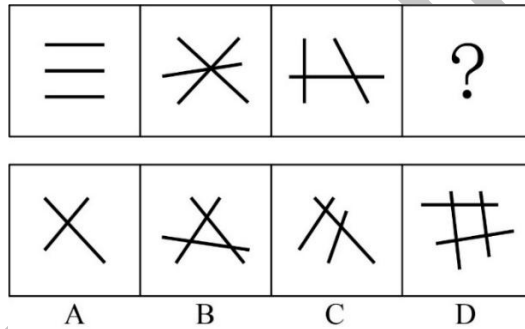
手册主人：

第一章 图形推理

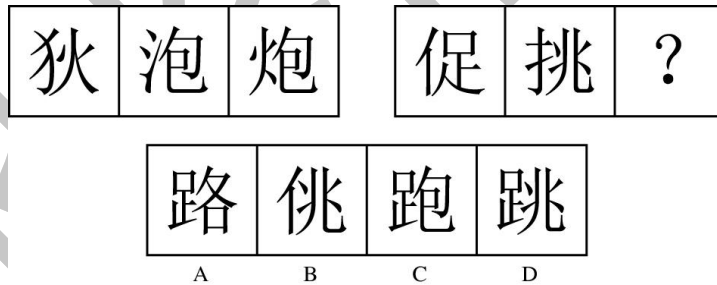
1. 从所给的四个选项中, 选择最合适的一个填入问号处, 使之呈现一定的规律性()。



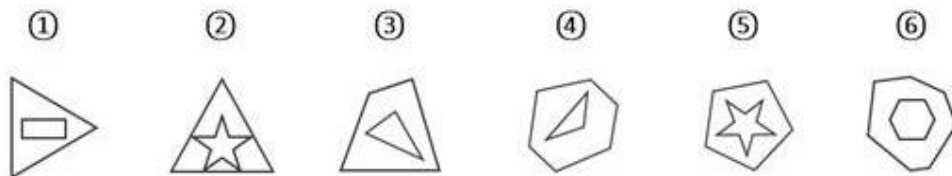
2. 从所给的四个选项中, 选择最合适的一个填入问号处, 使之呈现一定的规律性()。



3. 从所给的四个选项中, 选择最合适的一个填入问号处, 使之呈现一定的规律性()。



4. 把下面的六个图形分为两类, 使每一类图形都有各自的共同特征或规律, 分类正确的一项是()。



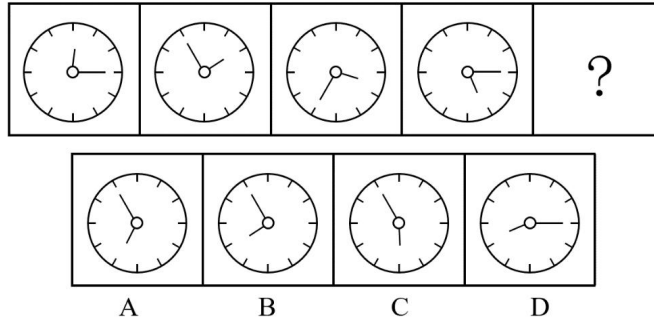
A. ①②⑥, ③④⑤

B. ①③④, ②⑤⑥

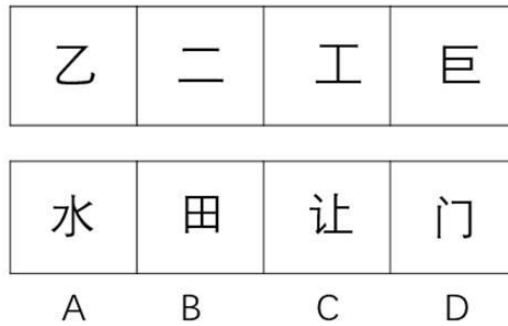
C. ①②⑤, ③④⑥

D. ①④⑤, ②③⑥


5. 从所给的四个选项中, 选择最合适的一个填入问号处, 使之呈现一定的规律性()。



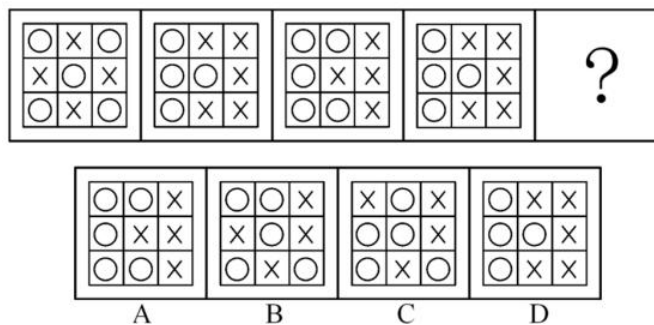
6. 从所给的四个选项中, 选择最合适的一个填入问号处, 使之呈现一定的规律性()。



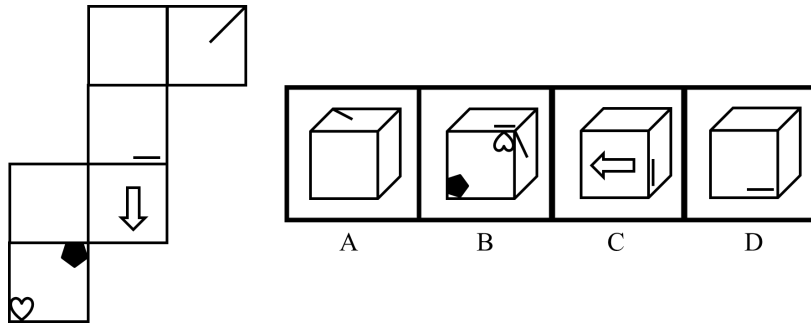
7. 从所给的四个选项中, 选择最合适的一个填入问号处, 使之呈现一定的规律性()。



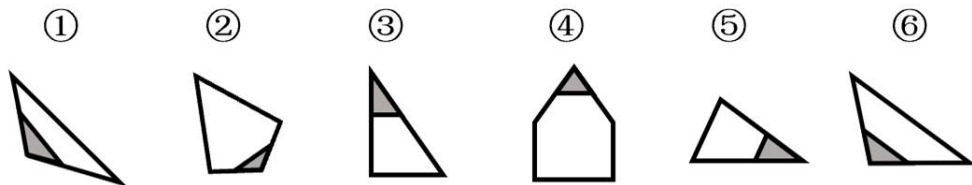
8. 从所给的四个选项中, 选择最合适的一个填入问号处, 使之呈现一定的规律性()。



9. 左边给出的是纸盒的外表面，下列选项中哪一项可由它折叠而成？（ ）




10. 把下面的六个图形分为两类，使每一类图形都有各自的共同特征或规律，分类正确的一项是（ ）。

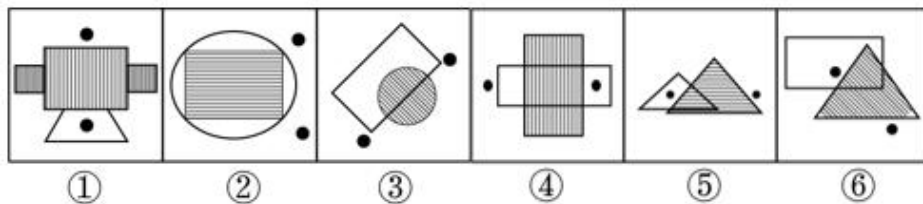


- A. ①②③, ④⑤⑥ B. ①②④, ③⑤⑥
C. ①④⑥, ②③⑤ D. ①②⑥, ③④⑤

11. 从所给的四个选项中，选择最合适的一个填入问号处，使之呈现一定的规律性（ ）。

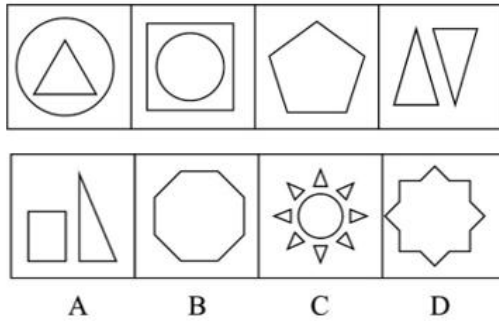


12. 把下面的六个图形分为两类，使每一类图形都有各自的共同特征或规律，分类正确的一项是（ ）。

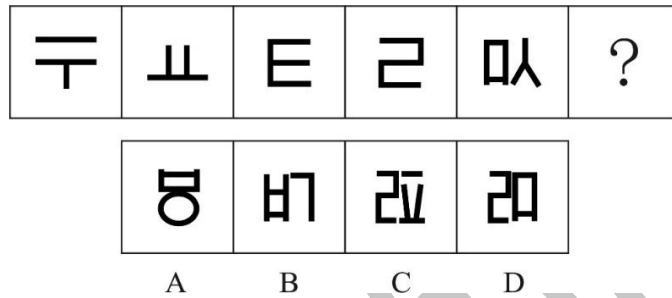


- A. ①②③, ④⑤⑥ B. ①④⑤, ②③⑥
C. ①③⑤, ②④⑥ D. ①⑤⑥, ②③④

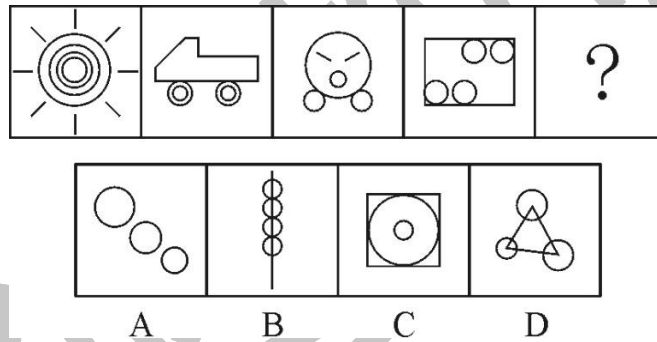
13. 从所给的四个选项中，选择最合适的一个填入问号处，使之呈现一定的规律性（ ）。




14. 从所给的四个选项中, 选择最合适的一个填入问号处, 使之呈现一定的规律性()。



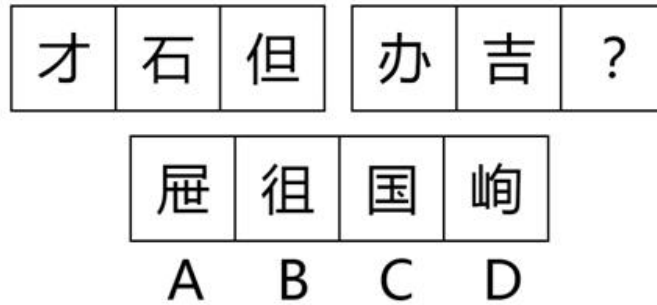
15. 从所给的四个选项中, 选择最合适的一个填入问号处, 使之呈现一定的规律性()。



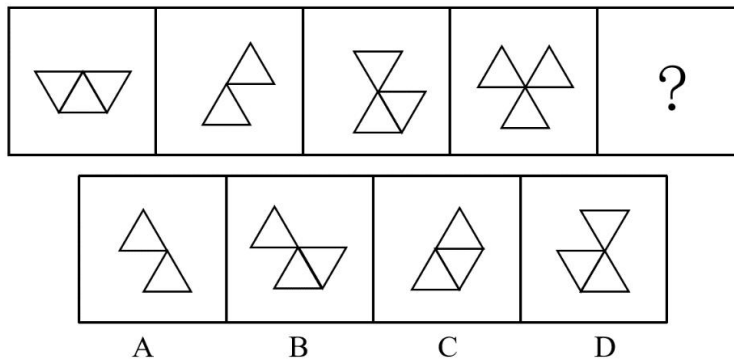
16. 从所给的四个选项中, 选择最合适的一个填入问号处, 使之呈现一定的规律性()。



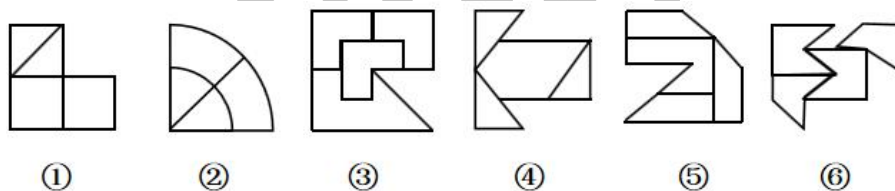
17. 从所给的四个选项中, 选择最合适的一个填入问号处, 使之呈现一定的规律性()。



18. 从所给的四个选项中, 选择最合适的一个填入问号处, 使之呈现一定的规律性()。

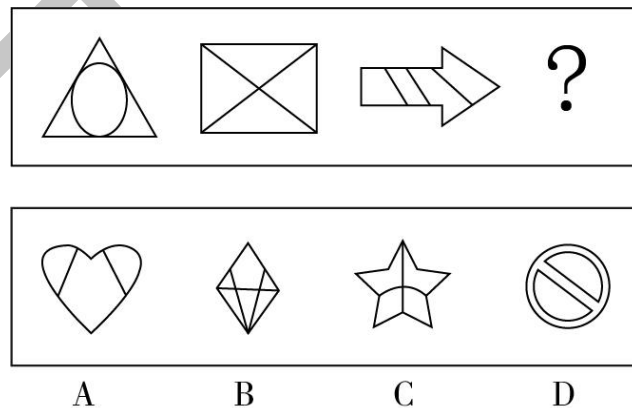


19. 把下面的六个图形分为两类, 使每一类图形都有各自的共同特征或规律, 分类正确的一项是()。

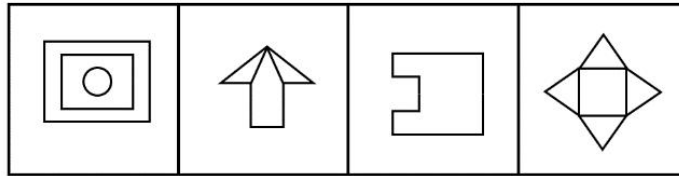
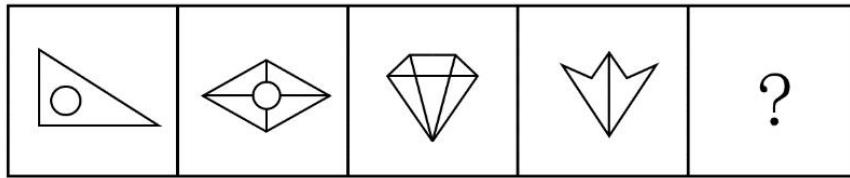


- A. ①③④, ②⑤⑥ B. ①③⑤, ②④⑥
 C. ①②⑥, ③④⑤ D. ①④⑥, ②③⑤

20. 从所给的四个选项中, 选择最合适的一个填入问号处, 使之呈现一定的规律性()。



21. 从所给的四个选项中, 选择最合适的一个填入问号处, 使之呈现一定的规律性()。



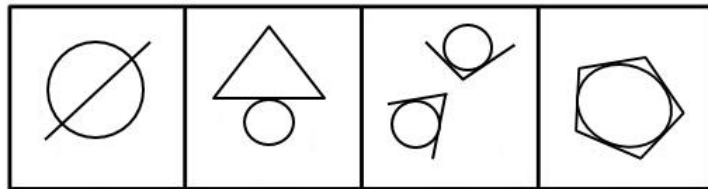
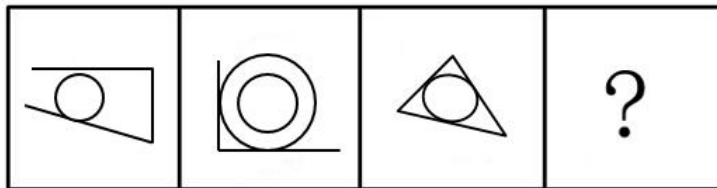
A

B

C

D

22. 从所给的四个选项中,选择最合适的一个填入问号处,使之呈现一定的规律性()。




A

B

C

D

23. 从所给的四个选项中,选择最合适的一个填入问号处,使之呈现一定的规律性()。



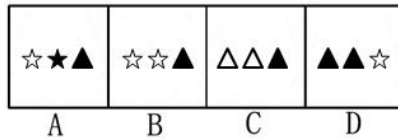

A

B

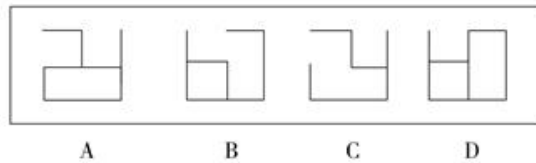

C

D

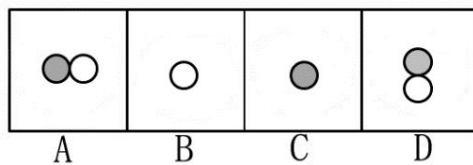
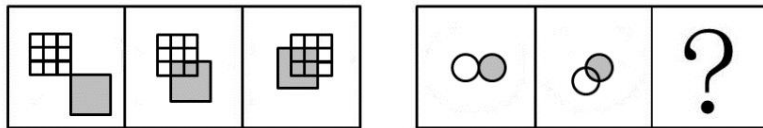
24. 从所给的四个选项中,选择最合适的一个填入问号处,使之呈现一定的规律性()。



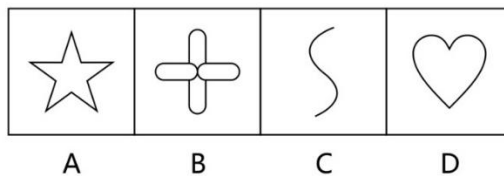
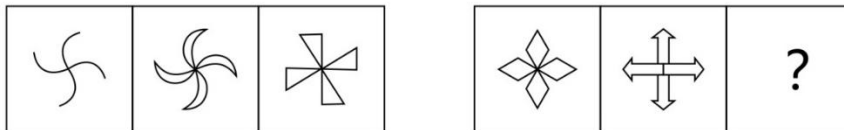
25. 从所给的四个选项中, 选择最合适的一个填入问号处, 使之呈现一定的规律性()。



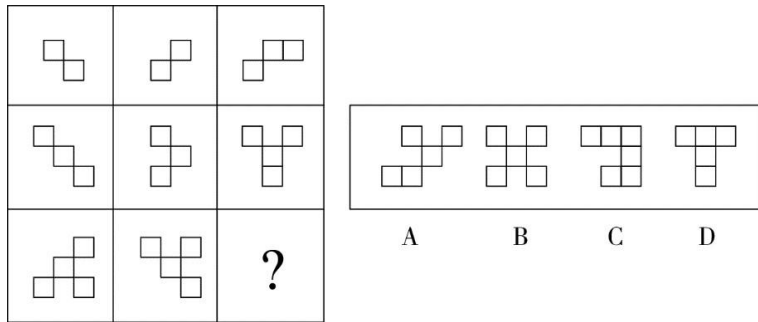
26. 从所给的四个选项中, 选择最合适的一个填入问号处, 使之呈现一定的规律性()。



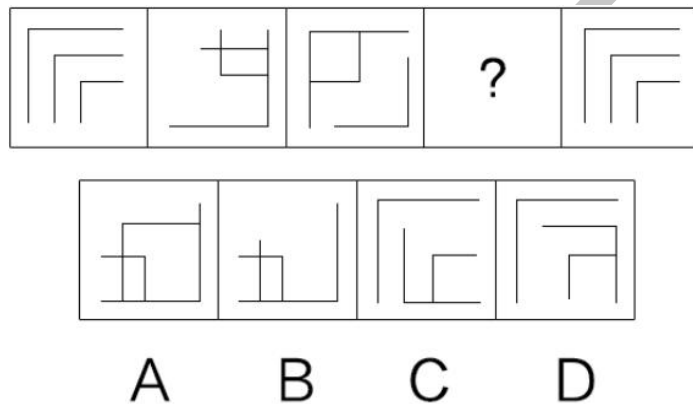
27. 从所给的四个选项中, 选择最合适的一个填入问号处, 使之呈现一定的规律性()。



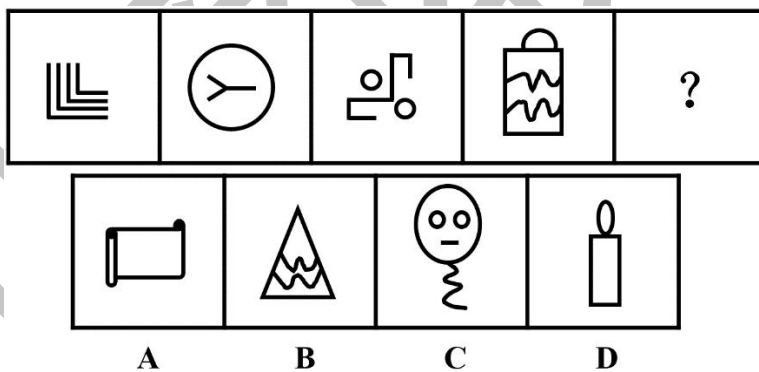
28. 从所给的四个选项中, 选择最合适的一个填入问号处, 使之呈现一定的规律性()。



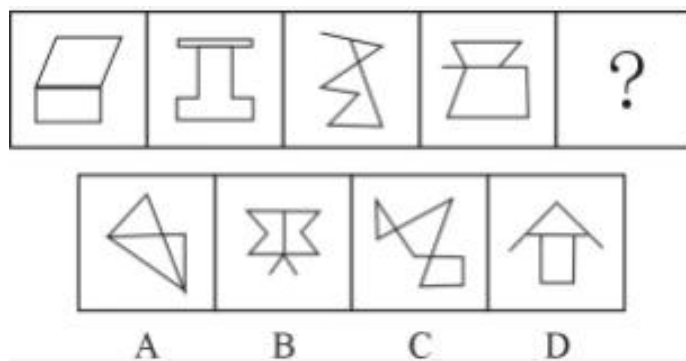
29. 从所给的四个选项中, 选择最合适的一个填入问号处, 使之呈现一定的规律性()。




30. 从所给的四个选项中, 选择最合适的一个填入问号处, 使之呈现一定的规律性()。



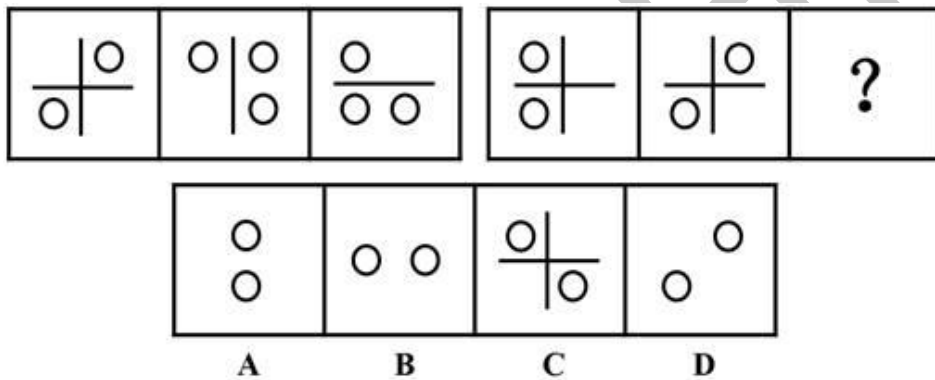
31. 从所给的四个选项中, 选择最合适的一个填入问号处, 使之呈现一定的规律性()。



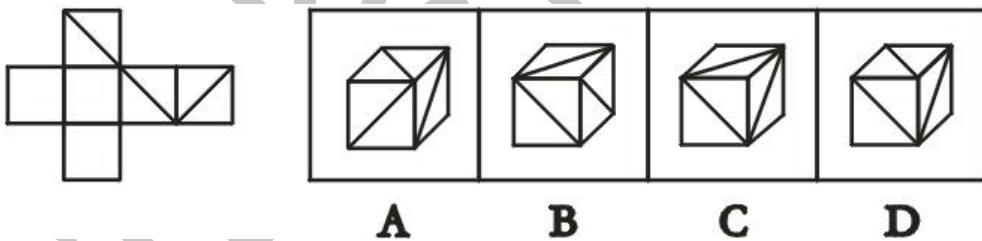
32. 从所给的四个选项中, 选择最合适的一个填入问号处, 使之呈现一定的规律性()。



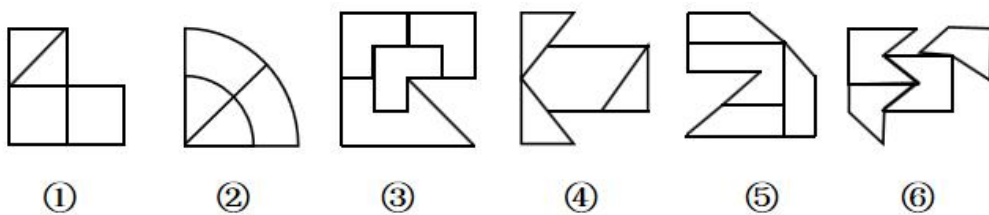
33. 从所给的四个选项中, 选择最合适的一个填入问号处, 使之呈现一定的规律性()。



34. 左边给出的是纸盒的外表面, 下列选项中哪一项可由它折叠而成? ()



35. 把下面的六个图形分为两类, 使每一类图形都有各自的共同特征或规律, 分类正确的一项是()。



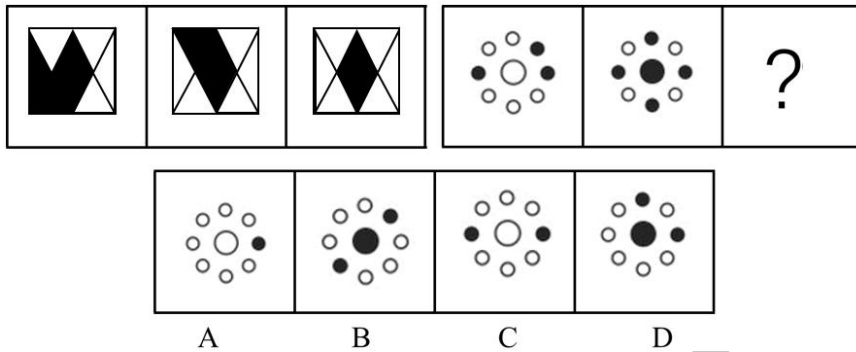
A. ①③④, ②⑤⑥

B. ①③⑤, ②④⑥

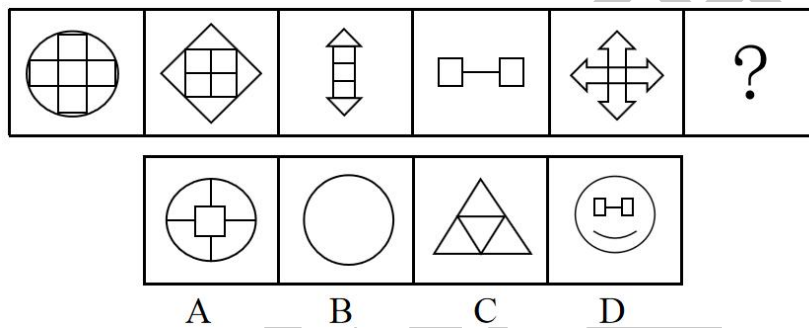
C. ①②⑥, ③④⑤

D. ①④⑥, ②③⑤

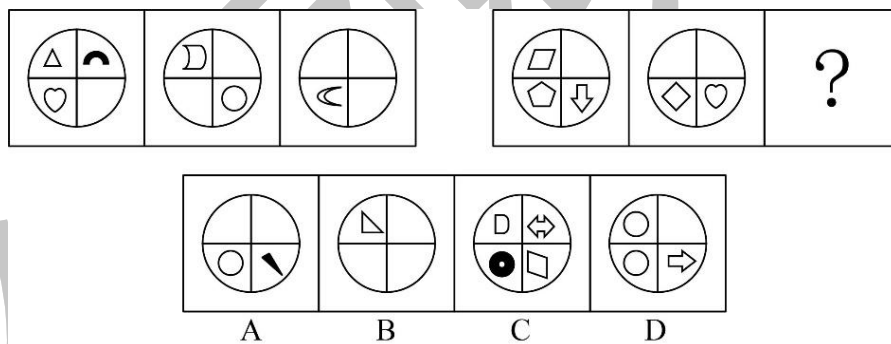
36. 从所给的四个选项中, 选择最合适的一个填入问号处, 使之呈现一定的规律性()。



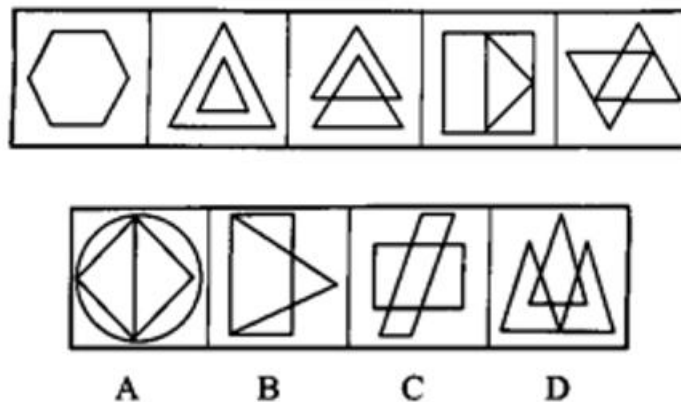
37. 从所给的四个选项中, 选择最合适的一个填入问号处, 使之呈现一定的规律性()。



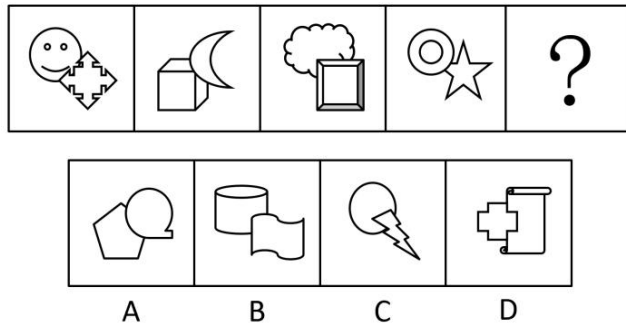
38. 从所给的四个选项中, 选择最合适的一个填入问号处, 使之呈现一定的规律性()。



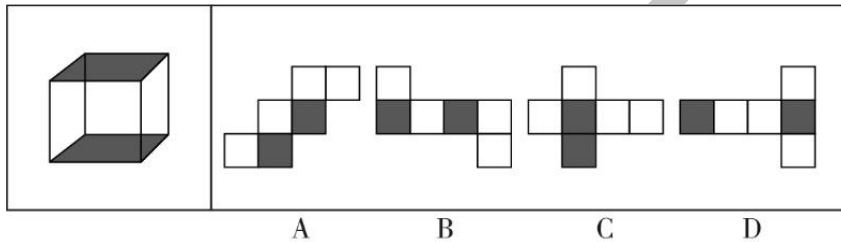
39. 从所给的四个选项中, 选择最合适的一个填入问号处, 使之呈现一定的规律性()。



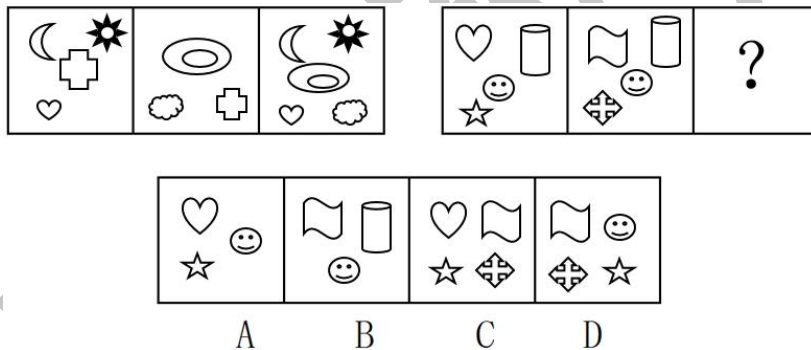
40. 从所给的四个选项中, 选择最合适的一个填入问号处, 使之呈现一定的规律性()。



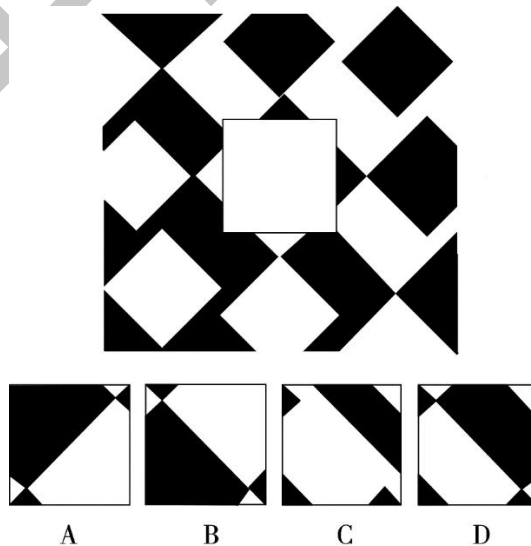
41. 下列选项中, 不是由左边的立方体展开而成的是()。



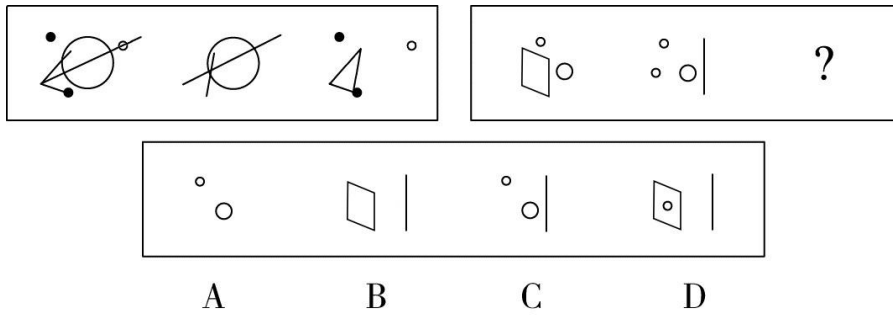
42. 从所给的四个选项中, 选择最合适的一个填入问号处, 使之呈现一定的规律性()。



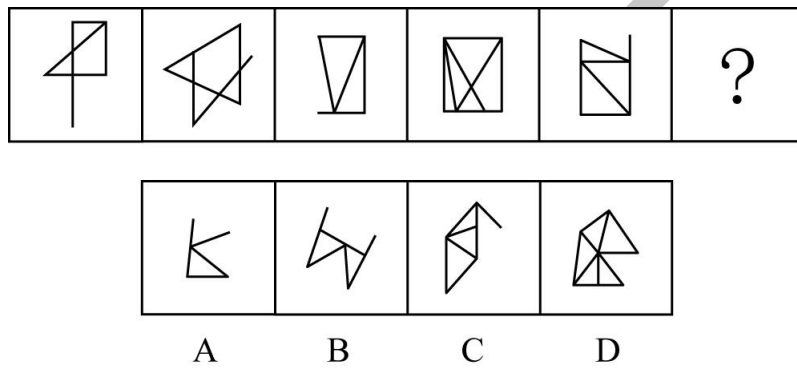
43. 从所给的四个选项中, 选择最合适的一个填入空白处, 使之呈现一定的规律性()。



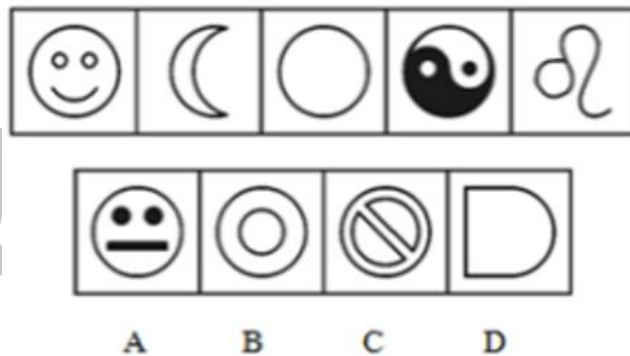
44. 从所给的四个选项中, 选择最合适的一个填入问号处, 使之呈现一定的规律性()。



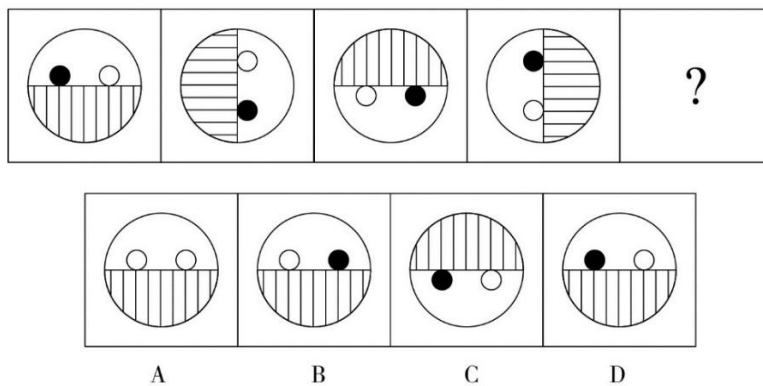
45. 从所给的四个选项中, 选择最合适的一个填入问号处, 使之呈现一定的规律性()。



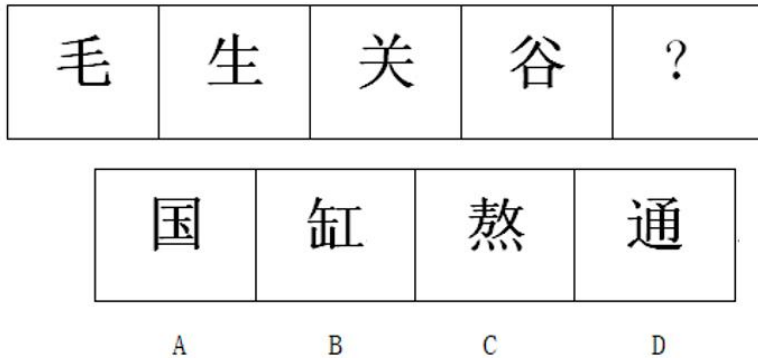
46. 从所给的四个选项中, 选择最合适的一个填入问号处, 使之呈现一定的规律性()。



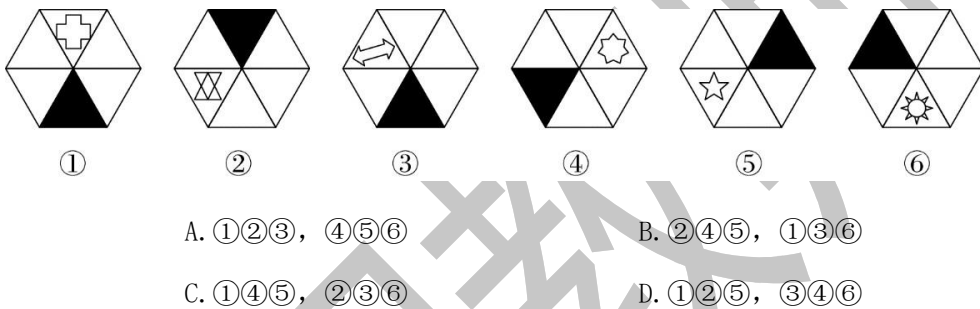
47. 从所给的四个选项中, 选择最合适的一个填入问号处, 使之呈现一定的规律性()。



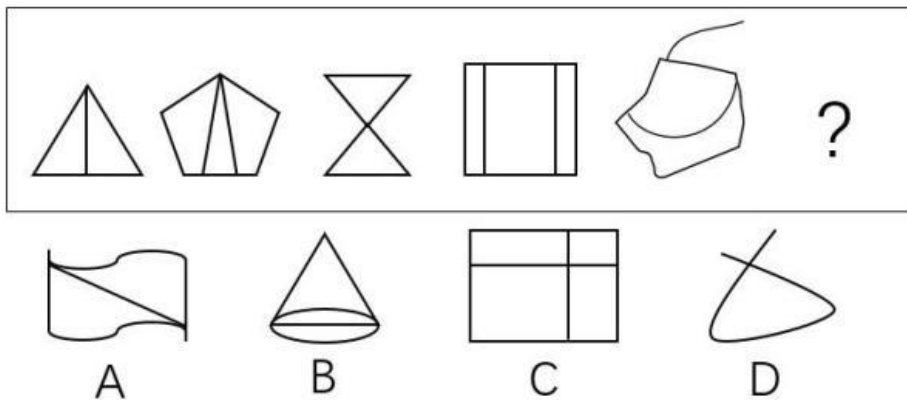
48. 从所给的四个选项中, 选择最合适的一个填入问号处, 使之呈现一定的规律性()。



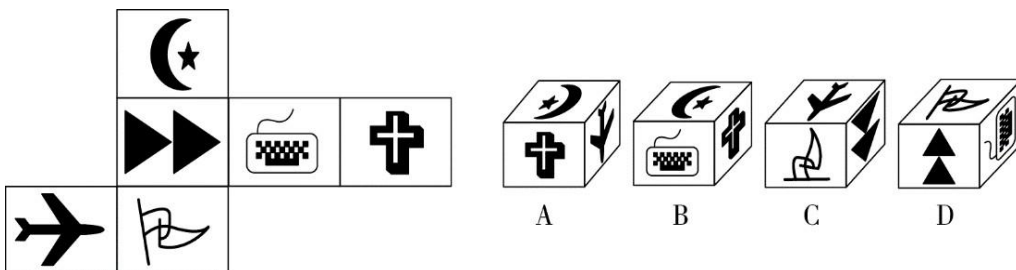
49. 把下面的六个图形分为两类, 使每一类图形都有各自的共同特征或规律, 分类正确的一项是 ()。



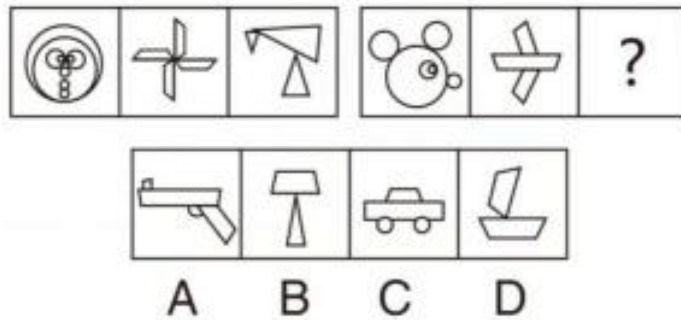
50. 从所给的四个选项中, 选择最合适的一个填入问号处, 使之呈现一定的规律性()。



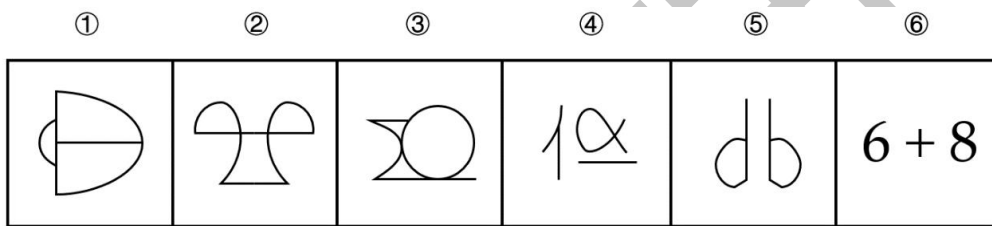
51. 左边给出的是纸盒的外表面, 下列选项中哪一项可由它折叠而成? ()



52. 从所给的四个选项中, 选择最合适的一个填入问号处, 使之呈现一定的规律性()。

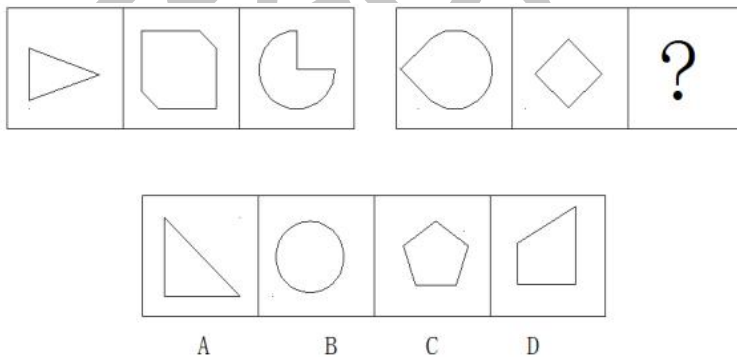


53. 把下面的六个图形分为两类, 使每一类图形都有各自的共同特征或规律, 分类正确的一项是()。

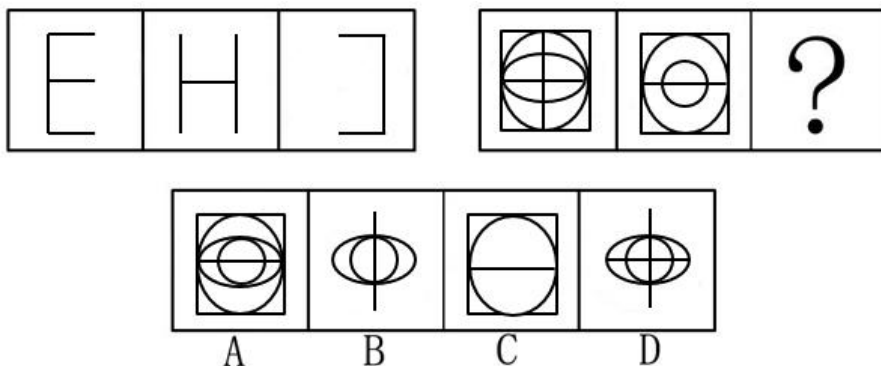


- A. ①②③, ④⑤⑥ B. ①③⑥, ②④⑤
C. ①④⑥, ②③⑤ D. ①④⑤, ②③⑥

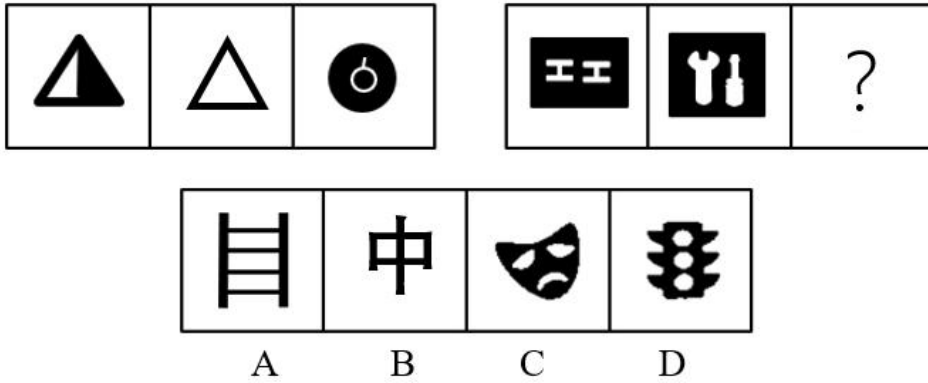
54. 从所给的四个选项中, 选择最合适的一个填入问号处, 使之呈现一定的规律性()。



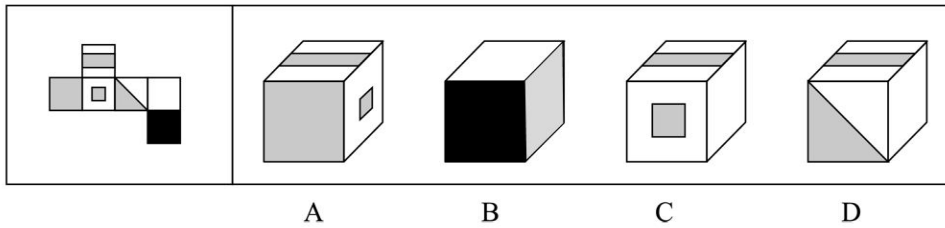
55. 从所给的四个选项中, 选择最合适的一个填入问号处, 使之呈现一定的规律性()。



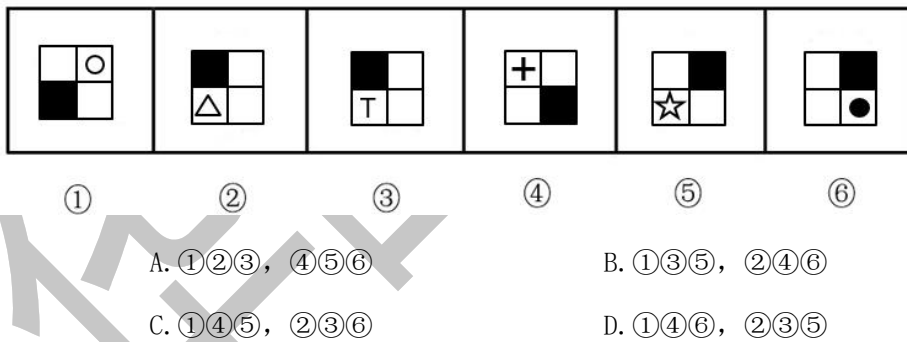
56. 从所给的四个选项中, 选择最合适的一个填入问号处, 使之呈现一定的规律性()。



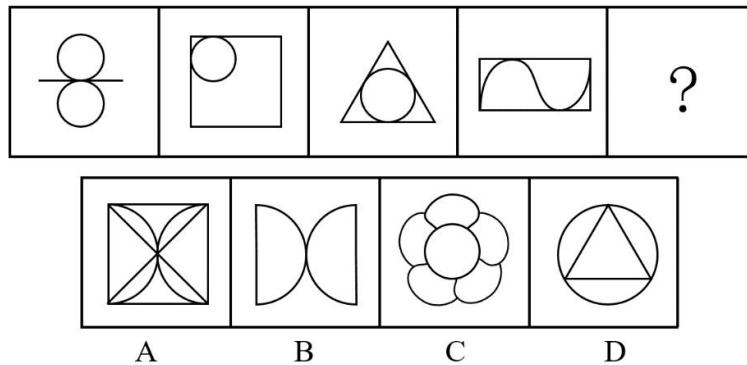
57. 左边给出的是纸盒的外表面, 下列选项中哪一项可由它折叠而成? ()



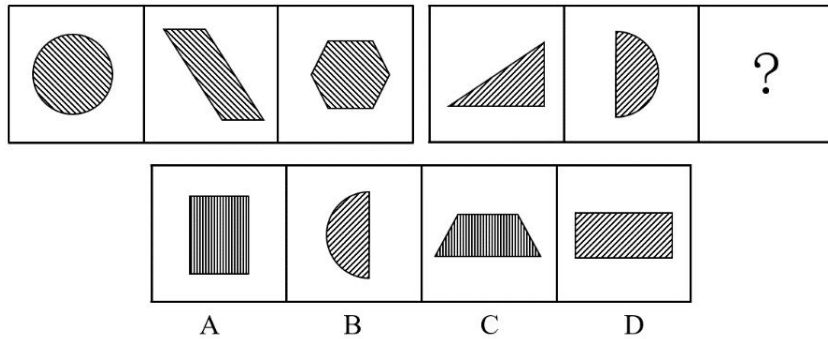
58. 把下面的六个图形分为两类, 使每一类图形都有各自的共同特征或规律, 分类正确的一项是 ()。



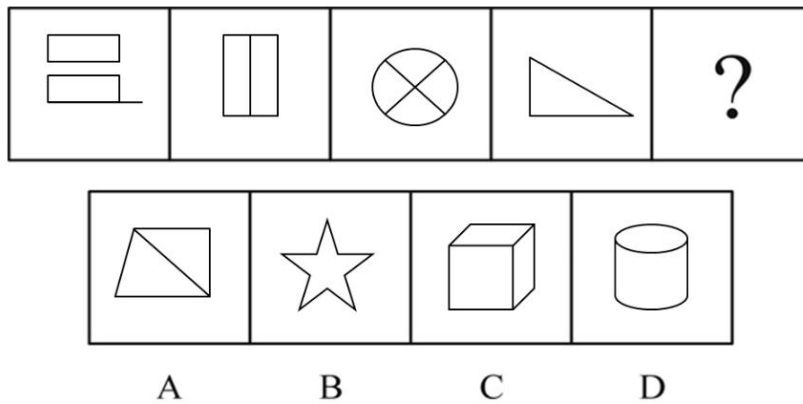
59. 从所给的四个选项中, 选择最合适的一个填入问号处, 使之呈现一定的规律性()。



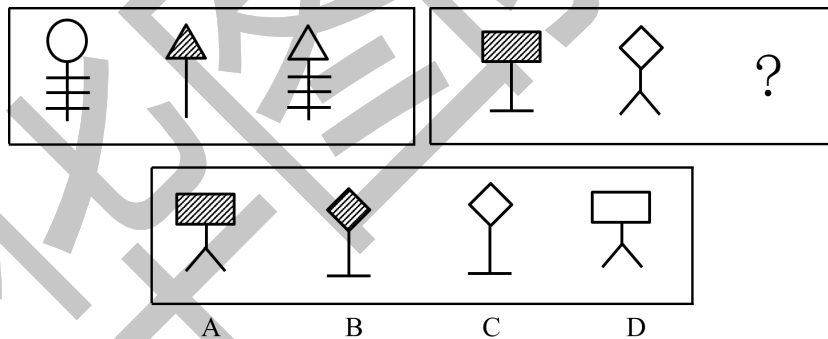
60. 从所给的四个选项中, 选择最合适的一个填入问号处, 使之呈现一定的规律性()。



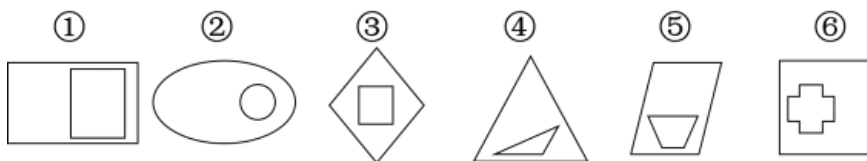
61. 从所给的四个选项中, 选择最合适的一个填入问号处, 使之呈现一定的规律性()。



62. 从所给的四个选项中, 选择最合适的一个填入问号处, 使之呈现一定的规律性()。



63. 把下面的六个图形分为两类, 使每一类图形都有各自的共同特征或规律, 分类正确的一项是()。



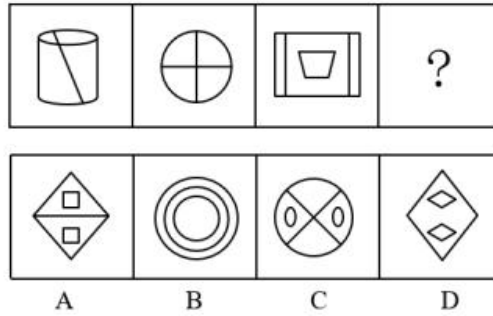
A. ①④⑥, ②③⑤

B. ①②③, ④⑤⑥

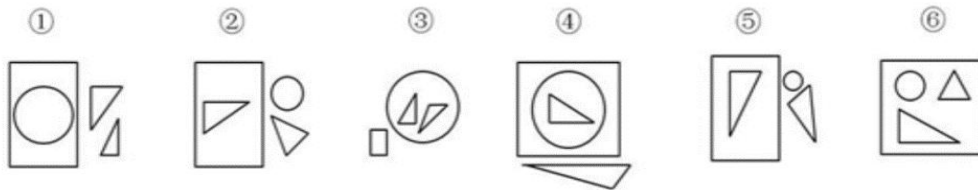
C. ①③⑥, ②④⑤

D. ①③④, ②⑤⑥

64. 从所给的四个选项中, 选择最合适的一个填入问号处, 使之呈现一定的规律性()。

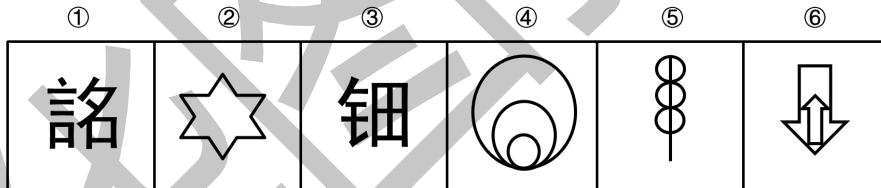


65. 把下面的六个图形分为两类, 使每一类图形都有各自的共同特征或规律, 分类正确的一项是 ()。




- A. ①③④, ②⑤⑥ B. ①②⑥, ③④⑤
C. ①④⑤, ②③⑥ D. ①④⑥, ②③⑤

66. 把下面的六个图形分为两类, 使每一类图形都有各自的共同特征或规律, 分类正确的一项是 ()。

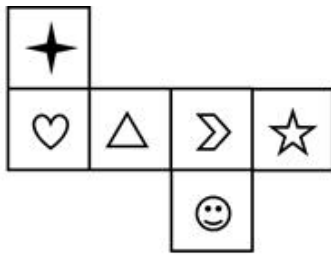


- A. ①③⑥, ②④⑤ B. ①②⑤, ③④⑥
C. ①②⑥, ③④⑤ D. ①③⑤, ②④⑥

67. 从所给的四个选项中, 选择最合适的一个填入问号处, 使之呈现一定的规律性()。

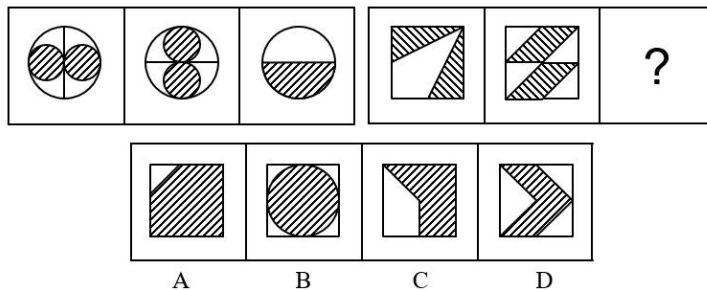


68. 一个正方体的每一个面上都画有一个图形，其平面展开图如下图所示，那么在该正方体中，和“笑脸”相对的图形应该是（ ）。

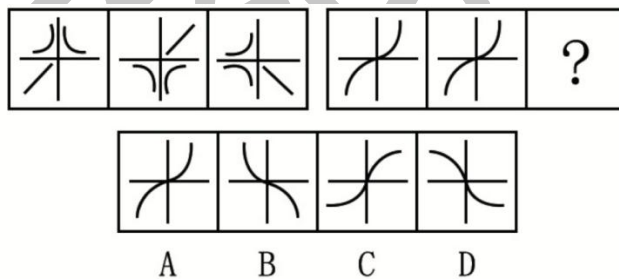


- A. 心 B. 星 C. 三角 D. 五角星

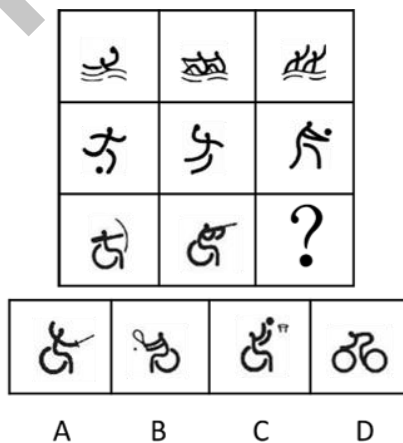
69. 从所给的四个选项中，选择最合适的一个填入问号处，使之呈现一定的规律性（ ）。



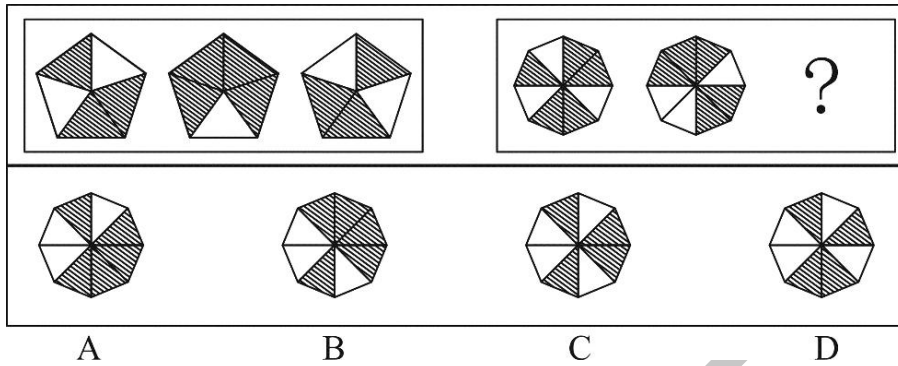
70. 从所给的四个选项中，选择最合适的一个填入问号处，使之呈现一定的规律性（ ）。



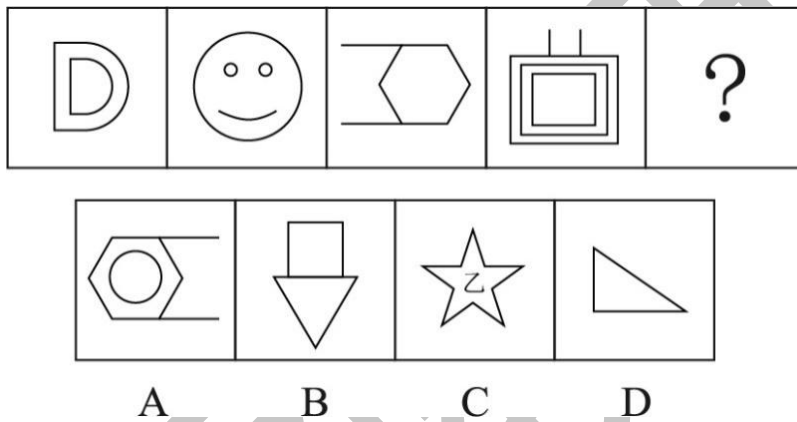
71. 从所给的四个选项中，选择最合适的一个填入问号处，使之呈现一定的规律性（ ）。



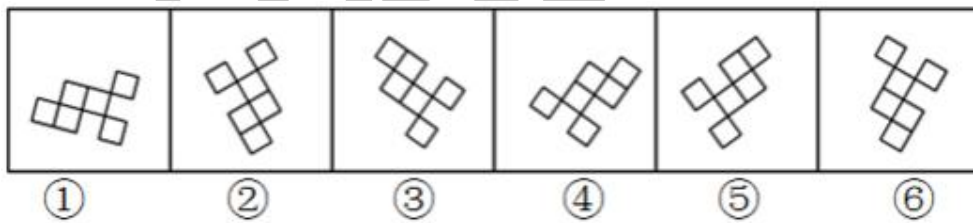
72. 从所给的四个选项中, 选择最合适的一个填入问号处, 使之呈现一定的规律性()。



73. 从所给的四个选项中, 选择最合适的一个填入问号处, 使之呈现一定的规律性()。

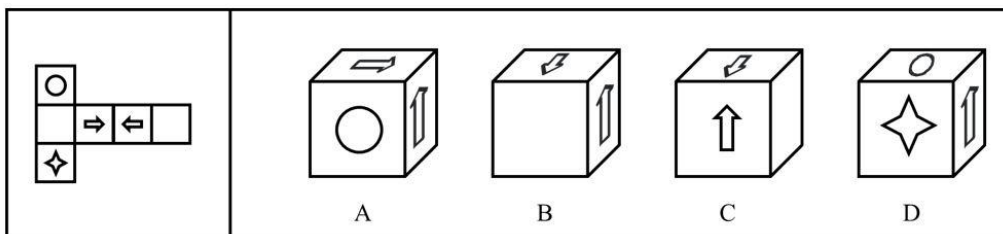


74. 把下面的六个图形分为两类, 使每一类图形都有各自的共同特征或规律, 分类正确的一项是()。

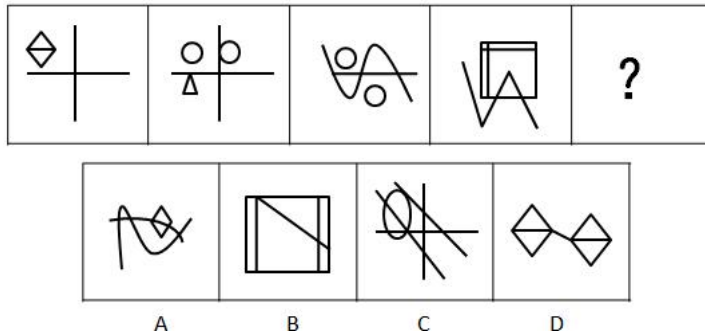


- A. ①⑤⑥, ②③④ B. ①④⑤, ②③⑥
C. ①②③, ④⑤⑥ D. ①③⑥, ②④⑤

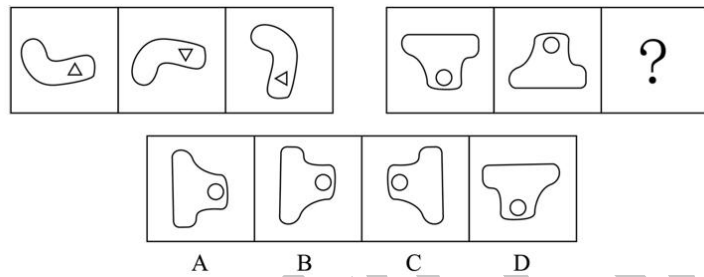
75. 左边给出的是纸盒的外表面, 下列选项中哪一项可由它折叠而成? ()



76. 从所给的四个选项中, 选择最合适的一个填入问号处, 使之呈现一定的规律性()。




77. 从所给的四个选项中, 选择最合适的一个填入问号处, 使之呈现一定的规律性()。



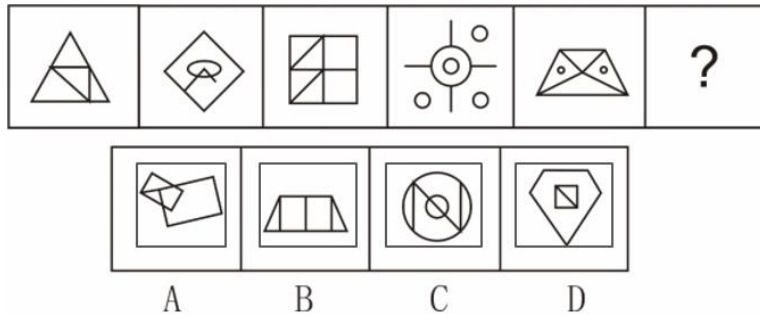
78. 从所给的四个选项中, 选择最合适的一个填入问号处, 使之呈现一定的规律性()。



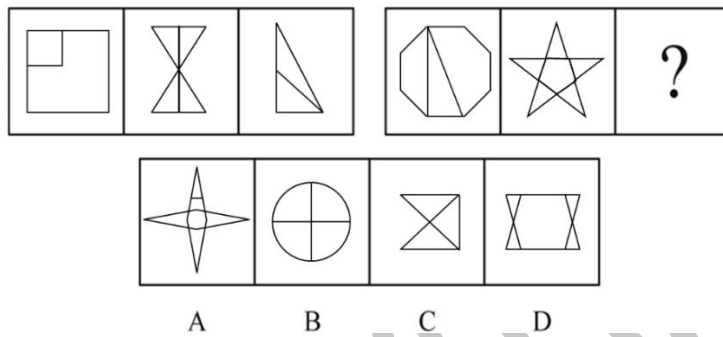
79. 从所给的四个选项中, 选择最合适的一个填入问号处, 使之呈现一定的规律性()。




80. 从所给的四个选项中, 选择最合适的一个填入问号处, 使之呈现一定的规律性()。



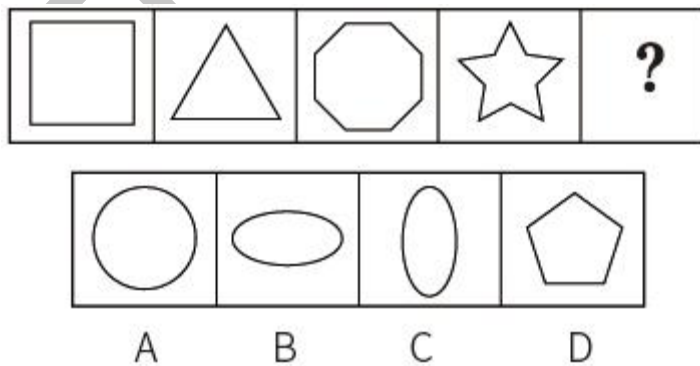
81. 从所给的四个选项中, 选择最合适的一个填入问号处, 使之呈现一定的规律性()。



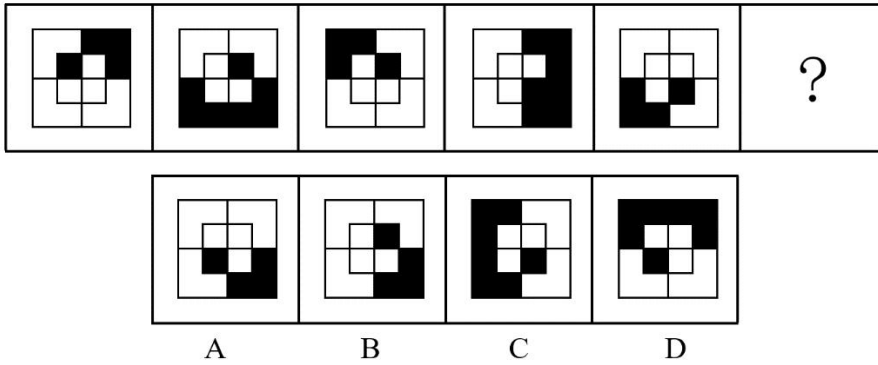
82. 从所给的四个选项中, 选择最合适的一个填入问号处, 使之呈现一定的规律性()。



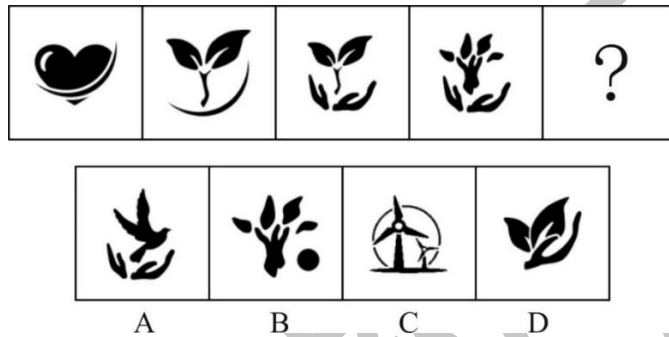
83. 从所给的四个选项中, 选择最合适的一个填入问号处, 使之呈现一定的规律性()。



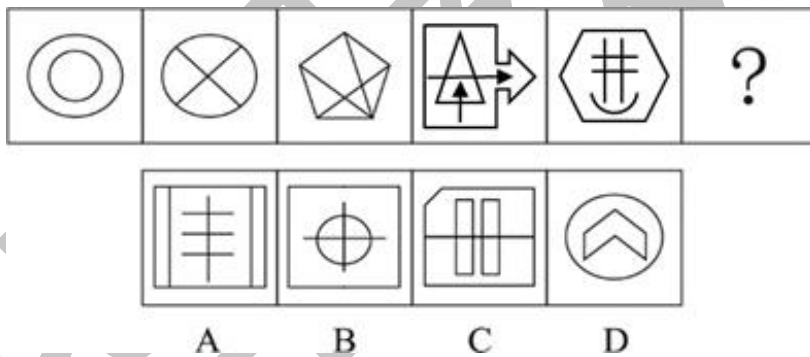
84. 从所给的四个选项中, 选择最合适的一个填入问号处, 使之呈现一定的规律性()。



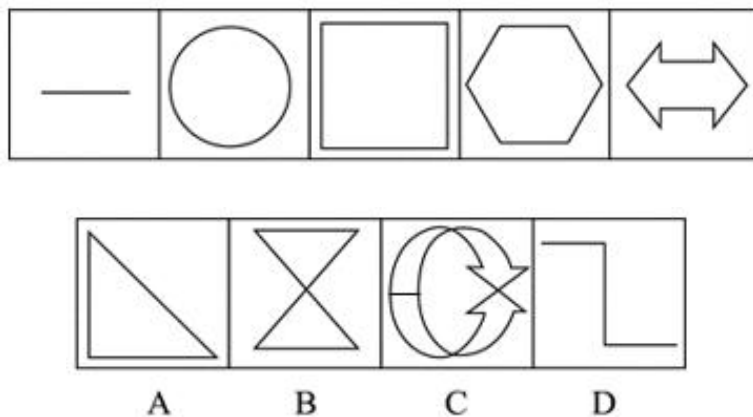
85. 从所给的四个选项中, 选择最合适的一个填入问号处, 使之呈现一定的规律性()。



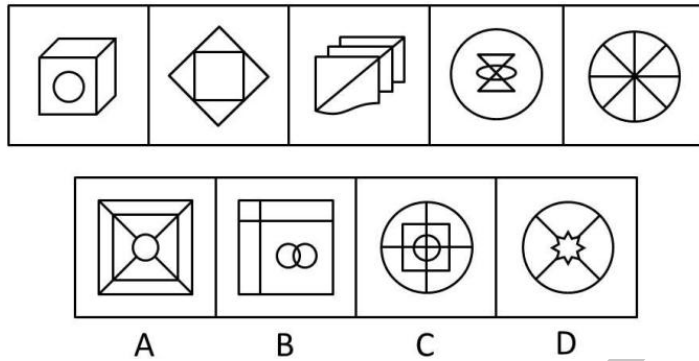
86. 从所给的四个选项中, 选择最合适的一个填入问号处, 使之呈现一定的规律性()。



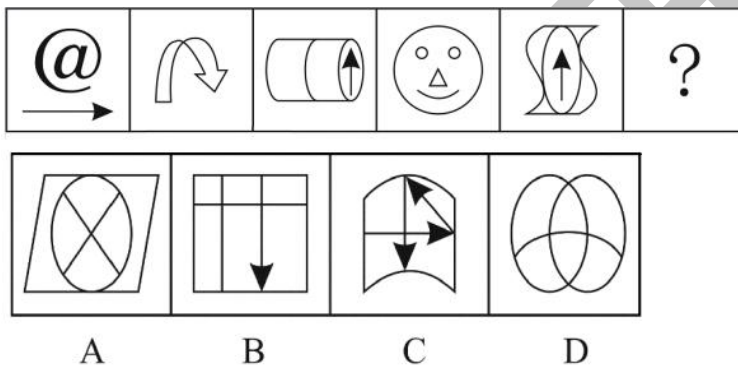
87. 从所给的四个选项中, 选择最合适的一个填入问号处, 使之呈现一定的规律性()。



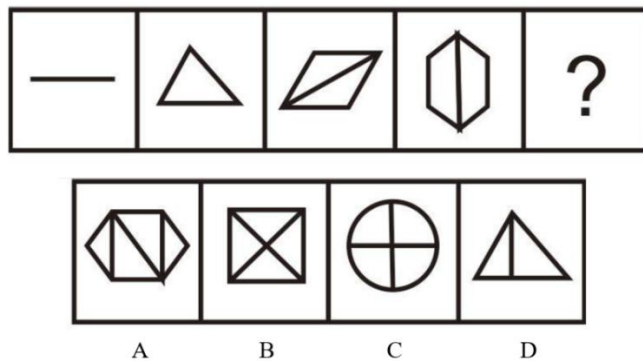
88. 从所给的四个选项中, 选择最合适的一个填入问号处, 使之呈现一定的规律性()。



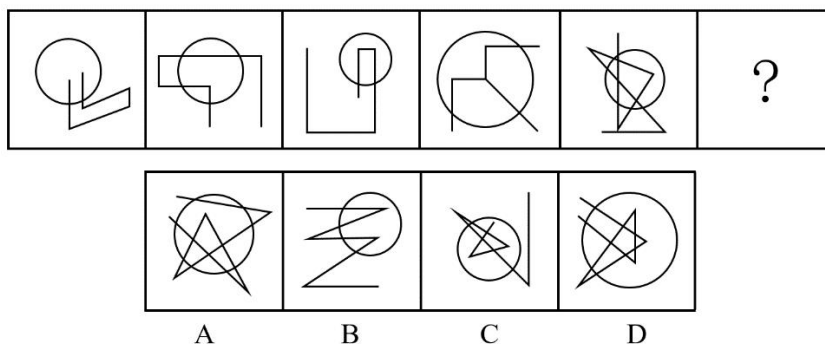
89. 从所给的四个选项中, 选择最合适的一个填入问号处, 使之呈现一定的规律性()。



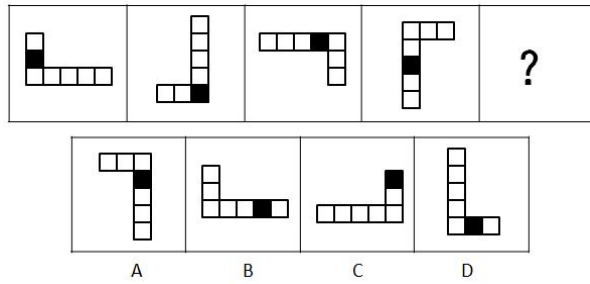
90. 从所给的四个选项中, 选择最合适的一个填入问号处, 使之呈现一定的规律性()。



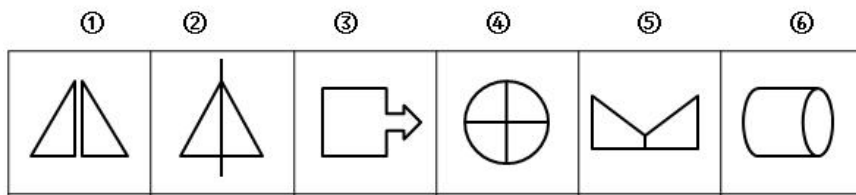
91. 从所给的四个选项中, 选择最合适的一个填入问号处, 使之呈现一定的规律性()。



92. 从所给的四个选项中, 选择最合适的一个填入问号处, 使之呈现一定的规律性()。

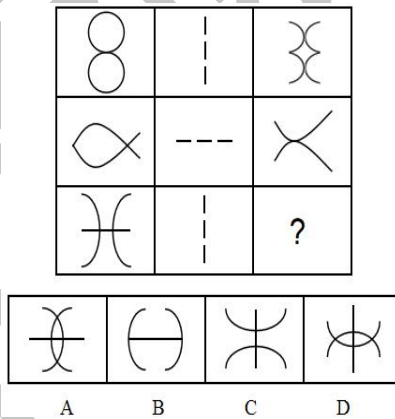


93. 把下面的六个图形分为两类, 使每一类图形都有各自的共同特征或规律, 分类正确的一项是()。

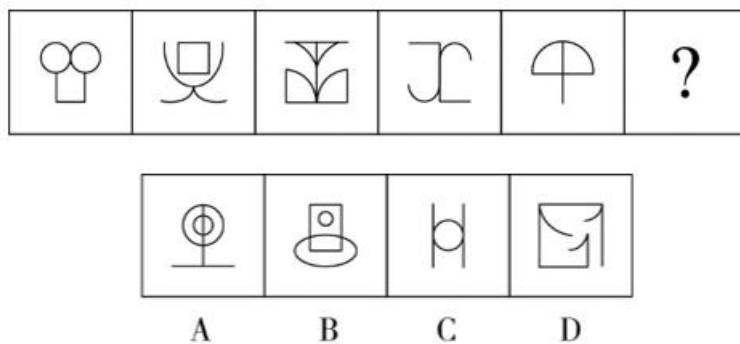


- A. ①③⑥, ②④⑤ B. ①④⑤, ②③⑥
C. ①②③, ④⑤⑥ D. ①③④, ②⑤⑥

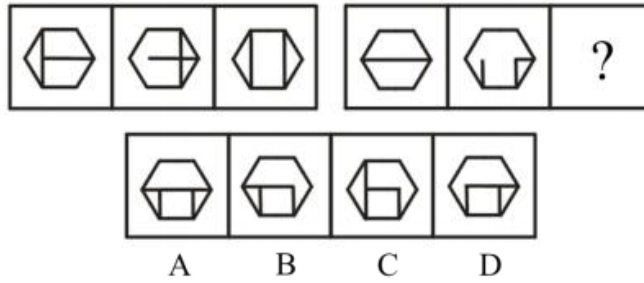
94. 从所给的四个选项中, 选择最合适的一个填入问号处, 使之呈现一定的规律性()。



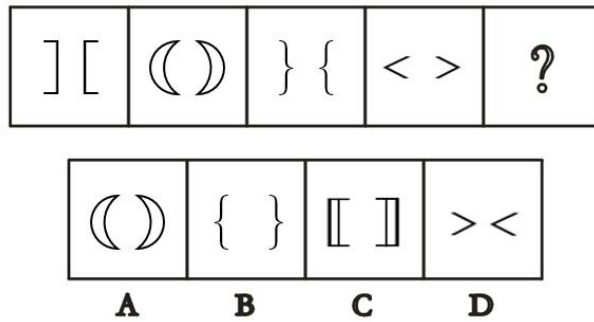
95. 从所给的四个选项中, 选择最合适的一个填入问号处, 使之呈现一定的规律性()。




96. 从所给的四个选项中, 选择最合适的一个填入问号处, 使之呈现一定的规律性()。



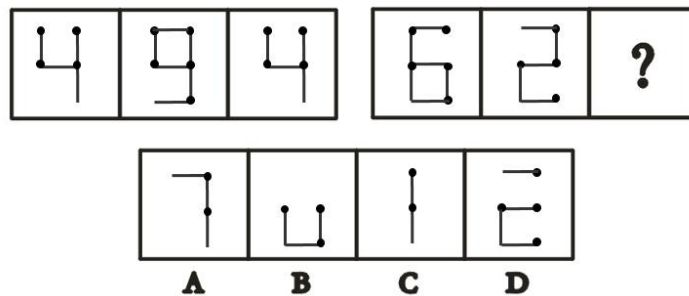
97. 从所给的四个选项中, 选择最合适的一个填入问号处, 使之呈现一定的规律性()。



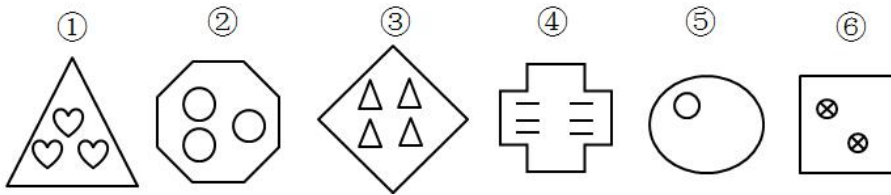
98. 从所给的四个选项中, 选择最合适的一个填入问号处, 使之呈现一定的规律性()。



99. 从所给的四个选项中, 选择最合适的一个填入问号处, 使之呈现一定的规律性()。

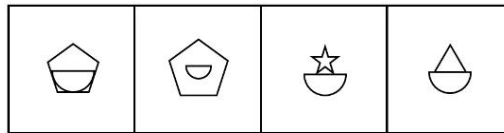



100. 把下面的六个图形分为两类，使每一类图形都有各自的共同特征或规律，分类正确的一项是（ ）。



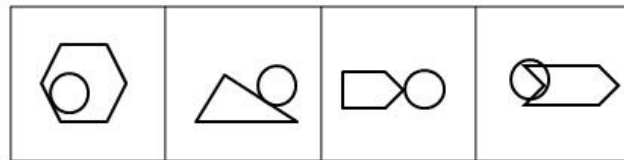
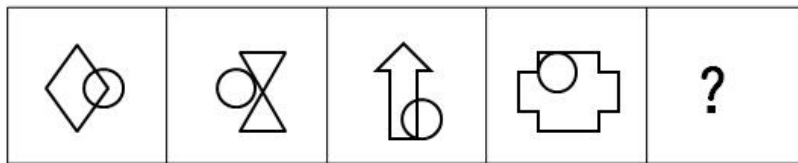
- A. ①②⑤, ③④⑥ B. ①③⑤, ②④⑥
C. ①④⑤, ②③⑥ D. ①②⑥, ③④⑤

101. 从所给的四个选项中，选择最合适的一个填入问号处，使之呈现一定的规律性（ ）。



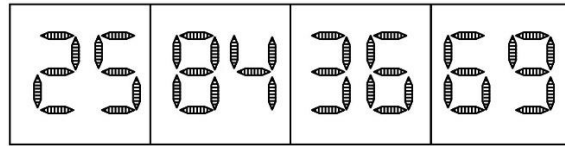
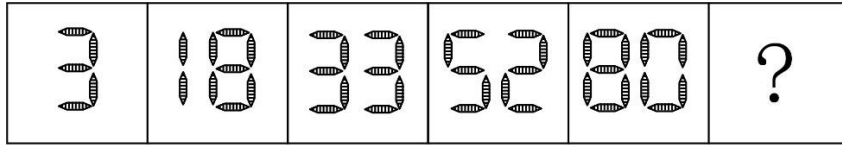
- A B C D

102. 从所给的四个选项中，选择最合适的一个填入问号处，使之呈现一定的规律性（ ）。



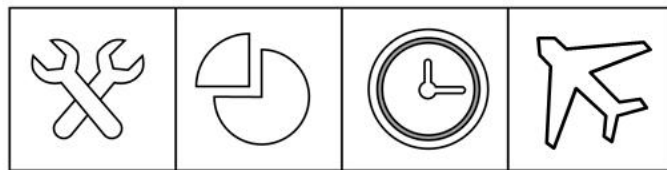
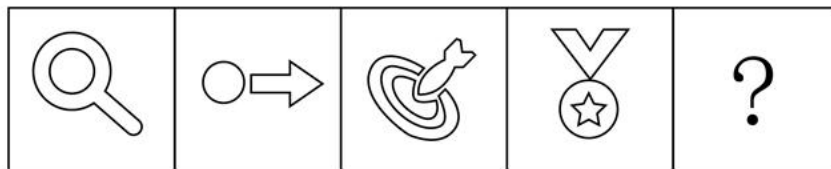
- A B C D

103. 从所给的四个选项中，选择最合适的一个填入问号处，使之呈现一定的规律性（ ）。



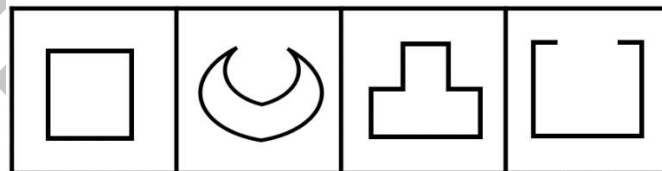
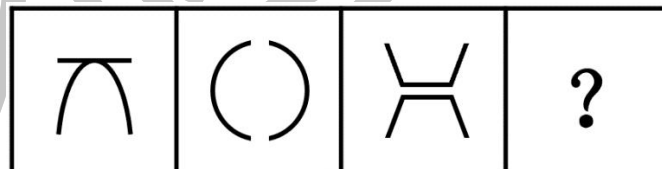
A B C D

104. 从所给的四个选项中，选择最合适的一个填入问号处，使之呈现一定的规律性 ()。




A B C D

105. 从所给的四个选项中，选择最合适的一个填入问号处，使之呈现一定的规律性 ()。

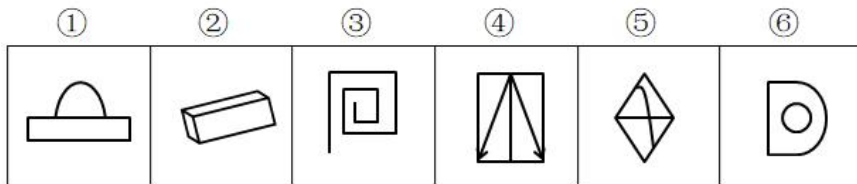


A B C D

106. 从所给的四个选项中，选择最合适的一个填入问号处，使之呈现一定的规律性 ()。

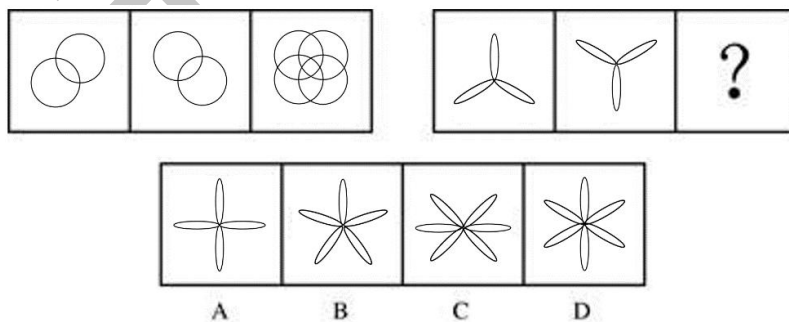


107. 把下面的六个图形分为两类，使每一类图形都有各自的共同特征或规律，分类正确的一项是（ ）。

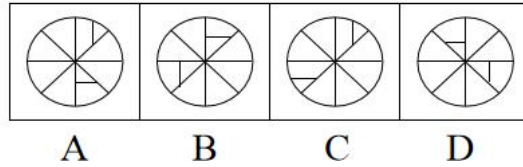
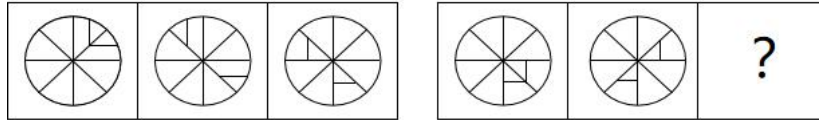


- A. ①②⑥, ③④⑤
- B. ①②④, ③⑤⑥
- C. ①④⑥, ②③⑤
- D. ①⑤⑥, ②③④

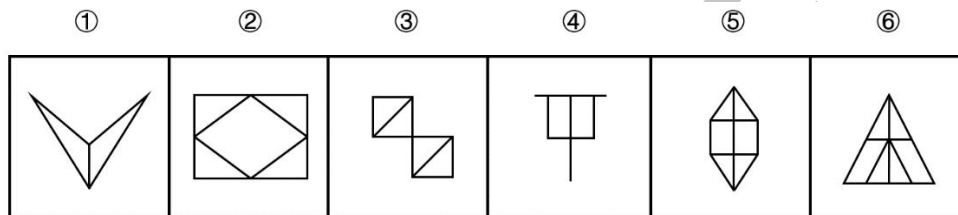
108. 从所给的四个选项中，选择最合适的一个填入问号处，使之呈现一定的规律性（ ）。



109. 从所给的四个选项中，选择最合适的一个填入问号处，使之呈现一定的规律性（ ）。

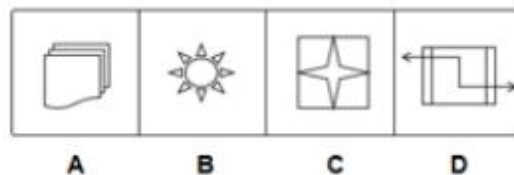


110. 把下面的六个图形分为两类，使每一类图形都有各自的共同特征或规律，分类正确的一项是（ ）。

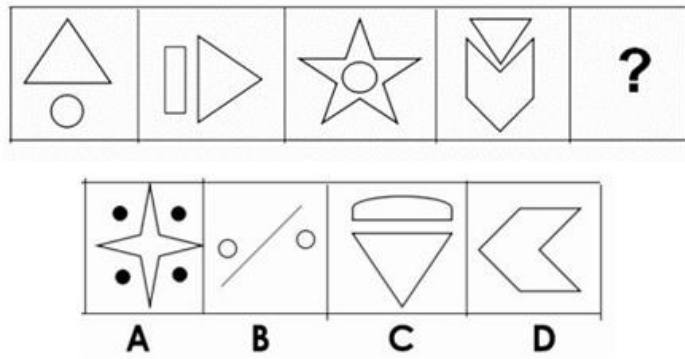


- A. ①②③, ④⑤⑥ B. ①④⑥, ②③⑤
C. ①③④, ②⑤⑥ D. ①③⑥, ②④⑤

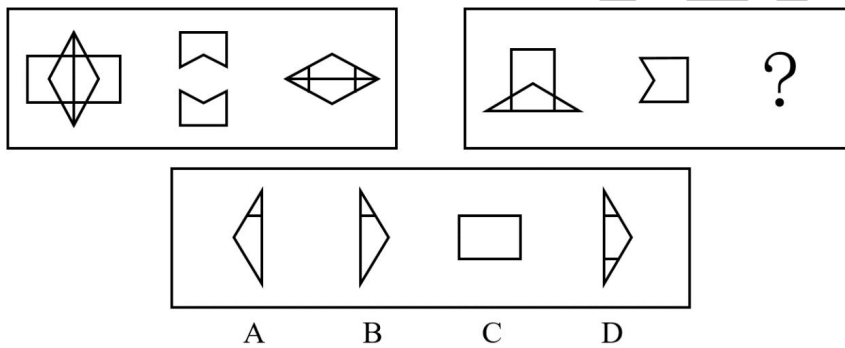
111. 从所给的四个选项中，选择最合适的一个填入问号处，使之呈现一定的规律性（ ）。



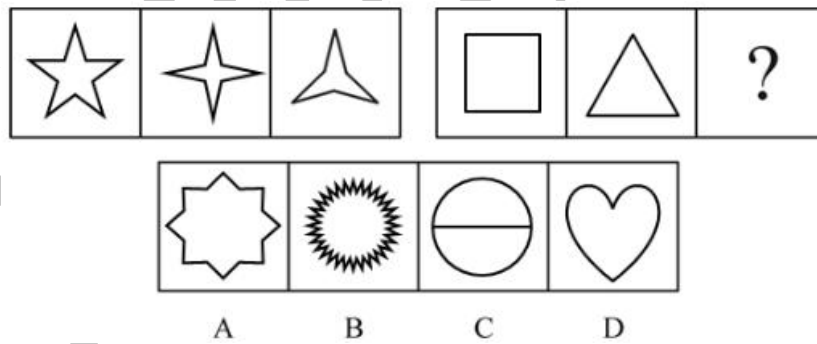
112. 从所给的四个选项中，选择最合适的一个填入问号处，使之呈现一定的规律性（ ）。



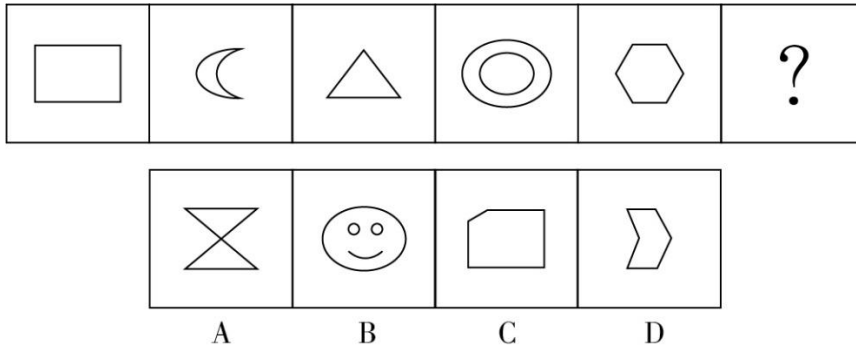
113. 从所给的四个选项中，选择最合适的一个填入问号处，使之呈现一定的规律性 ()。



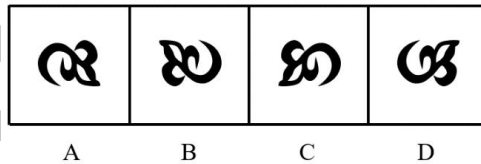
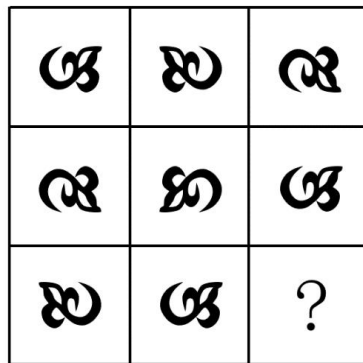
114. 从所给的四个选项中，选择最合适的一个填入问号处，使之呈现一定的规律性 ()。



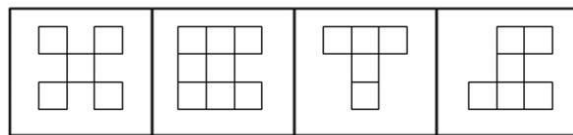

115. 从所给的四个选项中，选择最合适的一个填入问号处，使之呈现一定的规律性 ()。



116. 从所给的四个选项中，选择最合适的一个填入问号处，使之呈现一定的规律性 ()。

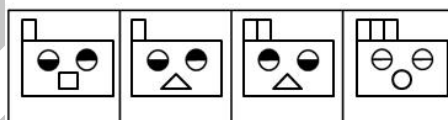
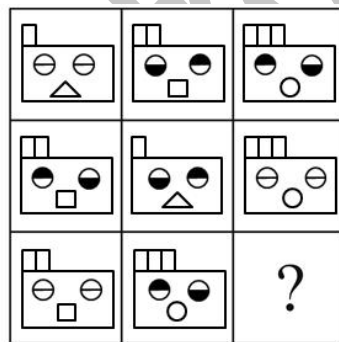


117. 从所给的四个选项中，选择最合适的一个填入问号处，使之呈现一定的规律性 ()。



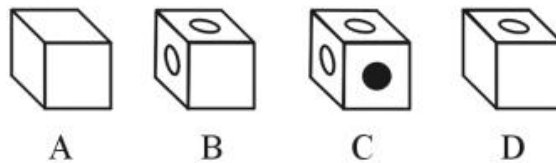
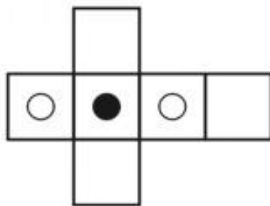
A B C D

118. 从所给的四个选项中，选择最合适的一个填入问号处，使之呈现一定的规律性 ()。



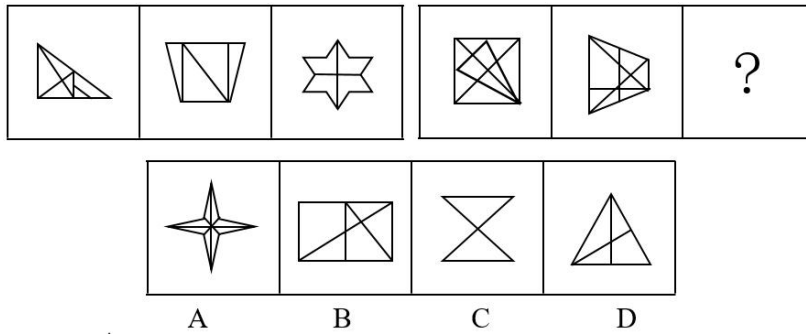
A B C D

119. 左边给出的是纸盒的外表面，下列选项中哪一项可由它折叠而成？ ()

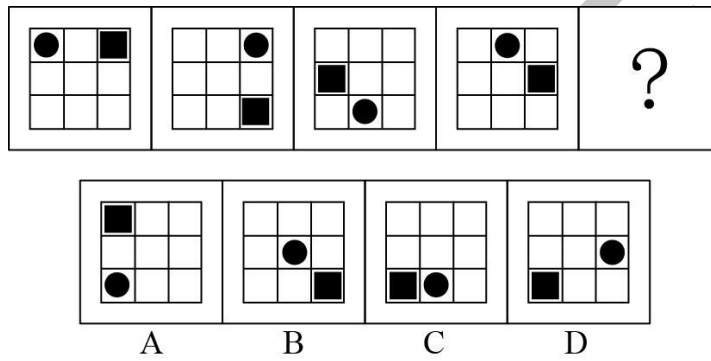


A B C D

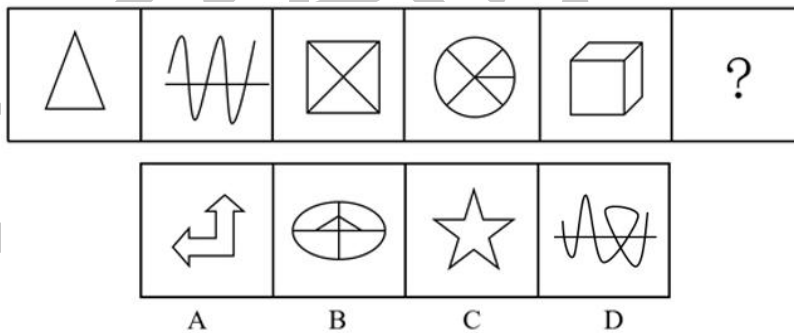
120. 从所给的四个选项中，选择最合适的一个填入问号处，使之呈现一定的规律性 ()。



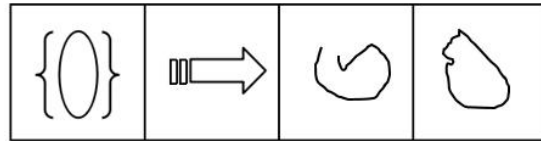

121. 从所给的四个选项中，选择最合适的一个填入问号处，使之呈现一定的规律性 ()。



122. 从所给的四个选项中，选择最合适的一个填入问号处，使之呈现一定的规律性 ()。



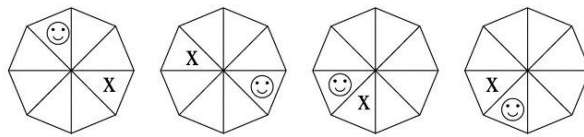
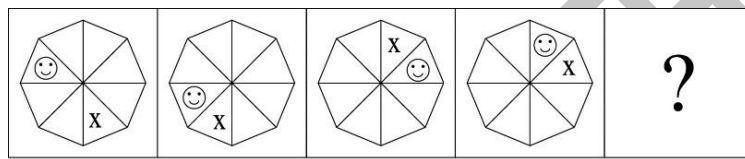
123. 从所给的四个选项中，选择最合适的一个填入问号处，使之呈现一定的规律性 ()。



A B C D

124. 从所给的四个选项中，选择最合适的一个填入问号处，使之呈现一定的规律性

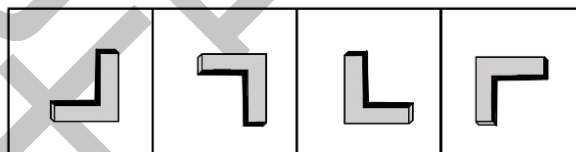
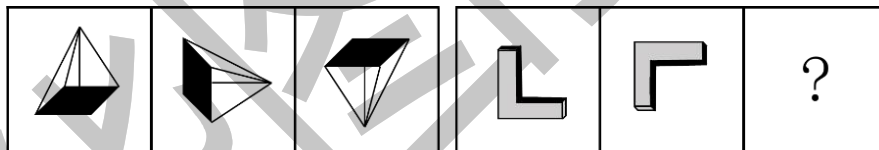
()。



A B C D

125. 从所给的四个选项中，选择最合适的一个填入问号处，使之呈现一定的规律性

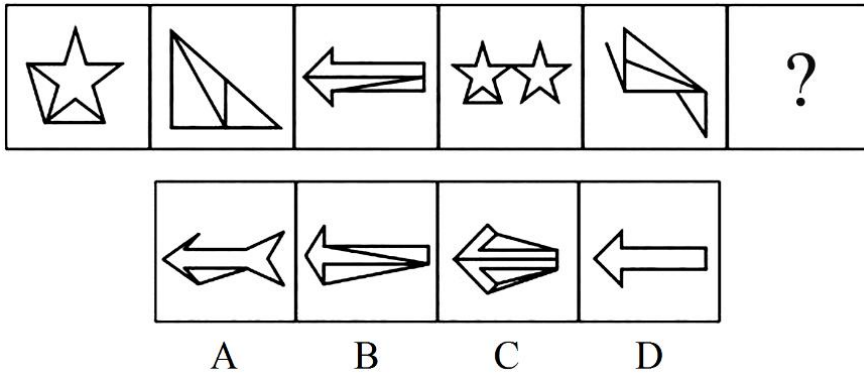
()。



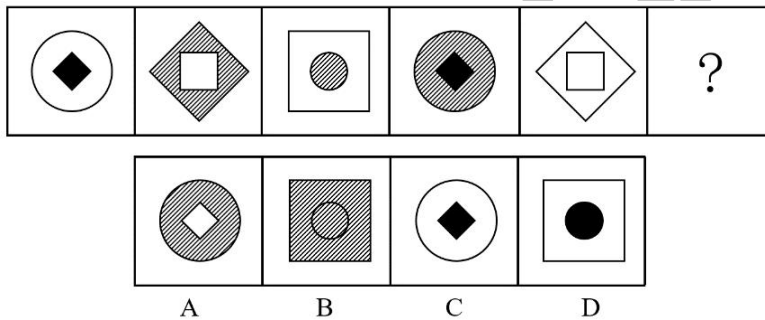
A B C D

126. 从所给的四个选项中，选择最合适的一个填入问号处，使之呈现一定的规律性

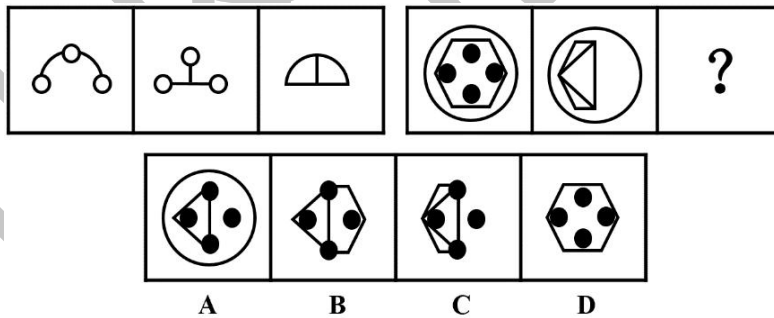
()。



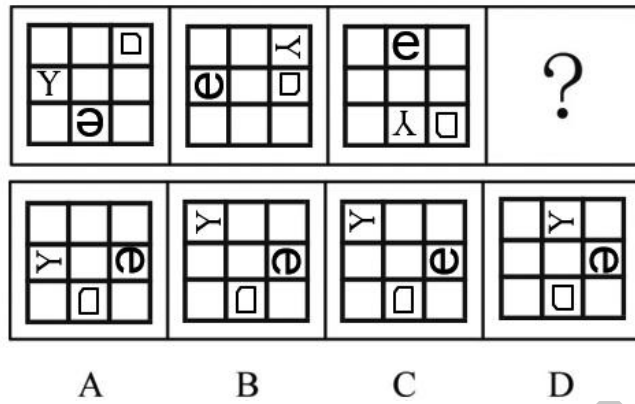
127. 从所给的四个选项中，选择最合适的一个填入问号处，使之呈现一定的规律性 ()。



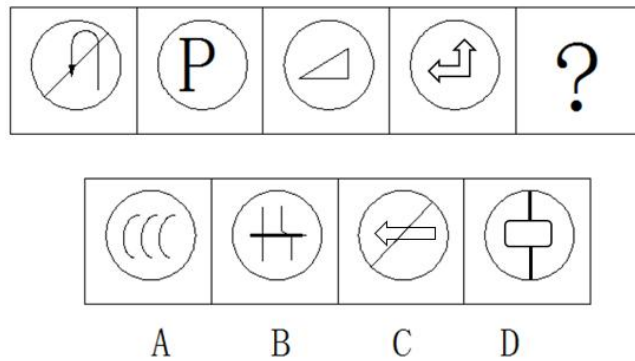
128. 从所给的四个选项中，选择最合适的一个填入问号处，使之呈现一定的规律性 ()。



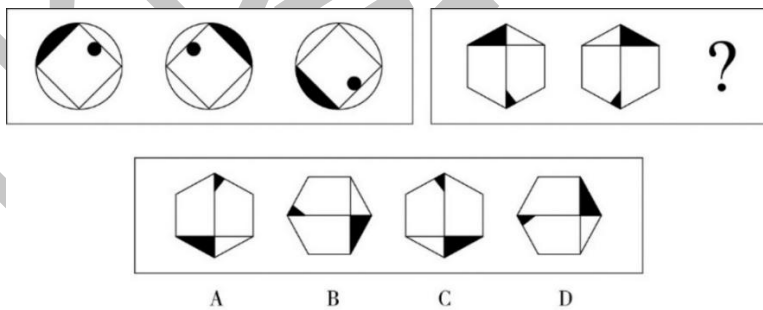
129. 从所给的四个选项中，选择最合适的一个填入问号处，使之呈现一定的规律性 ()。



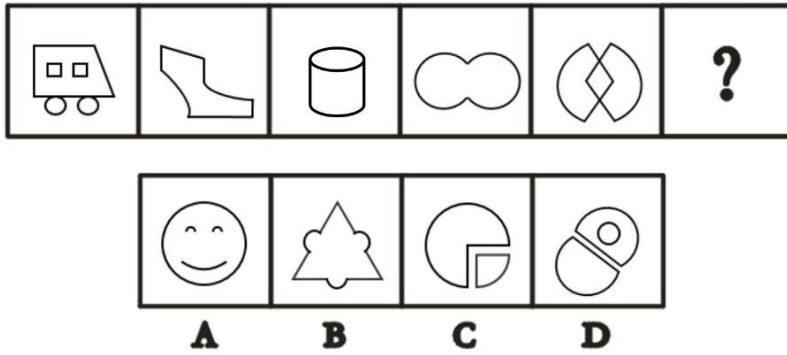
130. 从所给的四个选项中，选择最合适的一个填入问号处，使之呈现一定的规律性 ()。



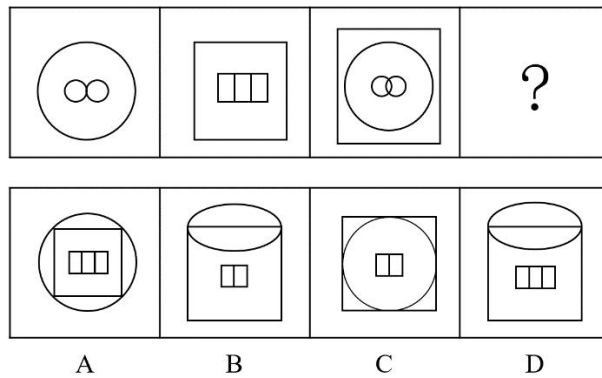
131. 从所给的四个选项中，选择最合适的一个填入问号处，使之呈现一定的规律性 ()。



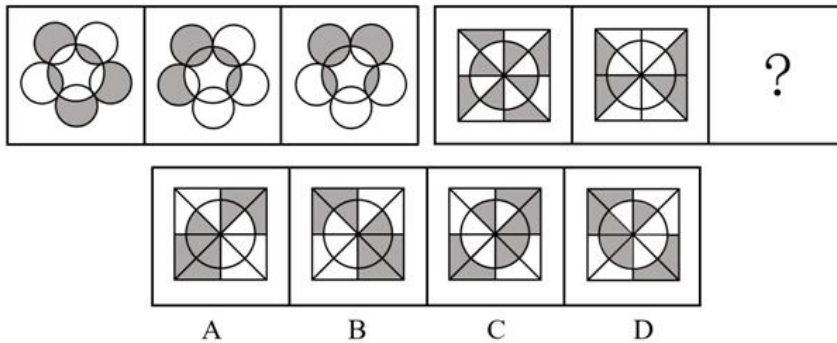
132. 从所给的四个选项中，选择最合适的一个填入问号处，使之呈现一定的规律性 ()。



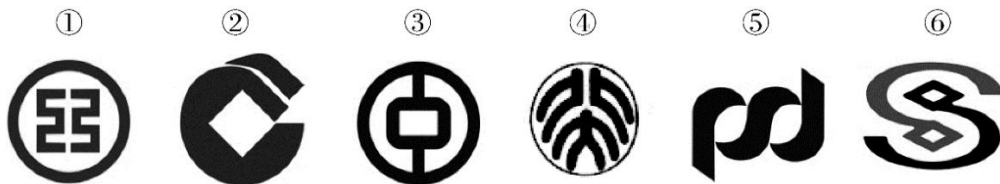
133. 从所给的四个选项中, 选择最合适的一个填入问号处, 使之呈现一定的规律性 ()。



134. 从所给的四个选项中, 选择最合适的一个填入问号处, 使之呈现一定的规律性 ()。



135. 把下面的六个图形分为两类, 使每一类图形都有各自的共同特征或规律, 分类正确的一项是 ()。



A. ①③⑤, ②④⑥

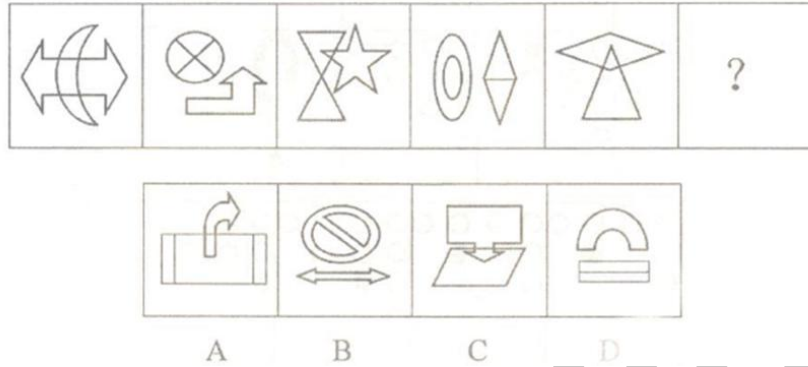
B. ①②③, ④⑤⑥

C. ①②⑤, ③④⑥

D. ①③④, ②⑤⑥

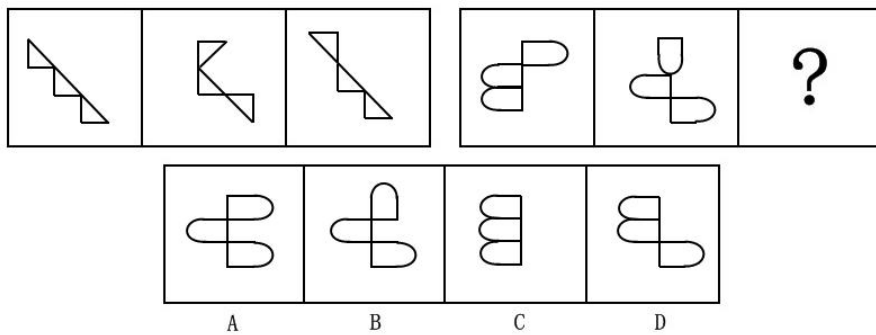
136. 从所给的四个选项中, 选择最合适的一个填入问号处, 使之呈现一定的规律性

()。



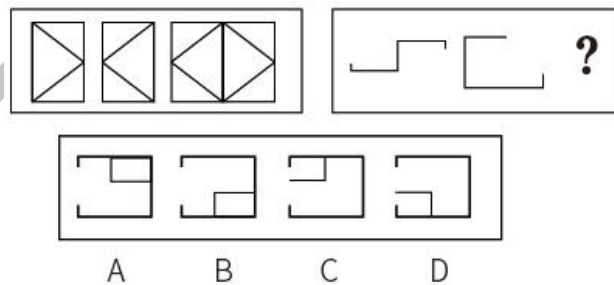
137. 从所给的四个选项中, 选择最合适的一个填入问号处, 使之呈现一定的规律性

()。



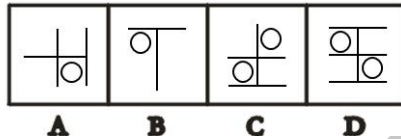

138. 从所给的四个选项中, 选择最合适的一个填入问号处, 使之呈现一定的规律性

()。

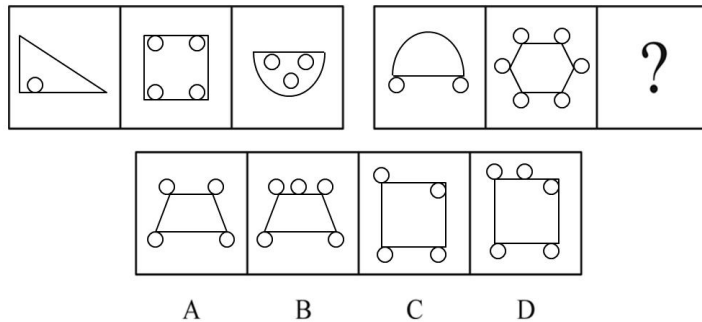


139. 从所给的四个选项中, 选择最合适的一个填入问号处, 使之呈现一定的规律性

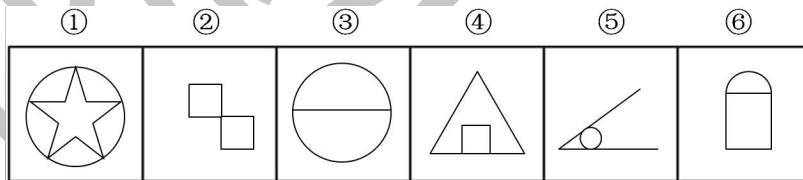
()。



140. 从所给的四个选项中，选择最合适的一个填入问号处，使之呈现一定的规律性 ()。

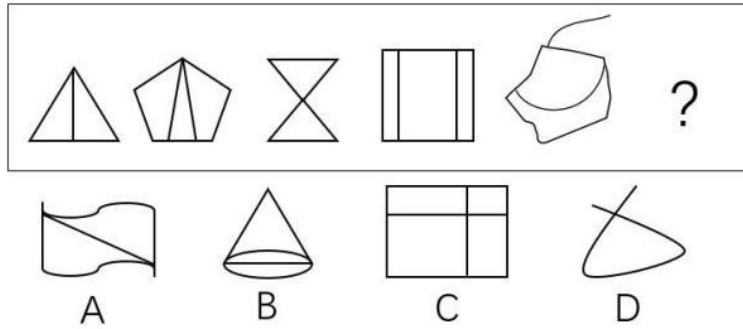


141. 把下面的六个图形分为两类，使每一类图形都有各自的共同特征或规律，分类正确的一项是 ()。



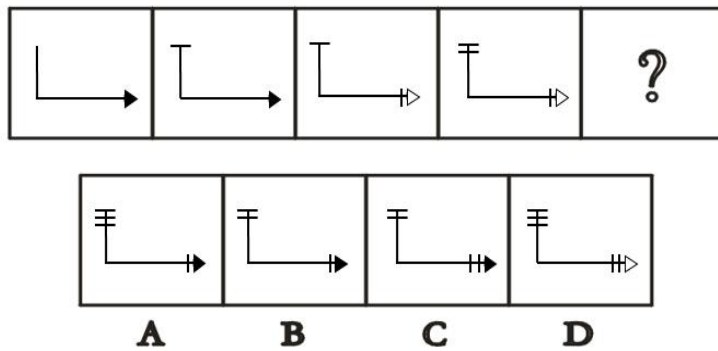
- A. ①④⑥, ②③⑤ B. ①②⑤, ③④⑥
C. ①②④, ③⑤⑥ D. ①③⑤, ②④⑥

142. 从所给的四个选项中，选择最合适的一个填入问号处，使之呈现一定的规律性 ()。



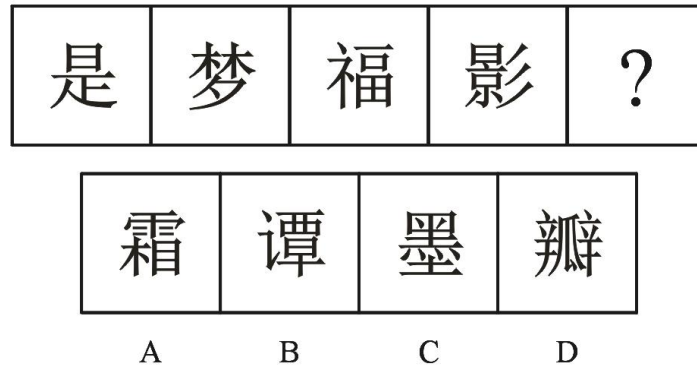
143. 从所给的四个选项中，选择最合适的一个填入问号处，使之呈现一定的规律性

()。



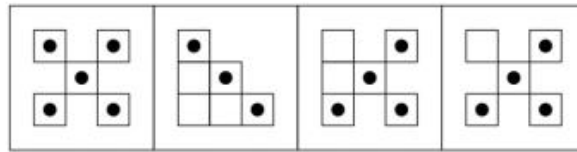
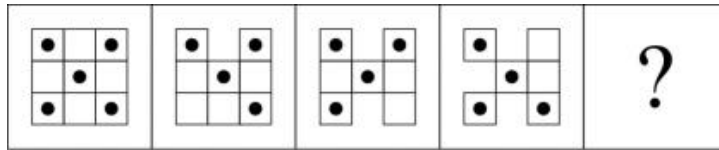
144. 从所给的四个选项中，选择最合适的一个填入问号处，使之呈现一定的规律性

()。



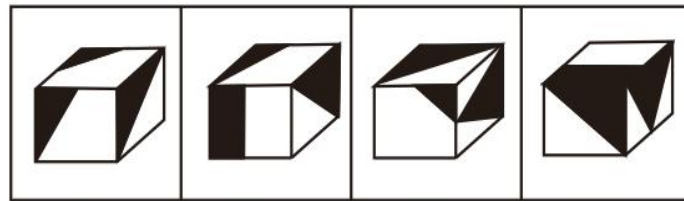
145. 从所给的四个选项中，选择最合适的一个填入问号处，使之呈现一定的规律性

()。



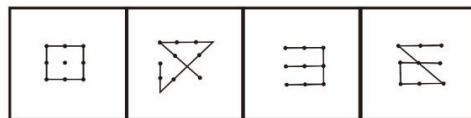
A B C D

146. 左边给出的是纸盒的外表面，下列选项中哪一项可由它折叠而成？（ ）



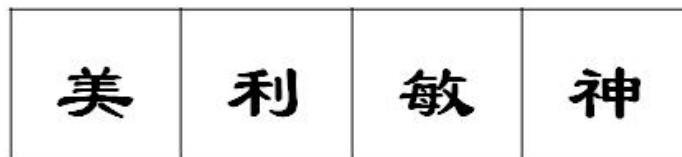
A B C D

147. 从所给的四个选项中，选择最合适的一个填入问号处，使之呈现一定的规律性（ ）。



A B C D

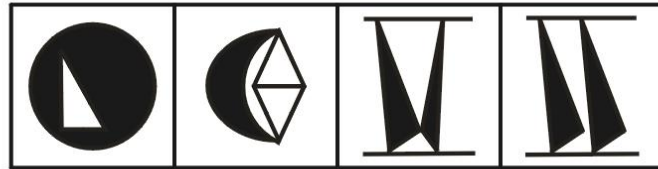
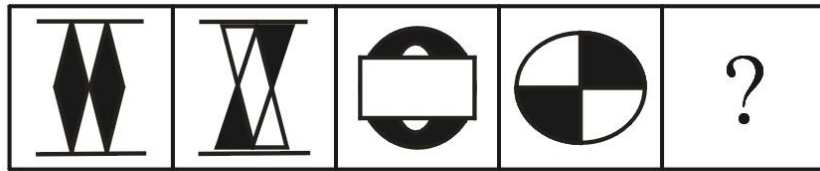
148. 从所给的四个选项中，选择最合适的一个填入问号处，使之呈现一定的规律性（ ）。



A B C D

149. 从所给的四个选项中，选择最合适的一个填入问号处，使之呈现一定的规律性

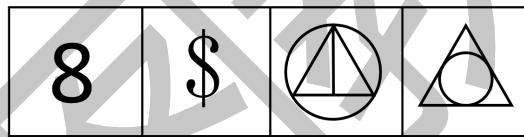
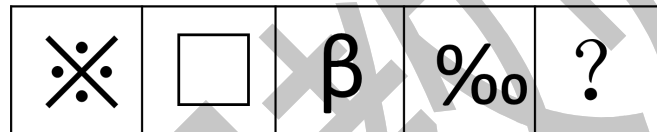
()。



A B C D

150. 从所给的四个选项中，选择最合适的一个填入问号处，使之呈现一定的规律性


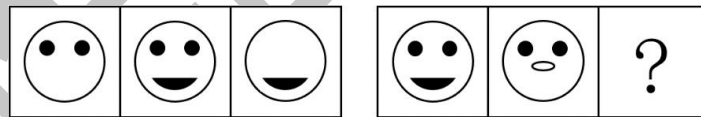
()。



A B C D

151. 从所给的四个选项中，选择最合适的一个填入问号处，使之呈现一定的规律性

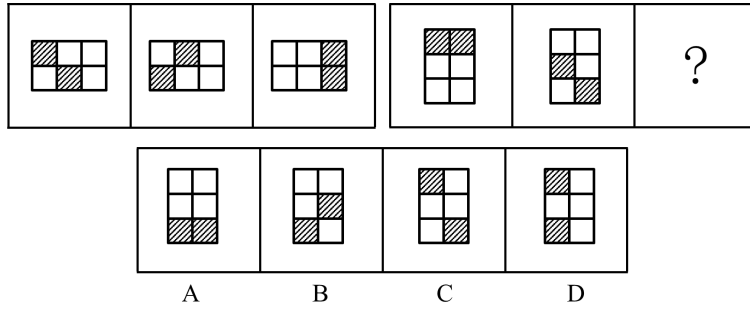
()。



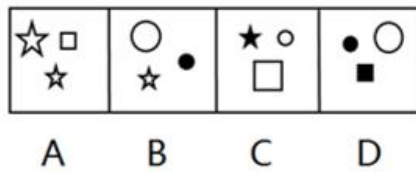

A B C D

152. 从所给的四个选项中，选择最合适的一个填入问号处，使之呈现一定的规律性

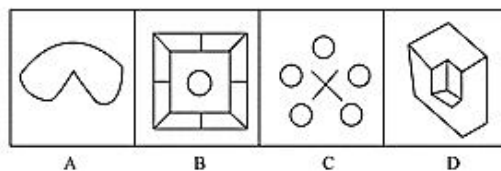
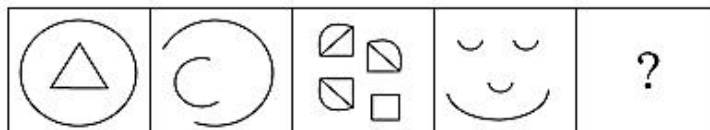
()。



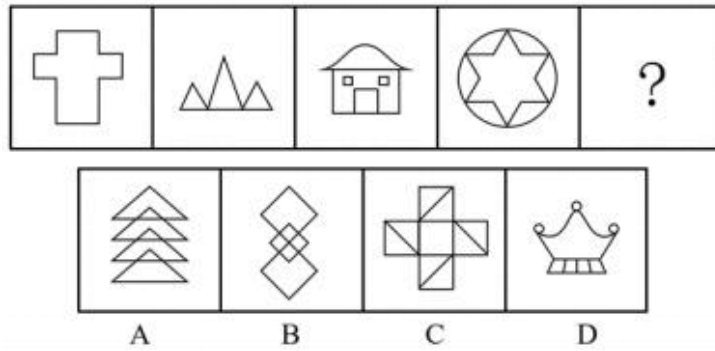
153. 从所给的四个选项中，选择最合适的一个填入问号处，使之呈现一定的规律性 ()。



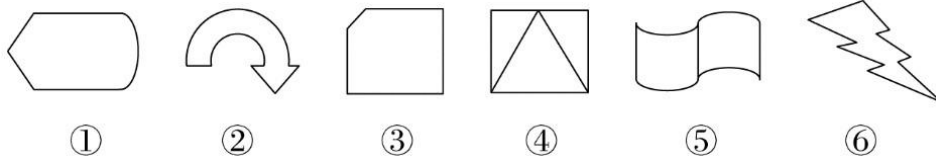
154. 从所给的四个选项中，选择最合适的一个填入问号处，使之呈现一定的规律性 ()。



155. 从所给的四个选项中，选择最合适的一个填入问号处，使之呈现一定的规律性 ()。

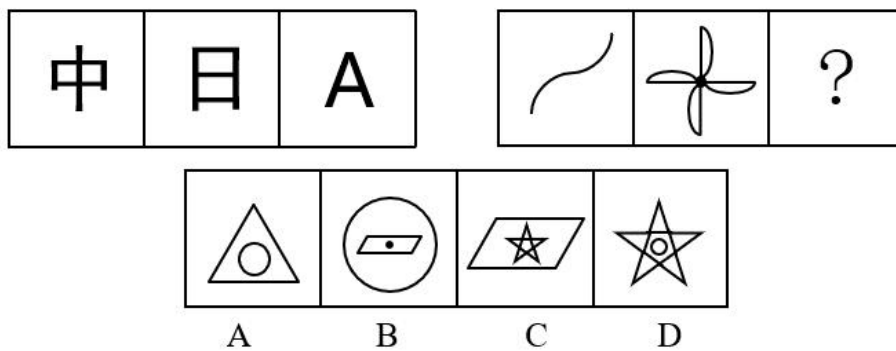


156. 把下面的六个图形分为两类，使每一类图形都有各自的共同特征或规律，分类正确的一项是 ()。

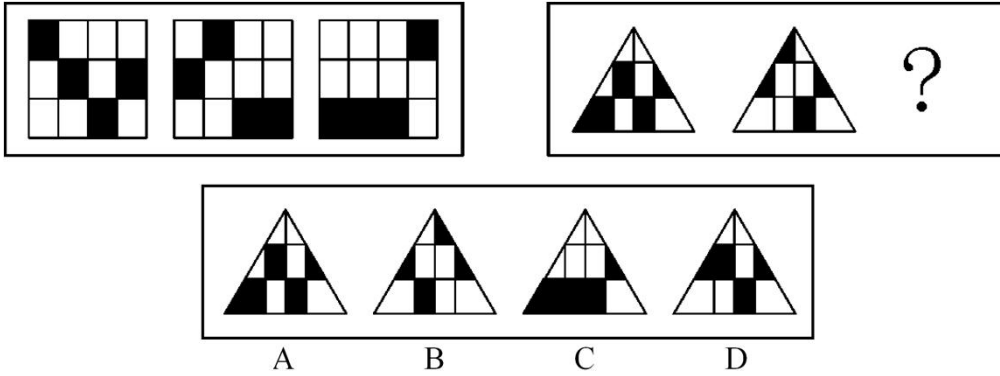


- A. ①②⑤, ③④⑥ B. ①②③, ④⑤⑥
C. ①④⑤, ②③⑥ D. ①③⑤, ②④⑥

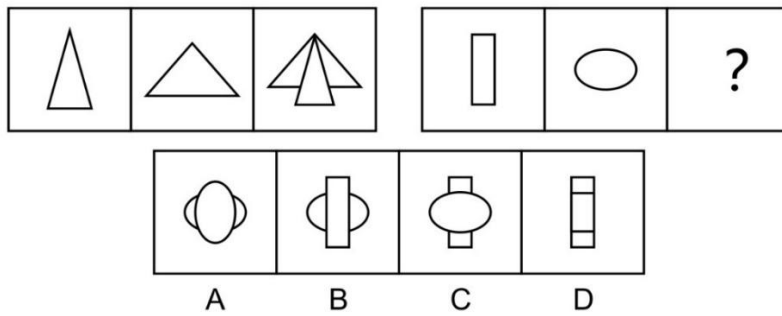
157. 从所给的四个选项中，选择最合适的一个填入问号处，使之呈现一定的规律性 ()。



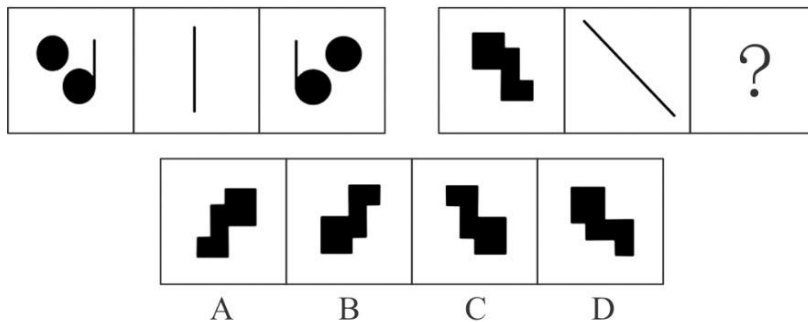
158. 从所给的四个选项中，选择最合适的一个填入问号处，使之呈现一定的规律性 ()。



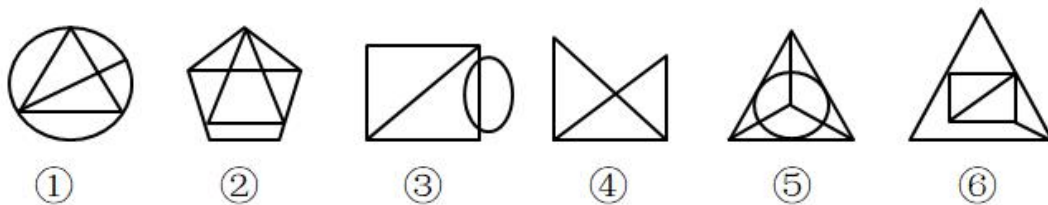
159. 从所给的四个选项中, 选择最合适的一个填入问号处, 使之呈现一定的规律性 ()。



160. 从所给的四个选项中, 选择最合适的一个填入问号处, 使之呈现一定的规律性 ()。



161. 把下面的六个图形分为两类, 使每一类图形都有各自的共同特征或规律, 分类正确的一项是 ()。



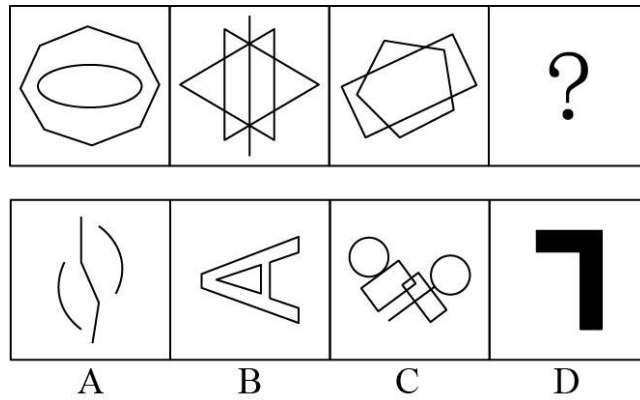
A. ①②⑥, ③④⑤

B. ①③④, ②⑤⑥

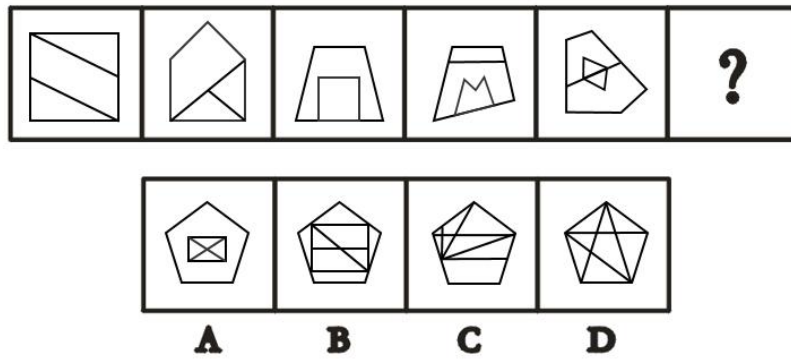
C. ①③⑤, ②④⑥

D. ①④⑤, ②③⑥

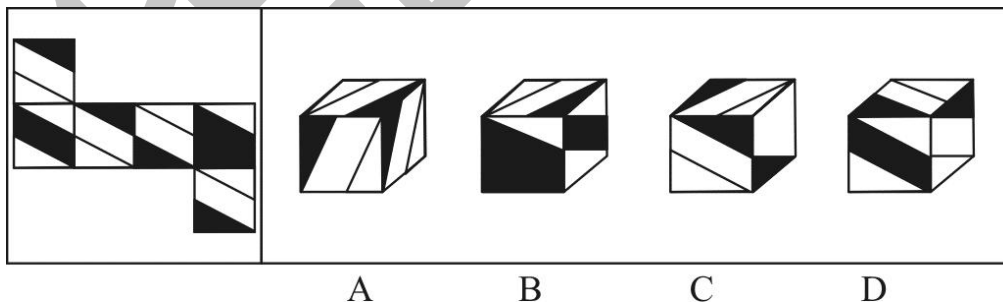
162. 从所给的四个选项中, 选择最合适的一个填入问号处, 使之呈现一定的规律性 ()。



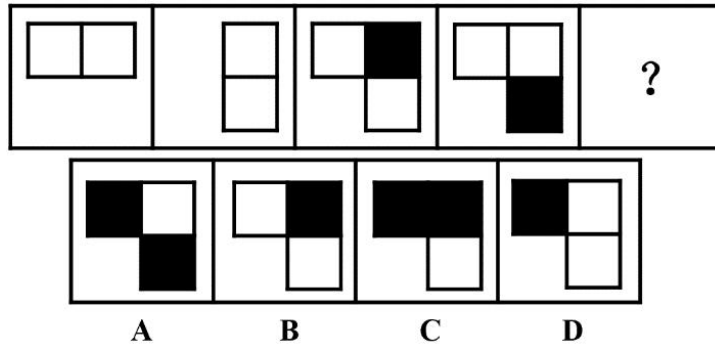
163. 从所给的四个选项中, 选择最合适的一个填入问号处, 使之呈现一定的规律性 ()。



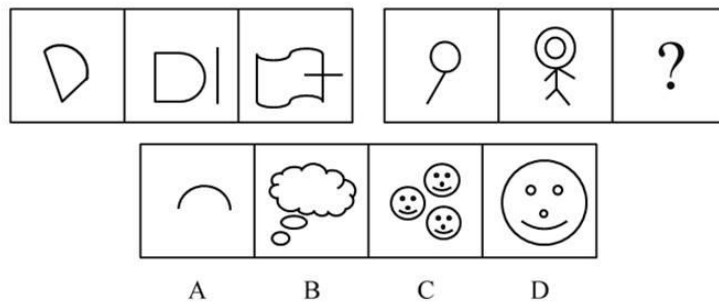
164. 左边给出的是纸盒的外表面, 下列选项中哪一项可由它折叠而成? ()



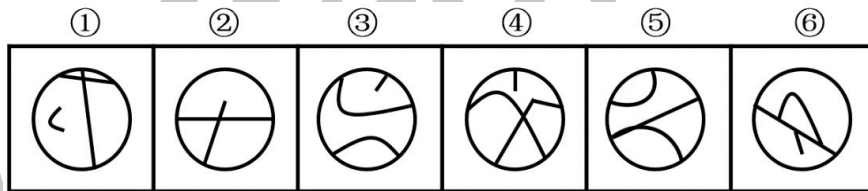
165. 从所给的四个选项中, 选择最合适的一个填入问号处, 使之呈现一定的规律性 ()。



166. 从所给的四个选项中，选择最合适的一个填入问号处，使之呈现一定的规律性 ()。

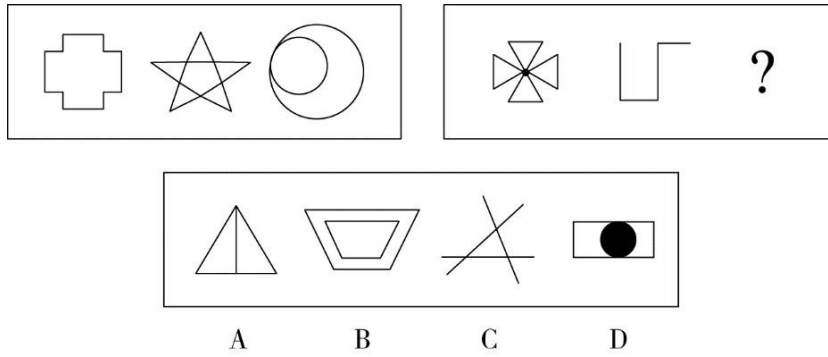


167. 把下面的六个图形分为两类，使每一类图形都有各自的共同特征或规律，分类正确的一项是 ()。

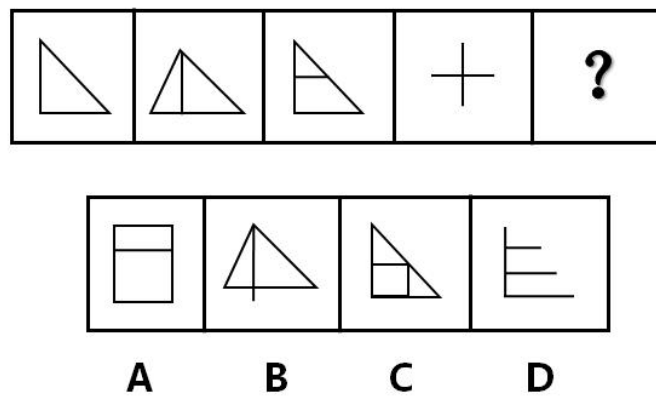


- A. ①④⑥, ②③⑤ B. ①④⑤, ②③⑥
C. ①②⑤, ③④⑥ D. ①③⑤, ②④⑥


168. 从所给的四个选项中，选择最合适的一个填入问号处，使之呈现一定的规律性 ()。



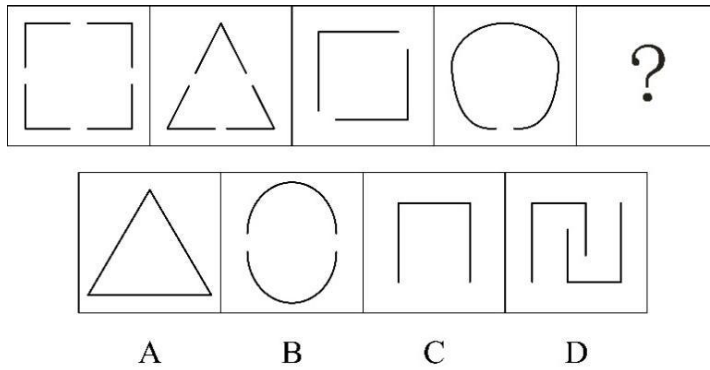
169. 从所给的四个选项中，选择最合适的一个填入问号处，使之呈现一定的规律性 ()。



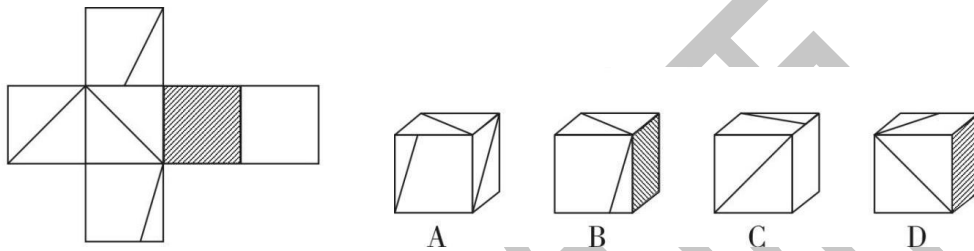
170. 从所给的四个选项中，选择最合适的一个填入问号处，使之呈现一定的规律性 ()。



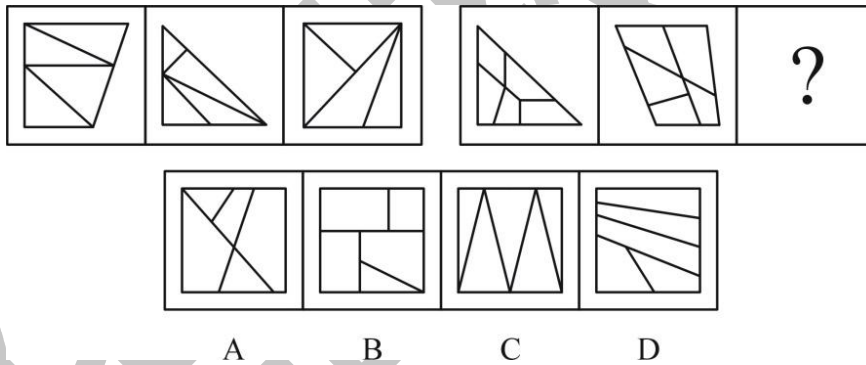
171. 从所给的四个选项中，选择最合适的一个填入问号处，使之呈现一定的规律性 ()。




172. 左边给出的是纸盒的外表面，下列选项中哪一项可由它折叠而成？（ ）



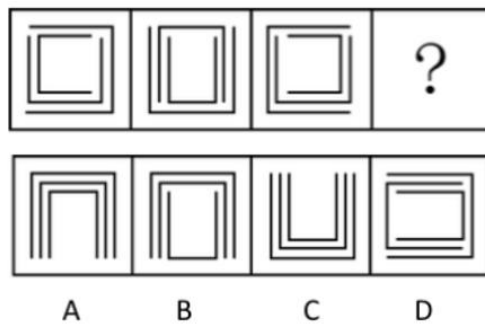
173. 从所给的四个选项中，选择最合适的一个填入问号处，使之呈现一定的规律性（ ）。



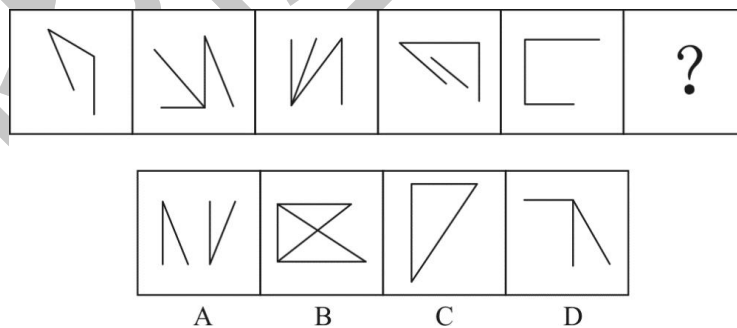
174. 从所给的四个选项中，选择最合适的一个填入问号处，使之呈现一定的规律性（ ）。



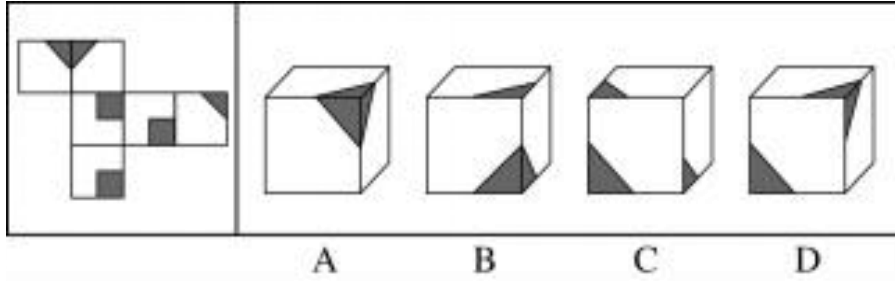
175. 从所给的四个选项中，选择最合适的一个填入问号处，使之呈现一定的规律性 ()。



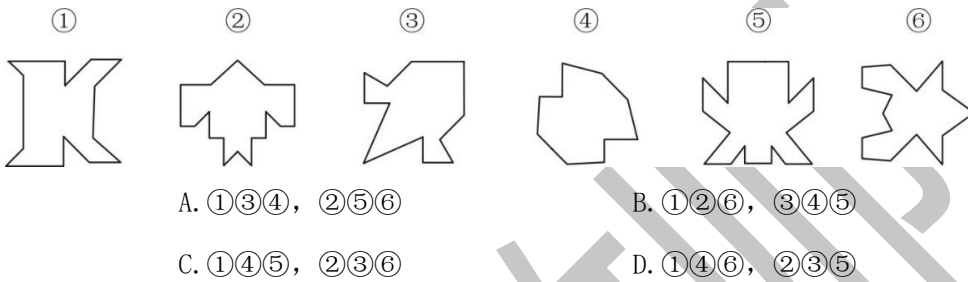
176. 从所给的四个选项中，选择最合适的一个填入问号处，使之呈现一定的规律性 ()。



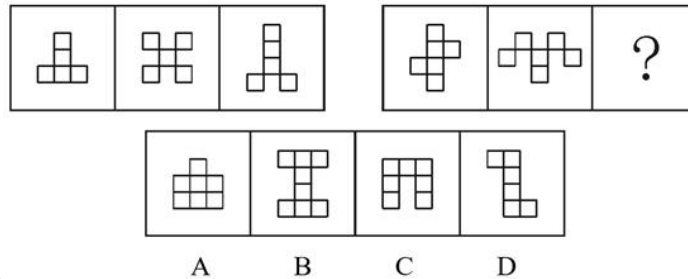
177. 左边给出的是纸盒的外表面，下列选项中哪一项可由它折叠而成？ ()



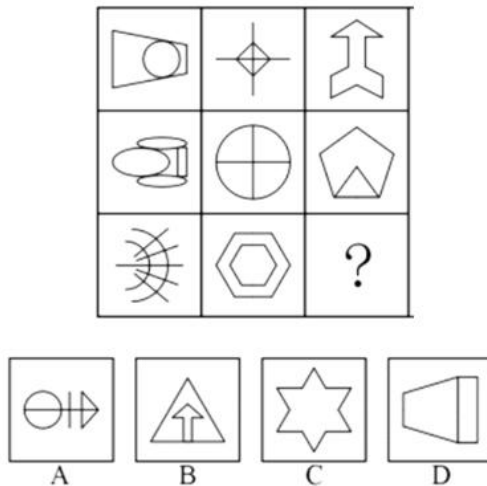
178. 把下面的六个图形分为两类，使每一类图形都有各自的共同特征或规律，分类正确的一项是（ ）。



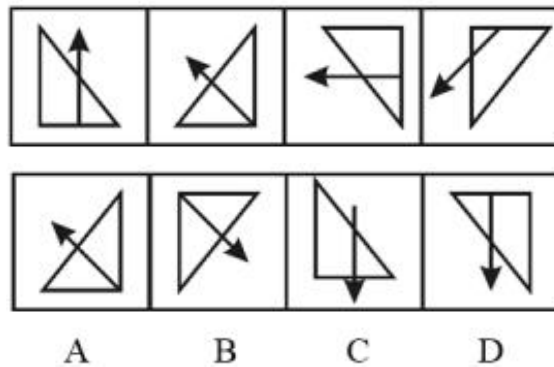
179. 从所给的四个选项中，选择最合适的一个填入问号处，使之呈现一定的规律性（ ）。



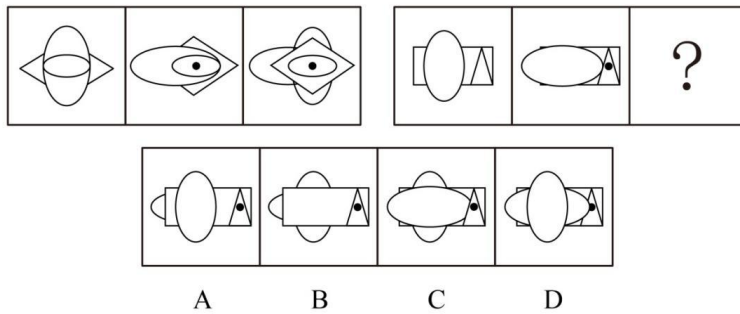
180. 从所给的四个选项中，选择最合适的一个填入问号处，使之呈现一定的规律性（ ）。



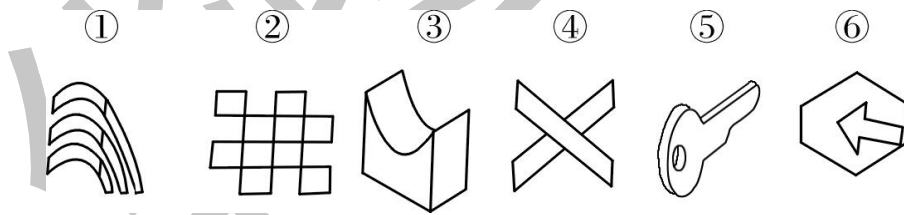
181. 从所给的四个选项中, 选择最合适的一个填入问号处, 使之呈现一定的规律性 ()。



182. 从所给的四个选项中, 选择最合适的一个填入问号处, 使之呈现一定的规律性 ()。

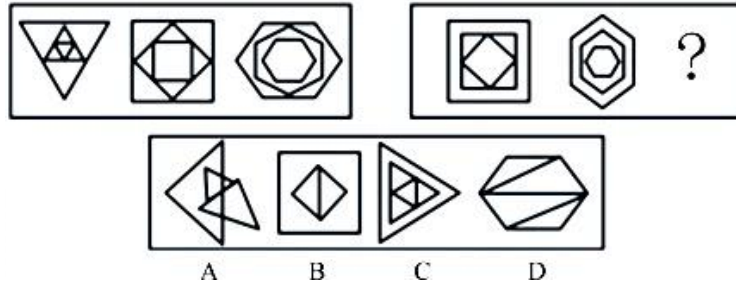


183. 把下面的六个图形分为两类, 使每一类图形都有各自的共同特征或规律, 分类正确的一项是 ()。

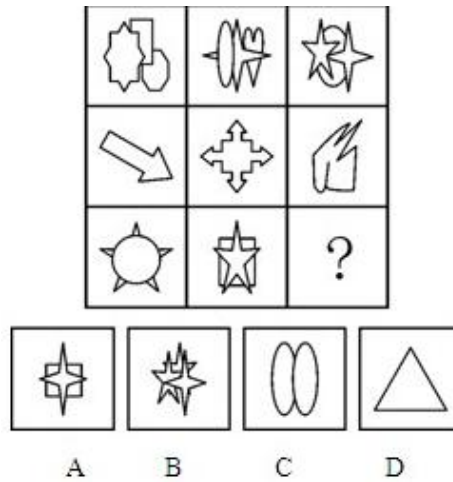


- A. ①③④, ②⑤⑥
- B. ①⑤⑥, ②③④
- C. ①④⑤, ②③⑥
- D. ①③⑤, ②④⑥

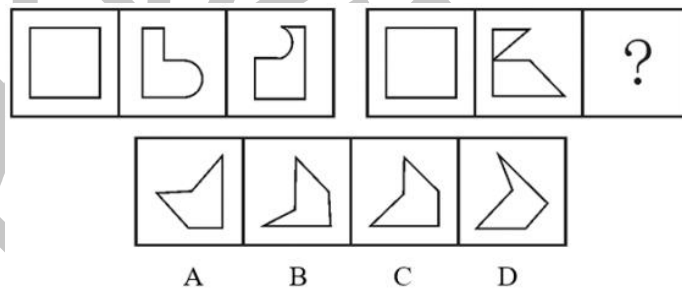
184. 从所给的四个选项中, 选择最合适的一个填入问号处, 使之呈现一定的规律性 ()。



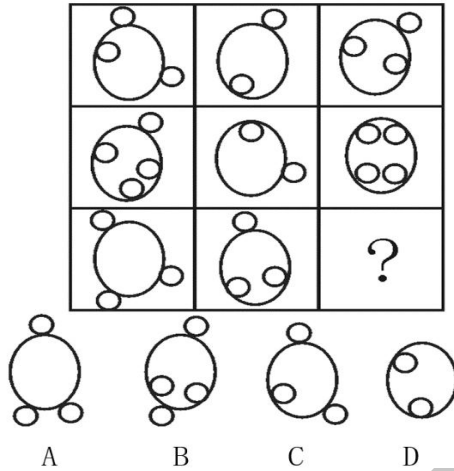
185. 从所给的四个选项中，选择最合适的一个填入问号处，使之呈现一定的规律性 ()。



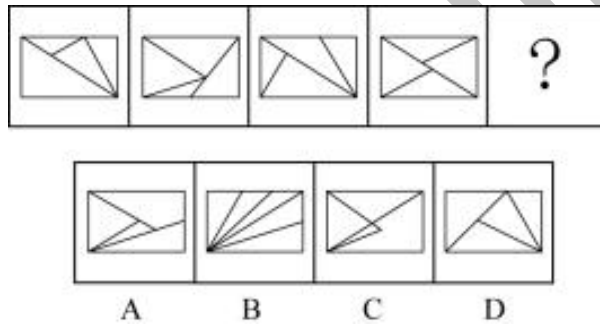
186. 从所给的四个选项中，选择最合适的一个填入问号处，使之呈现一定的规律性 ()。



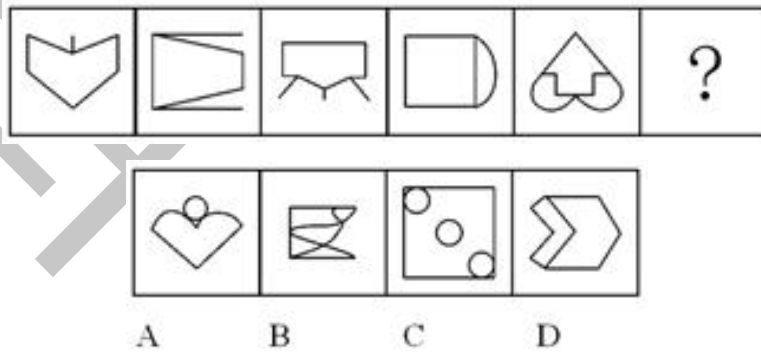
187. 从所给的四个选项中，选择最合适的一个填入问号处，使之呈现一定的规律性 ()。



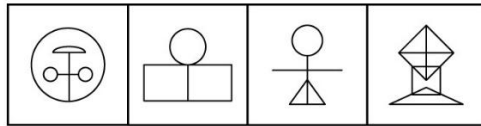
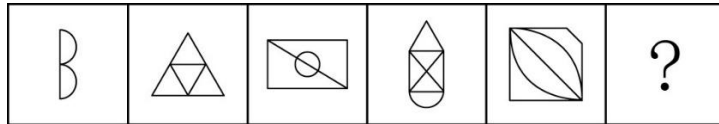
188. 从所给的四个选项中，选择最合适的一个填入问号处，使之呈现一定的规律性 ()。



189. 从所给的四个选项中，选择最合适的一个填入问号处，使之呈现一定的规律性 ()。

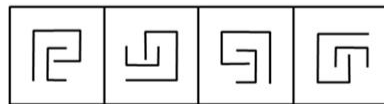



190. 从所给的四个选项中，选择最合适的一个填入问号处，使之呈现一定的规律性 ()。



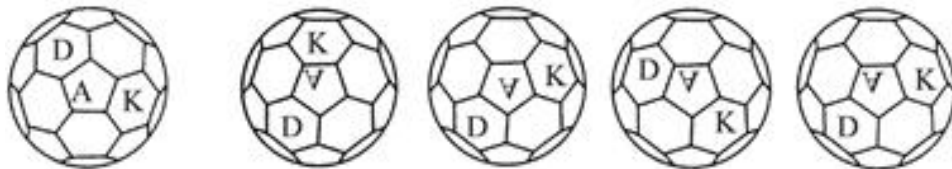
A B C D

191. 从所给的四个选项中，选择最合适的一个填入问号处，使之呈现一定的规律性 ()。




A B C D

192. 下面选项中，可由所给图形经过垂直翻转得到的是 ()。



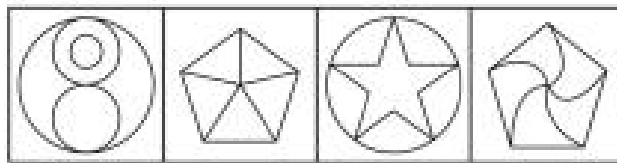
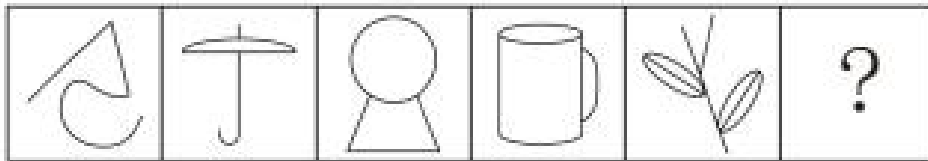
A B C D

193. 从所给的四个选项中，选择最合适的一个填入问号处，使之呈现一定的规律性 ()。



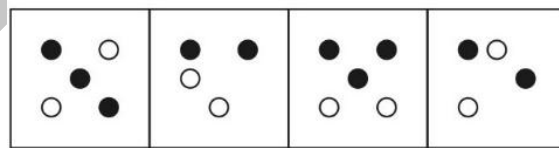
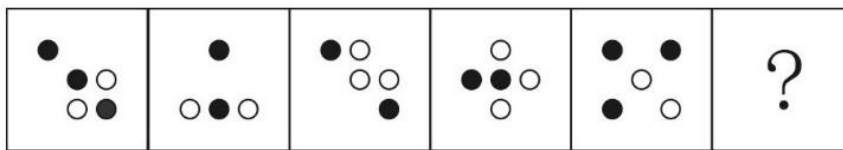
A B C D

194. 从所给的四个选项中，选择最合适的一个填入问号处，使之呈现一定的规律性 ()。



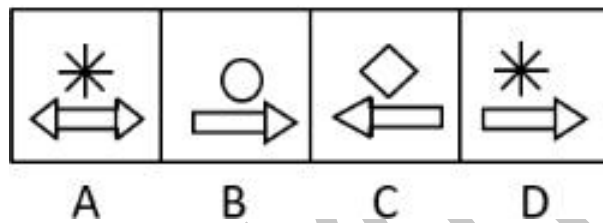
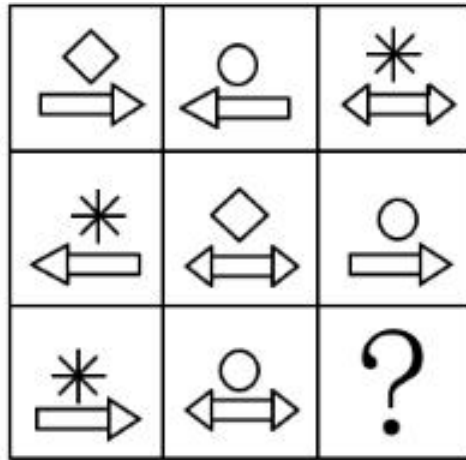
A B C D

195. 从所给的四个选项中，选择最合适的一个填入问号处，使之呈现一定的规律性 ()。

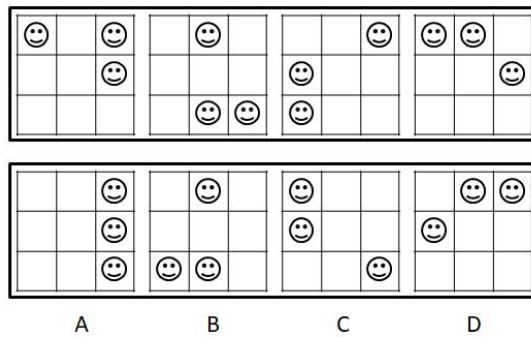


A B C D

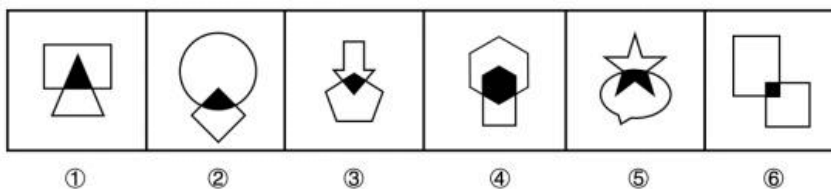
196. 从所给的四个选项中，选择最合适的一个填入问号处，使之呈现一定的规律性 ()。



197. 从所给的四个选项中，选择最合适的一个填入问号处，使之呈现一定的规律性 ()。



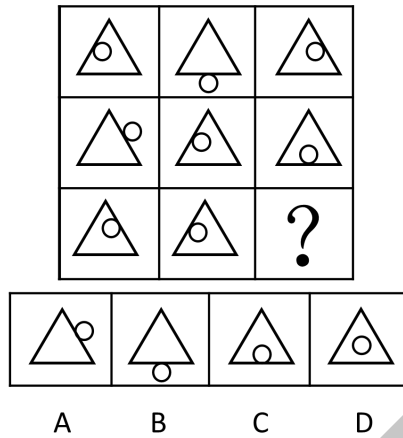
198. 从所给的四个选项中，选择最合适的一个填入问号处，使之呈现一定的规律性 ()。



- A. ①②④, ③⑤⑥ B. ①④⑥, ②③⑤
C. ①③⑤, ②④⑥ D. ①③⑥, ②④⑤

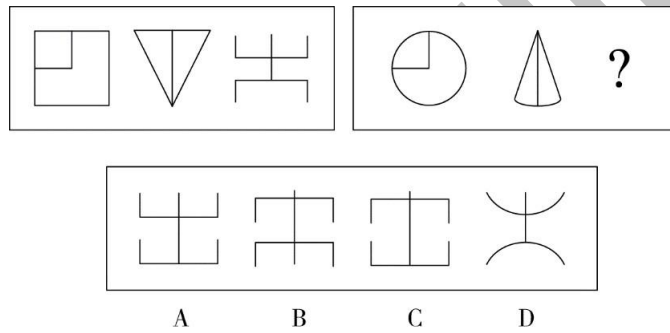
199. 从所给的四个选项中，选择最合适的一个填入问号处，使之呈现一定的规律性

()。



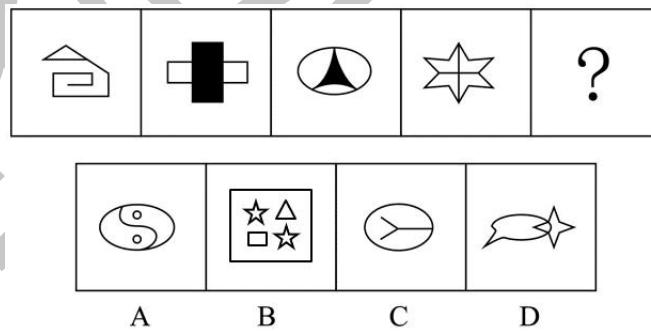
200. 从所给的四个选项中, 选择最合适的一个填入问号处, 使之呈现一定的规律性

()。



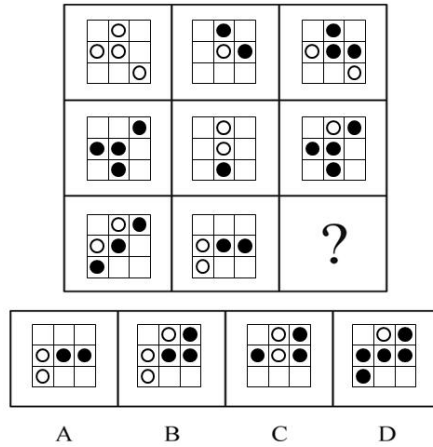
201. 从所给的四个选项中, 选择最合适的一个填入问号处, 使之呈现一定的规律性

()。

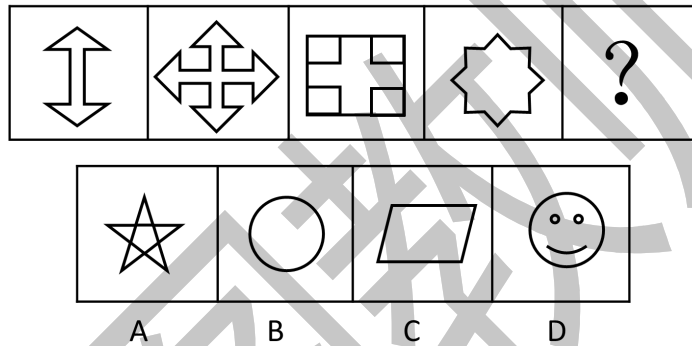


202. 从所给的四个选项中, 选择最合适的一个填入问号处, 使之呈现一定的规律性

()。



203. 从所给的四个选项中，选择最合适的一个填入问号处，使之呈现一定的规律性 ()。

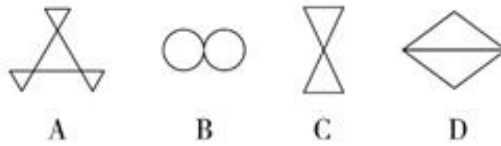


204. 把下面的六个图形分为两类，使每一类图形都有各自的共同特征或规律，分类正确的一项是 ()。

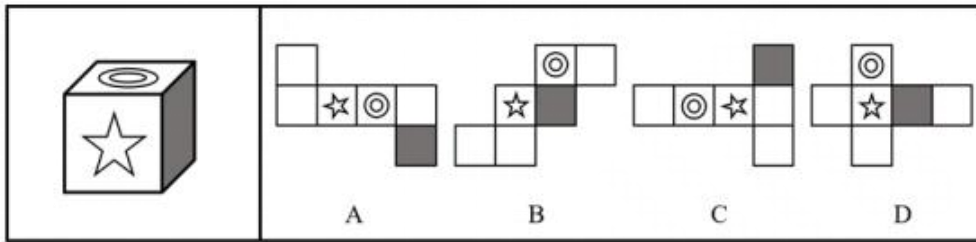


- A. ①②③, ④⑤⑥
- B. ①④⑤, ②③⑥
- C. ①②④, ③⑤⑥
- D. ①④⑥, ②③⑤

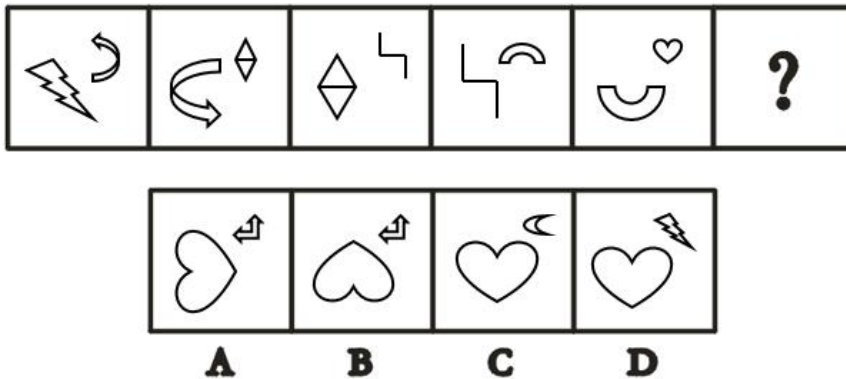
205. 从所给的四个选项中，选择最合适的一个填入问号处，使之呈现一定的规律性 ()。



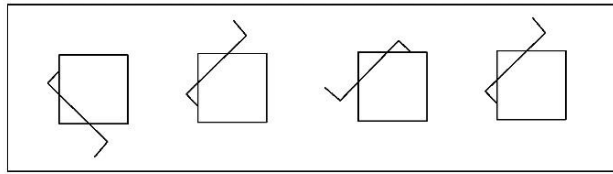
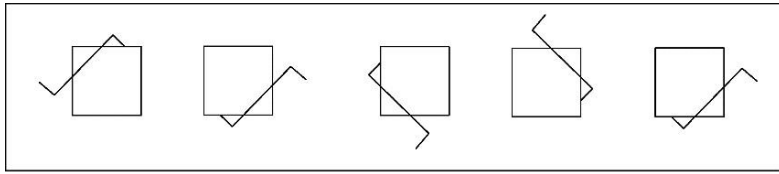
206. 下列选项中，不是由左边的立方体展开而成的是（ ）。



207. 从所给的四个选项中，选择最合适的一个填入问号处，使之呈现一定的规律性（ ）。

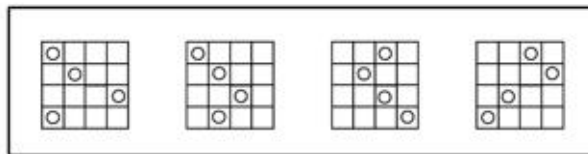
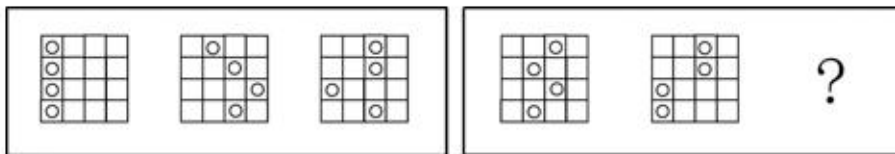


208. 从所给的四个选项中，选择最合适的一个填入问号处，使之呈现一定的规律性（ ）。



A B C D

209. 从所给的四个选项中, 选择最合适的一个填入问号处, 使之呈现一定的规律性 ()。



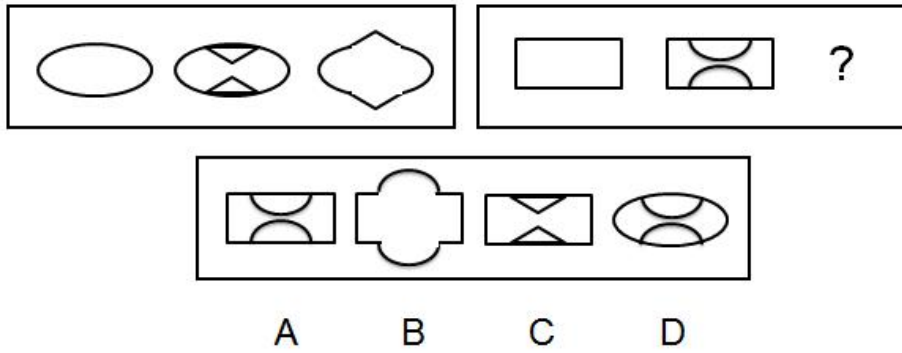
A B C D

210. 从所给的四个选项中, 选择最合适的一个填入问号处, 使之呈现一定的规律性 ()。

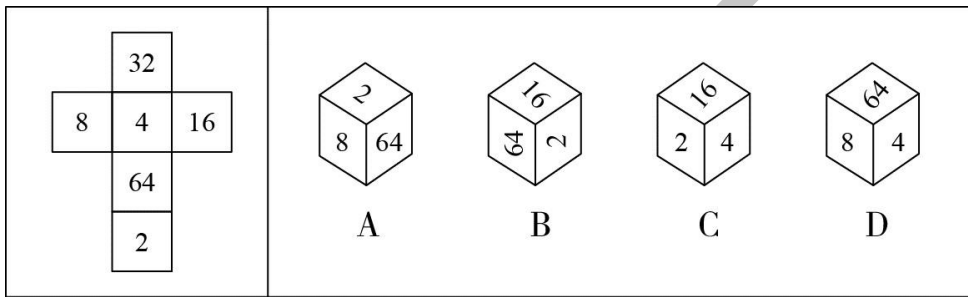


A B C D

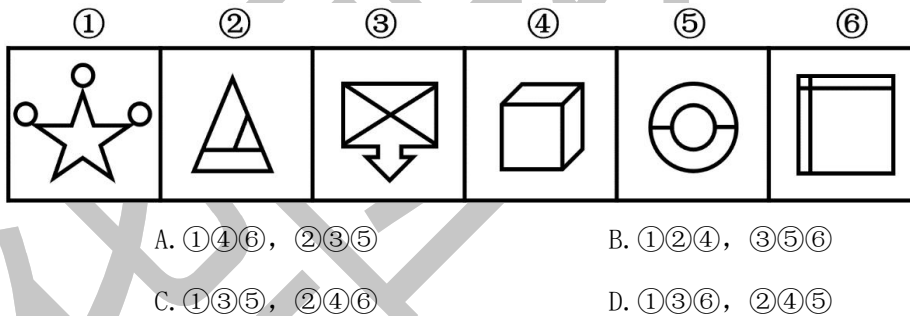
211. 从所给的四个选项中, 选择最合适的一个填入问号处, 使之呈现一定的规律性 ()。



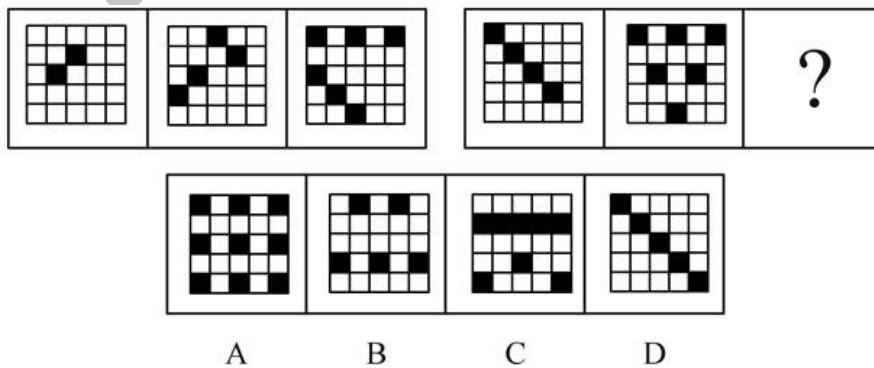
212. 左边给出的是纸盒的外表面，下列选项中哪一项可由它折叠而成？（ ）



213. 把下面的六个图形分为两类，使每一类图形都有各自的共同特征或规律，分类正确的一项是（ ）。

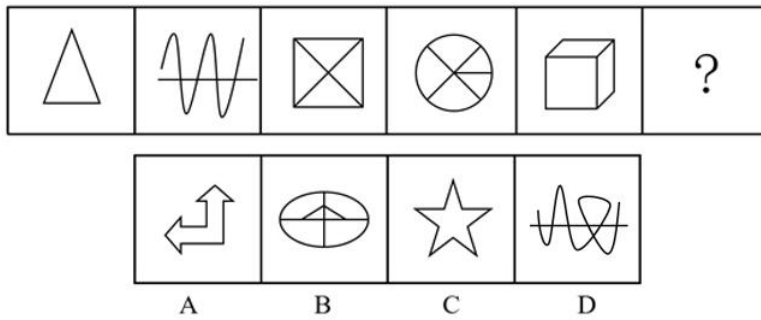


214. 从所给的四个选项中，选择最合适的一个填入问号处，使之呈现一定的规律性（ ）。



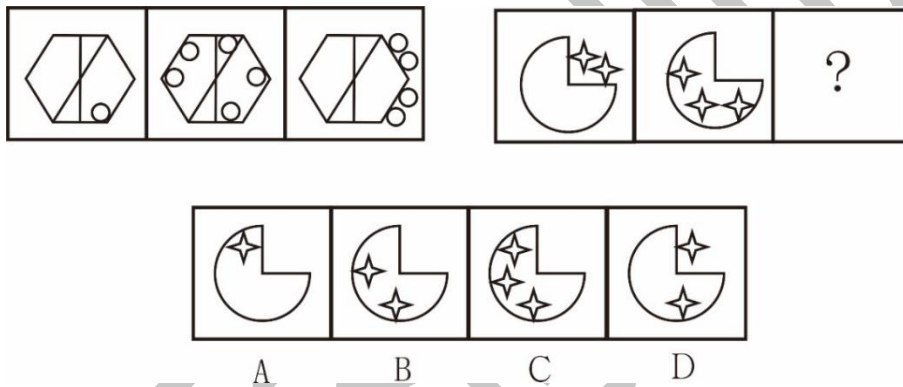
215. 从所给的四个选项中, 选择最合适的一个填入问号处, 使之呈现一定的规律性

()。



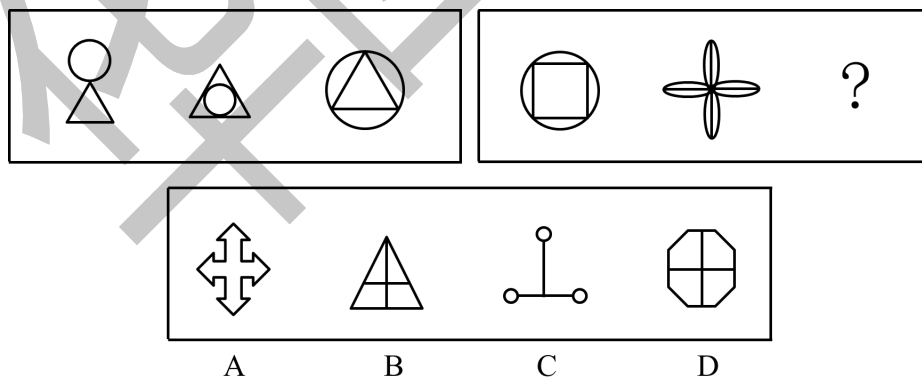
216. 从所给的四个选项中, 选择最合适的一个填入问号处, 使之呈现一定的规律性

()。



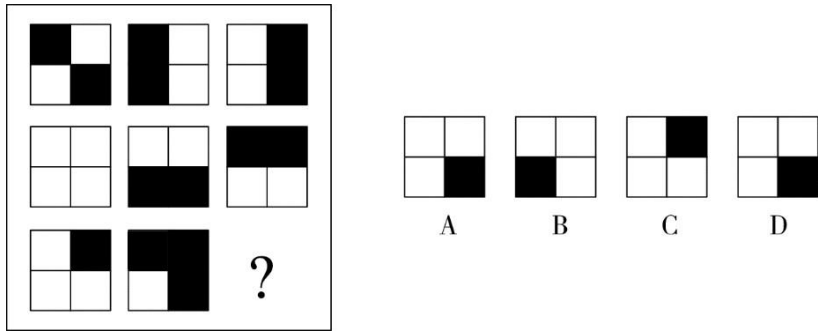
217. 从所给的四个选项中, 选择最合适的一个填入问号处, 使之呈现一定的规律性

()。

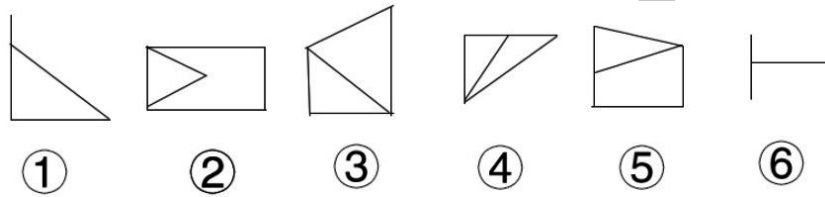


218. 从所给的四个选项中, 选择最合适的一个填入问号处, 使之呈现一定的规律性

()。

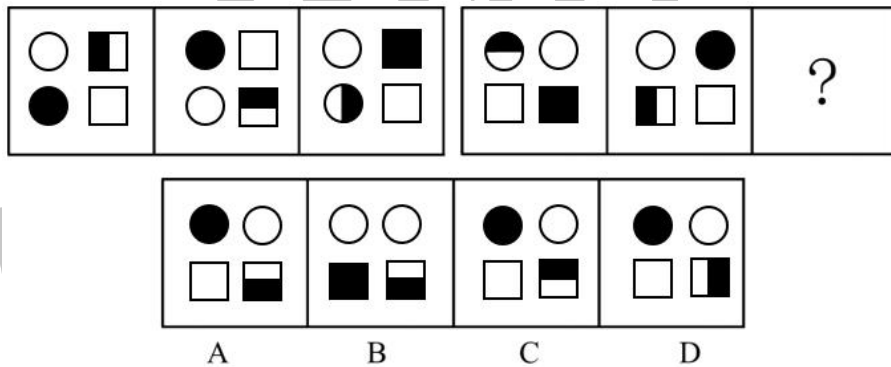


219. 把下面的六个图形分为两类，使每一类图形都有各自的共同特征或规律，分类正确的一项是 ()。

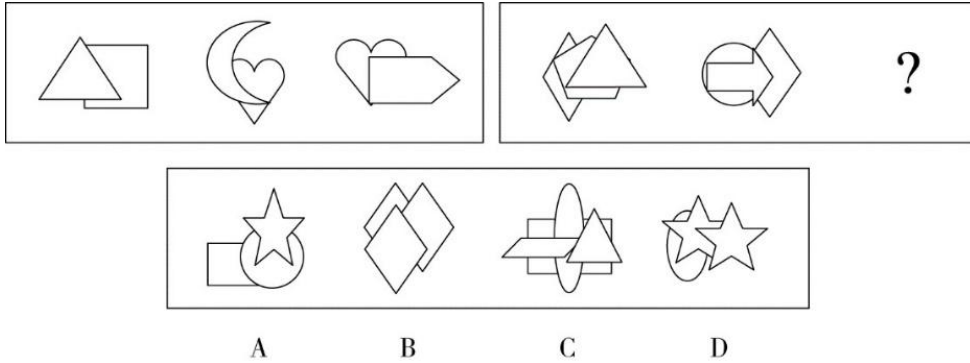


- A. ①②③, ④⑤⑥ B. ①②⑤, ③④⑥
C. ①③④, ②⑤⑥ D. ①③⑥, ②④⑤

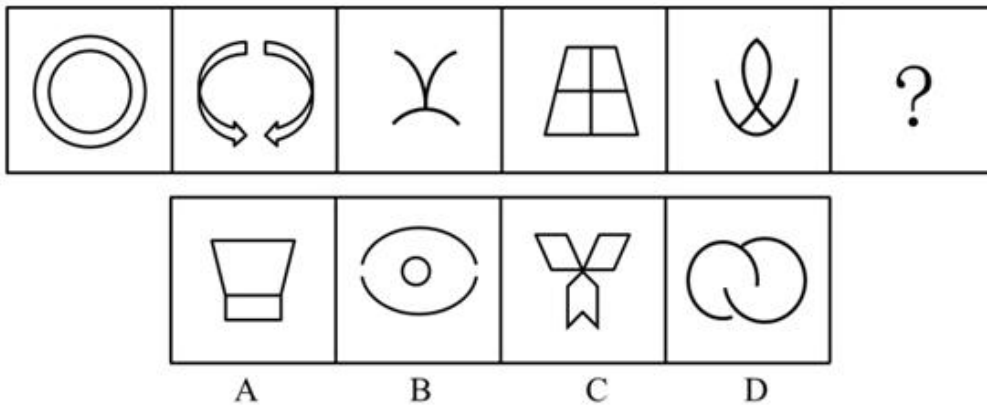
220. 从所给的四个选项中，选择最合适的一个填入问号处，使之呈现一定的规律性 ()。



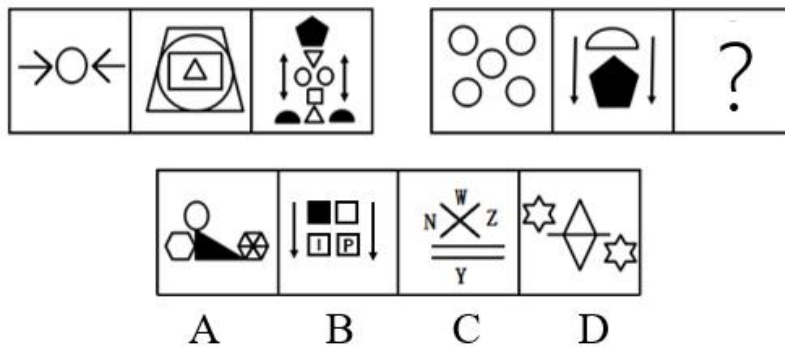
221. 从所给的四个选项中，选择最合适的一个填入问号处，使之呈现一定的规律性 ()。



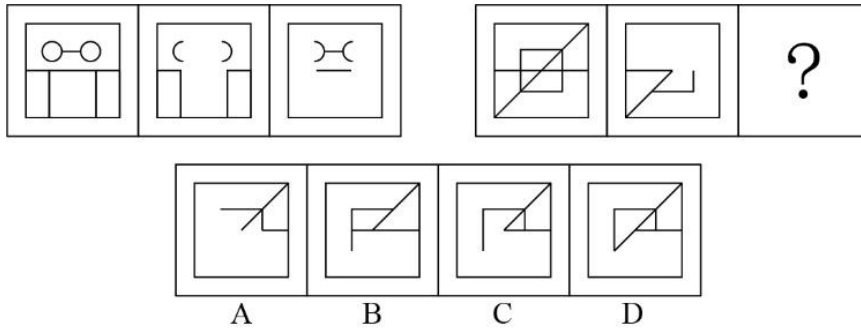
222. 从所给的四个选项中，选择最合适的一个填入问号处，使之呈现一定的规律性 ()。



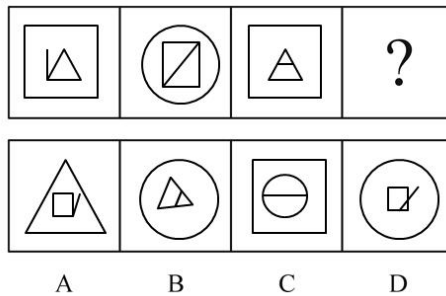
223. 从所给的四个选项中，选择最合适的一个填入问号处，使之呈现一定的规律性 ()。




224. 从所给的四个选项中，选择最合适的一个填入问号处，使之呈现一定的规律性 ()。



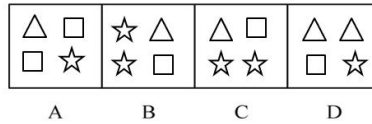

225. 从所给的四个选项中，选择最合适的一个填入问号处，使之呈现一定的规律性 ()。



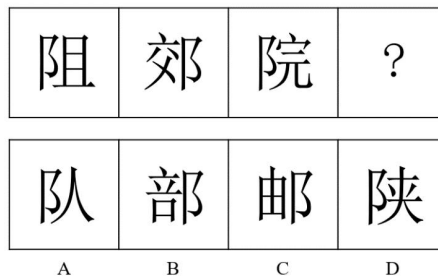
226. 从所给的四个选项中，选择最合适的一个填入问号处，使之呈现一定的规律性 ()。



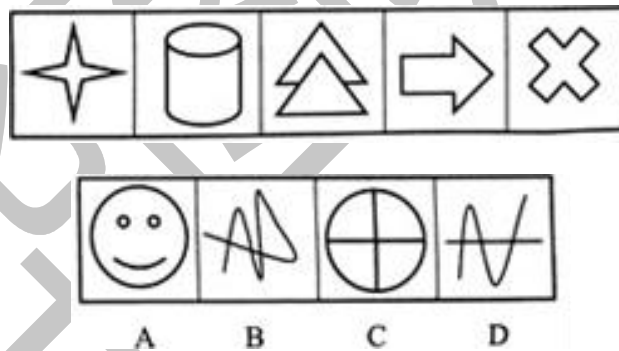
227. 从所给的四个选项中，选择最合适的一个填入问号处，使之呈现一定的规律性 ()。



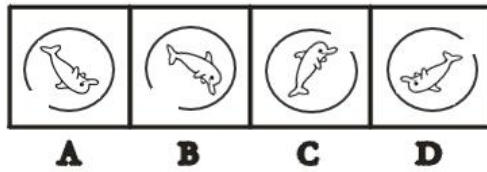
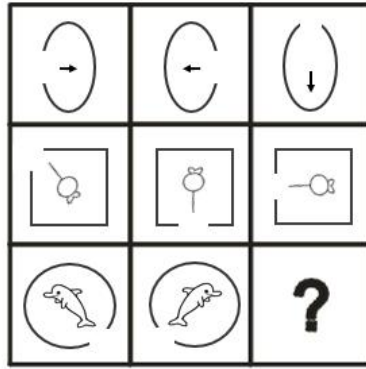
228. 从所给的四个选项中，选择最合适的一个填入问号处，使之呈现一定的规律性 ()。



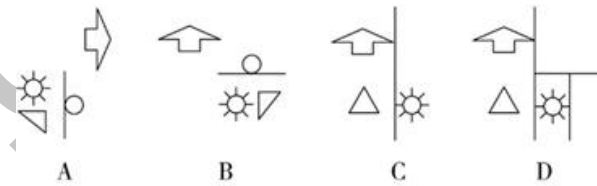

229. 从所给的四个选项中，选择最合适的一个填入问号处，使之呈现一定的规律性 ()。



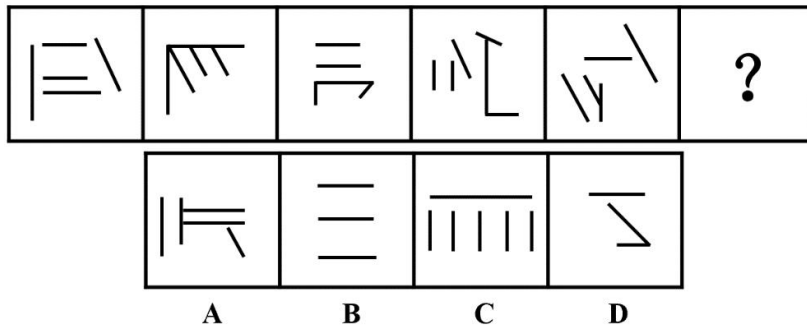
230. 从所给的四个选项中，选择最合适的一个填入问号处，使之呈现一定的规律性 ()。



231. 从所给的四个选项中，选择最合适的一个填入问号处，使之呈现一定的规律性 ()。

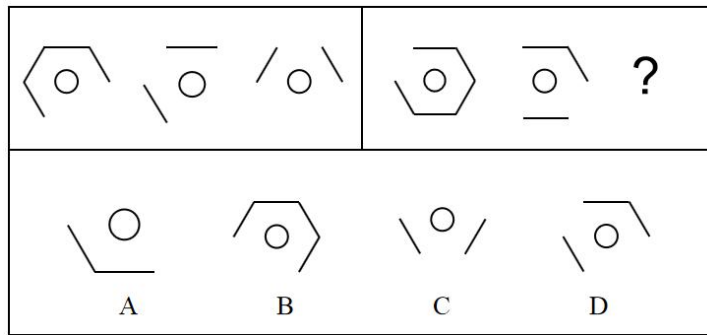


232. 从所给的四个选项中，选择最合适的一个填入问号处，使之呈现一定的规律性 ()。



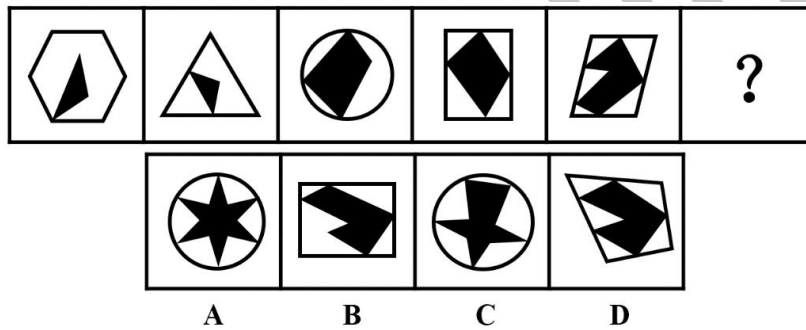
233. 从所给的四个选项中，选择最合适的一个填入问号处，使之呈现一定的规律性

()。



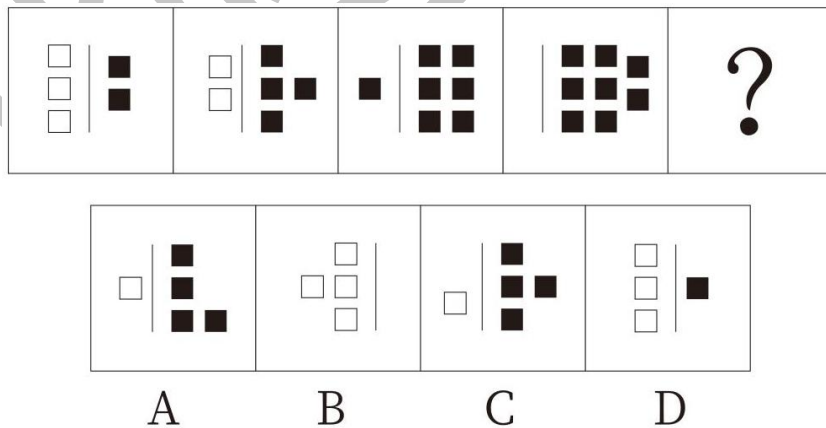
234. 从所给的四个选项中，选择最合适的一个填入问号处，使之呈现一定的规律性

()。



235. 从所给的四个选项中，选择最合适的一个填入问号处，使之呈现一定的规律性

()。

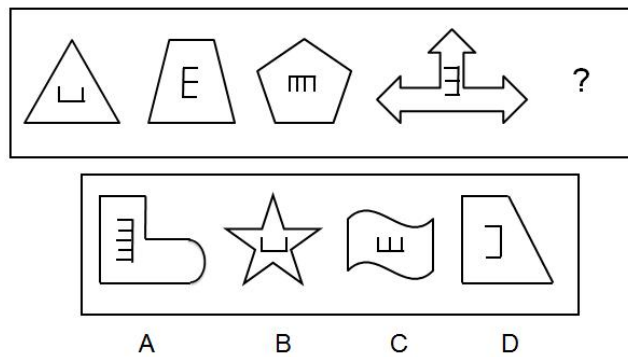


236. 从所给的四个选项中，选择最合适的一个填入问号处，使之呈现一定的规律性

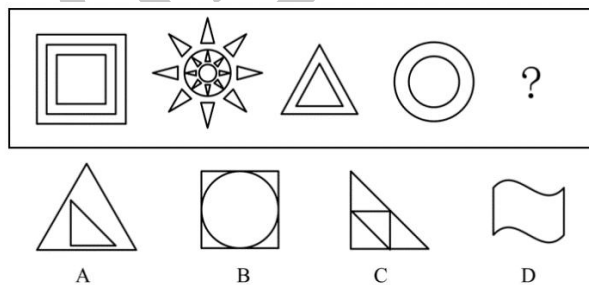
()。



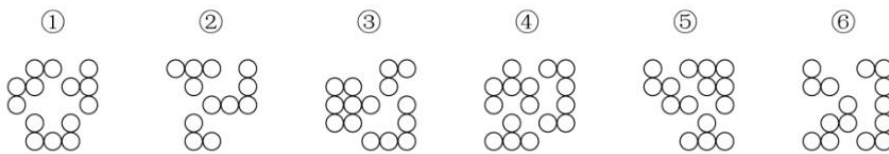
237. 从所给的四个选项中，选择最合适的一个填入问号处，使之呈现一定的规律性 ()。



238. 从所给的四个选项中，选择最合适的一个填入问号处，使之呈现一定的规律性 ()。



239. 把下面的六个图形分为两类，使每一类图形都有各自的共同特征或规律，分类正确的一项是 ()。




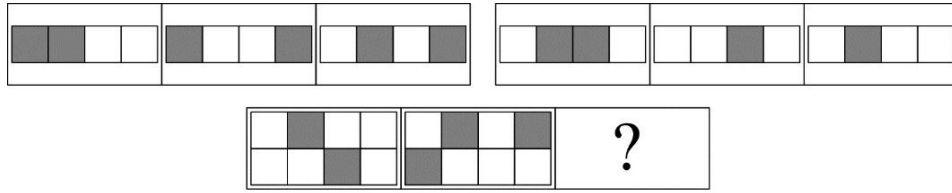
A. ①③④, ②⑤⑥ B. ①③⑤, ②④⑥

C. ①②⑥, ③④⑤

D. ①④⑥, ②③⑤

240. 从所给的四个选项中, 选择最合适的一个填入问号处, 使之呈现一定的规律性

()。



A

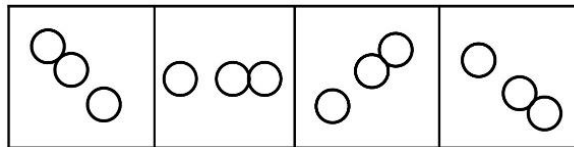
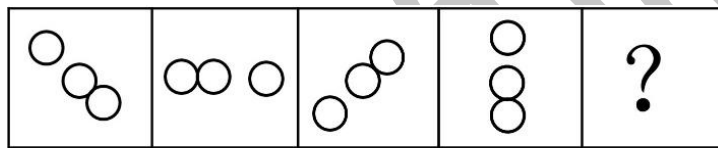
B

C

D

241. 从所给的四个选项中, 选择最合适的一个填入问号处, 使之呈现一定的规律性

()。



A

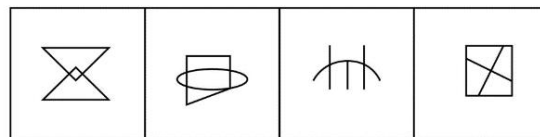
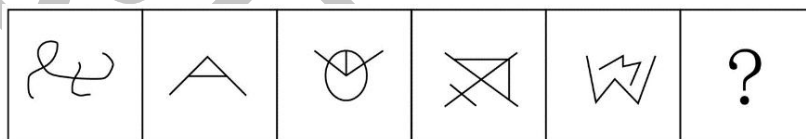
B

C

D

242. 从所给的四个选项中, 选择最合适的一个填入问号处, 使之呈现一定的规律性

()。



A

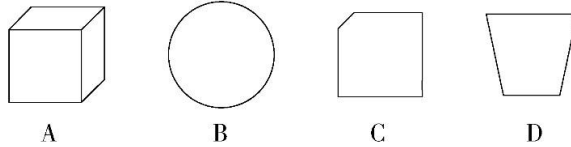
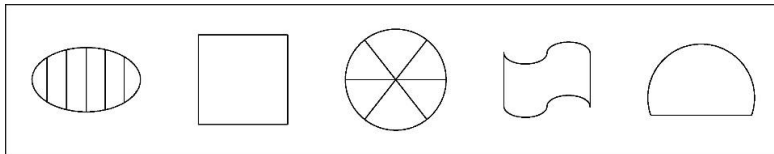
B

C

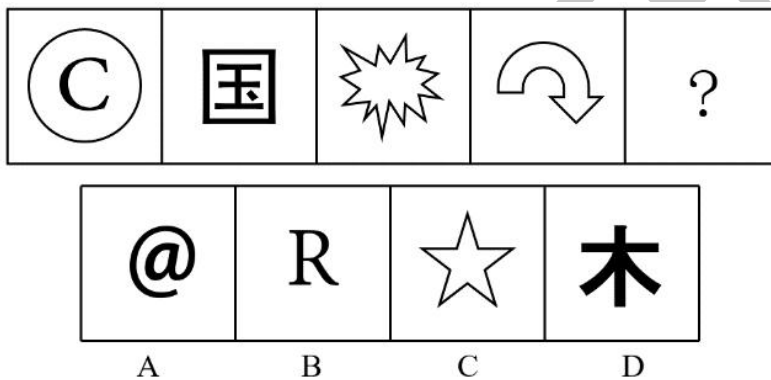
D

243. 从所给的四个选项中, 选择最合适的一个填入问号处, 使之呈现一定的规律性

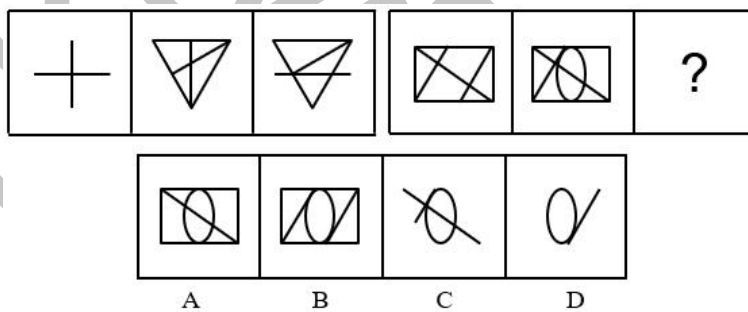
()。



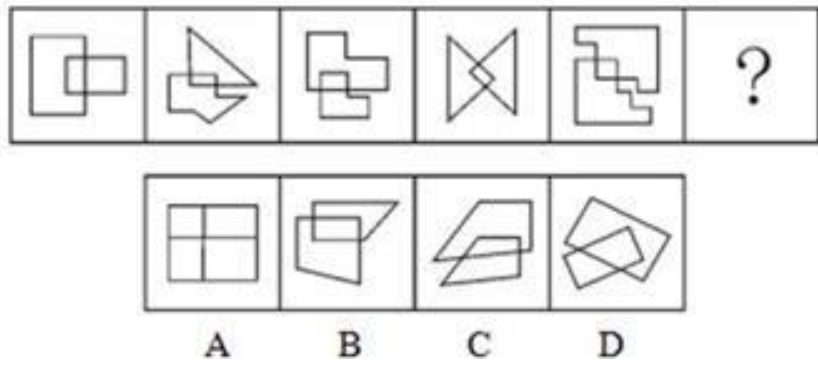
244. 从所给的四个选项中，选择最合适的一个填入问号处，使之呈现一定的规律性 ()。



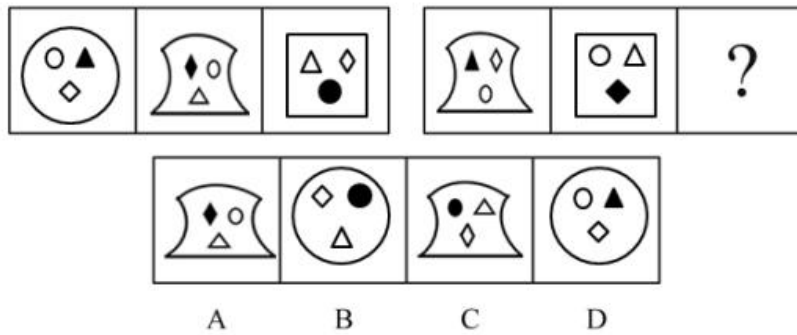
245. 从所给的四个选项中，选择最合适的一个填入问号处，使之呈现一定的规律性 ()。



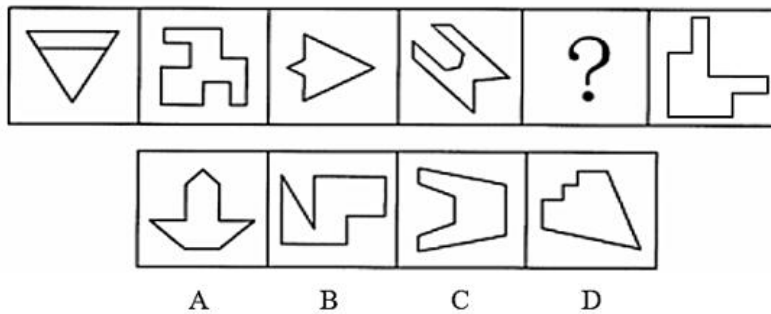
246. 从所给的四个选项中，选择最合适的一个填入问号处，使之呈现一定的规律性 ()。



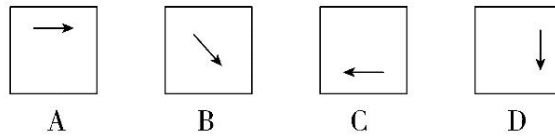
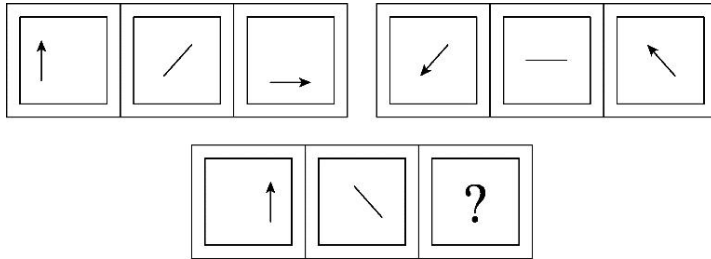
247. 从所给的四个选项中，选择最合适的一个填入问号处，使之呈现一定的规律性 ()。



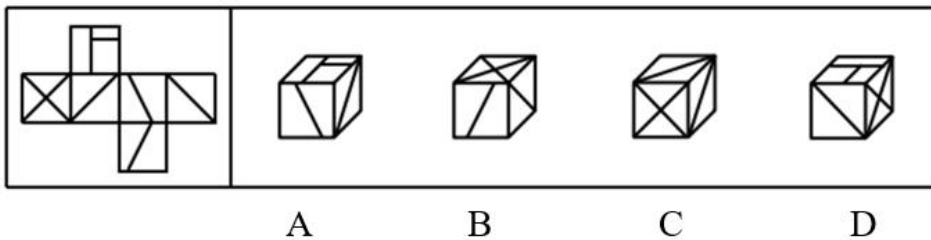
248. 从所给的四个选项中，选择最合适的一个填入问号处，使之呈现一定的规律性 ()。



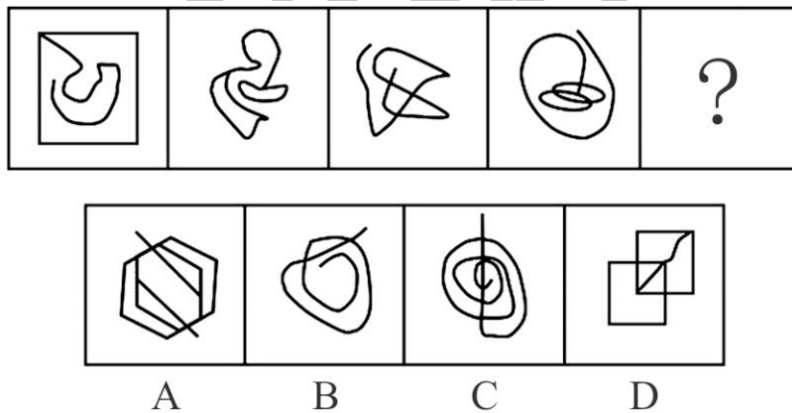
249. 从所给的四个选项中，选择最合适的一个填入问号处，使之呈现一定的规律性 ()。



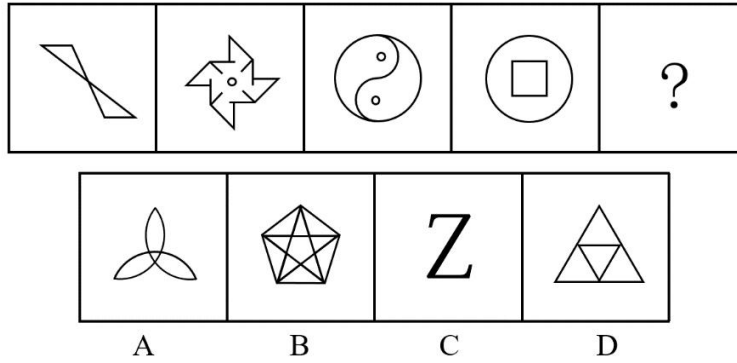
249. 左边给出的是纸盒的外表面，下列选项中哪一项可由它折叠而成？（ ）



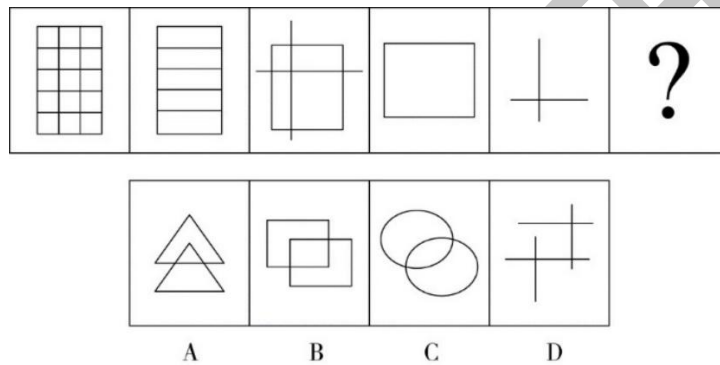
250. 从所给的四个选项中，选择最合适的一个填入问号处，使之呈现一定的规律性（ ）。



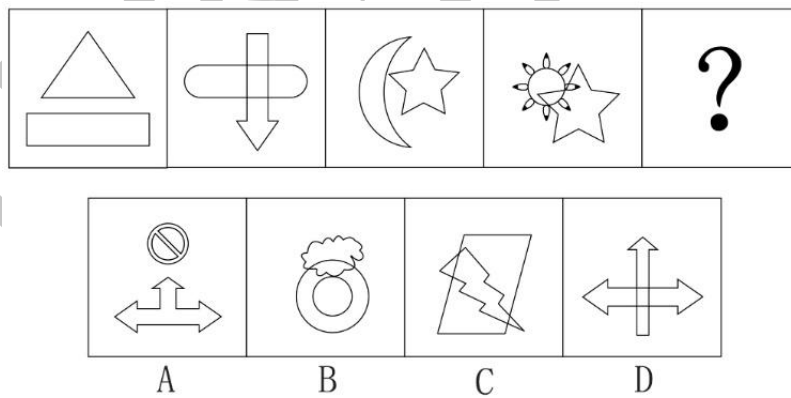
251. 从所给的四个选项中，选择最合适的一个填入问号处，使之呈现一定的规律性（ ）。



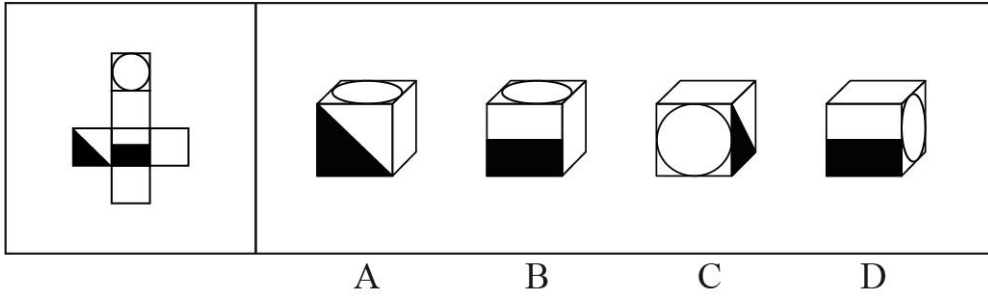
253. 从所给的四个选项中，选择最合适的一个填入问号处，使之呈现一定的规律性 ()。



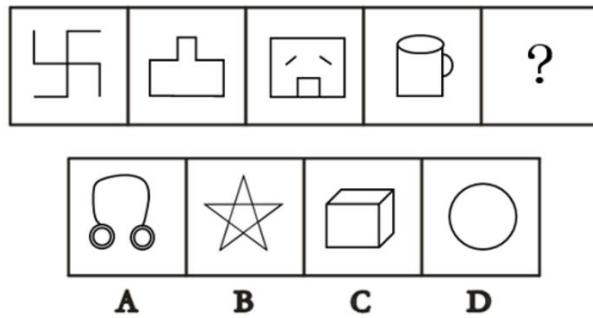
254. 从所给的四个选项中，选择最合适的一个填入问号处，使之呈现一定的规律性 ()。



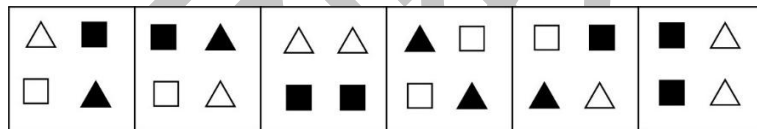
255. 左边给出的是纸盒的外表面，下列选项中哪一项可由它折叠而成？ ()



256. 从所给的四个选项中, 选择最合适的一个填入问号处, 使之呈现一定的规律性 ()。

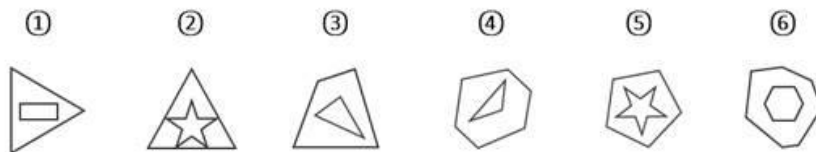


257. 把下面的六个图形分为两类, 使每一类图形都有各自的共同特征或规律, 分类正确的一项是 ()。



- ① ② ③ ④ ⑤ ⑥
- A. ①②③, ④⑤⑥ B. ①②⑤, ③④⑥
- C. ①③④, ②⑤⑥ D. ①④⑤, ②③⑥

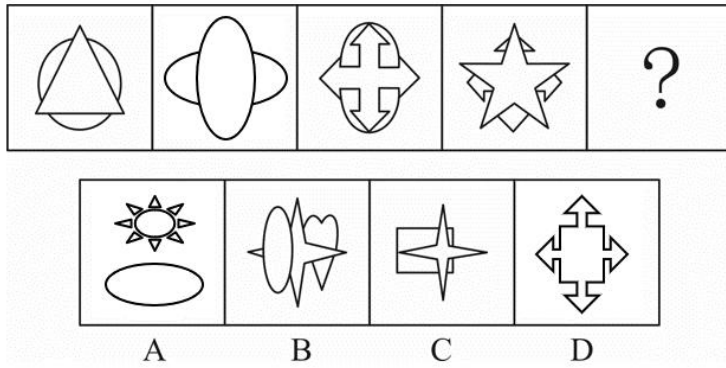
258. 把下面的六个图形分为两类, 使每一类图形都有各自的共同特征或规律, 分类正确的一项是 ()。



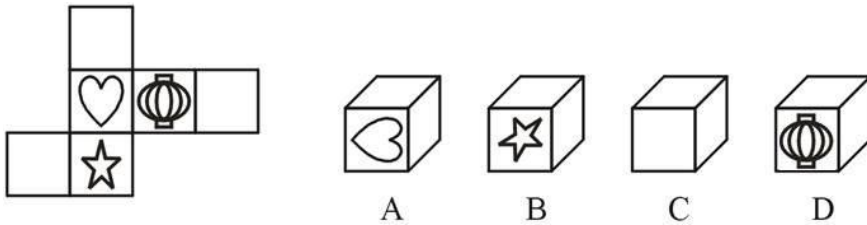
- A. ①②⑥, ③④⑤ B. ①③④, ②⑤⑥
- C. ①②⑤, ③④⑥ D. ①④⑤, ②③⑥

259. 从所给的四个选项中, 选择最合适的一个填入问号处, 使之呈现一定的规律性

()。

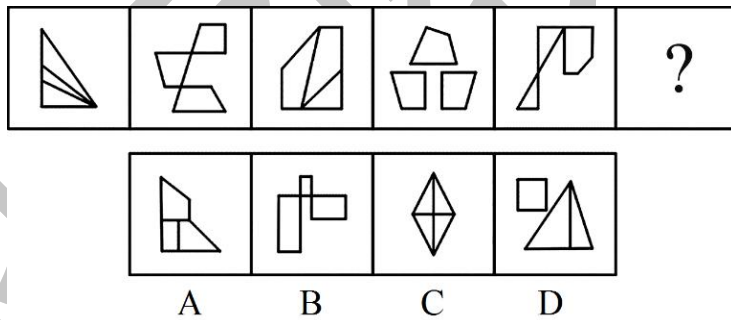


260. 左边给出的是纸盒的外表面，下列选项中哪一项可由它折叠而成？ ()




261. 从所给的四个选项中，选择最合适的一个填入问号处，使之呈现一定的规律性

()。

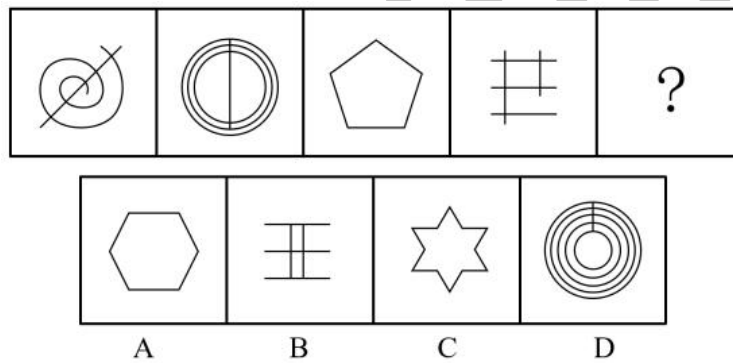


262. 从所给的四个选项中，选择最合适的一个填入问号处，使之呈现一定的规律性

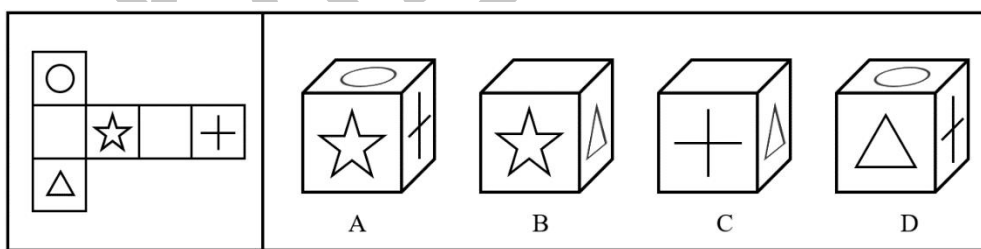
()。



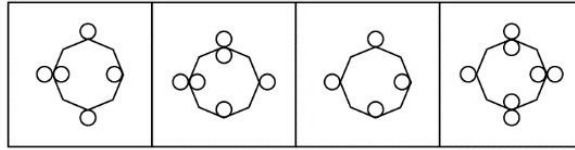
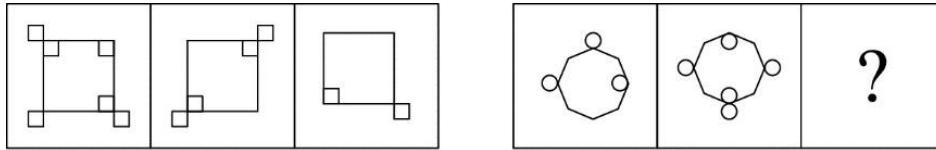
263. 从所给的四个选项中，选择最合适的一个填入问号处，使之呈现一定的规律性 ()。



264. 左边给出的是纸盒的外表面，下列选项中哪一项可由它折叠而成? ()

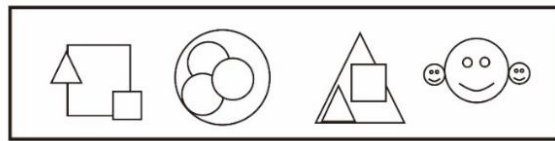
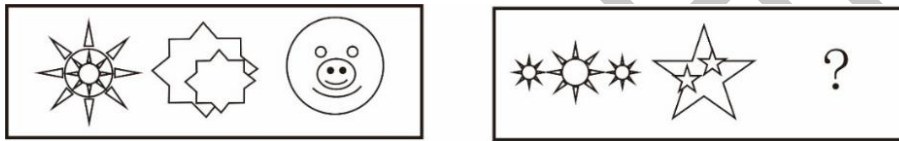


265. 从所给的四个选项中，选择最合适的一个填入问号处，使之呈现一定的规律性 ()。



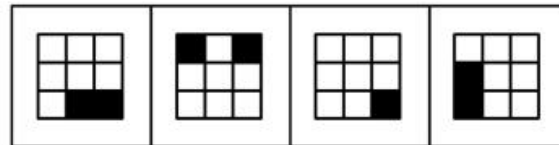
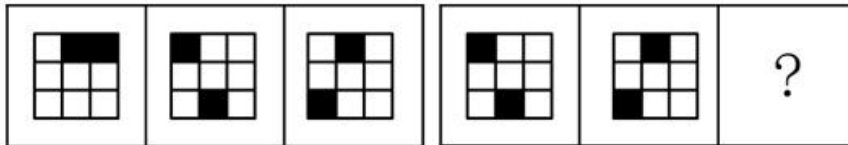
A B C D

266. 从所给的四个选项中，选择最合适的一个填入问号处，使之呈现一定的规律性 ()。





A B C D

267. 从所给的四个选项中，选择最合适的一个填入问号处，使之呈现一定的规律性 ()。



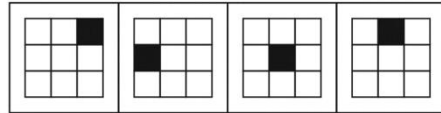
A B C D

268. 从所给的四个选项中，选择最合适的一个填入问号处，使之呈现一定的规律性 ()。



269. 从所给的四个选项中，选择最合适的一个填入问号处，使之呈现一定的规律性

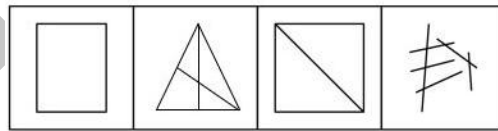
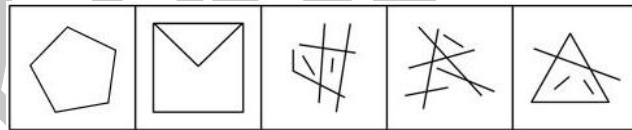
()。



A B C D

270. 从所给的四个选项中，选择最合适的一个填入问号处，使之呈现一定的规律性

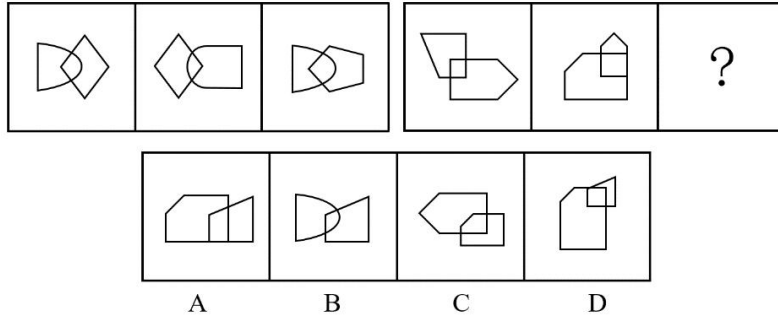
()。



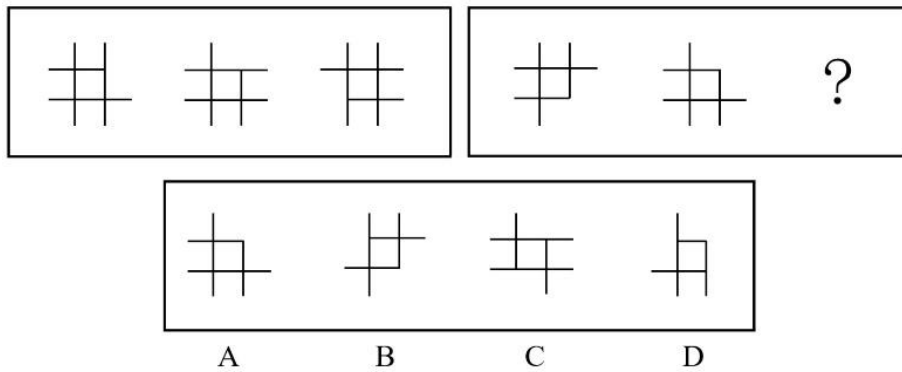
A B C D

271. 从所给的四个选项中，选择最合适的一个填入问号处，使之呈现一定的规律性

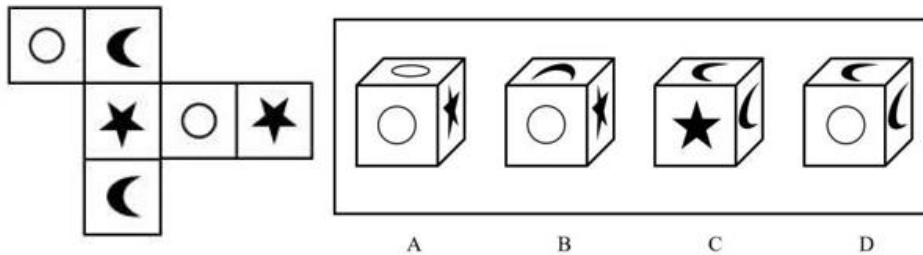
()。



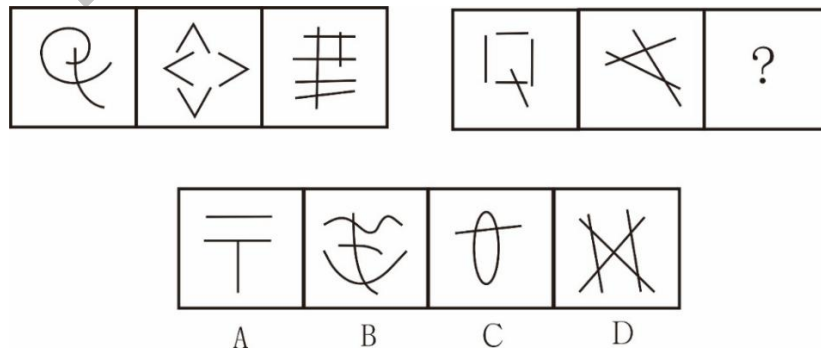
272. 从所给的四个选项中, 选择最合适的一个填入问号处, 使之呈现一定的规律性 ()。



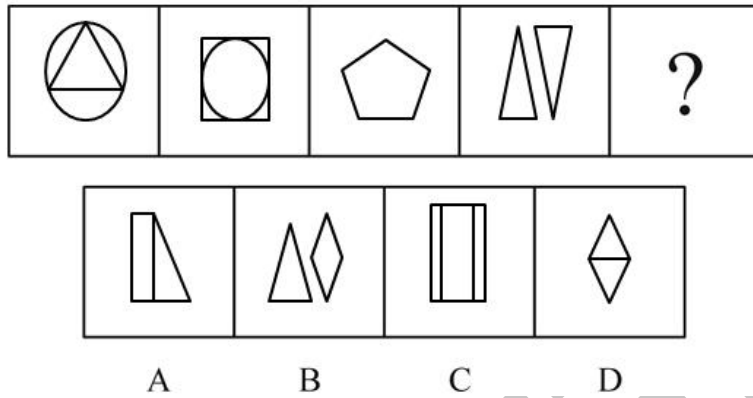
273. 左边给出的是纸盒的外表面, 下列选项中哪一项可由它折叠而成? ()



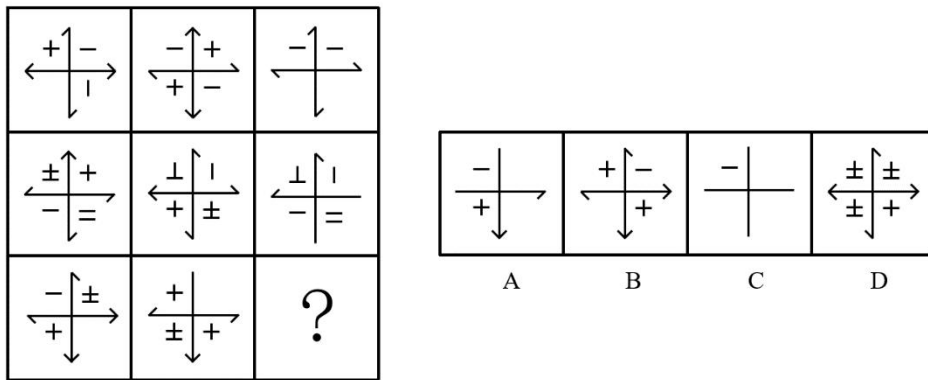
274. 从所给的四个选项中, 选择最合适的一个填入问号处, 使之呈现一定的规律性 ()。



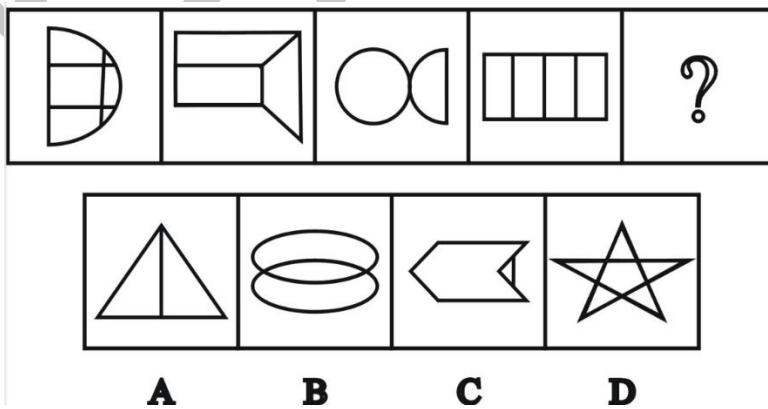
275. 从所给的四个选项中, 选择最合适的一个填入问号处, 使之呈现一定的规律性 ()。



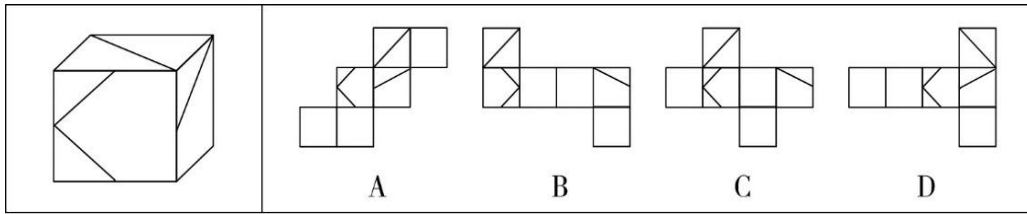
276. 从所给的四个选项中, 选择最合适的一个填入问号处, 使之呈现一定的规律性 ()。



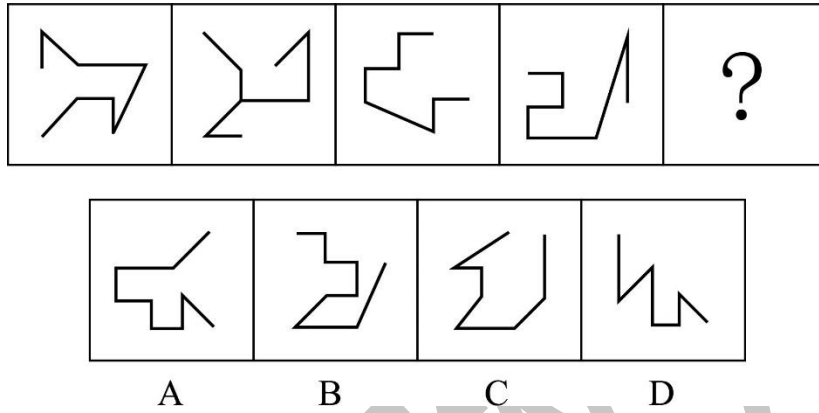
277. 从所给的四个选项中, 选择最合适的一个填入问号处, 使之呈现一定的规律性 ()。



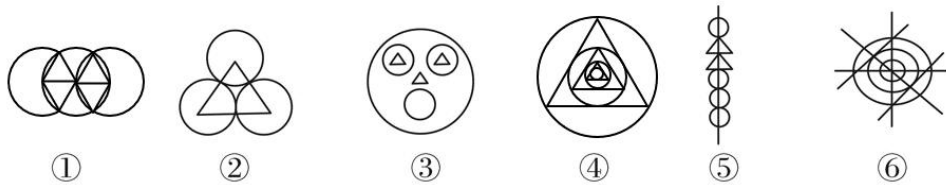
278. 下列选项中, 由左边的立方体展开而成的是 ()。



279. 从所给的四个选项中, 选择最合适的一个填入问号处, 使之呈现一定的规律性 ()。

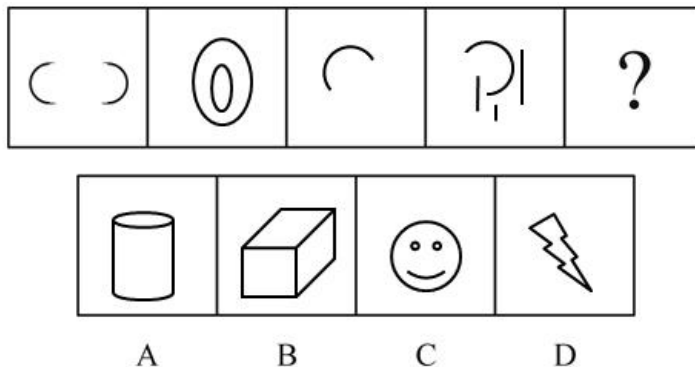


280. 把下面的六个图形分为两类, 使每一类图形都有各自的共同特征或规律, 分类正确的一项是 ()。



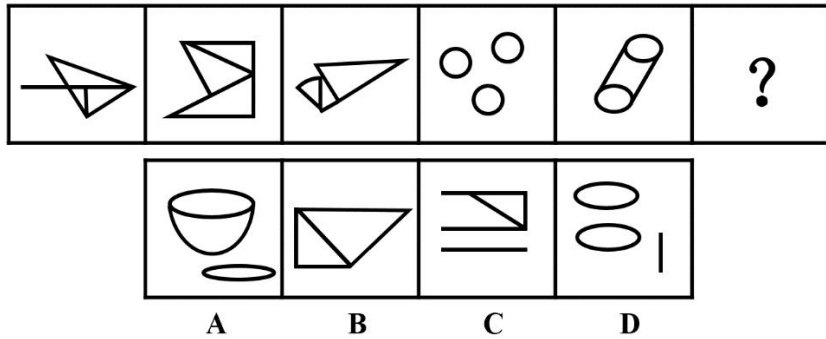
- A. ①③⑥, ②④⑤ B. ①③④, ②⑤⑥
C. ①②⑥, ③④⑤ D. ①④⑥, ②③⑤

281. 从所给的四个选项中, 选择最合适的一个填入问号处, 使之呈现一定的规律性 ()。



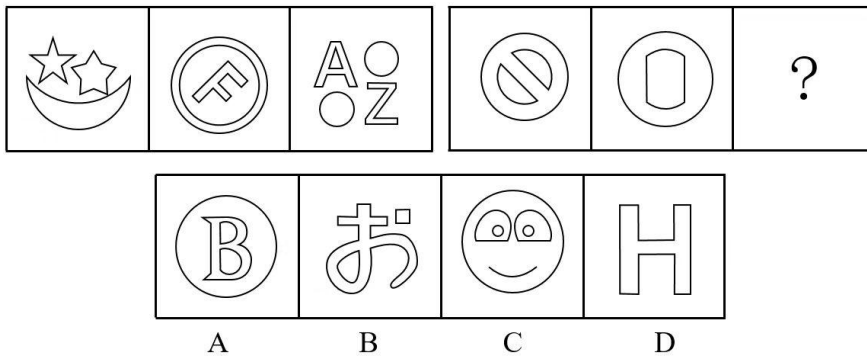
282. 从所给的四个选项中，选择最合适的一个填入问号处，使之呈现一定的规律性

()。



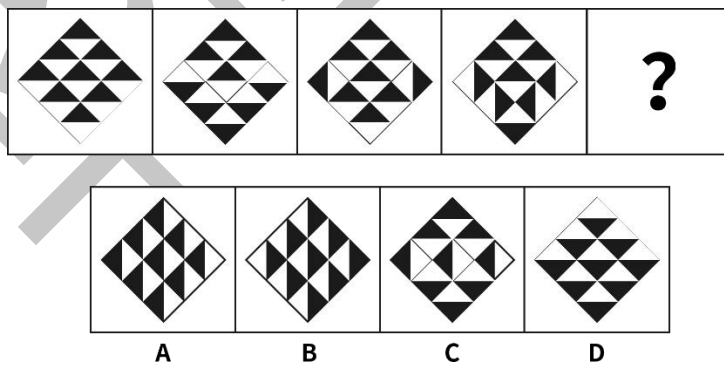
283. 从所给的四个选项中，选择最合适的一个填入问号处，使之呈现一定的规律性

()。



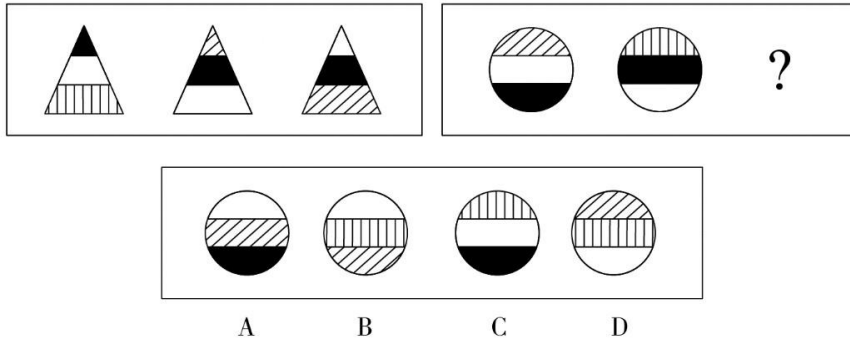
284. 从所给的四个选项中，选择最合适的一个填入问号处，使之呈现一定的规律性

()。

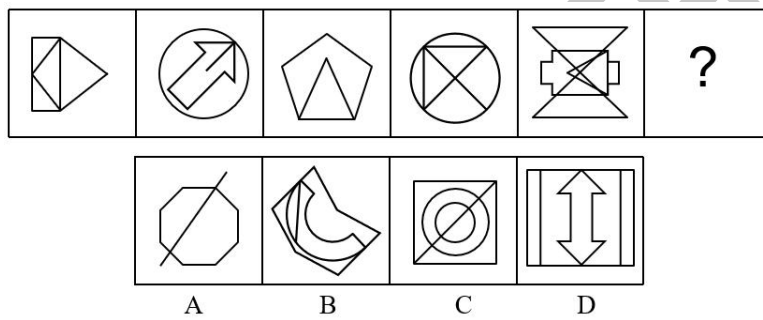


285. 从所给的四个选项中，选择最合适的一个填入问号处，使之呈现一定的规律性

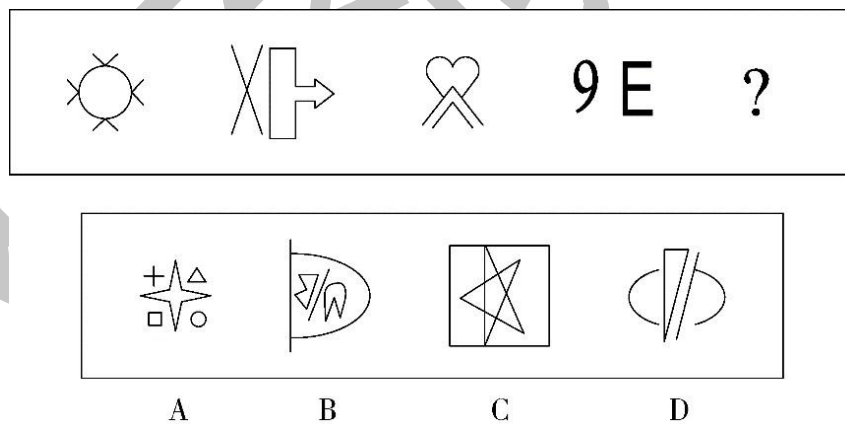
()。



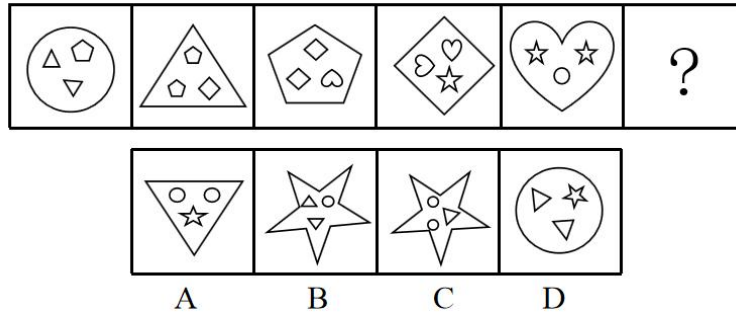
286. 从所给的四个选项中，选择最合适的一个填入问号处，使之呈现一定的规律性 ()。



287. 从所给的四个选项中，选择最合适的一个填入问号处，使之呈现一定的规律性 ()。

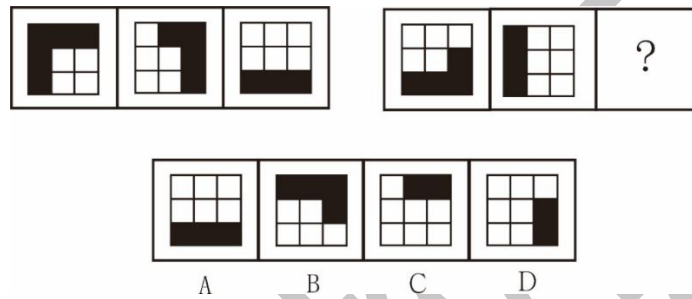


288. 从所给的四个选项中，选择最合适的一个填入问号处，使之呈现一定的规律性 ()。



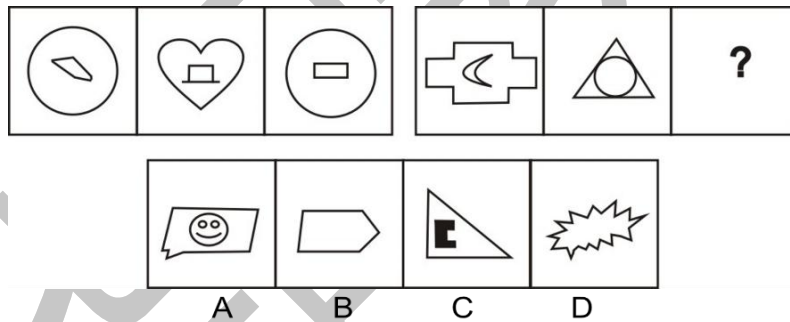
289. 从所给的四个选项中，选择最合适的一个填入问号处，使之呈现一定的规律性

()。



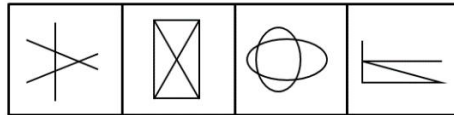

290. 从所给的四个选项中，选择最合适的一个填入问号处，使之呈现一定的规律性

()。



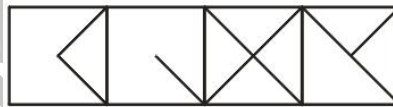
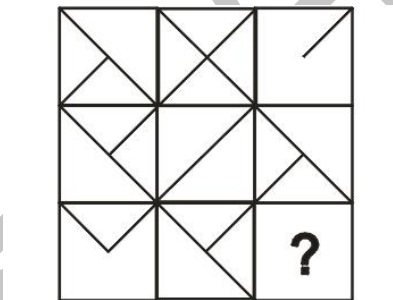
291. 从所给的四个选项中，选择最合适的一个填入问号处，使之呈现一定的规律性

()。



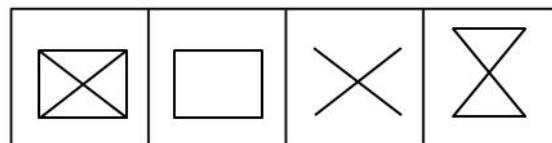
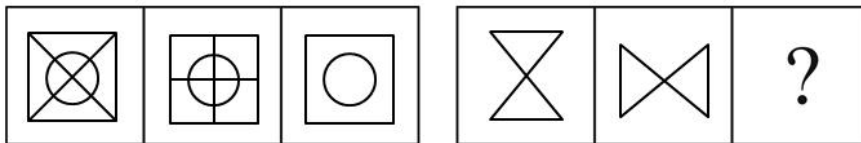
A B C D

292. 从所给的四个选项中，选择最合适的一个填入问号处，使之呈现一定的规律性 ()。



A B C D

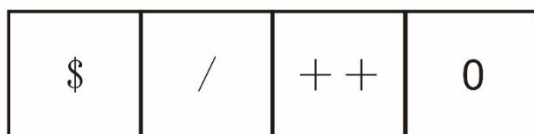
293. 从所给的四个选项中，选择最合适的一个填入问号处，使之呈现一定的规律性 ()。



A B C D

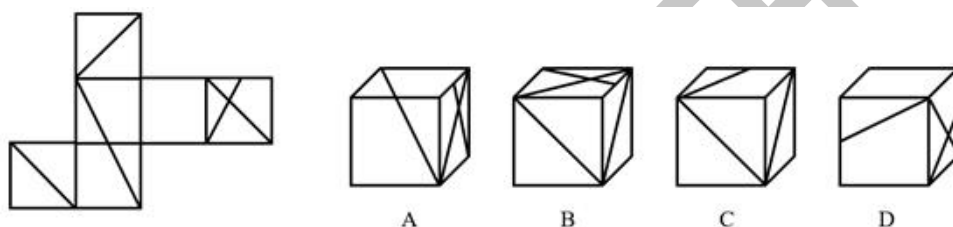
294. 从所给的四个选项中，选择最合适的一个填入问号处，使之呈现一定的规律性

()。



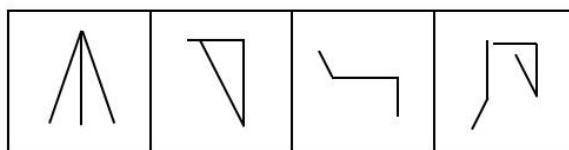
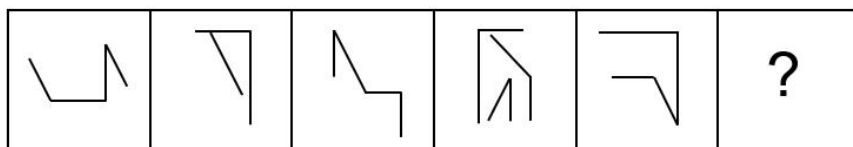
A B C D

295. 左边给出的是纸盒的外表面，下列选项中哪一项可由它折叠而成？ ()



296. 从所给的四个选项中，选择最合适的一个填入问号处，使之呈现一定的规律性

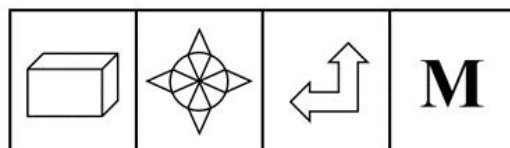
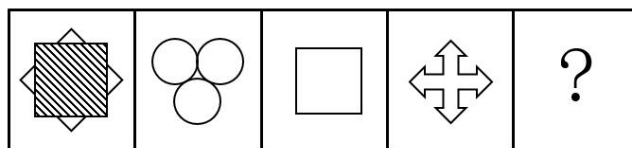
()。



A B C D

297. 从所给的四个选项中，选择最合适的一个填入问号处，使之呈现一定的规律性

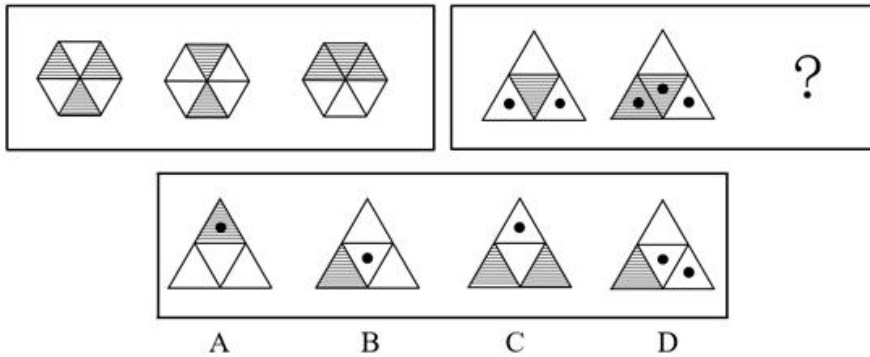
()。



A B C D

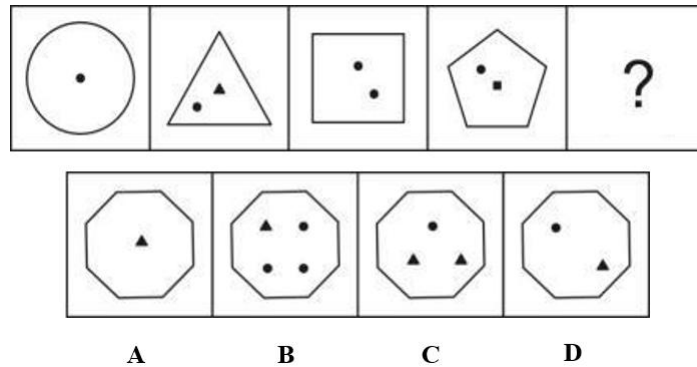
298. 从所给的四个选项中，选择最合适的一个填入问号处，使之呈现一定的规律性

()。



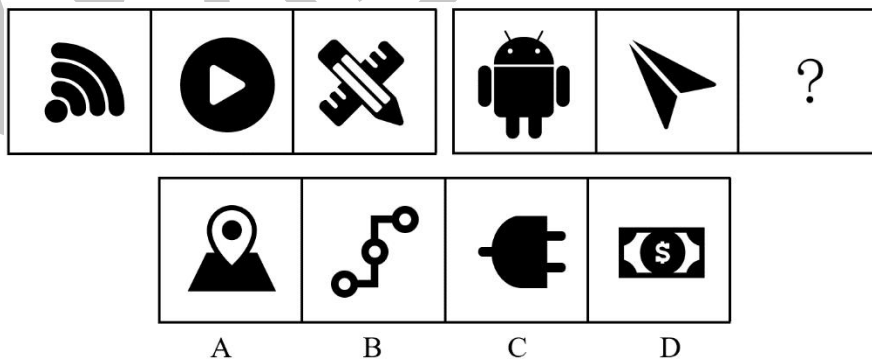
299. 从所给的四个选项中，选择最合适的一个填入问号处，使之呈现一定的规律性

()。



300. 从所给的四个选项中，选择最合适的一个填入问号处，使之呈现一定的规律性

()。



第二章 定义判断

1. 完全垄断：是指整个行业中只有一个生产者的市场结构，这种市场结构形成的主要条件包括：一是厂商即行业，整个行业中只有一个厂商提供全行业中所需要的全部商品；二是厂商所生产的产品在没有任何替代品，不受任何竞争者的威胁；三是其他厂商不可能进入该行业，在这些条件下，市场中完全没有竞争的因素存在，厂商可以控制和操纵价格。

下列属于该定义范畴的商品是（ ）。

- A. 自来水的供应
- B. 快餐商品
- C. 微软公司的操作系统
- D. 某快递公司的服务

2. 假期综合症是指出现于长假期或节日后的疲倦、失眠等症状，以至于焦虑、空虚或容易发怒，难以集中精神工作，这是人们在长期休闲后，身心无法承受工作压力所出现的心理不适。

根据上述定义，下列属于假期综合症的是（ ）。

- A. 小李从印度归来之后，领略到新的人生价值，立即辞去了工作
- B. 小王假期里吃坏了肚子，结果上班后不想吃午饭
- C. 小张国庆节去爬黄山，假后上班总感觉腰酸腿疼
- D. 小赵春节玩得很尽兴，上班后却总是心不在焉

3. 教师专业发展是指教师作为专业人员，在专业思想、专业知识、专业能力等方面不断发展和完善的过程，即是从专业新手到专家型教师乃至教育家的成长过程。

根据上述定义，下列不属于教师专业发展的是（ ）。

- A. 某山区小学语文教研组教师通过校本研训的方式开展课题研究
- B. 张老师每节课都要写教学反思，总结自己的课程教学的优劣
- C. 教数学的王老师每天都会花时间在網上浏览新闻，了解最新的时尚资讯
- D. 张老师听师德报告会后，立志做一名贡献型教师

4. 同类群体影响力是指人们对他人（尤其是类似群体）的行为总会做出某种反应；类似程度越高，影响力就越大。比如对某种良好行为规范大力宣传，往往会成为所谓的“磁

心”，吸引人们效仿。

下列做法中不会带来同类群体影响力的是（ ）。

- A. 老师在墙报上贴上红五星，表扬那些完成作业好、守纪律的小学生
 - B. 酒店在房间内放置标语，提醒客人大多数客人都不是每天要更换毛巾
 - C. 某自然保护区设置告示牌，告知偷盗林木者将受到高出林木价钱 10 倍的罚款
 - D. 某市告知那些用水量高的用户，他们的用水量明显高出了周围的邻居
5. 娱乐体育是指人们在余暇时间进行的一种娱乐性极强的身体活动，它既是一种娱乐手段，又是一种身体锻炼的手段。

根据上述定义，下列不属于娱乐体育的一项是（ ）。

- A. 几年来，某地每年举办国际风筝节，每次都举行放风筝比赛
- B. 为了吸引更多的游客，某新建公园举办了一次大型钓鱼比赛
- C. 北京奥运会前夕，不少单位组织员工进行了拔河比赛
- D. 为了促进中国篮球事业发展，中国篮协每年都举办 CBA 比赛

6. 印象管理是指，一个人通过一定的方式影响别人形成的对自己的印象的过程，它是自我调节的一个重要方面，也包括了与他人的社会互动，是自我认识观点的核心。人类的一种基本动机是不论个体在组织内部还是组织外部，都渴望被别人积极看待，避免被别人消极看待，试图使别人积极看待自己的努力叫获得性印象管理，而尽可能弱化自己的不足或避免使别人消极地看待自己的防御性措施是保护性印象管理。

下列属于获得性印象管理的是（ ）。

- A. 小周没有谈过恋爱，但在大学宿舍对室友说，以前有好几个女生喜欢他
 - B. 汪经理在董事长面前总是表示自己见识浅薄，还需董事长多多指教，以提高自身能力
 - C. 公司领导分配老陈一项任务，老陈很久没有完成，在领导督促他时，他说：“这段时间很忙，会尽力完成。”
 - D. 小徐新来单位，对几个老员工的意见总是虚心接受，并常常表示作为新人很佩服他们
7. 典型调查是在调查对象中有意识地选取若干具有典型意义或代表性的单位进行的调查。

根据上述定义，下列属于典型调查的是（ ）。

- A. 某企业对一批产品的质量进行调查，选取 30 件产品
 - B. 某班级对全班 50 名学生进行网购调查
 - C. 对某行业内业绩领先、市场份额大的某企业进行调查
 - D. 对某市场营业额占全市 80% 的 5 个超市进行调查
8. 安慰剂效应，又称假药效应，指的是病人虽然没有获得有效的治疗，但却“预料”

或“相信”治疗有效，而使病患症状得到舒缓的现象。

下列属于安慰剂效应的一项是（ ）。

- A. 牙痛患者一进牙医诊所，就感觉牙痛好多了
- B. 老钱被医院检查出了癌症，几个月后死亡，后来发现是误诊，其实老钱并没有得癌症

- C. 小马得了流行性感冒，没有吃药，在家休息了两天后，流感就好了
- D. 某公司采纳了专家的意见对公司制度进行改革后，改变了亏损的局面

9. 绿色设计是指在整个产品周期内，着重考虑产品的环境属性，如可拆卸性、可回收性、可维护性、可重复利用性等，并将其作为设计目标，在满足环境保护条件的同时，保证产品的质量达到最优状态。

根据上述定义，下列选项符合绿色设计理念的是（ ）。

- A. 设计师巧妙的将口香糖瓶子底部设计成一个临时储存空间
 - B. 某化学品公司将健康环保作为公司重要的价值观
 - C. 现在装修流行使用绿色产品进行家装
 - D. 某学校将教室背景设计为浅绿色来保护孩子们的眼睛
10. 演绎，是从某些一般规律性出发，并将其运用于特殊事件。

下列哪个属于演绎（ ）。

- A. 孙华比王刚高，王刚比李健高，因此孙华比李健高
- B. 北方人比南方人的身材高大，这是生活条件差异造成的
- C. 市场比集市大，集市比市场小
- D. 发达国家的人均 GDP 都高于中国，加拿大是发达国家，所以加拿大的人均 GDP 也高于中国

11. 暴力慈善是一种慈善的暴力行为，以牺牲受赠人的尊严来获得自己的满足，暴力慈善是对高调行善行事方式的一种概括。

根据上述定义，下列现象中不属于暴力慈善的是（ ）。

- A. 公司领导以命令的方式要求员工捐款
- B. 用巨额捐款现金垒成人民币墙并进行展示
- C. 敲锣打鼓向养老院送现金红包
- D. 向每名受赠者鞠躬送现金红包

12. 一体化走廊管理指的是政府通过集中改善城市中若干条交通干道的基础设施、公共交通服务或公共交通管理方式，来提高所有出行者的出行速度、出行可靠性以及安全性。

根据上述定义，下列属于一体化走廊管理的是（ ）。

- A. 某市加大对高峰期出租车拒载行为的处罚力度
- B. 某市在市区交通主干道设置公共自行车租赁点
- C. 某市出台政策鼓励民营资本承包公交主干线路
- D. 某市在市区干道十字路口设置新型交通摄像头

13. 夫妻共同债务是指为满足夫妻共同生活需要所负的债务。包括夫妻双方共同签字或者夫妻一方事后追认等共同意思表示所负的债务；夫妻一方在婚姻关系存续期间以个人名义为家庭日常生活所负的债务。

根据上述定义，下列不属于夫妻共同债务的是（ ）。

- A. 夫妻双方共同签字向银行贷款 30 万元用于丈夫公司的经营，但夫妻私下约定由丈夫个人负担这笔债务
- B. 妻子未经丈夫同意，以个人名义借款 5 万元资助自己生病的侄儿作医药费
- C. 丈夫未经妻子同意，以个人名义借款 10 万元从事经营活动，但其收入用于家庭生活开销
- D. 结婚前，丈夫以个人名义借款 50 万元购买婚房，婚后妻子公开表示愿意共同偿还这笔债务

14. 次文化是指在某个族群中不占主导地位，拥有不同行为和信仰的较小文化，或只有少数成员认同的价值观及所采取的行为方式，亦称为亚文化。

根据上述定义，下列选项在其所限定年代中属于次文化的是（ ）。

- A. 宋朝的儒家思想
- B. 元代的戏曲艺术
- C. 当代社会尊老爱幼的传统
- D. 2002年后网络兴起的火星文

15. 行政征收是指行政机关或者法定授权的组织根据法律、法规的规定，向公民、法人或者其他组织无偿收取一定财物的行政行为。行政征收须以公民、法人或者其他组织负有行政法上的缴纳义务为前提，其实质是国家以强制方式无偿取得管理相对人一定财产所有权。

以下不属于行政征收的是（ ）。

- A. 收取非法财物
- B. 收取排污水费
- C. 收取港口建设费
- D. 收取水资源费

16. 行政处理，是行政主体为了实现相应法律、法规和规章确定的行政管理目标和任务，应行政相对人申请或依职权处理涉及特定行政相对人特定权利义务事项的具体行政行为。所谓行政相对人是指在行政法律关系中与行政主体相对应的另一当事人。

根据上述定义，下列行为属于行政处理的是（ ）。

- A. 中央作出开发西部的战略部署
- B. 全国人大提出修改《婚姻法》
- C. 行政机关主持的对特定纠纷进行的诉讼外调解
- D. 公安机关逮捕犯罪人员

17. 不正当竞争是指经营者违反《反不正当竞争法》的规定，损害其他经营者的合法权益，扰乱社会经济秩序的行为。所谓经营者是指从事商品经营或盈利性服务的法人。

根据上述定义，下列不属于不正当竞争行为的是（ ）。

- A. 某地下工厂生产出来的劣质酒贴上名牌酒的商标出售
- B. 某厂采用先进技术，降低成本后降低价格以占据有利的市场地位
- C. 某公司盗取同行的商业秘密，事先准备好与其竞争的策略
- D. 微软将它的浏览器与 Windows 操作系统捆绑在一起销售

18. 凯恩斯主义是主张国家采用扩张性的经济政策，通过增加需求促进经济增长，即扩大政府开支，实行财政赤字、刺激经济、维持繁荣的经济理论。

下列属于凯恩斯主义的是（ ）。

- A. 甲国制定一系列的政策吸引外资，提高国内的外资比例
- B. 乙国为了繁荣经济，大量投资基础设施，增加内需
- C. 丙国为了促进经济的发展，集中大量的人力物力实施对外侵略
- D. 丁国制定全方位的经济策略，对经济发展全力以赴

19. 复合偏义是一种修辞手法，是把两个意义相对相反的词组合在一起，但在表义上只让一个词起作用，另一个词并不表义，仅仅是一种陪衬。

根据上述定义，下列划线词语没有使用复合偏义这种修辞手法的是（ ）。

- A. 《汉书法志》：“爪牙不足以供耆（嗜）欲，趋走不足以避利害。”
- B. 杜甫《草堂》：“旧犬喜我归，低徊入衣裾。”
- C. 苏轼《石钟山记》：“则山下皆石穴罅，不知其浅深。”
- D. 《玉台新咏诗为焦仲卿妻作》：“昼夜勤作息，伶俜萦苦辛。”

20. 偏见是指人们以不正确或不充分的信息为根据而形成的对他人或群体的片面的乃至错误的看法。歧视是指对特定群体或个人抱有负面态度，因某个人是某特定群体或社会类别中的成员而对个体实行不公正的、负面的或伤害性的区别对待。

根据上述定义，下列属于歧视的是（ ）。

- A. 张老师认为学习成绩不好的同学，能力都有限
- B. 晓雨今天上课迟到，小华因此认为晓雨是个没有时间观念的人
- C. 某公司认为女员工精力有限，因此拒绝了张女士的入职申请
- D. 同事们都认为小王不讲卫生而远离他，小李也因此不愿意跟小王一起值夜班

21. 创伤后应激障碍是一种极度的灾难的持续效果，即经历了创伤以后，出现的持续的、不必要的、无法控制的障碍。

根据以上定义，下列不属于创伤后应激障碍的是（ ）。

- A. 从伊拉克战场回来的美国兵，大多患上了失眠、焦虑甚至严重的精神疾病
- B. 扬扬小时候在邻居张阿姨家被狗咬过一口，从此再也不想去张阿姨家了
- C. 小张曾经被困在电梯里五个多小时，当时感觉自己没救了，最后化险为夷，但从此

小张常常做被困在电梯里的梦，而且以后再也不敢乘坐电梯了

D. 目睹了儿子阿毛被野兽叼走的一幕，失魂落魄的祥林嫂见了人就说：“我真傻，真的我不知道下雪的时候，野兽在山坳里没有食吃，会到村里来，我不知道春天也会有

22. 逃避条件作用是指当有机体不喜欢或者不想面对情景出现时，有机体做出逃避的选择和行为。

根据上述定义，下列属于逃避条件作用的是（ ）。

- A. 街上看见发传单的绕道走开
- B. 英语不好不敢出国
- C. 因为肥胖不去参加同学聚会
- D. 爱屋及乌

23. 网络谣言是指通过网络介质（例如邮箱、聊天软件、社交网络、网络论坛等）而传播的没有事实依据带有攻击性、目的性的话语。主要涉及突发事件、公共领域、名人要员、颠覆传统、离经叛道等内容。谣言传播具有突发性且流传速度极快，因此对正常的社会秩序易造成不良的影响。

根据上述定义，下列选项中属于网络谣言的是（ ）。

- A. 很多群众都在浏览各大网站媒体关于三鹿奶粉中含有三聚氰胺的新闻
- B. 近日在某单位内部，一直流传某科长被逮捕入狱的消息，造成不好的影响
- C. 小王在微博上发布玉树将于1个月后发生8级地震的消息，被上万人浏览，引起了民众恐慌
- D. 某微博爆出《某县因大雨造成柑橘滞销，果农地里痛哭》的新闻，很多善心人通过各种方式购买该地柑橘，而后来发现该县并未有大雨天气

24. 共情是指能设身处地体验他人的处境，对他人情绪情感具备感受力或理解力。

下列属于共情的是（ ）。

- A. 己所不欲，勿施于人
- B. 先天下之忧而忧，后天下之乐而乐
- C. 纸上得来终觉浅，绝知此事要躬行
- D. 老吾老以及人之老，幼吾幼以及人之幼

25. 互联网+指的是互联网+各个传统行业。但这并不是简单的两者相加，而是利用信息

通信技术以及互联网平台，让互联网与传统行业进行深度融合，创造新的发展生态。

根据上述定义，下列哪项最能体现互联网+（ ）。

A. 某景区建设旅游服务云平台，市民只要在景区门口扫一扫二维码，即可实现支付。

购票后，云平台还能进行智能线路推送

B. 某办公室重新购置了一批智能化办公设备，极大地提高了办公效率，并且基本实现了无纸化办公

C. 某公司全面引进机器人生产技术，在偌大的自动化生产线上，没有工作人员值守，只有机械手臂和自动传输带不停地在生产线上运转

D. “网络数据分析师”小王通过数据分析，了解游戏受欢迎程度、需求期待和广告收益等，让精准营销成为可能

26. 画饼充饥常比喻用空想来安慰自己或用来欺骗别人。望梅止渴通常比喻愿望无法实现，用空想安慰自己。

根据上述定义，下列属于望梅止渴的是（ ）。

A. 落榜生小张常想象自己在大学校园上课

B. 小黄向家里人保证来年找个月入过万的工作

C. 小利经常通过看书，徜徉在广阔的知识海洋

D. 小唐对朋友说，要对自己公司上市抱有信心

27. 自我设限：是指个体针对可能到来的失败威胁，事先设置障碍，为失败创造一个合理的借口，从而保护自我价值，维护自我形象。

根据上述定义，下列属于自我设限的是（ ）。

A. 小王即将参加某公司的面试，但总觉得自己无法通过，面试的前一天，他因为突然生病被送进了医院，错过了这次面试

B. 小周和小田一起竞选班长。小田跟朋友说，小周学习好，人缘也好，还在学生社团担任干部，老师都比较喜欢他，自己估计没戏了，最后果然小周当选了班长

C. 小李毕业后进入保险公司做销售代理，第一个月没有签订一单合同。他解释是因为受全球金融危机的影响，市场行情很不好

D. 小明的语文成绩在班上一直名列前茅，每次考试前他都和同学说，自己状态不好肯定会考砸，但他的成绩都在前三名之内

28. 地缘政治学：是地理和政治的结合体，又称地理政治学。它关注地理学对国际政治的特征、历史、结构尤其是与外国关系的影响，把地理因素视为影响甚至决定国家对外政治决策的一个基本因素，并依据这些地理因素和政治格局的地域形成，分析预测世界或地区范围的战略形势及有关国家的政治行为。

根据上述定义，下列不属于地缘政治学观点的是（ ）。

- A. 德国海陆兼备，具有争夺世界霸主地位的有利条件
- B. 一个国家要想发展“海权”，首先必须在地理上便于进入世界的海洋
- C. 谁统治东欧，谁就控制了心脏地带
- D. 文明冲突将左右全球政治，文明之间的断层线将成为未来的战斗线

29. 偏见是指人们以不正确或不充分的信息为根据而形成的对他人或群体的片面的乃至错误的看法。歧视是指对特定群体或个人抱有负面态度，因某个人是某特定群体或社会类别中的成员而对个体实行不公正的、负面的或伤害性的区别对待。

根据上述定义，下列属于歧视的是（ ）。

- A. 张老师认为学习成绩不好的同学，能力都有限
- B. 晓雨今天上课迟到，小华因此认为晓雨是个没有时间观念的人
- C. 某公司认为女员工精力有限，因此拒绝了张女士的入职申请
- D. 同事们都认为小王不讲卫生而远离他，小李也因此不愿意跟小王一起值夜班

30. 抽象行政行为是指行政机关针对不特定的对象作出的具有普遍约束力的决定和命令的行为。

根据上述定义，下列属于抽象行政行为的是（ ）。

- A. 某市政府出台了车辆按尾号限行的交管措施
- B. 天然气公司规定，凡要安装天然气的用户必须购买“天飞”牌灶具
- C. 某夜，交警部门集中整治醉酒驾车，对几十名司机进行了处罚
- D. 某市规划局批准某房地产开发公司建造商品房

31. 应激性是指生物对外界刺激所发生的反应，是生物趋利避害的一种措施，也是生物的基本特征之一。

以下属于应激性的是（ ）。

- A. 鞭炮点然后发生爆炸，灰飞烟灭

- B. 湖水中扔入石头泛起波澜
- C. 手碰到燃烧的蜡烛马上缩回
- D. 铁钉放置在潮湿环境中生锈

32. 产权是指主体对物的排他性权利,它的本质是人们在社会生产中发生的对劳动成果的权利。

根据以上定义,下列不属于产权的是()。

- A. 所有权、占有权
- B. 收益权、转让权
- C. 劳动选择权、劳动交换转让权
- D. 支配权、使用权

33. 行政许可:是指行政机关根据公民、法人或者其他组织的申请,经依法审查,准其从事特定活动的行为。

根据上述定义,下列属于行政许可的是()。

- A. 甲省政府批准了某市政府提交的土地征收申报材料
- B. 乙公司任命孙强为全权代表,让其负责与外方的业务洽谈
- C. 丙工商局根据某学校食堂的申请向其颁发了营业执照
- D. 丁公安局根据某犯罪嫌疑人的申请同意其取保候审

34. 机会成本:是指同一经济主体在从事某项经济活动时面临多项决策,如果所选择的决策不是价值最大的,那么价值最大的决策与所选择决策之间的差额就是机会成本。

根据上述定义,下列对机会成本理解正确的是()。

- A. 小赵如果将旧书卖给收报纸的将得到 50 元,但是他将书以 20 元的价格卖给了宿舍管理员,他付出了机会成本 30 元
- B. 小庄有闲钱 1 万元,他投资了股票,结果损失 2000 元;如果他投资期货,将获利 1000 元,为此他付出了 8000 元的机会成本
- C. 小贾、小郑如果在甲公司工作,将获得 5 万年薪;如果在乙公司工作,将获得 4 万年薪;如果在丙公司工作,将获得 3 万年薪。结果,小贾选择了乙公司,小郑选择了丙公司,他们付出了相同的机会成本
- D. 小王如果将汽车卖给小李,将得款 12 万元;如果将汽车卖给小明,将得款 10 万元。

结果他将车卖给了小李，他赢得2万元机会成本

35. 组织中的公民行为是在组织正式的薪酬体系中尚未得到明确的或直接的确认，但就整体而言有益于组织整体运转成效的行为总和。

下列事件中，属于组织中的公民行为的是（ ）。

- A. 节约公司资源，提高工作效率
- B. 扶危济困，帮助一切需要帮助的人
- C. 员工参与社会公益活动，提升公司形象
- D. 董事长罢免总经理，废止后者推行的“新政”

36. 票据权利，也称票据上的权利，指持票人对汇票承兑人、本票发票人和支票保持人等付款义务经提示票据，行使请求支付票据金额的权利，以及在不获付款、不获承兑或其他有到期日不获付款的情况下行使追票的权利。

下列权限不属于票据权利的是（ ）。

- A. 持票人提示票据，要求汇票承兑人给予付款的期限要求权
- B. 持票人提示票据，要求支票保持人行使支付款项的权利
- C. 持票人在没有得到发票人同意的情况下，独自更改票据的权利
- D. 持票人在没有获得应有付款时，在规定时效内追索的权利

37. 土壤是岩石在风化作用下破碎，物理化学性质改变后形成结构疏松的风化壳，风化壳在气候与生物的作用下，经历很长时间形成的地表物质。与土壤自然形成过程无关的外来物质被称为土壤侵入体。

根据上述定义，下列属于土壤侵入体的是（ ）。

- A. 戈壁滩中大量的沙砾
- B. 河床上存在的大量鹅卵石
- C. 考古发掘中挖出的砖瓦
- D. 岩缝中生长的野草

38. 概念是人脑对客观事物的本质特征的认识，事物的本质特征是决定事物的性质，并使一事物区别于其他事物的特征。根据概念所包含的属性的抽象与概括程度，概念可分为具体概念和抽象概念。按事物的指认属性形成的概念称为具体概念，按事物的内在、本质属性形成的概念称为抽象概念。

下列哪项是抽象概念（ ）。

- A. 香蕉和木棒都是长形的，而球和西瓜都是圆形的
- B. 香蕉和西瓜都是水果，白菜和土豆都是蔬菜
- C. 巧克力和土地都是棕色的，雪和面粉都是白色的
- D. 冰和雪都是冷的，火和血液都是热的

39. 次生丑闻：指某地或某人曝出某个丑闻后，又连续牵出的其他丑闻。

下列不属于次生丑闻的是（ ）。

- A. 某市一官员的“艳照门”传得沸沸扬扬，记者在其政府网站上核查该官员履历时，意外发现网上其他领导的视察照片居然有不少是PS的
- B. 在会场上抽天价香烟的某官员被曝光停职后，网民们继续搜索，很快发现他名下有多套来源不明的房产
- C. 新华社一篇题为《看似有隐情，其实真忽悠——盘点那些曾经的“官谣”》的文章，梳理了近年来各地出现的“官谣”案例
- D. 故宫失窃案见诸报端后，由于故宫方面应对不当，“失窃门”又牵出了“错字门”、“会所门”、“瞒报门”

40. 首因效应：在记忆或社会知觉中，最先出现的信息往往记得牢固和准确或给个体留下的印象最鲜明深刻。

下列属于首因效应的一项是（ ）。

- A. 戴立对班主任记忆最深的就是初次见面时他的微笑，尽管以后班主任也经常面带微笑，但总不及初次见面时那么迷人
- B. 周平发现人力资源部王经理待人特别热情和真诚，回家后他就不停地向家人说王经理如何好
- C. 两位小学同学分别三十年后偶然相遇，不约而同都说到了小学毕业典礼上的相互叙别的情形
- D. 老李最近常常只记得手头的事而记不起过去发生的事

41. 好意施惠是指当事人之间无意设定法律上的权利义务关系，而由当事人一方基于良好的道德风尚实施的使另一方受恩惠的关系。

下列不属于好意施惠关系的是（ ）。

- A. 甲看到行动不便的盲人乙在过马路，主动过去帮助乙通过了马路
- B. 丙驾驶摩托车经过丁婆婆身边，主动询问是否需要帮助，然后把丁婆婆送到了目的地而未收取费用
- C. 吴某在其便利店中帮人收取快递并保管三天，收取 1 元的手续费
- D. 何某看到邻居张某离开家没有锁门，于是帮张某把门锁好
42. 赌博：是指以营利为目的，以财物为赌注比输赢，达到非法转移财物所有权的一种行为

根据如上定义，以下属于赌博的一项是（ ）。

- A. 甲公司与球迷们商定：若巴西赢球公司赔球迷们 100 万，若巴西输球则球迷们赔公司 100 万
- B. 公安机关悬赏：公民如抓获拐卖儿童的犯罪嫌疑人给赏金 5 万元
- C. 甲乙双方在合同中约定：乙方按期完成工程就奖励 100 万元，延期完工则每天缴纳 4 万元误工费
- D. 卖主与买主商定：若这幅字画为赝品，卖主赔 10 倍价钱

43. 表见代理是行为人虽无代理权，但由于被代理人的行为，造成了使善意第三人相信其有代理权的表象，而与善意第三人进行的交易，由被代理人承担法律后果的代理行为。

以下哪项行为不存在表见代理（ ）。

- A. 汤某为车队司机，多次为单位收购汽油，月底单位支付，后汤某调换到行政岗，仍旧以单位名义给自己加油，油站不知情仍旧为其加油，结果在向单位收取油费时，单位拒绝支付
- B. 陆某是具有房屋产权所有权人，去年 5 月其儿子拿着他的印章、身份证、产权证等证件，找中介进行联系销售，后与徐某进行签约过户，但当徐某入住时，陆某以其不知情为由，要求撤销买卖合同
- C. 某商场业务员郑某，多次代表商场到甲公司进行采购空调设备，一次郑某见甲公司生产的暖风机小巧实用，进行采购，商场知道后认为郑某自作主张，其有权拒绝为其行为负责，而拒绝付款
- D. 张媛的弟弟张力在某基金储蓄部任副主任，张媛口头委托张力在其基金会进行八笔存款共三十万，张力每次存款均以张媛的名字，后来擅自以张媛的名义取出了十三万现金

44. 通感：在描述客观事物时，用形象的语言使感觉转移，将人的听觉、视觉、嗅觉、味觉、触觉等不同感觉沟通交错，挪移转换的修辞方法。

下列描述使用通感的是（ ）。

- A. 在中国共产党领导下，中国人民用小米加步枪，打垮了反动派
- B. 农民们都说：看见这样鲜绿的苗，就可以推断今年是丰收年
- C. 方某觉得女友不笑的时候，脸上似乎还留着笑容，像音乐停止后空中袅袅的余音
- D. 几千双眼睛都盯着你，就等着看你笑话了

45. 相符行为是指个人的行为与他人的行为和意志相符合、一致或相似的现象。相符行为通常包括三种情况：第一，人们出于适应社会生活环境的需要而遵守共同的社会规范，产生相似行为，以便使社会生活能正常进行；第二，相似的文化背景和社会化过程促使人们产生相似的行为；第三，人际交往中双方心理的相互影响，也导致相符行为。

根据上述定义，下列选项不属于相符行为的是（ ）。

- A. 某高校毕业生大多愿意到大型国有企业工作
- B. 双胞胎失散多年，但见面时仍可以一眼认出
- C. 两辆汽车在闹市区刮擦，路上行人驻足围观
- D. 某设计院建筑师设计的作品都有相似的风格

46. 初级群体指的是由面对面互动所形成的、具有亲密的人际关系和浓厚的感情色彩的社会群体；次级群体指的是其成员为了某种特定的目标集合在一起，通过明确的规章制度结成正规关系的社会群体。

根据上述定义，下列涉及次级群体的是（ ）。

- A. 亲友团来到比赛现场为小李助威
- B. 小赵要到大城市上学了，山里的乡亲们都到村口为他送行
- C. 小王考上了研究生，公司的同事一起为他庆贺
- D. 20年之后，小张儿时的玩伴建立了一个微信群

47. 范围经济是由厂商的经营范围而非规模带来的经济，是指同时生产两种产品的费用低于分别生产每种产品的费用的经济现象。

根据上述定义，下列属于范围经济的是（ ）。

- A. 某家具生产厂家实行桌子与衣柜合并生产后，相同的生产过程使成本有效降低

B. 某啤酒制造厂收购了一个经营亏损的小型啤酒厂, 生产线扩大后原料采购成本降低, 两个厂区啤酒的生产效益均有提高

C. 因为市场需求扩大, 布鞋和鞋垫的手工作坊式生产逐渐被机器生产取代, 生产成本大幅下降

D. 某奶制品厂实行奶酪与酸奶一起生产后, 二者的生产工艺相互借鉴, 产品改良, 销量大增

48. 消费者主权理论又称为顾客主导型经济模式, 即消费者根据自己意思和偏好到市场上购买所需商品和服务, 这样消费者意思和偏好等信息就通过市场传达给了生产者, 于是生产者根据消费者的消费行为所反馈回来的信息来安排生产, 提供消费者所需的商品和服务。

根据上述定义, 下列体现消费者主权的是 ()。

- A. 智能电视因生产成本降低而降价, 销量因此大增
- B. 某运动饮料厂家通过向市场投放广告, 产品销量大增
- C. 随着空气污染加剧, 市场上出现各种品牌的具有防霾功能的口罩
- D. 政府公布公务员差旅住宿价格标准, 各地酒店纷纷设置与之对应的客房

49. 拍卖: 委托人将物品委托专门机构竞价销售, 专门机构在完成委托义务后获得报酬的行为。

以下属于拍卖行为的是 ()。

- A. 老王收藏的晚清时期的瓷器, 寄放在开古董店的老李那里, 请他找个好价钱脱手
- B. 拍卖师林清陪朋友刘峰到二手房交易市场, 将刘峰的别墅卖得高价, 刘峰拿出 5000 元作为酬谢
- C. 金城拍卖公司接受某公司的请求, 将一部八成新的桑塔纳轿车买下, 以便业务人员出差
- D. 法院判决王某犯有贪污受贿罪, 判处有期徒刑 10 年, 对其非法财产予以没收, 指定拍卖公司拍卖, 所得款项上缴国库

50. 众包, 是指公司或者机构把原来由员工执行的工作任务, 以自愿的形式外包给非特定大众网络的一种合作模式。

根据上述定义, 下列属于众包的是 ()。

A. 以系统研发为核心竞争力的软件公司 M, 雇用了另一家网站开发实力较强的 H 公司, 为自己公司进行网络架构

B. 美国芝加哥的某 T 恤公司拥有一个庞大的 T 恤爱好者网络社区, 每天都会收到不同爱好者发来的大量交流信息

C. 某公司面向网络平台上的广大汽车爱好者, 募集合作者, 专门为公司研发的一款新型概念车进行功能定义和命名

D. 高校教师小王为了参加一场业余模特大赛, 通过微信联系了高中同学小丽, 请她帮忙设计了一套漂亮的参赛服装

51. 增强现实技术是一种实时地计算摄影机影像的位置及角度并加上相应图像的技术, 这种技术的目标是在屏幕上把虚拟世界套在现实世界并进行互动。

下列属于增强现实技术的是 ()。

A. 利用虚拟人体学习解剖

B. 部队官兵利用虚拟战场系统训练协同作战

C. 利用投影仪将电脑显示的内容投放至幕布

D. 文物遗址上残缺部分的虚拟重构

52. 学习障碍, 是指因精神心理功能异常而呈现出注意、记忆、理解、推理、表达能力有显著问题, 从而使儿童无法正常获得学习技能、以致在听、说、读、写、算等学习上出现显著困难。这种障碍并非因感官、智能、情绪等障碍因素或文化刺激不足、教学不当等环境因素所直接造成的。

根据以上定义, 下列属于学习障碍的是 ()。

A. 10 岁的李明原本成绩较好, 但转学后, 由于知识储备较少, 听课困难, 成绩大幅度下降

B. 小阳一直学习成绩较好, 但一次数学考试中出现失误, 老师对其严厉批评, 导致其丧失信心, 成绩一路下滑

C. 一年级的王小王, 在算术学习方面特别困难, 怎么教也教不会

D. 张老师发现他班上有个同学上课时坐立不安, 无法长时间坐在座位上, 但其成绩较好

53. 边民互市贸易是指, 边境区边民在我国陆路边境 20 公里以内, 经政府的批准开放

点或指定的集市上，在不超过规定的金额或数量范围内进行的商品交换活动。

下列各项中最有可能属于边民互市贸易的是（ ）。

A. 家住四川的小李到北方旅游，在离中俄边境很近的俄罗斯境内购买了一些漂亮的但是价值并不高的俄罗斯民间艺术品

B. 胡某是越南人，生活在越中边境地区的越南境内，虽然家境不是很富裕，但是每天他都会步行二十分钟越过国境线到中国境内买他喜欢吃的中国美食

C. 在我国跟尼泊尔的边境方圆不超过 20 公里范围内的两国的外贸公司之间总是进行着一些小额贸易

D. 中国的工业产品在缅甸非常受欢迎，中国某公司生产的摩托车行销缅甸全国

54. 再社会化指的是正常的社会化中断或失败后重新开始的社会化过程。特点是全面、迅速地改变原有的思想、价值体系和生活方式，接受新的社会化内容。

根据上述定义，以下哪项涉及再社会化（ ）。

A. 退休后的老王报名进了老年大学，开始系统学习书法

B. 移居中国的史密斯夫妇随着时间的推移，越来越喜欢中国文化了

C. 工作多年的王某考上了研究生，重新走进校园，他有种重回故里的感觉

D. 小刘因盗窃财物被送进了少管所，出来后他改过自新，自食其力

55. 定金是指合同当事人为了确保合同的履行，依据法律规定或者当事人双方的约定，由当事人一方在合同订立时，或订立后、履行前，按合同标的额的一定比例，预先给付对方当事人的金钱或其他代替物。

以下属于定金的是（ ）。

A. 甲与乙（房东）于 6 月 5 日签定租房协议（月租金 500 元），该协议将于 6 月 10 日生效。乙要求甲先交 100 元钱，如甲不能履行合同，将不予退还

B. 小张今年考入大学，通知书上写明：须先缴纳学费 5000 元，才能办理入学手续

C. 甲欲向乙借款 1000 元，甲的好友丙将自己价值 1000 元的相机留给乙作为担保

D. 小王近日签订了一份购房合同，在合同条款中规定，首付 10 万现金，剩余 10 万于办理产权证书时一并交清

56. 内感性不适是感觉障碍的一种，它是指躯体内部产生的各种不适感和难以忍受的异样感觉，如牵拉、挤压、游走、蚁爬感等。与内脏性幻觉不同，患者不能明确指出具体不

适的部位，多见于精神症、精神分裂症、抑郁状态和脑外伤后精神障碍。

下列哪项属于内感性不适（ ）。

A. 一位刚做完手术还未从麻醉中彻底苏醒的患者，把塑料管看成了一条蛇，于是拼命躲避，并试图拔掉

B. 某精神分裂症患者感觉到自己的胃先是被大火灼伤，又被很多针穿了孔

C. 某抑郁症患者感觉眼花，声音变得十分低而且遥远，周围环境的颜色变得模糊不清

D. 某精神症患者感觉到身体内部仿佛有气在四处游窜，但却不能指出具体是哪里感觉不舒服

57. 旁观者效应又称责任分散效应，是指在紧急事件中由于有他人在场而产生的对救助行为的抑制作用。

根据上述定义，下列情形符合旁观者效应的是（ ）。

A. 公路上发生货车侧翻，大家纷纷帮助货车司机小杨保护货物防止哄抢

B. 路上偶遇行人跌倒，小李见周围无人见证怕承担责任不敢帮助

C. 超市附近突发火灾，小张催促其妻报警，其妻回答别人肯定已经报警了

D. 海边有人落水，救生员小王边跑边喊，提醒围观群众不要随意下水施救

58. 法人是指具有民事权利能力和民事行为能力，依法独立享有民事权利、承担民事义务的组织。法人需要具备四个条件：必须依法成立；必须有自主经营的财产；必须有明确的组织机构、名称和场所；必须能够独立地承担民事责任。

根据上述定义，下列属于法人的是（ ）。

A. 山西省军区

B. 国营百货大楼

C. 中国人民大学文学院

D. 省高教自考办公室

59. 著名科学家、科学史家普赖斯提出：如果K代表参与某一专业领域的人数，那么这个数字的平方根大致等于为这个领域做出一半贡献的排名在前的那部分人的人数。

根据上述定义，下列符合普赖斯观点的是（ ）。

A. 某组织统计过去一年全世界公开举办的音乐会的演奏曲目，发现所有演奏曲目是由大约250位作曲家完成的，其中大约一半的曲目来自于16位作曲家

B. 某国出版协会统计了本国的期刊，发现与经济有关的期刊大约有 150 种，所有与经济有关的科研论文中，有一半发表在其中的 13 种期刊上

C. 某县具有 20 万农业人口，统计发现，过去一年全县的粮食总产量中，大约一半粮食产量是由 450 位左右的种粮大户贡献的

D. 某销售奢侈品的网店过去一年的访问量为 10 万人次，但去年全部的销售额中，大约一半的销售额是由其中大约 300 位固定客户提供的

60. 同辈压力：是指同辈人互相比较中产生的心理压力，一个同辈人团体对个人施加影响，会促使个人改变其态度、价值观或行为以遵守团体准则。

根据上述定义，下列属于同辈压力的是（ ）。

- A. 领导对下属的批评
- B. 同事间的关系调处
- C. 年轻人的穿戴攀比
- D. 部门间的业务比赛

61. 野生动植物，是指自身或上代亲本来自野生环境，或虽然由人工繁殖或人工栽培所获但仍需要不定期地引入野外个体基因的动物或植物。

根据上述定义，下列属于野生动植物的是（ ）。

- A. 近期在某大熊猫保护基地出生的熊猫幼崽“平平”，其父母都是该基地人工繁殖的二代熊猫
- B. 科学家进行了大量培植实验，成功得到冬虫夏草，即野生冬虫夏草的理想替代品
- C. 环保工作者去野外寻找野生鳄鱼的卵或者受伤的成年鳄并将其投放到鳄鱼保护区
- D. 人工培育出的二代中华鲟幼年在保护基地中度过，成年阶段被释放到野生环境中

62. 对抗，在生态学中指生活在一起的两种不同种类的生物，一方或双方遭受损害的关系。对抗通常是不同生物为占据同一生态位而产生的结果。可分为侵害、抗生和竞争，一种生物受益而另一种生物遭受损害的属于侵害；一种生物遭受损害而另一种生物不受影响的属于抗生；两种生物相互施加不利影响的属于竞争。

以下属于竞争的是（ ）。

- A. 小菜蛾的天敌蜂把卵产在小菜蛾的幼虫体内。当蜂卵孵化成幼蜂时，幼蜂便会吃掉小菜蛾的幼虫

B. 有种鸟儿常在鳄鱼身上寻找寄生虫，而由于掠食者不敢在鳄鱼身边攻击这些鸟类，使得鸟儿更安全

C. 池塘中如果蝌蚪的密度过大，蝌蚪会分泌一种毒物，限制其他蝌蚪的生长发育，甚至增加其死亡率

D. 萝卜蚜和桃蚜混合饲养达一定密度时，产蚜量均显著下降，但桃蚜产蚜量显著高于萝卜蚜

63. 生物资产是指有生命的动物和植物。而消耗性生物资产是指为了出售而已经持有的或将来收获为农产品的生物资产。

根据上述定义，下列属于消耗性生物资产的是（ ）。

- A. 防风固沙林
- B. 大棚里的蔬菜
- C. 客厅鱼缸里的金鱼
- D. 超市里的牛肉

64. 替代效应是指当某种税的征收或税率变化影响相对价格或相对效益时，人们就选择另一种消费或活动来代替原先的消费或活动。

根据上述定义，下列不涉及替代效应的是（ ）。

- A. 我国加入 WTO 后，不少进口商品的税率降低，人们更多地选购这些商品
- B. 工资累进税率提高后，不少白领阶层选择用休息的方式来代替部分工作时间
- C. 1747 年英国曾征收窗户税，为了避免纳税，多数人纷纷将自家的窗户堵上
- D. 国家开始对工业锅炉烧用的原油征税以后，不少企业纷纷更新设备或改用其他原料

65. 文饰作用，是指人们在受挫折后会想出各种理由原谅自己或为自己的失败辩解的现象。

根据上述定义，下列选项中不属于文饰作用的是（ ）。

- A. 因经常上班迟到挨批后，小肖抱怨糟糕的交通
- B. 小张没被评上教授，他认为自己没有走关系的缘故
- C. 张先生因为丑闻颜面尽失，闭门不出
- D. 因为晚归遭到父母追问，小红推说陪同学上医院看病

66. 说明因果：指就一定的事实说明其中的因果联系。

下列不属于说明因果的是（ ）。

- A. 既然小丘把那么深厚的感情灌注在自己的歌里，小丽她怎么会听不见呢
- B. 物理学的发展，使得人们能够用光谱分析、光度测量等方法研究天体
- C. 小吴之所以没有取得大的成就，是因为他过于骄傲
- D. 一场大病，使得老章不得不提前离开了他心爱的工作岗位

67. 知觉选择性是指人在知觉过程中把知觉对象从背景中区分出来加以优先清晰反应的特性。其中被清晰知觉到的客体叫对象，未被清晰知觉到的客体叫背景。

根据上述定义，下列体现知觉的选择性的是（ ）。

- A. 人们经常把画得不完整的三角形看成是完整的三角形
- B. 在山下看，觉得城市很大；爬上山顶之后再看，觉得城市很小
- C. 外国留学生经常把“拆除”写成“折陈”，把“银行”看成“很行”
- D. 樵夫和猎人看同一张森林照片，樵夫看到很多树木，猎人则看到林间的猎物

68. 抚养比就是需要经济供养的少年与老年人口之和与劳动年龄人口数量之比，反映了劳动力的抚养负担程度。

根据上述定义，以下现象不会增加抚养比的是（ ）。

- A. 婴幼儿死亡率下降
- B. 人均寿命提高
- C. 失业率增加
- D. 退休年龄提前

69. 垂直迁移又称纵向迁移，指处于不同抽象、概括水平的经验之间的相互影响。

下列各项中，体现了垂直迁移的是（ ）。

- A. 汉语拼音的学习影响英语字母的发音
- B. “角”的概念的掌握影响“直角”“平角”等概念的学习
- C. “石”字的学习影响“磊”字的学习
- D. 在学校形成的爱护公物的习惯影响在校外的行为表现

70. 社会公德是指在人类长期社会实践中逐渐形成的、要求每个社会公民在履行社会义务或涉及社会公众利益的活动中应当遵循的道德准则。在本质上是一个国家，一个民族或者一个群体，在历史长河中、在社会实践活动中积淀下来的道德准则、文化观念和思想传

统。

下列不属于社会公德范畴的一项是（ ）。

- A. 小刘是单位公认的好同志，但就是喜欢穿戴新潮的服饰
- B. 小张性格内向不善言语，是个遵纪守法的小伙子
- C. 人人都夸小李是个勤快人，他总是把门前的马路扫得干干净净
- D. 虽然小王不是事事顺心，但总能在别人有急事时伸手相助

71. 微捐是指人们把日积月累、零散攒的钱捐助出去的一种慈善行为。

根据上述定义，下列不属于微捐的是（ ）。

- A. 某店老板在柜台前放了一个零钱捐助箱，每到年底就将箱中的钱捐给红十字会
- B. 小李近 10 年来一直坚持每年献血两次，每次 300 毫升，他觉得这样做很有意义
- C. 大学生小张业余时间做钟点工，所得钱款一部分用来交学费，一部分捐给希望工程
- D. 小毛在某电视台的一次捐助活动中，将积攒多年的 5000 元压岁钱捐了出去

72. 充分条件指的是两个句子的一种关系。如果一个句子真，那么另一个句子必定是真，就称前一个句子是后一个句子的充分条件。

以下哪项中的两个句子，前一个句子是后一个句子的充分条件（ ）。

- A. 存在一个数能被 4 整除，存在一个数能被 2 整除
- B. 地球围绕太阳在旋转，月亮是地球的卫星
- C. 曹操是曹植的父亲，曹丕与曹植是兄弟
- D. 江苏在安徽的东面，上海是一个国际化大都市

73. 反社会人格犯罪是行为人基于反社会型变态人格而实施的犯罪行为。行为人的特点是：①智力和精神上并无明显缺陷，没有妄想或其他思维障碍；②多数有劣迹前科，有多次、多类型的违纪、违法、犯罪行为；③行为冲动、缺乏深思熟虑和明确的动机；④没有悔过和自责的心理，在接受教养或服刑以后仍然照旧违法犯罪，难以自控。

下列选项中行为人精神智力正常，其中最符合反社会人格犯罪特征的是（ ）。

- A. 陈某经常怀疑有人跟踪自己，某天下班后将走在自己后面的李某刺伤
- B. 林某多次上班迟到被领导当众呵斥，林某感觉受辱，将领导打成重伤
- C. 吴某有偷盗前科，某天下班遭遇抢劫，与劫匪搏斗中将劫匪打成残疾
- D. 王某街上闲逛，突然将陌生人郭某连刺两刀，随后将停在路边的汽车砸毁

74. 迁移型归属感是指个体由于空间的移动或加入新的群体、组织而产生的心理上的满足感与安全感。

根据上述定义，下列属于迁移型归属感的是（ ）。

- A. 老王来广州打工后，自己的收入和生活水平有了很大的提高
- B. 小李自入党以来，在感觉到肩负责任的同时，也对社会未来充满了希望
- C. 刘某移民海外后，在激烈的人才竞争环境中凭借自己的学识站稳了脚跟
- D. 小丽与小江结婚，婚后小丽觉得家庭和睦，生活幸福

75. 行政许可，是指在法律一般禁止的情况下，行政主体根据行政相对方的申请，经依法审查，通过颁发许可证、执照等形式，赋予或确认行政相对方从事某种活动的法律资格或法律权利的一种具体行政行为。

根据上述定义，下列不涉及行政许可的是（ ）。

- A. 伦理审查委员会在详细查阅王教授进行人体试验的研究计划之后，认为符合伦理规范，批准该项研究
- B. 临近春节，小李向安全生产监督管理局申请生产经营烟花爆竹并获得批准
- C. 小张从医学院本科毕业之后，参加卫生部医师资格考试，获得医师资格证书之后开始行医
- D. 国家工商总局在对某进口企业的资质进行了审核之后，给予其进口认证

76. 军事上的电子欺骗指的是利用电子设备对己方的相关信息进行伪装或者虚假模拟，欺骗敌方的电子侦察，使敌方对己方部署、作战能力和作战企图等产生错误判断，从而达到迷惑和扰乱敌方的目的。

根据上述定义，下列涉及电子欺骗的是（ ）。

- A. 军事演习时蓝军故意丢失伪造的电子作战地图，佯装泄露己方情报
- B. 某国将无人机藏匿于敌国领空，冒充敌国领导人编制、发布虚假命令
- C. 二战中盟军虚设了一个司令部，用通讯设备源源不断地发送各种“指挥命令”
- D. 驻扎在太平洋小岛的某部为其计算机系统设置了数量庞大的仿真数据库

77. 军事侦察侧重于侦察对象是什么、现在什么状态，是一种主动获取的方式。而军事监视侧重于将会发生什么，具有一定预警功能，是一种相对被动的方式。

根据上述定义，下列属于军事侦察行为的是（ ）。

- A. 某国在网络设备上开启后门搜集情报
- B. 某国间谍在我国驻外使馆安装窃听设备
- C. 某国军机抵近我国沿海军事基地搜集情报
- D. 某国在我国周边地区安装大型远程雷达时刻关注我国军事动向

78. 反映论,是指坚持认识的本质是人脑对客观世界反映的认识论原则,亦即思想是反映存在的理论。

根据上述定义,下列不属于反映论的是()。

- A. “存在就是被感知”
- B. “从物到感觉和思想”
- C. “凡以知,人之性也;可以知,物之理也”
- D. “没有被反映者就没有反映者”

79. 内部行政行为是指行政机关作用于行政系统内部或者本行政机关内部的行政行为,不属于人民法院行政诉讼的受案范围,行政机关工作人员对这类决定不服产生的争议应当向该行政机关或者其上一级机关或监察人事机关提出处理。

根据上述定义,下列各项中属于内部行政行为的是()。

- A. 某高校与食堂员工签订合同,并对工作不合格的员工做出解除劳动合同的决定
- B. 某地人民政府为满足工作需要购进一批电脑,电脑安装后发现存在严重的质量问题,该政府决定向销售商追究其责任
- C. 某市人民政府发布教育发展纲要,要求有关部门加大对中小学服务的教育投入,并加强对中小学的服务力度
- D. 某地中小企业局将当地中小企业的信息网络化,将中小企业的发展需要公布在网上便于随时解决问题

80. 新经济是指在经济全球化和信息技术革命的带动下的一种新的发展模式和增长方式,其基本特征是以信息和新技术为基础的高新科技产业。

根据上述定义,下列属于新经济的一项是()。

- A. 纺织业
- B. 太阳能利用产业
- C. 钢铁制造业

D. 汽车制造业

81. 真理是指客观事物及其规律在人的意识中的正确反映。真理可以分为理性真理和事实真理两种。理性真理指的是具有普遍性和必然性的真理，其反面是不可能的；事实真理指的是具有偶然性的真理，其反面是可能的。

根据上述定义，下列属于理性真理的是（ ）。

A. 月晕而风，础润而雨

B. 如果 a 大于 b 且 b 大于 c，那么 a 大于 c

C. 恩惠要一点点地施舍才具有最大效益

D. 一个人如果违反了法律，就一定会受到法律的制裁

82. 不作为犯罪是指行为人负有实施某种积极行为的特定法律义务，并且能够实行而不实行以致构成犯罪。

根据上述定义，下列说法错误的是（ ）。

A. 卖淫女王某在嫖客李某住处与李某发生性关系，李某心脏病发作，王某扬长而去，之后李某死亡，王某没有救助李某的义务，故不成立不作为犯罪

B. 成年男子张某任由邻居幼女孙某对自己实施猥亵行为而不予制止的，不成立不作为犯罪

C. 出租车司机卢某对男乘客李某在出租车内强奸女乘客王某的行为不予制止的，不成立不作为犯罪

D. 崔某为窗户安装防护栏，之后发现其有散架的可能，而没有采取安全措施，导致行人被坍塌的防护栏砸成重伤的，成立不作为犯罪

83. 调查显示，59.4%的公众感觉当前社会“逆淘汰”现象普遍，其中18.8%的人觉得“非常多”。所谓“逆淘汰”，简言之，即指坏的淘汰好的，劣质的淘汰优质的，平庸的淘汰杰出的等现象。

根据上述定义，下列属于逆淘汰现象的是（ ）。

A. 某公司拥有领先的卫星通话技术，语音质量高，覆盖范围广，但该技术的维持费用高昂，后来该公司入不敷出，宣告破产

B. 市场上某些价格高昂的止咳药疗效实际不如价格低廉的常用药，而事实上常用药所占市场份额较小

C. 许多公司都有对工作发牢骚的人，结果，凡是公司中有对工作发牢骚的人，那家公司一定比没有这种人的公司要成功得多

D. 名牌大学毕业的甲和普通大学毕业的乙同时进入某国际知名公司，但甲始终未获提升，乙却逐渐得到了公司的认可

84. 水体旅游是人们前往水体及周边区域以寻求愉悦为主要目的的一种具有社会、休闲和消费属性的短期经历，目前已逐渐成为人们休闲时尚与区域旅游开发的重要载体。水体旅游资源是指水域（水体）及相关联的岸地、岛屿、林草、建筑等能对人产生吸引力的自然景观和人文景观。

根据上述定义，下列选项不属于水体旅游资源的是（ ）。

A. 武夷山“九曲溪”两旁随处可见历代文人墨客的题词

B. 秦淮河岸的街道上，有一座建于明代的“江南贡院”

C. 某森林公园建有一个放养着上千条锦鲤的“放生池”

D. 某大厦矗立于长江岸边，成为游客拍照留念的背景

85. 反射：指有机体借助神经系统对刺激有规律的应答活动。无条件反射是先天的不学而能的反射。它是一种简单的不加任何条件的反射，属本能行为。条件反射是有机体在后天生活中学习得的，只有在一定条件下出现的反射。

下列哪项符合无条件反射的定义（ ）。

A. 经常吃一种叫贝贝品牌的狗粮的小狗闻到或看到这种狗粮就会流口水

B. 幼儿园的老师总是在音乐声响起的时候让孩子跟着唱歌，有一次音乐响起，老师没有让孩子们唱歌，但是孩子们却跟着唱起来

C. 赛马“海洋饼干”的右侧身体小时候经常被训练师毒打，所以它一见到右侧有人举起鞭子就会发狂

D. 小王外出打工，不小心丢失财物，几天没有吃饭，非常饥饿的时候肚子咕咕叫而且见到食物就直咽口水

86. 柏金赫现象，是指人眼在低照明水平时，会产生视感觉的敏感性向光谱蓝端迁移的现象。

根据上述定义，下列利用了柏金赫现象的是（ ）。

A. 将同样的红玫瑰花，印制在薄尼龙纱窗及粗厚的沙发织物上，可以形成既配套又独

具材质变化魅力的装饰效果

B. 面积较大的房间, 使用奶黄、浅咖啡色等暖色调来装修, 既可以使人感到温馨愉快, 又可以避免给人以空旷感

C. 创作一幅用于悬挂在较暗室内环境中的磨漆画时, 在色彩构成方面, 选用蓝、绿等冷色调优于红、橙等暖色调

D. 医院手术室环境及医护人员工作服都选用蓝绿色, 可以使医生注视了蓝绿色后, 更易看清细小的血管、神经等

87. 地块经济: 指大量的同质化制造加工业小企业集中在一个相对小的区域内, 形成比较完整的产业链的区域经济发展模式。

下列不属于地块经济的是 ()。

A. 义乌小商品闻名遐迩, 是国内规模最大的小商品生产和批发基地之一。在那里, 各种各样的小商品可以说应有尽有

B. 桂林一年四季都挤满了来自全国各地的游客, 当地的饭店宾馆、旅游品商店、出租车公司一个个都赚得盆满钵满

C. 嵊州堪称“中国领带之乡”, 每年生产领带 3 亿条, 出口 1.6 亿条, 在国内、国际市场分别占了 90%、60% 以上的份额

D. 亳州素有“药都”的美誉, 每天都有无数商家从四面八方来到这里, 运送药材的车队常常是一眼望不到头

88. 相邻效应指的是个体或者组织的付出和其应该获得的利益之间存在不一致, 但由此形成的费用差别和收益差别在社会上却没有相应的弥补来源。

根据上述定义, 下列不涉及相邻效应的是 ()。

A. 某厂训练的熟练工跳槽到其他厂家工作

B. 工厂的生产活动中产生的允许范围内的噪音对周边居民的生活有影响

C. 甲厂生产的品牌电脑非常畅销, 乙厂也盗用该品牌进行销售

D. 邻居甲家养护良好的草坪花木常常使得习惯早起的乙神清气爽

89. 企业文化是指企业在长期的生产经营过程中所形成的那种区别于其他组织的本企业所特有的精神风貌和信念, 以及一系列保证这种精神风貌和信念得以持久存在的制度和措施。

下列不属于企业文化的是（ ）。

- A. 企业经营管理哲学
- B. 企业规定的行为准则
- C. 企业的经营理念
- D. 企业的核心竞争力

90. 涓滴效应指在经济发展过程中并不给予贫困阶层、弱势群体或贫困地区特别的优待，而是由优先发展起来的群体或地区通过消费、就业等方面惠及贫困阶层或地区，带动其发展和富裕。

根据上述定义，下列属于涓滴效应的是（ ）。

- A. 国家加大对西部扶贫力度
- B. 政府为应届毕业大学生创业营造便利条件
- C. 劳动部门为下岗职工举办免费技能培训班
- D. 节假日城市近郊农家乐旅游逐年升温

91. 过度探索行为：指好奇的兴趣不是随着对新事物熟悉程度的增加而下降，而是持续不减，结果造成对所着迷事物损毁的行为。

下列属于过度探索行为的是（ ）。

- A. 小侯对玩具遥控汽车爱不释手，而且每次都不准别人碰。就是平时最有威信的妈妈也不能碰一碰，否则就会大哭大闹
- B. 小南对小航模越来越喜爱，每天都要一个一个地反复把玩，他的小床上已经有4个不同类型的小航模散了架
- C. 小宝对魔方很着迷，每次吃饭的时候都要先把魔方的一面调整到同一色，有几次竟把饭粒都掉到了魔方上
- D. 3岁的小贝，有时要玩印有米老鼠图案的实心球，还要爸爸妈妈讲米老鼠踢球的事，有时又闹着要看会说话的鹩哥

92. 政策性收益是指由于某些政策、法规的变动而导致的个体收益，这种收益不会导致整个社会财富的增长，只会导致整个社会财富的重新分配。

根据上述定义，以下涉及政策性收益的是（ ）。

- A. 某市优化了营商环境，使得该市外贸企业进出口额与利润均大幅增加

- B. 小王挺身而出，制服歹徒，获得市政府见义勇为奖金 5 万元
- C. 出于增强执法力量的考虑，某公安局获得了上级 1000 万元的财政拨款
- D. 由于个人所得税新政策的实施，小李现在每月可以少缴纳个税 216 元

93. 反诉：是指在已经提起的诉讼中，被告针对与原告有联系的行为，提起独立诉讼请求的行为。

根据以上定义，下列行为属于反诉的是（ ）。

- A. 原告起诉被告居住的房屋所有权是他的，被告请求法院让原告偿还房款
- B. 原告起诉，要求被告按买卖合同交货，被告起诉供货商未能按时交货
- C. 原告起诉离婚，被告请求法院确认婚姻关系本来就是无效
- D. 老师起诉学生借钱不还，学生起诉老师剽窃

94. 柔性管理：组织以人为中心，灵活运用各种管理方法，通过影响人的心理，产生良好的管理效果。

以下属于柔性管理的是（ ）。

- A. 张莉 7 岁的孩子感冒发烧，家中无人照看，只好带着上班，领导让她调休，送孩子去医院
- B. 某机关组团出国学习考察，顺道去迪斯尼乐园游玩了一天，有关领导特批报销费用
- C. 办公室主任负责考勤，无论谁迟到，考勤记录均为合格，同事关系相处很好
- D. 新员工小王试用期培训考试不合格，车间主任考虑她是副总的亲戚，破例让她转正上岗

95. 紧急避险是指为了使国家、公共利益、本人或者他人的人身、财产和其他权利免受正在发生的危险，不得已采取的紧急避险行为，造成损害的，不负刑事责任。紧急避险不得超过必要限度造成不应有的伤害，否则仍应负刑事责任，但是可以减轻或者免除处罚。其中关于避免本人危险的规定，不适用于职务上、业务上负有特定责任的人。

根据上述定义，以下属于紧急避险的是（ ）。

- A. 某主治医生为了防止自己感染，申请退出非典病人的急救工作
- B. 某商贩为躲避城市管理人员的查处，在开车逃跑过程中撞到了行人
- C. 孙某驾驶私家车送女儿参加高考的途中，由于时间紧急而闯了一个红灯
- D. 公交车司机发现刹车失灵后，迫不得已撞向了一个无人值守的公安岗亭

96. 旁观者效应又称责任分散效应,是指在紧急事件中由于有他人在场而产生的对救助行为的抑制作用。

根据上述定义,下列情形符合旁观者效应的是()。

- A. 公路上发生货车侧翻,大家纷纷帮助货车司机小杨保护货物防止哄抢
- B. 路上偶遇行人跌倒,小李见周围无人见证怕承担责任不敢帮助
- C. 超市附近突发火灾,小张催促其妻报警,其妻回答别人肯定已经报警了
- D. 海边有人落水,救生员小王边跑边喊,提醒围观群众不要随意下水施救

97. 继续犯:又称持续犯,指犯罪行为与该行为引起的不法状态在一定时间内处于继续状态的犯罪。

根据上述定义,下列行为属于继续犯的是()。

- A. 孙某与有夫之妇张某存在不正当男女关系,被张某丈夫发现后,张某与孙某断绝了关系,孙某怀恨在心。两天之内先后将张某与其丈夫杀害
- B. 李某举报某派出所所长王某徇私舞弊,王某为报复李某,借执法之名,将李某非法拘禁3日
- C. 张某非法行医三年多,导致1人死亡,2人身体残疾
- D. 王某在走私毒品的过程中,遇到边防人员的检查,王某以暴力方法抗拒检查

98. 我国刑法规定,抢劫罪是指以非法占有为目的,对他人人身采取暴力、暴力威胁或者其他方法,强行获取公私财物的行为。

根据上述定义,下列行为不构成抢劫罪的是()。

- A. 王某趁张某不备,抢走其价值10000元的背包
- B. 洪某在火车上将安眠药注入饮料罐让张某喝下,趁其昏睡盗走其现金10000元
- C. 李某夜晚入户盗窃,取走张某衣服中的5000元现金。张某被惊醒,李某持刀威胁李某后携财物逃走
- D. 张某欠刘某5000元不还,刘某将张某骗至家中,威逼张某交出其银行卡并说出密码,刘某到银行取走10000元后,将张某放回

99. 根据我国《宪法》第13条规定:“公民的合法的私有财产不受侵犯。”《宪法》第10条规定:“国家为了公共利益的需要,可以依照法律规定对土地实行征收或者征用并给予补偿。”

下列关于私有财产权的表述，哪一项是不正确的（ ）。

- A. 公民合法的私有财产不受侵犯
- B. 国家依照法律规定保护公民的私有财产权和继承权
- C. 任何人不得剥夺公民的私有财产
- D. 国家为了公共利益的需要，可以依照法律规定对公民的私有财产实行征收或征用并

给予补偿

100. 时间综合症指由于对时间的紧迫感而造成心理上的烦恼、紧张，以及生理上的活动改变等导致的病症。

下列属于时间综合症的是（ ）。

- A. 张先生与李小姐约定下午 3 点在某公园首次见面，结果李小姐没来，张先生回去后给李小姐发了条短信：第一次约会就不守时，这样的人不值得交往
- B. 韩女士经常出差，由于在赶往机场、车站的途中经常发生交通拥堵，所以她后来每次出发都要留出机动时间，并以此告诫家人做任何事情都要赶早
- C. 小明上小学五年级，酷爱玩滑板，但他不耽误作业，每天下午放学回家，总是争分夺秒，飞快地把作业做完，然后约同伴一起去玩滑板
- D. 雷先生办事总是急匆匆的，常唠叨时间紧，偶尔带孩子出去游玩，也是不停地看表，孩子要多玩一会，他就很不耐烦，甚至对孩子大发脾气

101. 行政确认：指行政机关和法定授权的组织依照法定权限和程序对有关法律事实进行甄别，通过确定、证明等方式决定管理相对人某种法律地位的行政行为。

下列不属于行政确认的是（ ）。

- A. 某法院依据《招标投标法》，认定某招标代理机构在一次招标活动中违反相关法律规定，与招标人私下串通，谋取不当利益，并确认此次招标无效
- B. 某高速公路发生一起交通事故，并引起责任纠纷，交警到达现场后，经过勘察了解，认定甲司机应负主要责任
- C. 某市地税局干部小丁和小杨因工作中产生的一些矛盾吵得不可开交，一直闹到李局长那里，李局长了解情况后认为小杨应负主要责任，并批评教育了小杨
- D. 赵某是养鱼专业户，去年冬天因抢救落水者而不幸死亡，政府相关部门依据法律，确认其为烈士

102. 同心多角化经营战略是指企业以一种主要产品为圆心，充分利用该产品在技术、市场上的优势和特长，不断向外扩散，生产多种产品，充实产品系列结构的战略，它是企业利用原有的生产技术条件，制造与原产品用途不同的新产品。

根据上述定义，下列企业使用了同心多角化经营战略的是（ ）。

A. 某汽车生产企业通过兼并和控股等方式开拓和扩大市场，斥巨资收购了国外知名汽车生产企业，并把自己原来的高端产品并归于该知名品牌下

B. 某石油勘探开发公司对自己开采的石油进行炼化，生产各种石化产品，并自行组织这些产品的销售

C. 某服装生产企业以其独特新颖的设计驰名全国，获得成功后，又投资建筑、商品零售等多个行业，发展成为综合性的集团公司

D. 某企业所生产的电冰箱制冷效果好，销量在国内同类产品中居于领先地位，后来该企业又生产空调，产品也深受消费者喜爱

103. 联觉指的是一种感觉，如视觉、听觉、触觉等，引起另一种感觉的发生，是感觉相互作用的一种表现。

根据以上定义，下面不属于联觉的是（ ）。

A. 秀色可餐

B. 触景生情

C. 望梅止渴

D. 望文生义

104. 破窗效应是犯罪学的一个理论，该理论认为环境中的不良现象如果被放任存在，会诱使人们效仿，甚至变本加厉。

根据上述定义，下列体现了破窗效应的是（ ）。

A. 千里之堤，溃于蚁穴

B. 一屋不扫，何以扫天下

C. 一条街道有些许纸屑，人们最终会理所当然地将垃圾随处丢弃

D. 小孩打破了窗户，必将导致主人更换玻璃，从而推动社会就业

105. 法的适用是指国家司法机关根据法定的职权和法定的程序，具体应用法律处理案件的专门活动。

根据上述定义，下列选项中属于法的适用的是（ ）。

- A. 海关工作人员认为张某有走私嫌疑而对其进行查办
- B. 检察机关根据群众举报对王某的受贿行为进行侦查
- C. 李某根据国际有关法律规定，在某售楼部签订房屋买卖合同
- D. 公安局长召开关于提高干警办案质量的工作会议

106. 暴力文化是反映暴力行为发生过程、后果及暴力行为规范的文化，属于亚文化范畴。暴力文化是暴力犯罪的诱因，对于正处于社会化过程中的青少年影响尤为深刻，必须采取一系列的针对性措施抵御和消除暴力文化的不良影响。

根据上述定义，下列不属于暴力文化范畴的是（ ）。

- A. 乱起绰号、推举“最差”等玩闹
- B. 宣扬所谓“狼道”的书报
- C. 以“野蛮”为审美时尚的影视剧
- D. 具有“血腥”的网络游戏

107. 分享经济：指个人、组织或企业借助现代化的信息交流手段，盘活闲置资源的经济活动。通过这种活动，供给方能够获得额外收益，需求方能够以更低成本获得产品和服务。

下列属于分享经济的是（ ）。

- A. 某小区业委会建立了一个业主微信群，业主家中如果有闲置物品，就可以拍照发到群里，供其他家庭根据需要选用，业主们对业委会的这一做法非常满意
- B. 每年到毕业季，将要离开校园的大学生们就会在校园的各个角落摆摊设点，甩卖不打算带走的生活用品，低年级的学弟学妹们往往能从中淘到不少“宝贝”
- C. 某快递公司通过手机软件把用户需求推送给自由快递人，自由快递人选择就近订单，顺路把大大小小的包裹及时、准确地送到客户手中，公司投送费用大幅下降
- D. 小钟建立网站专门发布来自厂家的技术难题，有偿征集网友设计的解决方案，经过技术处理再行转让，厂家们虽然并未节省研发费用，却很喜欢这种方式

108. 形成权，是指权利人依自己的行为，使自己与他人之间的法律关系发生变动的权利。

下列属于形成权的是（ ）。

- A. 买卖合同履行期间，由于卖方暂时缺货，卖方要解除合同
- B. 租房合同履行期间，承租人要求降低租金
- C. 保管合同履行期间，保管人要求提高保管费
- D. 借款合同履行期间，债权人主动免除债务人的债务

109. 积极错觉是指当自我由于消极的信息而使自尊心面临威胁时，用理想化的自我、不现实的乐观或夸大的可控性感知等作为缓冲器，来保护自己的自尊。

根据上述定义，下列选项属于积极错觉的是（ ）。

- A. 某男生追求女生失败，认为对方是因为害羞不敢答应
- B. 某人担心经理对自己印象差，每天提早到办公室上班
- C. 很多人觉得考试时间很紧张，可小林还觉得时间足够
- D. 某男考研究生屡次失败，但其坚信天道酬勤终获成功

110. 减量化，是指在生产、流通和消费等过程中减少资源的消耗和废物的产生，是循环经济的一种。

根据上述定义，下列不属于减量化的是（ ）。

- A. 某机动车制造企业按照国家规定的机动车燃油经济性标准，采用节油技术
- B. 某企业根据市政府所提倡的精神，淘汰本企业耗能高的生产工艺
- C. 某农业生产基地对农作物秸秆、畜禽粪便、废农用薄膜进行综合利用
- D. 某公司严格执行产品包装标准，防止过度包装

111. 社会公共消费，是指以社会和集体作为消费单位，在社会或集体范围内为满足其成员的共同需要而消费各种消费资料和劳务的一种消费需求，是在社会或集体范围内共同进行的消费。

根据上述定义，下列情形不属于社会公共消费的是（ ）。

- A. 中小学生的义务教育消费
- B. 单位为员工提供体育健身设施
- C. 单位为优秀工作者发放奖金
- D. 某市为 60 岁以上老人发放福利金

112. 外汇是指以外国货币表示的，用于国际结算的多种支付凭证。它包括外国货币（钞票、铸币），外币有价证券（政府公债、国库券、公司债券、股票、息票等）、外币支付凭

证（票据、银行存款凭证、邮政储蓄凭证等）以及其他可以在国外兑现的凭证。

根据上述定义，在法国下列不属于外汇范畴的是（ ）。

- A. 西班牙政府发行的水利建设公债
- B. 英国汇丰银行的存款凭证
- C. 1000 万俄罗斯卢布换成欧元后的现金存款凭证
- D. 10 亿欧元转换成美元后的现金存款凭证

113. 宅经济，又称闲人经济，是指人们将假日时间分配在家庭生活、减少出门消费而带来商机的现象。

根据上述定义，下列选项中属于宅经济的是（ ）。

- A. 十一长假期间，某小区附近的音像店提供光盘上门租借服务
- B. 某在线购物网站的客服人员因需要在节假日值班，而在网上定购快餐
- C. 放假期间，某镇的甲商场门可罗雀，而乙商场因搞促销而门庭若市
- D. 某快递公司在十一长假时订单大幅减少，这是因为很多人去旅游了

114. 天气：某一地区在某瞬时或某一短时间内大气中气象要素（如温度、湿度等）和天气现象（如云、雾等）的综合。

下列不属于天气的一项是（ ）。

- A. 明天南京多云，最高温度 2℃，最低温度 0℃
- B. 外面正在下雪
- C. 今年冬天的雾日很多
- D. 昨天下霜了

115. 心理学家认为，在一般情况下，人们都不愿接受较高较难的要求，因为它费时费力又难以成功，相反，人们却乐于接受较小的、较易完成的要求，在实现了较小的要求后，人们才慢慢地接受较大的要求，这就是“登门坎效应”。

根据上述定义，下列不符合登门坎效应的是（ ）。

- A. 某高中的班主任不忽视学生的每一点进步，并帮助他们制定短期目标，促使他们考上理想的大学
- B. 先请居民在赞成安全行驶的请愿书上签字，几周后再向他们提出在自己房前竖立“小心驾驶”的语牌

C. 某推销员总是仔细地记录客户的需求，并定期向他们宣传新产品

D. 一位万米长跑冠军说：“我将 10000 米分成 10 段。每段我都保持了领先，所以赢得了胜利”

116. 行政合同，是指行政机关为实现行政职能，同公民、法人和其他组织经过协商达成一致设立、变更和终止双方行政法上权利义务的协议。行政合同的本质是利用协商机制和市场机制实现行政职能。行政合同具有以下特征：行政当事人是行政合同的主体，在内容上，行政当事人的合同自由范围受到限制，这是因为行政合同必须维护公共利益和公共安全，行政合同双方承担更多的公法责任。

根据上述定义，下列属于行政合同的是（ ）。

A. F 县税务局与某建筑公司签订的税务大楼建筑工程总承包合同

B. M 市公安局与某计算机公司缔结的有关采购办公电脑的合同

C. L 市国土资源局与某企业缔结的国有土地出让的合同

D. K 县人民政府与某律师事务所签订的常年法律顾问服务合同

117. 威客，是指那些通过互联网把自己的智慧、知识、能力、经验转换为实际收益的人，他们在互联网上通过解决科学、技术、工作、生活、学习中的问题从而让知识、智慧、经验、技能体现经济价值。

根据上述定义，下列各项中未体现出威客的概念的是（ ）。

A. 某些提供积分或付费奖励的知识问答类型的网站的回答用户

B. 某些网站专门把大公司的设计任务通过招标的方式外包给高水平的设计师

C. 某婚恋介绍公司打造了一个婚恋社交网站，帮很多人找到了自己心仪对象的同时提供会员收费制度赚取利润

D. 某心理专家经常在网络上无偿帮助他人解决心理问题，吸引了大量关注后通过广告等方式得到了一笔不小的收入

118. 预谋故意：是指行为人产生犯罪故意之后，经过一段时间的准备才实施犯罪行为的心理态度。

根据上述定义，下列属于预谋故意的是（ ）。

A. 一青年在夜路上看见一个单身女子，遂起歹念，抢了她的皮包后逃走

B. 老王出门忘记锁门，以至于外人经过时偷走了贵重物品若干

C. 某人开快车，将一路人撞伤致死

D. 甲某与邻居乙某长期关系不合，趁乙某不注意时，甲某向乙某的水井里投毒，致使乙某一家中毒身亡

119. 干部任免：指国家机关或有任免权的部门，依照有关法律和条例的规定，在一定的权限范围内，按照规定的程序，任用干部担任一定的职务或免去干部所担任的职务。

下列不属于干部任免的一项是（ ）。

A. 原公安局长因贪赃枉法被开除公职

B. 省人大做出罢免刘星人大代表资格的决定

C. 经过公开考试竞争，小王被任命为人事局副局长

D. 公务员法规定，要担任处长职务的必须有担任过两个副处级以上职务的经验

120. 定点超越是指企业将其产品、服务和其他业务活动与自己最强的竞争对手或某一方面的领先者进行连续对比衡量的过程。对比衡量的目的是发现自己的优势和不足，或寻找行业领先者之所以会领先的内在原因，以便为企业制定适当的战略计划提供依据。

根据以上定义，下列选择不属于定点超越的是（ ）。

A. 为超越竞争对手乙企业，甲企业创造性地提出一套提高顾客满意度的今后服务策略

B. 在对比乙企业的成功模式的，甲企业改进了销售战略，并迅速超越了竞争对手乙企业

C. 甲电厂向标杆单位乙电厂学习，找到了自身短板，以新技术为突破口实现了生产智能化

D. 甲公司仔细研究行业领头羊乙公司的生产模式后，对其产品进行了包装组合，以提高市场占有率

121. 试考族：指抱着试一试的心态参加各种考试的人。

假设这个定义是正确的、不容置疑的、则下列属于试考族的是（ ）。

A. 小张是应届本科生，他今年参加了几个省的“公考”，目的是为了“练兵”

B. 小李是应届毕业生，他为参加国考准备了一年时间，势在必得

C. 王女士的女儿喜欢参加各类艺术竞赛，王女士本人经常陪同女儿参赛

D. 老赵已经退休，为了弥补年轻时因为家穷没有上大学的遗憾，自学了高中全部课程，准备参加高考

122. 超导体，是指在温度接近绝对零度的时候，物体分子热运动几乎消失，材料的电阻趋近于 0，此时该材料称为超导体。虽然超导体有广阔的发展前景，但是目前仍未得到实际应用。

从上述定义判断，关于超导体未得到实际应用的主要原因，下列所述正确的是（ ）。

- A. 超导材料太贵，受众面太小
- B. 实现超导的条件太特殊，目前难以实现并普及
- C. 超导的实际作用没有想象中好，并不能节省多少能源
- D. 掌握超导技术的人太少

123. 不道德行为是指打破了日常行为规范的行为。按照行为动机，可分为无意不道德行为和故意不道德行为。前者指在没有意识到行为的不道德属性时做出的不道德行为；后者指个体明知道行为违背了道德规范，但仍采取的不道德行为。

根据上述定义，下列属于故意不道德行为的是（ ）。

- A. 小刘收受男方彩礼后，男方悔婚，小刘根据当地风俗不退还男方彩礼
- B. 某企业为了增加品牌的热度，多次曝光企业的内幕，吸引了社会关注
- C. 某明星善于通过资助慈善事业获得免费的社会宣传效应
- D. 某公司明知合同条款对乙方不公平，仍假装承诺将履行合同

124. 职业倦怠是指个体在工作重压下的身心疲劳与耗竭的状态。最早由 Freudenberger 于 1974 年提出，他认为职业倦怠是一种最容易在助人行业中出现的情绪性耗竭的症状。一般认为，职业倦怠是个体不能顺利应对工作压力时的一种极端反应，是个体伴随于长时期压力体验下而产生的情感、态度和行为的衰竭状态。

根据上述定义，下列属于职业倦怠的是（ ）。

- A. 小李从事快递行业五年了，今年双十一期间，连续一周每天工作时间都在十个小时以上，感觉已经到了体能极限，于是申请休息几天
- B. 扶贫工作队的小王到村里大半年了，因为对农村环境不适应，工作迟迟打不开局面，心里很苦闷，情绪不高
- C. 高三 4 班的小刘同学学业成绩长期处于中下水平，认为明年高考无望，心理负担很重，最近多次流露出辍学外出打工的想法
- D. 小张大学毕业后进入了 A 公司的行政部，多年来天天重复着事务性的工作，尽管经

常加班加点，但因为不直接创造利润，总感觉不被重视，最近情绪较差，多次流露出跳槽的想法

125. 循环经济，是在生产、流通和消费等过程中进行的，减量化、再利用、资源化活动的总称。其中资源化是指直接将废物作为原料进行利用或者对废物进行再生利用。

以下各项中，不属于资源化的是（ ）。

A. 把生活废水引到预定的净化系统中，采用物理的、化学的或生物的方法进行处理，使其达到可以重新利用的标准

B. 某养殖场将废水引入沼气池沉淀后，用作池塘养鱼的用水

C. 将小区的雨水收集起来，用作道路冲洗、绿化用水

D. 造纸厂利用新技术对废水进行处理后再利用

126. 消费者善意是指消费者基于自身直接经历或者主观上的认知而产生的对某一国家的喜爱、共鸣乃至情感依恋，而这种情感会让消费者对有关该国产品的消费决策产生影响。

根据上述定义，下列属于消费者善意的是（ ）。

A. 德国人以严谨著称，小马很认可这一点，所以买电器类的产品一定要选德国品牌

B. 老刘因为从小喜欢俄罗斯歌曲而喜欢上了俄罗斯，在选择旅游目的地时，毫不犹豫地选择了俄罗斯

C. 在南美旅游时喝了当地的马黛茶后，小张再也喝不惯国内的马黛茶了

D. 张教授早年留学美国，儿子受他的影响也选择了去美国留学

127. 回避制度：是指与刑事案件有某种利害关系或其他特殊关系的司法工作人员，包括侦查人员、检察人员、审判人员、书记员、鉴定人、翻译人员等，不能参加该案件处理工作的一项诉讼制度。

在某一案件中，下列人员可以不回避的是（ ）。

A. 当事人的妈妈，法院法医鉴定员

B. 当事人的哥哥，负责法院同声翻译

C. 当事人的同学，邮递员，住在法院隔壁

D. 当事人的父亲，该县检察院副检察长

128. 相悦定律是指人与人在感情上的融洽和相互喜欢，可以强化人际间的相互吸引。也就是说决定一个人是否喜欢另一个人的重要因素是对方也喜欢他。

根据上述定义,下列不属于相悦定律的()。

- A. 在古代不乏小人善于阿谀奉承而得志,贤臣因忠言逆耳而遭贬的例子
- B. 晓明是一个帅气的男生,虽然他性格孤傲,不爱理会别人,还是有许多女生暗恋他
- C. 乔·吉拉德是世界上最了不起的卖车人,他每个月都会给他的1.3万名顾客送去问候卡片,卡片上只有一句话“我喜欢你”除此之外,别无他物
- D. 网坛天王费德勒与米卡尔初次见面是在训练场上,他对她一见钟情,米卡尔也觉得对这个小男孩有点喜欢,最终他们结为夫妻

129. 否认是一种简单原始的无意识的心理防御机制,通过否认,把那些已经发生的令人痛苦的事实变成根本不存在的东西,避免心理上的不安和痛苦。

根据上述定义,下列不属于否认的是()。

- A. 孩子在车祸中丧生,妈妈无法接受,依然照常做饭、整理孩子房间,等孩子回来
- B. 小琴因为室友太吵而无法专心复习考试,于是听起了音乐,她告诉妈妈考试前应该放松才能发挥好
- C. 一位癌症患者不承认自己的病情,主动打电话告诉朋友自己身体很好
- D. 张女士的丈夫向她提出离婚,她不愿意接受,依旧照常等丈夫下班,对丈夫很好

130. 质押是债务人或第三人将其动产或者权利移交债权人占有,作为债权的担保。当债务人不履行债务时,债权人有权依法就该动产卖得价金优先受偿。

根据上述定义,下列情形不存在质押的是()。

- A. 甲委托乙加工服装,过了约定时间甲未付款,乙就将这批服装所置换的款项抵偿甲所欠的加工费
- B. 甲、乙签订建筑施工合同,要求乙在半年内完成施工项目,为保证合同履行,甲用公司的一部分股份作为担保
- C. 甲向乙借三千元钱,乙怕甲还不起,于是甲将自己的笔记本电脑交给乙。到期后甲未能偿还,双方约定以该笔记本电脑折价抵偿
- D. 甲因扩大店面急需资金向乙借款10万元,并以自己50万元的轿车向乙提供担保,并将车交给了乙。这期间丙向乙租用该车,乙未经甲同意,即与丙签订了租赁合同

131. 缺陷补偿:是指个体在充当社会角色时不可能事事成功,当自我角色目标失败时,常常可能会对相关的社会角色的重要性做重新评价,从而进行自我定义以补偿自己的角色

缺陷。

根据上述定义，下列属于缺陷补偿的是（ ）。

- A. 老李在工作中，常常得不到大家的赏识，但他依然干劲十足
- B. 小贾发誓要成为成功人士挣很多钱，为妻子创造更好的生活条件，但最后妻子离他而去，后来小贾觉得多陪家人比赚钱更重要
- C. 小唐本科教育背景不好，但是研究生毕业于名牌大学，找工作屡屡失败，是招聘人员眼光不行
- D. 某知名演员擅长搞笑角色，可在家扮演着大家长的角色

132. 不当得利：是指没有法律上或合同上的根据，使他人受损而自己取得的利益。其中得利人为债务人负有返还不当得利的义务；受损人为债权人，享有请求得利人返还不当得利的权利。

根据上述定义，下列属于不当得利的是（ ）。

- A. 宾馆收银员小王误将 50 元当作 5 元找给顾客
- B. 小李春节期间在家和老乡打牌赢了 200 元现金
- C. 刘厂长乘飞机时由于行李箱超重缴纳罚款 100 元
- D. 银行在办理跨行存取款业务时收取的手续费

133. 理性预期，是指针对某个经济现象进行预期的时候，如果人们是理性的，那么他们就会最大限度地充分利用所得到的信息来做出行动而不会犯系统性的错误。

根据以上定义，下列属于理性预期的是（ ）。

- A. 传言城西要新增一条地铁线路，老王马上在附近买了一套房子
- B. 正在进行化学实验的小李，依据元素知识和化学规律预计出了结果
- C. 情人节即将到来，花店老板比平常多进一倍数量的玫瑰花
- D. 司机依经验预判到行人将闯红灯横穿马路，提前减速刹住了车

134. 市场区隔是指先将消费者依不同的需求、特征区分成若干个不同的群体，引导消费者认知并使用相关产品或服务，进而获得消费者的回馈信息，旨在确定目标群体并制定营销策略。

根据上述定义，下列选项中不涉及市场区隔的是（ ）。

- A. 某公司对天津地区的企业办公市场调研，发现在写字楼办公、居家办公、酒店办公

三类市场中消费者对酒店办公的需求在逐年上升

B. 某方便面生产厂家对不同年龄段消费者进行分析,发现 20—30 岁年龄的人是消费主体,他们大多数人更中意“大块面饼、双料包”的方便面

C. 某日用品公司针对欧美和亚洲人群的肤质特点设计了不同的润肤霜,数据显示不管在欧美地区,还是在亚洲,适合中性肤质的润肤霜最受欢迎

D. 某手机制造商每 2 年推出一款新手机,并限量发售 2 万部,因此产品一上市就很快被抢空

135. 视网膜效应是指当一个人拥有一件物品或一项特征时,他就比平常人更会注意到其他人是否跟他一样具备这种物品或特征。

根据上述定义,下列不属于视网膜效应的是()。

A. 部门主管老宋心胸开阔而乐观,总能发现员工的优点并发挥他们的潜能

B. 老王藏有一件明代瓷器,他热衷于结识同样收藏明代瓷器的爱好者

C. 小李常抱怨别人对他说话时比较急躁,而事实上他自己的脾气也很不好

D. 小刘看见有两个人穿的衣服和她一样,她感慨怎么会有这么多人买相同的衣服

136. 偶然音乐是指音乐家在创作中将偶然性因素引入创造过程或演奏过程的一种音乐形式。具体方法包括:谱写作品时采用随意手法,允许演奏者进行没有任何提示的即兴演奏,甚至以改造乐器或加入场外声响来演奏曲目。

根据上述定义,下列选项不属于偶然音乐的是()。

A. 指挥家在演出前随机决定使用乐器的数量、演出时长以及参演人数

B. 在钢琴琴弦中塞进橡皮和铁钉等物以模拟打击乐的声响来演奏音乐

C. 用掷骰子、丢硬币来确定作品的音高、力度与配器等并创作成曲谱

D. 演奏者保持沉默,此时台上台下偶然出现的掌声、笑声构成了乐曲

137. 低碳生活是指生活作息时所耗用的能量要尽力减少,从而低碳,特别是二氧化碳的排放量,从而减少对大气的污染,减缓生态恶化。

根据上述定义,下列哪项中的现象不属于低碳生活的范畴()。

A. 将废旧报纸铺垫在衣橱的最底层,不仅可以吸潮,还能吸收衣柜中的异味

B. 使用电脑时,尽量使用低亮度,开启程序少些,在午休和下班后关掉电脑电源

C. 选择晾晒衣物,避免使用滚筒式干衣机

D. 在跑步机上锻炼取代在公园中慢跑

138. 折扣：也叫商业让利，是指在商品购销活动中卖方在所成交的价款或数量上给买方以一定比例的减让，而返还给对方的一种交易上的优惠。

根据上述定义，下列属于折扣的是（ ）。

A. 报某辅导机构的考研辅导班，可获赠一套辅导资料

B. 为中标，乙公司给招标单位负责人往返云南机票一张

C. 华联商场春季买 100 送 50 活动

D. 小李购买了一批办公用品，网店店主给了小李 100 元代金券，可在下次购物时使用

139. 嫁接品牌往往是两个在不同领域的同样著名的品牌共同进行品牌宣传和推广，这种嫁接是为了增强对消费者的吸引力、利用对方忠诚消费群体提高销售机会、强化品牌忠诚度和好感。

根据上述定义，下列不属于嫁接品牌的是（ ）。

A. 爱立信与索尼合资成立索尼爱立信移动通信公司，经过短短三年的发展，索尼爱立信就成长为手机产品的著名品牌

B. 招商银行与 MSN 共同宣布推出招商银行 MSN 珍藏版迷你信用卡。该信用卡除消费、理财、旅游、保障等丰富功能外，更可激活 MSN 个性服务，极具收藏价值

C. 联想集团与可口可乐公司携手推出联想天逸 F20 可口可乐全球限量珍藏版笔记本电脑，在 2006 年笔记本市场掀起一股炫动的“红色激情”

D. SONY 和可口可乐在 MP3 方面进行了合作，生产出了限量版超酷耳挂式 MP3 播放器，在这款 MP3 上使用了可口可乐的传统红色外观、可口可乐的经典标志

140. 求医行为，是指人们在感到躯体不适或产生病感时寻求医疗帮助的行为。根据求医的决定是由谁做出的，可以分为主动求医、被动求医和强制求医。主动求医是指当个体产生不适感或病感时，自觉做出决定。被动求医指的是由病人的家属或他人做出求医的决定，病人配合就医。强制求医是指本人不愿求医，但因疾病对本人或社会人群健康构成危害而强行要求其就医。

根据上述定义，以下属于被动求医的是（ ）。

A. 老张的体检报告显示他有轻度脂肪肝，建议可进一步检查和治疗，老张拿到报告后很紧张，赶紧到医院去挂号

B. 小张牙疼好几天了，一直没有去医院治疗，直到牙疼引发面部肿胀，连张口吃饭都困难了，才不得不去牙科诊治

C. 刘阿姨最近无缘由地开始说自己没有用了，干脆死了更好，她不愿去医院看病，她的丈夫和儿女苦劝无果，只好硬带她去医院就诊

D. 中学生小梅放学回家，跟妈妈说今天拉肚子，上了五次厕所，除此之外没有别的不舒服，用不用去医院？妈妈决定带她去医院挂号

141. 解释性报道又称解释性新闻、分析性报道，是运用背景材料来分析一个新闻事件发生的原因、意义、影响或预示发展趋势的一种新闻报道。解释性报道能够帮助读者思考，加深读者对新闻事实的理解。

根据上述定义，下列不属于解释性报道的一项是（ ）。

A. 甲、乙两国发生战争，丙国媒体从历史、政治、经济、文化等多方面分析了战争发生的原因

B. 某新闻网站对嫦娥三号探测器的运行过程、轨道选择和工作原理进行了详细介绍。并分析了探月工程对各个领域的影响

C. 诸多媒体在第一时间报道了四川汶川大地震，并及时更新最新的灾情，引起全国人民的广泛关注

D. 其他国家的领导人到我国访问时总会引起广大媒体对该事件的政治含义的解读

142. 选择性注意是指在外界诸多刺激中，人们仅仅注意到某些刺激或刺激的某些方面，而忽略了其他刺激。

根据上述定义，下列属于选择性注意的一项是（ ）。

A. 志愿者小张在奥运会期间，每天忙于奥运赛场的服务，无暇观看奥运比赛

B. 奥运结束后，一些学生仍对奥运精彩纷呈的赛事感到意犹未尽，无法投入到新学期的学习生活中

C. 意大利小伙子马克观看完北京奥运会开幕式后，对中国文化产生了浓厚兴趣，于是留在北京学习汉语

D. 北京奥运会期间，原本闹离婚的夫妻俩，由于一起收看奥运节目，交流增多，关系缓和，不再闹离婚了

143. 概念的内涵指的是概念所反映的客体集合所有元素的共同属性，它是以高度紧缩

形成出现的，揭示一个概念的内涵，如同抽出卷尺，这个抽出卷尺的过程在特殊的情况下不是不可以采用否定形式的。

下列采用否定形式揭示不同概念内涵的是（ ）。

- A. 非营利性组织就是社会团体以及个人举办的从事非营利性社会服务活动的组织
- B. 高尔夫球俱乐部中级会员就是在节假日不享受优惠的成员
- C. 交通肇事逃逸就是驾驶员造成交通事故后弃车逃跑，不及时报警处理事故现场的行为
- D. 非婚生子女就是不具有合理婚姻关系的男女所生的子女

144. 卡特尔：垄断组织形式之一，指同一生产部门的资本主义企业，以获取垄断高额利润和加强自己在竞争斗争中的地位为目的，彼此之间签订关于销售市场、商品产量和商品价格的协议，并交换新技术的许可证等而形成的一种垄断联合。

根据上述定义，下列不属于卡特尔的一项是（ ）。

- A. 各生产者签订协议，规定销售市场
- B. 各生产者签订协议，规定垄断价格
- C. 各生产者签订协议，规定生产和销售商品的一定数量，并要求每个参加者遵守
- D. 迫于成本核算，各商家停止了打折竞争

145. 储蓄偏好，是指消费者的购买欲望，反映消费者的主观愿望，一方面消费者要尽量满足自己的愿望和需要，另一方面他又受到购买力的约束，消费者的购买力取决于他的收入水平以及市场的物价水平，在上述的情况下，消费者的选择则取决于他对各种商品和服务的偏爱喜好，也就是偏好。

下列不属于储蓄偏好的是（ ）。

- A. 老李将钱大部分存起来为了养老
- B. 小李想去吃肯德基，可是手里的钱只够买一份盒饭，于是他买了一份盒饭
- C. 房地产形势一直不好，许多人开始抛房
- D. 小王想买个笔记本，可是他的钱只能买一台台式机，于是他决定暂时不买

146. “翻异别勘”是宋代为防止冤假错案而规定的复审制度，是指犯人如果在录问或行刑时提出申诉，案件必须重新审理。宋代的“翻异别勘”分为原审机关的“移司别勘”和“差官别勘”两种形式。“移司别勘”是指由原审机关将案子交给另一个同级的司法机关

复审。“差官别勘”是指原审机关将案子申报到上级机关，由上级机关负责差派与原审机关不相干的另外一个机关的官员重新审理。这种情况下，往往或者是差派上级机关的官员前往原审机关主审，或者将案子移往上级机关复审。

根据上述定义，下列不属于“翻异别勘”的是（ ）。

- A. 宋代中央司法机关刑部分左、右两厅，对其中一厅审理的案件，若犯人提出申诉，则由另一厅重审
- B. 宋代地方司法机关从上至下分为路、州、县三级，对由县上诉至州的案件作出判决后，若犯人提出申诉，则由州发回县重审
- C. 犯人对州县审理的案件提出申诉，可以将案件移交至州县的上级——路的长官进行重审
- D. 犯人对州县审理的案件提出申诉，州县的上级——路的长官可以亲至州县对案件进行重审

147. 双关，是指在一定的语言环境中，利用词的多义或同音的条件，有意使语句具有双重意义，言在此而意在彼的修辞方式。利用词的同义，有意使语句具有双重意义叫做意义双关；利用词的同音，有意使语句具有双重意义叫做谐音双关。

根据上述定义，下列选项中，运用了谐音双关修辞手法的是（ ）。

- A. 东边日出西边雨，道是无晴却有晴
- B. 借问瘟君欲何往，纸船明烛照天烧
- C. 可是匪徒们走上这十几里的大山背，他没想到包马蹄的破麻袋片全被踏烂掉在路上，露出了他们的马脚
- D. 她们的死，不过像在无边的海里添几粒盐，虽然使扯淡的嘴巴们觉得有些味道，但是不久还是淡、淡、淡

148. 定金是在合同订立或在履行之前支付的一定数额的金钱作为担保的担保方式。给付定金的乙方成为定金给付方，接受定金的一方成为定金接受方。当事人要么明确约定其给付的金钱为定金，要么约定了定金的实际内容，否则不构成定金。

根据上述定义，下列各项属于定金的是（ ）。

- A. 小战看中某套二手房后向房东支付了2万元，双方约定，在一周内房东将此房出售给小战

- B. 张明订婚时按照双方的商定送给女方十万元的礼金
- C. 由于车型紧俏，小孙在买车时为了能立即提车而同意向经销商多支付 1 万元
- D. 某公司为了确保员工在下一年度继续在该公司工作，扣留部分工资至第二年发放

149. 埋藏物是指长期埋藏于地下已不能明确其所有人的物。埋藏物具有以下特点：所有人不明、埋藏于他物之中，且不是显而易见，不是具有历史、艺术和科学价值的文物。

请根据上述定义，下列属于埋藏物的一项是（ ）。

- A. 小明把 1 万元现金藏在包裹内，在回家坐火车时不慎丢失
- B. 某修路队在修路工程中，意外挖掘发现距今 1000 多年的石羊、石猪等石刻品
- C. 东北某村民在对自家房屋进行翻修时，意外地在其地板内发现一桶不明废弃物
- D. 装修工人丁某到住户家改装电线，在开凿室内穿线墙洞时，发现墙内有一包用塑料布包着的東西，解开一看是三根金条

150. 群体决策冒险是指群体比个体更富于冒险精神，相对于个人决策而言，群体倾向于选择获利大但成功率小的行为。当人们集合在一起时，比他们单独活动更富于冒险性。

根据上述定义，下列属于群体决策冒险的是（ ）。

- A. 老王遭遇车祸，重伤昏迷。医生集体会诊，商讨出手术救治方案，并进行了全力抢救
- B. 某国国会经投票表决后，正式出台了失业救济法案，该法案遭到在野党的强烈反对
- C. 在选择容易考但名气小，还是难考但名气大的学校的问题上，小赵犹豫不决。家庭会议讨论后，大家选择了后者
- D. 在一份创业时是否应当具有冒险精神的调查问卷上，80%以上的被调查者选择了“是”

151. 知识营销：通过有效的知识传播方法和途径，将企业所拥有的对用户有价值的知识（包括产品知识、专业研究成果、经营理念、管理思想及优秀的企业文化）传递给潜在用户，并逐渐形成对企业品牌和产品的认知，为将潜在用户最终转化为用户的过程和各种营销行为。

下列行为属于知识营销的是（ ）。

- A. 某公立医院派出 10 名资深医生参加社区义诊志愿活动
- B. 某证券公司组织离退休老人学习班，免费讲解股票市场知识
- C. 某名牌企业匿名为希望工程捐款 1000 万元

D. 在药厂工作的小刘经常和朋友们一起探讨有关饮食健康的问题

152. 同类群体影响力是指人们对他人（尤其是类似群体）的行为总会做出某种反应；类似程度越高，影响力就越大。比如对某种良好行为规范大力宣传，往往会成为所谓的“磁心”，吸引人们效仿。

下列做法中不会带来同类群体影响力的是（ ）。

- A. 老师在墙报上贴上红五星，表扬那些完成作业好、守纪律的小学生
- B. 酒店在房间内放置标语，提醒客人大多数客人都不是每天要更换毛巾
- C. 某自然保护区设置告示牌，告知偷盗林木者将受到高出林木价钱10倍的罚款
- D. 某市告知那些用水量高的用户，他们的用水量明显高出了周围的邻居

153. 边缘科学是指以两种或多种学科为基础而发展起来的科学，其特点是运用一门学科或者几门学科的概念和方法，研究另一门学科的对象或交叉领域的对象。

根据上述定义，下列属于边缘学科的是（ ）。

- A. 法医学以医学对人体生理机制的研究为基础，通过尸体解剖，可以为有关刑事诉讼提供死者死亡原因、死亡时间等科学的、有力的证据
- B. 在中国的官窑制瓷史上，明代成化年间的瓷器素来备受推崇，究其原因，主要是因为当时的朝廷为制瓷业付出了大量的心血及费用
- C. 水文科学开始主要研究河流、湖泊、沼泽、冰川和积雪，以后扩展到地下水、大气中的水和海洋中的水，主要有河流水文学、冰川水文学、雪水文学、海洋水文学等
- D. 哲学主要分为理论哲学和实践哲学，实践哲学又分为政治哲学、道德哲学、美学等

154. 融资指一个企业资金筹集的行为与过程，可分为直接融资和间接融资。直接融资是不经过金融机构这一媒介，由政府、企事业单位及个人直接以最后借款人的身份与最后贷款人进行的融资活动。

根据上述定义，下列不属于直接融资的一项是（ ）。

- A. 某上市公司公开发行股票
- B. 某企业向银行贷款筹集资金新建生产线
- C. 政府发放国债投资建设高速铁路
- D. 某公司所有股东对其公司追加投资

155. 所谓饥饿营销是指商品销售商有意调低销售量，以期达到调控供求关系、制造供

不应求假象、维持商品较高售价和利润率的营销方式。饥饿营销也能达到维护品牌形象、提高产品附加值的目的是。

根据上述定义，下列采用饥饿营销手段的是（ ）。

- A. 商家对换季产品打折销售
- B. 某房产商推出新楼盘时，故意调高售价
- C. 某手机品牌在推出新产品的首天实行限量发售
- D. 某医院规定专家门诊每天限量挂号 40 人

156. 规模经济是指由于生产专业化水平的提高等原因，使企业的单位成本下降，从而形成企业的长期平均成本随着产量的增加而递减的经济；范围经济是指由企业通过扩大经营范围，增加产品种类，生产两种或两种以上产品而引起单位成本降低的经济。

根据上述定义，下列选项中不属于范围经济的是（ ）。

- A. 某电视机厂引进一批进口设备进行大批量生产，生产效率明显提高，成本降低
- B. 某饮料企业生产多种果汁，发现研发、生产、销售的成本比分别生产一种果汁要低
- C. 某商业银行原来只经营单一业务，在面临财务危机后进行了改革，混合经营理财、投资、保险等不同业务，整体效益增加
- D. 某广告公司做平面广告时利润非常少，于是公司拓展新业务，开始接拍各类宣传片，结果人员成本降低，企业抗风险能力也增强了

157. 强迫观念是以刻板形式反复进入患者意识领域的思想、表象或意向，这些思想、表象或意向对患者来说，是没有现实意义的、不必要的或多余的。患者意识到这些都是他自己的思想，很想摆脱却又无能为力，因而感到十分苦恼。

根据上述定义，下列属于强迫观念的是（ ）。

- A. 小文早上出门时总是忘记带钥匙，就算她前天晚上反复提醒自己，第二天还是会忘，为此她感到很苦恼
- B. 下午的汇报十分重要，但是小李对汇报数据检查了几遍仍然发现存在问题，于是抓紧时间又核对了好几遍
- C. 老张就餐时跟老板强调了不放辣椒，落座后无意瞥见厨师疑似在放辣椒，于是冲到厨房门口再次强调不放辣椒
- D. 小红吃饭前总是要反复洗手，她自己其实知道双手已经洗得很干净了，但就是控制

不住地想再洗干净一点

158. 缺陷补偿是指个体在充当社会角色时不可能事事成功，当自我角色目标失败时，常常可能会对相关的社会角色的重要性做重新评价，从而进行自我定义以补偿自己的角色缺陷。

根据上述定义，下列属于缺陷补偿的是（ ）。

A. 小王认为评上优秀员工是晋升的关键，因此当评选失利后决定在下一次评选中再接再厉

B. 小张有份很不错的的工作，他参加公务员考试是抱着试试看的态度，所以当他得知自己没有通过考试的时候并未觉得太遗憾

C. 袁女士离婚后全身心投入工作，取得了很大的成绩，她认为事业成功比婚姻幸福更为重要

D. 黄某大学毕业后求职不顺利，他觉得这是由于自己不是名牌大学毕业生，否则就业会容易的多

159. 乐队花车效应：人类经常会有一种倾向。去从事或相信其他多数人从事或相信的东西，就是所谓的“乐队花车效应”。为了不让自己在社会中孤立，所以社会个体常常不经思考就选择与大多数人相同的选择，而这种乐队花车效应，也是乐队花车谬误及乐队花车宣传发生的基础。

下列广告语中，不是利用乐队花车效应的一项是（ ）。

A. 别人都开始行动了，你还在犹豫什么

B. 专家的选择，值得信赖

C. 每小时售出超过 1000 件产品

D. 每五个医生中就有四个推荐使用我们的产品

160. 半途效应是指达到激励过程中的半途时，出于心理因素及环境因素的交互作用而导致的对于目标行为的一种负面影响。大量的事实表明，人的目标行为的中止期多发生在“半途”附近，在人的目标行为过程的中点附近是一个极其敏感和极其脆弱的活跃区域。

根据上述定义，下列涉及半途效应的是（ ）。

A. 甲想通过运动锻炼身体，一会他觉得篮球好玩，一会又觉得足球好玩，犹豫了很久还是没有决定选择哪种

B. 乙原来准备参加研究生考试，复习期间觉得题目太难，于是他便放弃备考，和同学一起参加了秋招

C. 小张被同学拉入了一个赌博群，刚开始他不愿意参加赌博，但在同学的怂恿下，他还是参与其中，尝到了一点甜头之后，后来还是决定戒赌

D. 丁周末去郊区游玩，走到一半突然下起了大雨，他决定下次再去

161. 晕轮效应，是指个体在评价他人时的一种以偏概全的倾向，也就是说当个体对一个人的某种特征形成好或坏的印象后，还倾向于根据此推论该人其他方面的特征。

根据上述定义，下列属于晕轮效应的是（ ）。

A. 学生王某的学习成绩不好，所以他的品行也不好

B. 李明同志向来很乐观，但是经历了家中的变故后，便一直郁郁寡欢

C. 小李经常给领导打水，今天因为有事耽搁了，领导便觉得小李也不是很勤快的

D. 小张自从那次车上被扒窃后，以后每次坐车都觉得其他所有的乘客都像小偷

162. 规模经济是指由于生产专业化水平的提高等原因，使企业的单位成本下降，从而形成企业的长期平均成本随着产量的增加而递减的经济；范围经济是指由企业通过扩大经营范围，增加产品种类，生产两种或两种以上产品而引起单位成本降低的经济。

根据上述定义，下列选项中不属于范围经济的是（ ）。

A. 某电视机厂引进一批进口设备进行大批量生产，生产效率明显提高，成本降低

B. 某饮料企业生产多种果汁，发现研发、生产、销售的成本比分别生产一种果汁要低

C. 某商业银行原来只经营单一业务，在面临财务危机后进行了改革，混合经营理财、投资、保险等不同业务，整体效益增加

D. 某广告公司做平面广告时利润非常少，于是公司拓展新业务，开始接拍各类宣传片，结果人员成本降低，企业抗风险能力也增强了

163. 全纳教育，是指接纳所有学生，反对歧视排斥，促进积极参与，注重集体合作，满足不同需求，是一种没有排斥，没有歧视，没有分类的教育。

根据上述定义，下列选项中片面理解了全纳教育的是（ ）。

A. 全纳教育是一种教育理想

B. 全纳教育是一种教育实践

C. “全纳”的实现必须依赖于一定的条件。

D. 全纳教育就是随班就读教育

164. 分布式能源系统是指各种集成或单独使用、靠近小型用户、容量范围在几千瓦到50兆瓦的模块化发电装置，其与能源管理和储存系统相结合，用于改善输电系统的运行。

根据上述定义，下列不属于部分是能源系统的是（ ）。

- A. 在医院附近设立模块化发电设备，保证医院供电稳定
- B. 在工业园区附近设置发电装置，以防电网崩溃影响生产
- C. 在社区附近设立发电装置，以防用电高峰期时电力不足而跳闸
- D. 在便利店里放置千瓦以内的小型发电机，以便在停电时应急

165. 侵犯人权，是指在一定的社会历史条件下，非法干涉或损害人民有权享受的权利的行为。

根据以上定义，下面哪种行为属于侵犯人权（ ）。

- A. 父母强迫厌学的儿童上学
- B. 依法取缔邪教组织
- C. 严惩走私
- D. 私设公堂，审问、拷打公民

166. 侵占罪是指以非法占有为目的，将代为保管的他人财物、遗忘物或者埋藏物非法占为己有，数额较大，拒不交还的行为。

根据以上定义判断，以下属于侵占罪的是（ ）。

- A. 郑某将其朋友罗某在出国前交给自己保管的名画据为己有且拒不退还
- B. 谢某因非常喜欢姚某寄存在自己处所的DVD，想据为己有，但在姚某的交涉下，又自动将DVD归还给姚某
- C. 李某为一国有公司的总经理，利用职务上的便利，侵吞公司财务达20多万元
- D. 赵某谎称能为王某治疗疾病，先后骗取王某现金8000多元，后被抓捕

167. 货币幻觉是指人们不是对实际价值作出反应，而是对用货币来表示的价值作出反应。

根据上述定义，下列选项符合货币幻觉的是（ ）。

- A. 两位员工在不同的公司做同样的工作，工资却不一样
- B. 通货膨胀时，即使工资涨了，应聘的人也不见多

- C. 很多人抱怨，这两年菜价越来越贵
- D. 人民币贬值时，更多的人愿意出国留学

168. 自我呈现是指个体为了建立、维持和提升自己在他人心目中的形象，向他人表明和呈现一系列关于自身信息的行为。

下列选项中最符合“自我呈现”要求的行为是（ ）。

- A. 王某在求职时向招聘人员做自我介绍
- B. 李某拍了大头照后作为自己的微信头像
- C. 张某在制作简历时附上自己的生活照和工作照
- D. 吴某在电话营销中给潜在的客户介绍产品情况

169. 口红效应指的是在经济危机时消费者更愿意购买相对廉价的奢侈品这样一个理论。在美国，每当在经济不景气时，口红的销量反而会直线上升，这是因为在经济不景气的情况下，人们仍然会有强烈的消费欲望，而口红作为一种“廉价的非必要之物”，可以对消费者起到一种“安慰”的作用。

根据上述定义，下列选项中符合口红效应的是（ ）。

- A. 小王最近手头比较紧，所以只能买打折的大米
- B. 虽然生活比较富裕，但节俭的小张还是总买廉价的日用品
- C. 虽然最近经济不景气，小赵还是坚持给自己买了一辆新款宝马车
- D. 虽然最近经济不景气，但节俭的小李却在每周末喝起了高档啤酒

170. 专利：专利有三种含义：（1）专利权，是指国家依法授予专利人对其专利产品在一定期限内所享有的专有专用的权利；（2）专利是指受专利法保护的创造发明，一般包括发明、实用新型和外观设计三种专利；（3）专利是指专利文献，其主要部分为记载发明创造内容的专利说明书。

下列不是专利的是（ ）。

- A. 花生厂家申请保护的独特外包装袋
- B. 张教授的书法作品及古玩
- C. 记录同仁堂炼药方法的秘笈，已申请专利局保护
- D. 国家专利局认可的太阳能新型灶具

171. 补偿性消费：指消费者通过消费来应对心理焦虑，补偿内心缺失的行为。

假设这个定义是正确的，不容置疑的，则下列属于补偿性消费的是（ ）。

A. 张先生下班高峰时段在路上被堵了一个小时，头脑发胀，口干舌燥，他决定去买一瓶冰镇饮料降降火

B. 李女士因家务繁杂与老公吵了一架，气愤的离开家之后，她独自一个人去逛街，为自己买了许多新衣服

C. 因为近段时间工作压力很大，小李打算周末约上一群朋友去郊外的草坪上踢一场球，放松一下心情

D. 小王的婚期将近，他的父亲坚决要大摆筵席，认为不请客就收不回以前的人情投资，为了补偿以前的支出，他们在饭店订了几十桌酒席

172. 文物是指历史遗留下来的，在文化发展史上有价值的东西。

根据以上定义，下列不属于文物的是（ ）。

A. 秦兵马俑

B. 天安门城楼

C. 周口店猿人遗址

D. 黄果树瀑布

173. 潜伏需求是指相当一部分消费者对某种商品或服务有强烈的需求，而现有产品或服务又无法使之满足的一种需求状况。

根据以上定义，以下最能体现“潜伏需求”的是（ ）。

A. 某市所售楼盘多为三居室大户型，让想在这里安家的工薪阶层望而却步

B. 某药厂推出的中药降糖保健品在部分程度上可以取代药品，常供不应求

C. 目前市场上的防辐射孕妇装抵御电子产品辐射的有效率是多少尚不明确

D. 新型的电动游戏机带有护眼功能，想必可以说服一些学生家长前来购买

174. 大众传播是指专业化的媒介组织通过一定的传播媒介，在国家的管理下，对受众进行大规模的信息传播活动。

下列不属于大众传播的是（ ）。

A. 某报刊刊登了某传染病的最新传播情况

B. 某电台开通了法治热线，接受听众的咨询

C. 某新闻频道对国家领导人的外事活动进行了直播

D. 某市政府网站开办市民专栏，就民生问题回答市民的问题

175. 海洋能，是指依附在海水中的可再生能源，海洋通过各种物理过程接收、储存和散发能量，这些能量以潮汐、波浪、温度差、盐度梯度、海流等形式存在于海洋之中。

根据上述定义，下列不属于利用海洋能的是（ ）。

- A. 甲海洋工程公司利用海水的日夜温差为工程机械提供电力
- B. 乙船舶公司利用海水盐度差为轮船提供照明
- C. 丙能源公司利用海面上气流为居民提供照明
- D. 丁发电厂利用潮汐为造船厂提供电力

176. 三代人权说是国际上广为流传的一种人权分类方式，第一代人权是指公民权利和政治权利，第二代人权是指经济，社会和文化权利，第三代人权成型于 20 世纪 60 年代，被称作集体人权。

下列权利中属于第二代人权的是（ ）。

- A. 民族自治权、发展权、环境权
- B. 生命权、人身自由与安全权
- C. 休息权、健康权、社会保障权
- D. 选举权和被选举权、言论、出版、集会等权利

177. 灰色信息，是指没有公开的、潜在的信息，且需要通过一些合法的、特定的渠道才能获取的信息。

根据上述定义，下列属于灰色信息的是（ ）。

- A. 提前泄露的大学英语四级考试题
- B. 某国军队最新研发的核潜艇图纸
- C. 某上市公司制定的新股发行计划
- D. 连锁超市各品牌牙膏的销售情况

178. 以不同利益群体（或个人）的存在和目标物的稀缺为前提的，社会上人与人、群体与群体之间，对于一个共同目标的争夺就是竞争。

根据上述定义，下列行为中不属于竞争关系的是（ ）。

- A. 2009 年世界斯诺克英国锦标赛，丁俊晖以 10：8 战胜希金斯，获得冠军
- B. 有关资料显示，2010 年度有 100 余万人参加国家公务员录用考试

C. 2009年12月9号，拜仁慕尼黑队以四比一战胜尤文图斯队，获得欧冠小组赛的出线权

D. 公司的联欢晚会上，大家开展了歌曲联唱活动

179. 外部不经济，是指某种经济行为对其本身和外部产生出来的负效益。

根据上述定义，下列属于外部不经济现象的是（ ）。

A. 上游居民大量植树的行为改善了下游居民的水源，却未收取费用

B. 学校周边钢厂的烟囱冒出黑色灰尘

C. 某个开放源代码软件任人使用，不收取任何使用费

D. 将垃圾进行分类，分别投入对应的垃圾箱

180. 双刃剑：喻指某种力量或某种举措会产生积极和消极两方面的作用。

下列不属于双刃剑的是（ ）。

A. 政治关联一方面使企业享受更多融资便利，另一方面由于政治家可能向企业寻租而降低企业的经济效益

B. 多媒体教学既有生动直观和信息共享的优点，却也有教学过程预设性太强的缺点

C. 课程改革既激发了广大教师教学研究的热情，又催生了一批富有创造活力的青年教师

D. 科学技术既可以造福社会，也可能给人类带来灾难

181. 金融监管：指一国的金融管理部门为达到稳定货币，维护金融业正常秩序等目的，依照国家法律，行政法规的规定，对金融机构及其经营活动实施外部监督，检查和对其违法行为进行处罚的一系列行为。

根据上述定义，下列属于金融监督行为的是（ ）。

A. 接到群众举报，电视台的记者对某银行服务情况进行了秘密采访

B. 中国银监会对银行业监管规章和规范性文件进行了全面清理，并于某年7月将清理结果向社会公布

C. 湖南省银监局督促辖内银行业金融机构采取具体措施，支持农资部门稳定市场供应，确保春耕

D. 中国证监会要求广大稽查干部切实落实“及时发现、及时制止、及时查处”的方针，加大证券执法力度

182. 调查显示, 59.4%的公众感觉当前社会“逆淘汰”现象普遍, 其中18.8%的人觉得“非常多”。所谓“逆淘汰”, 简言之, 即指坏的淘汰好的, 劣质的淘汰优质的, 平庸的淘汰杰出的等现象。

根据上述定义, 下列属于逆淘汰现象的是()。

- A. 某公司拥有领先的卫星通话技术, 语音质量高, 覆盖范围广, 但该技术的维持费用高昂, 后来该公司入不敷出, 宣告破产
- B. 市场上某些价格高昂的止咳药疗效实际不如价格低廉的常用药, 而事实上常用药所占市场份额较小
- C. 许多公司都有对工作发牢骚的人, 结果, 凡是公司中有对工作发牢骚的人, 那家公司一定比没有这种人的公司要成功得多
- D. 名牌大学毕业的甲和普通大学毕业的乙同时进入某国际知名公司, 但甲始终未获提升, 乙却逐渐得到了公司的认可

183. 社会调整就是通过一定的社会权威, 确定社会生活主体的行为方式, 指明其发挥作用和发展的方向, 有目的地将其纳入一定的秩序之中。社会调整根据其作用于人们行为的方式, 和人们服从它的原因, 可分为内在调整和外在调整。内在调整是人们学习一定社会群体的行为规定, 外在调整则是通过外部压力使人们遵守一定社会规范的过程。

根据上述定义, 下列各项中属于内在调整的是()。

- A. 社会舆论的监督也是实现领导干部廉洁自律的途径之一
- B. 三岁的小芳在父母的教育下知道了过马路要走斑马线
- C. 某地在警方新一轮的整肃之下, 社会秩序明显好转
- D. 改革开放以来, 国家高度重视并奖励科研, 高水平成果层出不穷

184. 社会约定是指某个形式与其所代表的意义之间的关系, 由社会成员共同认定并遵守的, 两者之间没有必然的联系。

以下属于社会约定的是()。

- A. 谷雨前后, 种瓜点豆
- B. 考古墓葬中头骨上的箭头意味着非正常死亡
- C. 红灯停, 绿灯行
- D. 黄疸意味着肝脏疾病

185. 大数据分析指的是对数据量巨大到无法通过人工方法在合理时间内截取、管理、处理并整理的数据进行分析，使其成为人类所能解读的信息。在总数据量相同的情况下，与个别分析独立的小型数据合并后进行分析可得出许多额外的信息和数据关系性特性，可用来察觉商业趋势、判定研究质量、避免疾病扩散、打击犯罪或测定实时交通路况等。

根据上述定义，下列不属于大数据分析的是（ ）。

- A. 日本“N系统”全年无休地采集路上行驶车辆的拍照和路线并记入数据库，可供警察在调查办案时调用资料，查找嫌犯
- B. 警察局通过分析城市数据源和社交网络数据，能够发现犯罪趋势和犯罪模式，对重点区域的犯罪概率等进行预测
- C. 婚恋网站的研究员通过分析7000多张个人照片，并基于每个用户收到的信息数量来确定哪些照片最有利于在线约会成功
- D. 商家在其数据仓库中收集了700多万部冰箱的数据，通过分析确定主动维修的对象以降低整体耗能

186. 税收筹划是指在法律法规许可的范围内，通过对经营、投资、理财活动的事先筹划和安排，尽可能节税的经济行为。

根据上述定义，下列属于税收筹划的是（ ）。

- A. 某日化企业因为市场占有率降低，致使当年利润和应交税费同比减少
- B. 某汽车制造商合理利用会计政策，使本年度的应交税费同比减少
- C. 某企业招聘大量专业人才，成本急剧上升而产生亏损，致使应交税费下降
- D. 某地突发地震，一企业及时做出反应，捐款捐物，减少了本年度应交税款

187. 矩阵对策是指处于利益竞争的两个关系主体，各自可选的策略有限，且在一局对策中双方得失和为零的现象，即要不成功、要不失败。对策中，一方真正成功的措施应该是，针对对方所采取的行动相应地制定有利于自己的应对策略，各方选择的策略必定是自己对对方策略预测的最佳反应。

根据上述定义，下列属于矩阵对策的是（ ）。

- A. 在进入奥运女子排球决赛后，某国家队重新安排队员阵容和出场顺序
- B. 齐王和田忌按原条件重新赛马，并约定每局比赛须用同等级的马参赛
- C. 劳资双方进行薪资谈判，经过反复的讨价还价，最终双方都作出让步

D. 丈夫要去踢球，妻子要去看电影，儿子要去游乐园，最后三人去郊游

188. 红旗原则是指如果侵犯著作权的事实是显而易见的，网络服务商就不能装作看不见，或以不知道侵权的理由来推脱责任。

根据上述定义，下列适用红旗原则的情形是（ ）。

A. 未经用户许可，某客户端 APP 软件就能够自动扫描，获取用户个人数据

B. 邵兵通过第三方在有下载功能的互联网电视上获取未经授权的节目

C. 程志武上传正在首播的某热门电视剧，并被网站编辑推荐到下载首页

D. 柳杨利用网络服务商提供的免费存储空间，非法经营盗版影视作品

189. 行政强制是指行政机关为了预防或制止正在发生或可能发生的违法行为、危险状态以及不利后果，或者为了保全证据、确保案件查处工作的顺利进行而对相对人的人身、财产予以行政强制的一种具体行政行为。

根据上述定义，下列属于行政强制的是（ ）。

A. 责令停产停业

B. 行政拘留

C. 强制扣留

D. 吊销行政许可证件

190. 政治参与是指公民通过一定的方式直接或间接地影响政府的决定或与政府活动相关的公共政治生活的活动。

根据以上定义，下列不属于政治参与的是（ ）。

A. 张大爷十分关心党和政府的政策走向，每天按时收看新闻频道节目

B. 李某是一名法律工作者，每次法律修订向社会公开征集意见的时候，他总是积极提出建议

C. 全国“打黑办”官方微博正式开通后，不少网友留言提供涉黑线索

D. 王某从报纸上得知市委决定开展“问政于民、问需于民、问计于民”的“三问”活动，于是写信向市委反映自己的

191. 社会交换是指旨在期望别人给与一定社会报酬的一种自愿性行为。社会报酬有两类：一是内在性报酬，即从社会交换活动本身取得的报酬，比如感激和赞赏等；二是外在性报酬，即在社会交换关系以外取得的报酬，如金钱、商品等。

根据上述定义，下列选项中不属于社会交换行为的是（ ）。

- A. 小林为了获得女朋友的赞赏而为其画了一幅画
- B. 小张为了获得报酬而利用课余时间做家教
- C. 小米在路边捡到一个钱包后交给警察并悄悄离去
- D. 小马为获得公司优秀员工的奖金而发奋工作

192. O2O 的营销方式，即 Online To Offline，指以互联网为前台，用线上营销带动线下消费的商业营销模式。通常包括商家网上提供商品信息、折扣信息、服务预订、消费者在线预付、线下消费等环节完成商品交易。

下列不属于 O2O 营销方式的是（ ）。

- A. 某公司推出线上、线下同价促销活动，旗下的网上商城和实体店所有商品价格相同，一时间网上商城订单量剧增，到实体店提货的人也摩肩接踵
- B. 小兰在时装杂志上看到了一款心仪的长裙，通过某比价网站发现单位附近一家商场，同款长裙正在打折促销，于是趁中午休息时间买了回来
- C. 女朋友生日临近，小袁从网上团购了某酒店的自助餐消费券，邀请多名好友为女朋友开了一个难忘的生日派对
- D. 某家厂商利用微信平台向订阅用户定期推送新品上市、促销信息，用户用手机扫描推送消息中商品下方的二维码即可完成支付，等待附近门店完成配送

193. 假设就是根据已知的科学原理和一定的事实材料，对未知事物的普遍规律性和因果性所做出的假定性解释。

根据以上定义，下列不属于假设的是（ ）。

- A. 艾滋病是由支原菌和艾滋病病毒引起的
- B. 世界气候逐渐变暖是大气的因素，或是海洋的因素，或是地球内部的因素
- C. 民法中的“宣告死亡”
- D. 能溶解一切物质的“万能溶液”

194. 选择性曲解是指人们面对客观事物，经常会不自觉地把自己固有的价值体系和既定的情感好恶来解释所接受信息的倾向。

根据上述定义，下面属于选择性曲解的是（ ）。

- A. 厌恶和尚，恨及袈裟
- B. 入山问樵，入水问渔
- C. 头痛医头，脚痛医脚
- D. 一叶障目，不见泰山

195. 黄金手铐：指一种合同协议制度，根据合同协议，安于现职的企业高层管理者将获得高额佣金和分红，如果离开企业，则将向企业支付大笔罚金。设计这种合约的目的是为了防止企业高层管理者频繁更换公司，影响公司利益。

根据上述定义，下列合同条款属于“黄金手铐”的是（ ）。

- A. 续签 3 年以上就业合同的员工，工资薪酬在原有的基础上上涨 30%
- B. 部门经理任职 5 年以上，成绩卓越者，将获得出国进修的机会
- C. 总经理任职期间，由公司负责进修 MBA 等与工作有关的学习费用，离职之时须退还相关费用
- D. 公司总裁任职期间实行弹性工作制，年终按公司业绩获取分红，劳动合同有效期间离职，须支付其年薪 1.5 倍的补偿金

196. 反暗示，是指暗示所引起的相反指向，暗示的实际效用与暗示的目的相反。

根据上述定义，下列情形体现了反暗示的是（ ）。

- A. 小高的家长对其管教非常严格，导致小高经常想冲破束缚，做出出格的行为
- B. 某公司的考勤制度十分严格，但仍旧无法制止员工迟到的现象
- C. 某品牌洗发水广告夸大产品功效，不少消费者对此感到怀疑，因而不敢购买
- D. 老师经常夸赞小方的语言天赋很高，因此小方的语文学习成绩越来越好

197. 群体规范包括正式规范和非正式规范，前者是指由组织明文规定的员工应遵循的规则和程序；后者是指人们在工作与生活过程中约定俗成的行为准则，该规范的形成受到历史的、习惯的、群体目的性的和社会因素的影响，同时也在很大程度上受到模仿、暗示、顺从等心理因素的制约，在群体成员彼此相互作用的条件下，发生的一种内化的过程。

根据上述定义，下列不属于非正式群体规范的是（ ）。

- A. 公司要求每位员工在刚入职时签署保密责任书
- B. 由于受到描写黑帮的电影影响，一些青少年往往容易进行简单的模仿，形成各种“帮”“会”等组织

- C. 春节是一家人团聚的时刻，北方人常常要在除夕夜包饺子，而南方人则是煮汤圆
- D. 在举手表决时，尽管有些人不赞成提案，但碍于情面，也会举手赞成

198. 非爱行为，指以爱的名义，对自己亲近的人进行非爱性的掠夺，即违背他人主观意愿，在精神与行为方面强制控制，迫使对方按照施控者的意愿去行为做事，这一行为往往发生在夫妻、恋人、父母与子女等最亲近的人之间。

根据上述定义，下列属于非爱行为的是（ ）。

- A. 张某按照医嘱，要求女儿每三个小时做一次牵引，以消除疼痛
- B. 林某强迫儿子每天练琴 3 小时，争取在钢琴大赛中取得好成绩
- C. 陈某为防止精神病的女儿逃逸，将其关在地下室禁止其出入
- D. 李某按照轮流陪护协议，要求妻子前往医院陪护患重病的母亲

199. 有机食品也叫生态食品、生物食品，是目前国际上对无污染天然食品比较统一的提法。有机食品是指来自于有机农业生产体系的食物，有机农业是指一种在生产过程中不使用人工合成的肥料、农药、生长调节剂和饲料添加剂的可持续发展的农业，它强调加强自然生命的良性循环和生物多样性。有机食品认证机构通过认证证明该食品的生产、加工、储存、运输和销售等环节均符合有机食品的标准。

根据上述定义，下列哪项不属于有机食品生产、加工的基本要求（ ）。

- A. 生产基地未使用过农药、化肥等违禁物质
- B. 作物在收获、清洁、干燥、储存和运输过程中未受化学物质的污染
- C. 种子或种苗来自自然界，未经基因工程技术改造过
- D. 种子或种苗在自然环境下生长，避免在温室大棚内种植

200. 善意取得，是指无权处分他人动产的占有人，将其不法占有他人的动产让与第三人后，如果受让人在取得该动产时没有恶意的共谋，即取得该动产的所有权。

根据上述定义，下列不属于善意取得的是（ ）。

- A. 甲出差前将家中一台彩电交由邻居乙保管。在甲出差期间，乙将彩电卖给丙，丙以为彩电为乙所有，便以合理价款购得该彩电
- B. 刘某因出国留学，将自己家中一副名画委托好友李某保管。后李某因急需用钱，便将字画卖给不知情的王某
- C. 甲拥有一头牛，甲将牛借给乙使用，乙将该牛卖给了丙，牛在丙家饲养不到半月便

丢失，被丁拾得，后丁以市场价将牛卖给了戊

D. 某建筑公司员工张某在建筑工地上挖到价值不菲的古钱币

第三章 类比推理

1. 净化：污染
 - A. 转移：损失
 - B. 宣泄：压力
 - C. 拖沓：及时
 - D. 纵容：约束
2. 为虎添翼：如虎添翼
 - A. 耸人听闻：骇人听闻
 - B. 一字不差：一字不落
 - C. 无所不至：无所不知
 - D. 好为人师：善为人师
3. 含苞：怒放：凋零
 - A. 输入：运作：输出
 - B. 上午：晌午：下午
 - C. 新日：烈日：夕阳
 - D. 备料：烹饪：美食
4. 甘蔗：甜菜
 - A. 桃花：花蜜
 - B. 钢管：钢架
 - C. 水稻：大米
 - D. 油菜籽：花生
5. 露珠：冷凝
 - A. 石油：提炼
 - B. 手术：消毒
 - C. 毒素：中毒
 - D. 酸奶：发酵
6. 责任：推诿：承担
 - A. 牢笼：编织：冲破
 - B. 环境：污染：保护
 - C. 言语：障碍：沟通
 - D. 任务：明确：执行
7. 内人：妻子
 - A. 犬子：令郎
 - B. 老夫：老爷
 - C. 家父：父亲
 - D. 家兄：家嫂
8. 英国：美国：亚洲
 - A. 中国：埃及：大洋洲
 - B. 日本：韩国：欧洲
 - C. 南非：法国：非洲
 - D. 德国：巴西：南美洲
9. 特仑苏：牛奶
 - A. 南瓜：瓜果
 - B. 阿玛尼：西服

- C. 皮鞋：布鞋
D. 温水：热水
10. 水表：立方米
A. 温度计：度
B. 气压计：压力
C. 热量表：千卡
D. 雨量计：厘米
11. 发达：落后
A. 美味：可口
B. 勤奋：努力
C. 智慧：聪明
D. 强壮：虚弱
12. 失眠：睡眠：嗜睡
A. 失忆：记忆：回忆
B. 苗条：体重：肥胖
C. 厌食：食物：贪食
D. 抑郁：情绪：躁狂
13. 舅舅：外甥
A. 祖父：父亲
B. 丈人：女婿
C. 姑父：姑姑
D. 媳妇：儿子
14. 田野：小麦：麦粒
A. 水塘：鲤鱼：鱼籽
B. 林场：树木：枯枝
C. 牧场：牛群：牛尾
D. 海洋：鱼鳍：鲨鱼
15. 瓢：舀水
A. 水泥：建房
B. 船桨：船帆
C. 水杯：解渴
D. 血：循环
16. 违规：草坪：践踏
A. 违和：鲜花：观赏
B. 违法：他人：诬陷
C. 违章：遮挡：车牌
D. 违令：命令：遵守
17. 针筒：注射器：医疗器材
A. 飞机：螺旋桨：飞行设备
B. 潜艇：核潜艇：核反应堆
C. 法制史：法学：社会科学
D. 泳衣：比基尼：游泳服饰
18. 发掘 对于 () 相当于 () 对于 机会
A. 挖掘；抓住
B. 潜力；把握
C. 考古；失踪
D. 坟墓；静寂

19. 粤：广州：羊城
- A. 鲁：济南：泉城
B. 滇：昆明：花城
C. 鄂：武汉：星城
D. 黔：成都：山城
20. 无忧：无虑
- A. 窈窕：淑女
B. 甜言：蜜语
C. 悲欢：离合
D. 明察：秋毫
21. 神采飞扬：无精打采
- A. 愁眉苦脸：垂头丧气
B. 运动鞋：皮鞋
C. 钢笔：笔尖
D. 欢天喜地：悲痛欲绝
22. 未婚：无权
- A. 国家：不丹
B. 非法：无理
C. 无锡：非党员
D. 不倒翁：不健康
23. 临渴掘井：临阵磨枪
- A. 安分守己：安然无恙
B. 别有天地：别出心裁
C. 千锤百炼：千磨万击
D. 披荆斩棘：披星戴月
24. 甲鱼：爬行动物
- A. 圆锥：圆柱
B. 律诗：五律
C. 相声：曲艺
D. 火车：飞机
25. 四方：东南西北
- A. 四季：春夏秋冬
B. 四色：赤橙黄绿
C. 身份：士农工商
D. 情绪：喜怒哀乐
26. 籍籍无名：平凡
- A. 处心积虑：复杂
B. 深不可测：广泛
C. 虚怀若谷：谦逊
D. 脱颖而出：幸运
27. 排长：连长
- A. 助教：讲师
B. 太师：太傅
C. 奇数：偶数
D. 熊市：牛市
28. 外耳：中耳：内耳

- A. 花萼：花瓣：花蕊
B. 粉红：桃红：梅红
- C. 小学：中学：大学
D. 洗脸：洗头：洗澡
29. 爱不释手 对于 () 相当于 () 对于 半途而废
- A. 弃若敝屣；坚持不懈
B. 爱屋及乌；虎头蛇尾
- C. 水滴石穿；在所不惜
D. 如数家珍；前功尽弃
30. 压强：面积
- A. 距离：速度
B. 产量：质量
- C. 电流：电压
D. 效率：时间
31. 物理 对于 () 相当于 () 对于 教师
- A. 学生；学校
B. 化学；律师
- C. 宇宙；校园
D. 实验；科学
32. 木材：抽屉：收纳
- A. 钢铁：钳子：切割
B. 棉花：毛线：保温
- C. 城墙：石头：防御
D. 橡胶：气垫：缓冲
33. 教育：人才：企业
- A. 考古：文物：博物馆
B. 教师：学生：教室
- C. 耕种：庄稼：农民
D. 培训：员工：社会
34. () 对于 李商隐 相当于 “清明时节雨纷纷，行人路上欲断魂” 对于 ()
- A. “千山鸟飞绝，万径人踪灭”；李白
B. “向晚意不适，驱车登古原”；杜牧
- C. “野旷天低树，江清月近人”；孟浩然
D. “空山不见人，但闻人语响”；白居易
35. 锻炼：强壮
- A. 生产：销售
B. 奋斗：成功
- C. 危险：灾难
D. 节能：减排
36. 录取：落榜
- A. 签约：解约
B. 开源：节流

- C. 存款：借款
D. 上班：下班
37. 意见：反对
A. 观点：支持
B. 效果：显现
C. 建议：解释
D. 成功：获得
38. 政策：规范
A. 法律：约束
B. 新闻：反对
C. 历史：人物
D. 制度：修改
39. 发球：拦网：得分
A. 满月：圆月：望月
B. 构思：写作：发表
C. 陆地：荒地：碱地
D. 水果：鲜果：果品
40. 推卸：推脱
A. 僭越：覬觐
B. 巡礼：巡视
C. 直观：直觉
D. 卸任：离任
41. 美术：音乐
A. 芭蕉：牡丹
B. 雕塑：艺术
C. 歌手：架子鼓
D. 算盘：心算
42. 高兴：悲痛万分
A. 燥热：阴雨绵绵
B. 美丽：惊天动地
C. 幸运：甘之如饴
D. 遗忘：永记于心
43. 端午节：粽子
A. 元宵节：灯谜
B. 清明节：菊花
C. 春节：饺子
D. 中秋节：嫦娥
44. 酗酒：伤身
A. 刻苦：天赋
B. 地震：预报
C. 播种：秋天
D. 超速：违章
45. 瑕疵 对于 () 相当于 () 对于 偏见
A. 缺点；成见
B. 优点；看法
C. 消除；减小
D. 美化；交流

46. 军人：医生：军医
- A. 司机：警察：交警
B. 舞蹈：说唱：二人转
C. 学科：研究：科研
D. 汽车：电动车：电动汽车
47. 下载：使用：卸载
- A. 创新：试点：推广
B. 复习：考试：录取
C. 污染：治理：举报
D. 签约：执行：违约
48. 见异思迁：忠贞不二
- A. 佳偶天成：夫唱妇随
B. 刚愎自用：刚正不阿
C. 流芳百世：遗臭万年
D. 近朱者赤：近墨者黑
49. 意志：磨炼
- A. 校对：仔细
B. 品德：思想
C. 卓越：追求
D. 灵魂：净化
50. 偏袒 对于 () 相当于 () 对于 健康
- A. 公平：生病
B. 溺爱：活跃
C. 威信：虚弱
D. 自私：平和
51. 胸腺：胸腺素
- A. 甲状腺：肾上腺
B. 红色：蓝色
C. 垂体：生长激素
D. 紫外线：阳光
52. 牙刷：牙膏：水
- A. 老师：学生：水
B. 键盘：鼠标：电
C. 汽车：轮胎：油
D. 农民：作物：田
53. 距离：里程表
- A. 风：风速
B. 汽油：转速表
C. 温度：温度计
D. 海洋：深度表
54. 喜欢：讨厌
- A. 热爱：拥护
B. 晚：迟
C. 炎热：寒冷
D. 高兴：愉快
55. 观众：电视：新闻

- A. 工人：工厂：纪律
B. 电工：电笔：电线
- C. 学生：教师：知识
D. 消费者：消费指南：优惠信息
56. 发动机 对于 () 相当于 () 对于 人体
- A. 电源；食物
B. 汽车；心脏
- C. 速度；大脑
D. 速度；心情
57. 棉花：商品
- A. 代数：数学
B. 数学：几何
- C. 南京：江苏
D. 学生：成人
58. 面包：黑麦
- A. 冰川：冰雪
B. 蚕茧：丝绸
- C. 桌子：紫檀
D. 珍珠：牡蛎
59. () 对于 美丽 相当于 春风满面 对于 ()
- A. 笑靥如花；兴奋
B. 楚楚动人；愉快
- C. 心地善良；滋润
D. 眉开眼笑；高兴
60. 肥沃：土地
- A. 保持：清醒
B. 办事：谨慎
- C. 开朗：心情
D. 天气：晴朗
61. 座谈：问题
- A. 水灾：水田
B. 协商：妥协
- C. 疏通：拥堵
D. 复印：打印
62. 游客：公园：跳舞
- A. 铅笔：本子：写字
B. 蜻蜓：湖泊：产卵
- C. 火山：海底：爆发
D. 宠物：笼子：生病
63. 教室：自习
- A. 食堂：用餐
B. 书本：封皮
- C. 莲花：池塘
D. 文章：杂志
64. 荷花：莲子
- A. 绿豆：豆芽
B. 韭菜花：韭菜

- C. 大蒜：蒜苗
D. 葵花：葵花子
65. 梅：孤傲：品质
A. 火：热情：性格
B. 月饼：团圆：食品
C. 鸽子：和平：象征
D. 红灯：禁行：信息
66. 道德：行为：约束
A. 权力：人民：服务
B. 信仰：图腾：崇拜
C. 教师：教育：学生
D. 法律：犯罪：惩治
67. 歌曲：演唱会
A. 球迷：足球赛
B. 博士：研究所
C. 企业：招聘会
D. 产品：发布会
68. 金子：银子
A. 电脑：汽车
B. 王阳明：格物论
C. 韭菜：洋葱
D. 唐诗：贺知章
69. () 对于 知识 相对于 分析 对于 ()
A. 书本；理论
B. 学习；问题
C. 研究；讨论
D. 老师；经验
70. 风险 对于 () 相当于 制度 对于 ()
A. 巨大；激进
B. 信用；管理
C. 规避；完善
D. 减少；缺失
71. 农民工：城市
A. 学生：老师
B. 总经理：员工
C. 知青：农村
D. 厨师：餐馆
72. () 对于 博物馆 正如 商品 对于 ()
A. 考古；货架台
B. 艺术；工厂
C. 文物；超市
D. 展览；贸易
73. 风险 对于 () 相当于 制度 对于 ()
A. 巨大；激进
B. 信用；管理
C. 规避；完善
D. 减少；缺失

74. 农民工：城市

A. 学生：老师

B. 总经理：员工

C. 知青：农村

D. 厨师：餐馆

75. () 对于 博物馆 正如 商品 对于 ()

A. 考古；货架台

B. 艺术；工厂

C. 文物；超市

D. 展览；贸易

76. 冷漠：冷酷：热情

A. 束缚：禁锢：解放

B. 顽强：强烈：开放

C. 劳动：薪水：工资

D. 海水：盐分：氯化钠

77. 排长：连长

A. 助教：讲师

B. 太师：太傅

C. 奇数：偶数

D. 熊市：牛市

78. 外耳：中耳：内耳

A. 花萼：花瓣：花蕊

B. 粉红：桃红：梅红

C. 小学：中学：大学

D. 洗脸：洗头：洗澡

79. 钻石：坚硬

A. 歌曲：演唱

B. 城市：繁华

C. 连队：团结

D. 黄连：苦涩

80. 雷达：探测：蝙蝠

A. 电灯：发光：萤火虫

B. 电子蛙眼：辨别：青蛙

C. 飞机：飞行：鸟类

D. 鼠标：定位：老鼠

81. 莲花 对于 () 相当于 () 对于 相思

A. 自恃：连枝

B. 高洁：红豆

C. 君子：断桥

D. 廉政：七夕

82. 可口：饭菜

A. 高兴：开心

B. 郑重：答案

C. 活跃：气氛

D. 团圆：月亮

83. 嘈杂 对于 () 相当于 () 对于 平坦

- A. 寂静；崎岖
B. 喧闹；陡峭
C. 安静；平顺
D. 声音；道路
84. 花木：盆景
A. 显示器：电脑
B. 石头：假山
C. 公路：运输
D. 树木：森林
85. 竞争：共赢
A. 博弈：和棋
B. 买卖：互惠
C. 判决：和解
D. 球赛：平局
86. 计算 之于 () 相当于 实验 之于 ()
A. 推理；逻辑
B. 物理；天文
C. 数学；化学
D. 大脑；助手
87. 阳光：取暖器
A. 蜡烛：手电
B. 水笔：铅笔
C. 清风：风扇
D. 老鼠：鼠标
88. 耳环：手镯
A. 水：溶液
B. 医院：学校
C. 开始：停止
D. 教师：职业
89. 博物馆：展品：展览
A. 超市：销售：水果
B. 农场：生菜：蔬菜
C. 学校：学生：学习
D. 工厂：原料：生产
90. 墨斗：画线：木匠
A. 剪刀：裁剪：裁缝
B. 石板：浮雕：雕匠
C. 雷达：天线：军人
D. 粉笔：黑板：教师
91. 微波炉：微波
A. 电脑桌：电脑
B. 信号灯：信号
C. 洗衣机：洗衣
D. 螺丝钉：螺丝
92. () 对于 轿车 相当于 牡丹 对于 ()
A. 吉普；雪花
B. 卡车；菊花

- C. 音乐；舞蹈
D. 太阳；夜晚
93. 备课：讲课：教学
A. 吃饭：洗澡：睡觉
B. 尊老：爱幼：美德
C. 致辞：剪彩：开幕
D. 寒露：霜降：节气
94. 唇亡：齿寒
A. 落叶：归根
B. 大惊：小怪
C. 仁至：义尽
D. 人微：言轻
95. 大学生：青年
A. 北极熊：北冰洋
B. 蚕豆：四季豆
C. 西红柿：番茄
D. 作家：教师
96. 显微镜：观察
A. 书：扉页
B. 宇宙：星星
C. 天气：大气
D. 软盘：存储文件
97. 信件：联系
A. 风车：发电
B. 读书：工作
C. 广告：销量
D. 手术：治疗
98. () 对于 牛奶 相当于 豆腐 对于 ()
A. 乳酸菌；黄豆
B. 腐竹；奶粉
C. 灭菌；豆腐花
D. 奶酪；豆浆
99. 港口：停泊
A. 铁路：运输
B. 警察：破案
C. 法官：诉讼
D. 医生：手术
100. ()：刺激消费：发消费券 相当于 增加体重：鼓励进食：()
A. 消除贫困；多吃肉类
B. 金融安全；餐费打折
C. 消除危机；调换品味
D. 扩大内需；用餐免费
101. 氧气 对于 () 相当于 浮力 对于 ()
A. 燃烧；漂流
B. 空气；重力
C. 氧化；上升
D. 密度；体积

102. 氧气：燃烧

A. 暴雨：涨水

C. 细菌：生病

103. 泊：镜子

A. 月亮：风车

C. 草原：灯

104. 百发百中：弹无虚发

A. 转弯抹角：开门见山

C. 阳春白雪：下里巴人

105. 国家：瑞士

A. 无锡：宜兴

C. 戏剧：话剧

106. 铅笔芯：石墨

A. 酸雨：盐酸

C. 碘盐：氯化钠

107. 手链 对于 () 相当于 工资 对于 ()

A. 精美：工作

C. 饰品：收入

108. 中秋节：月饼

A. 劳动节：鲜花

C. 端午节：粽子

109. 一饭千金：忘恩负义

A. 见异思迁：忠贞不二

C. 刚愎自用：刚正不阿

110. 铅笔：木材

A. 花朵：芳香

C. 米酒：米

111. 学习：学生：知识

B. 炸药：爆炸

D. 水：生存

B. 雪花：鹅毛

D. 大海：口袋

B. 绣花枕头：华而不实

D. 畅所欲言：侃侃而谈

B. 电脑：键盘

D. 河流：长江

B. 石钟乳：石笋

D. 太阳光：自然光源

B. 手镯：工人

D. 手腕：津贴

B. 春节：晚会

D. 圣诞节：圣诞树

B. 汗马功劳：汗牛充栋

D. 厝火积薪：扬汤止沸

B. 喜讯：开心

D. 名人：默默无闻

- A. 瑜伽：练习：减肥
B. 工作：公务员：能力
C. 养护：树苗：成长
D. 企业：创新：业绩
112. () 对于 奋不顾身 相当于 见利忘义 对于 ()
A. 大公无私；德高望重
B. 见义勇为；损人利己
C. 壮志凌云；贪生怕死
D. 斤斤计较；舍己为人
113. 棕熊 对于 () 相当于 () 对于 迁徙
A. 本能；鸟类
B. 繁殖；鱼类
C. 动物；习性
D. 冬眠；候鸟
114. 毛毯：羊毛
A. 二维码：识别
B. 苹果醋：苹果
C. 小麦：面包
D. 书桌：衣柜
115. 制定：执行：政策
A. 设计：发放：问卷
B. 播放：快进：磁带
C. 预习：复习：考试
D. 复制：修改：文稿
116. 曹七巧：张爱玲
A. 杜甫：李白
B. 于连：狄更斯
C. 林徽因：郭沫若
D. 骆驼祥子：老舍
117. 历史：明智
A. 新闻：广播
B. 法律：约束
C. 制度：学问
D. 政策：援藏
118. 国防 对于 () 相当于 () 对于 医生
A. 军事；医学
B. 国家；治疗
C. 战争；健康
D. 抵御；手术
119. 潜水艇 对于 () 相当于 () 对于 蝙蝠
A. 鱼；雷达
B. 军事；生物
C. 核动力；超声波
D. 海洋；山洞
120. 手表：时间
A. 汽车：速度
B. 苹果：果汁

- C. 电影票：影院
D. GPS：定位
121. 拍摄：剪辑：放映
A. 诊断：检查：康复
B. 编辑：征稿：出版
C. 化妆：演出：喝彩
D. 开采：加工：销售
122. 表扬：恭维
A. 肯定：认可
B. 相信：迷信
C. 请教：求教
D. 激动：生气
123. 违约：损失：赔偿
A. 学习：知识：工作
B. 诚信：信任：成功
C. 错误：失败：反思
D. 痛苦：忧虑：泪水
124. () 对于 心花怒放 相当于 勤奋 对于 ()
A. 心情；一曝十寒
B. 激动；妄自菲薄
C. 高兴；废寝忘食
D. 难受；指日可待
125. 窗户：玻璃
A. 钢琴：琴键
B. 画布：画笔
C. 电脑：鼠标
D. 秤杆：秤砣
126. 一本正经：不苟言笑
A. 鳞次栉比：参差错落
B. 三心二意：专心致志
C. 瞻前顾后：踌躇不前
D. 白驹过隙：白马非马
127. 电流：安培
A. 体积：立方
B. 动能：焦耳
C. 质量：千克
D. 电阻：伏特
128. 医生：医院：诊断
A. 教师：教室：学习
B. 餐厅：厨师：菜谱
C. 商场：顾客：消费
D. 歌手：舞台：演唱
129. 绿水：青山：黄山
A. 金风：玉露：白露
B. 米饭：米酒：习酒
C. 表象：嗅觉：感觉
D. 太阳：月球：嫦娥

130. 浅尝辄止：追根究底

A. 韬光养晦：暗渡陈仓

C. 醍醐灌顶：振聋发聩

B. 滥竽充数：货真价实

D. 越俎代庖：垂帘听政

131. 满月：残月

A. 早晨：夜晚

C. 销售：消费

B. 春困：秋乏

D. 怒放：凋零

132. 冲突：解决：和谐

A. 吵架：爆发：混乱

C. 噪音：消除：安静

B. 生活：富裕：美好

D. 兴奋：镇定：放松

133. 陶器：陶土

A. 锦纶：尼龙

C. 砖头：黏土

B. 颜料：丹青

D. 茶壶：茶水

134. 春运：人山人海

A. 旅行：山清水秀

C. 电影：多姿多彩

B. 高铁：风驰电掣

D. 灾难：感天动地

135. 白糖：甘蔗

A. 腐乳：豆腐

C. 鸡精：鸡汤

B. 玉米：大米

D. 白菜：酸菜

136. 疲劳：休息

A. 害羞：软弱

C. 降价：促销

B. 伤心：安慰

D. 懒惰：失败

137. 土豆：薯片

A. 面包：饼干

C. 红茶：绿茶

B. 糯米：酒

D. 苞谷：玉米

138. 金毛犬：吉娃娃

A. 毛笔：钢笔

C. 水杯：牙膏

B. 牛皮：人造革

D. 插座：电源

139. 故意：直接故意：间接故意

- A. 诉讼：审判：执行
C. 民法：合同法：婚姻法
140. 运动会：开幕式：闭幕式
A. 春联：上联：下联
C. 正文：前言：后记
141. 一般：特殊
A. 稀疏：稠密
C. 浓密：稠密
142. 牡丹花：富贵
A. 寒松：耐冬
C. 水仙花：天葱
143. 食物：食品
A. 拘泥：拘谨
C. 发挥：发扬
144. 耳环：手镯
A. 水：溶液
C. 开始：停止
145. 救生圈：浮力
A. 压路机：阻力
C. 高压锅：压力
146. 权力：监督：腐败
A. 驾车：饮酒：事故
C. 舆论：引导：和谐
147. 绿茶：伏特加：饮品
A. 包子：饺子：食物
C. 油条：三明治：食品
148. 拍摄：剪辑：放映
A. 诊断：检查：康复
- B. 过失：过于自信的过失：疏忽大意的过失
D. 事故：抢救：处理
B. 书籍：封面：封底
D. 手表：指针：表盘
B. 松散：稀疏
D. 松散：整齐
B. 茶花：帝女花
D. 康乃馨：亲情
B. 达到：到达
D. 矿产：矿石
B. 医院：学校
D. 教师：职业
B. 降落伞：重力
D. 润滑油：摩擦力
B. 理想：行动：空想
D. 灾难：救援：恢复
B. 衣服：裤子：帽子
D. 咖啡：豆浆：早餐
B. 编辑：征稿：出版

- C. 化妆：演出：喝彩
D. 开采：加工：销售
149. 苦瓜：苦
A. 湖水：清
B. 天空：蓝
C. 饭菜：香
D. 木炭：黑
150. 金融：货币：凭证
A. 医疗：器械：工具
B. 司法：法律：理论
C. 建筑：地基：根基
D. 音乐：乐谱：演奏
151. 花朵：浇灌：鲜艳
A. 牙齿：洗刷：美味
B. 石油：开采：提炼
C. 学生：教育：博学
D. 建筑：管道：雨水
152. 律师：法庭：辩论
A. 舰艇：海洋：游弋
B. 导购员：柜台：推销
C. 记者：编辑：采访
D. 教师：学校：授课
153. 建筑：凝固的音乐：哥特式建筑
A. 运动：使人健康的方式：生命
B. 眼睛：心灵的窗户：丹凤眼
C. 偶数：能被 2 整除的数：6
D. 音乐：流动的符号：钢琴
154. 灾害：预警：损失
A. 鼓舞：宣传：士气
B. 美化：装订：作品
C. 经验：总结：教训
D. 危机：公关：风险
155. 绳锯木断：水滴石穿
A. 积劳成疾：因噎废食
B. 高瞻远瞩：明察秋毫
C. 扼腕叹息：历久弥新
D. 扬汤止沸：釜底抽薪
156. 病毒：消灭：健康
A. 矛盾：化解：正义
B. 纠纷：调解：和谐
C. 合同：签订：履行
D. 宗教：信仰：信徒
157. () 对于 保险 相当于 撞车 对于 ()
A. 健康；受伤
B. 福利；超速
C. 收入；刹车
D. 失业；安全带

158. 短信：手机

A. 光盘：电脑

B. 显示器：电视机

C. 相片：数码相机

D. 录音笔：谈话记录

159. 守株待兔：望梅止渴

A. 唇亡齿寒：鸡鸣狗盗

B. 闻鸡起舞：指鹿为马

C. 掩耳盗铃：拔苗助长

D. 不寒而栗：不学无术

160. 聆听：智慧

A. 容忍：宽大

B. 掩耳：自欺

C. 纳谏：明智

D. 开怀：快乐

161. () 对于 运费 相当于 基因 对于 ()

A. 路程；肤色

B. 车辆；胖瘦

C. 速度；疾病

D. 天气；贫富

162. 飞机：发动机

A. 电脑：主机

B. 西装：皮鞋

C. 洗衣机：洗衣粉

D. 电动车：充电器

163. 棕熊 对于 () 相当于 () 对于 迁徙

A. 本能；鸟类

B. 繁殖；鱼类

C. 动物；习性

D. 冬眠；候鸟

164. 车轮：汽车：运输

A. 衣服：衣架：晒衣

B. 镜片：眼镜：读书

C. 听筒：电话：通话

D. 墨汁：毛笔：书法

165. 话梅：酸

A. 铅球：重

B. 手机：贵

C. 冰棍：凉

D. 铁块：硬

166. 手足：兄弟

A. 精彩：高兴

B. 伉俪：夫妻

C. 桃李：老师

D. 月亮：希望

167. 预习：上课：复习

- A. 高考：考试：大学
B. 调研：设计：生产
C. 痊愈：挂号：出院
D. 笔试：面试：报名
168. () 对于 吕蒙 正如 () 对于 韩信
A. 刮目相看；钟室之祸
B. 韦编三绝；邯郸学步
C. 国士无双；指鹿为马
D. 孺子可教；一掷千金
169. 榜样：楷模
A. 诋毁：诽谤
B. 论证：论据
C. 决策：决定
D. 即刻：时刻
170. 前进：勇敢
A. 战争：发动
B. 人士：爱心
C. 学习：刻苦
D. 身体：锻炼
171. 费解：理解
A. 温和：摩擦
B. 美丽：大方
C. 行动：运动
D. 打仗：战争
172. 守株：待兔
A. 买椟：还珠
B. 亡羊：补牢
C. 刻舟：求剑
D. 骑虎：难下
173. 勤政：干部：廉洁
A. 勇敢：军人：奉献
B. 民主：群众：友善
C. 诚信：专家：法治
D. 爱国：教师：富强
174. 妻子：母亲：社会角色
A. 水：冰：液体
B. 父亲：儿子：家庭
C. 冰糖：砂糖：糖精
D. 石墨：金刚石：化学物质
175. 酒圣：杜康
A. 茶圣：陆游
B. 医圣：华佗
C. 画圣：吴道子
D. 武圣：张飞
176. 司机：乘客
A. 医生：护士
B. 经理：总监

- C. 保安：居民
D. 作家：读者
177. 佩刀：刀鞘
A. 墨：墨盒
B. 毛笔：笔帽
C. 烟：烟盒
D. 手机：手机盒
178. 秧苗：水稻：大米
A. 蒜苗：大蒜：蒜头
B. 油菜：菜籽：菜油
C. 麦苗：小麦：面粉
D. 玉米：高粱：白酒
179. 浮光掠影：浅尝辄止
A. 语重心长：言近旨远
B. 声势浩大：气象万千
C. 走马观花：蜻蜓点水
D. 一夫当关：坚不可摧
180. 钻石：石墨：碳原子
A. 氧气：氢气：空气
B. 山谷：河流：大海
C. 米饭：大枣粥：米粒
D. 树叶：枝干：大树
181. 翠鸟：捕鱼：动物
A. 老虎：山林：狐狸
B. 水草：生长：海洋
C. 蜘蛛：结网：生物
D. 黄鼠狼：鸡：狼
182. 沧海桑田：手表
A. 凿壁借光：电灯
B. 一言九鼎：电子秤
C. 遥不可及：卷尺
D. 一曝十寒：温度计
183. 为虎添翼：如虎添翼
A. 耸人听闻：骇人听闻
B. 一字不差：一字不落
C. 无所不至：无所不知
D. 好为人师：善为人师
184. 杂货店：百货公司：电子商城
A. 玉石：宝石：水晶
B. 快餐店：餐馆：酒店
C. 钢笔：铅笔：圆珠笔
D. 白炽灯：节能灯：LED 灯
185. 发动机：飞机：旅客
A. 琴键：钢琴：音乐
B. 电池：手电筒：灯光
C. 发条：钟表：时间
D. 杆秤：秤杆：重量

186. () 对于 纸张 相当于 砖块 对于 ()
- A. 笔墨；房屋
B. 作业簿；瓷砖
C. 书本；城墙
D. 封面；城墙
187. () 之于 重起炉灶 相当于 萎靡不振 之于 ()
- A. 突飞猛进；漏洞百出
B. 按部就班；废寝忘食
C. 改弦更张；无精打采
D. 一败涂地；养精蓄锐
188. 电缆损坏：供电中断：电车停运
- A. 高台起跳：身体翻转：跃入水中
B. 利好消息：股价上涨：公司上市
C. 超速驾驶：发生车祸：吊销驾照
D. 提出问题：分析问题：解决问题
189. 蔬菜：根茎类蔬菜：莲藕
- A. 鸡蛋：蛋白：蛋黄
B. 唐三藏：孙悟空：沙和尚
C. 学生：中学生：高中生
D. 萝卜：红萝卜：胡萝卜
190. 笔墨纸砚：琴棋书画
- A. 乾震坎艮：喜怒忧思
B. 金木水火：鸟语花香
C. 风和日丽：冀兖青徐
D. 梅兰竹菊：春夏秋冬
191. 酒店：客房：餐厅
- A. 模具：胎膜：铸模
B. 钳子：火钳：虎钳
C. 台灯：灯泡：灯罩
D. 磨子：风磨：磨盘
192. 南征北战：东讨西伐
- A. 万紫千红：姹紫嫣红
B. 古往今来：天南地北
C. 朝三暮四：喜新厌旧
D. 左顾右盼：东张西望
193. 唐诗：七言律诗：诗歌
- A. 土豆：芋头：植物
B. 化合反应：氧化反应：化学反应
C. 水墨画：写意画：人物画
D. 运动员：大学生：青年
194. 风险：规避：损失
- A. 保险：购买：赔偿
B. 老人：关爱：长寿

- C. 锻炼：加强：肥胖
D. 军队：保卫：战争
195. 蒲扇：电风扇
- A. 木梳：吹风机
B. 飞机：高铁
- C. 马车：汽车
D. 话剧：评书
196. 精准脱贫：共同富裕
- A. 顶层设计：一带一路
B. 决胜千里：运筹帷幄
- C. 发展生产：改善生活
D. 勇于担当：勤政廉洁
197. () 对于 报纸 相当于 声音 对于 ()
- A. 出版社；人
B. 新闻；空气
- C. 文字；手机
D. 广告；音乐
198. () 对于 绿茶 相当于 音乐 对于 ()
- A. 龙井；浪漫
B. 早春；娱乐
- C. 咖啡；绘画
D. 健康；情操
199. 鸿雁：笺札：书信
- A. 月老：红娘：媒人
B. 乾坤：天地：宇宙
- C. 红豆：相思：恋人
D. 东宫：王子：储君
200. 八卦：坎离
- A. 五音：宫商
B. 九族：师徒
- C. 八仙：李白
D. 四书：五经

第四章 逻辑判断

1. 环境污染已经成为全世界普遍关注的问题。科学家和环境保护组织不断发出警告：如果我们不从现在起就重视环境保护，那么人类总有一天将无法在地球上生存。

以下哪项解释最符合以上警告的含义？（ ）

- A. 如果我们从现在起开始重视环境保护，人类就可以在地球上永久地生活下去
- B. 只要我们从现在起就重视环境保护，人类就不至于在这个地球上无法生活下去
- C. 如果从后天起而不是从明天起就重视环境保护，人类的厄运就要早一天到来
- D. 对环境问题的严重性要有高度的认识，并且要尽快采取行动做好环保工作

2. 1930年5月，毛泽东为了反对当时红军中存在的教条主义思想，专门写了《反对本本主义》一文，提出“没有调查，没有发言权”的著名论断。

下列各项不符合上述论断的是（ ）。

- A. 只有调查才有发言权
- B. 如果调查了就一定有发言权
- C. 没有调查就剥夺发言权
- D. 要么调查，要么没有发言权

3. 由于最近的市场变化，爱玛百货商场必须在以后两年的时间提高10%的销售额，否则它就会破产。事实上，从爱玛百货商场的管理和经营结构来看，如果能提高10%的销售额，那么它就能实现提高20%的销售额的目标。

如果以上陈述为真，以下哪项陈述必然真？（ ）

- A. 如果爱玛百货商场不能达到提高20%的销售额的目标，它就会破产
- B. 在以后两年内，如果爱玛百货商场提高了20%的销售额，它就不会破产
- C. 如果市场没有变化，爱玛百货商场就不需要提高销售额以防止破产
- D. 在以后两年内，爱玛百货商场有可能提高10%的销售额，但不可能达到提高20%的目标

标

4. 如果某人是杀人犯，那么案发时他在现场。

据此，我们可以推出（ ）。

- A. 张三案发时在现场，所以张三是杀人犯

- B. 李四不是杀人犯，所以李四案发时不在现场
- C. 王五案发时不在现场，所以王五不是杀人犯
- D. 许六不在案发现场，但许六是杀人犯

5. 一个传动变速箱有 1-6 号齿轮受电脑程序控制，自动啮合传动。这些齿轮在传动中的程序是：

- (1) 只有 6 号转动，5 号才停。
- (2) 3 号和 4 号可以同时转，不能同时停。
- (3) 如果 2 号或者 5 号转动，则 4 号停。
- (4) 如果 1 号转动，那么 2 号转，但是 5 号停。

现在 1 号转动了，同时转动的 3 个齿轮是（ ）。

- A. 3 号、4 号和 2 号
- B. 4 号、5 号和 2 号
- C. 2 号、4 号和 6 号
- D. 2 号、3 号和 6 号

6. 2014 年 11 月 15 日，习近平主席在二十国集团领导人第九次峰会第一阶段会议上发言时指出，逆水行舟，不进则退。要协调宏观经济政策，共同破解发展难题，减少经济风险，实现经济繁荣、金融稳定、贸易发展、就业和民生改善。

关于“逆水行舟，不进则退”的理解正确的一项是（ ）。

- A. 逆水行舟，不进并且退
- B. 逆水行舟，或者不进，或者退
- C. 逆水行舟，如果不进，那么退
- D. 逆水行舟，只有不进，才会退

7. 只有全世界各国都承认要尊重任何一个国家的主权，并且真正执行这一条约时，世界才能真正的和平。但是由于某些国家持霸权主义的态度，对本国和其他国家采取了双重原则，因此并没有尊重某些国家的主权。

由此可见（ ）。

- A. 每个国家都应该尊重其他国家的主权
- B. 目前世界已经实现了真正的和平

C. 持霸权主义态度的国家是可耻的

D. 目前世界并没有实现真正的和平

8. 大华公司规定，其所属的各营业分公司，如果年营业额超过 500 万元的，其职员可获得优秀奖；只有年营业额超过 400 万元的，其职员才能获得激励奖。年终统计显示，该公司所属的 12 个分公司中，6 个年营业额超过了 1000 万元，其余的则不足 400 万元。

如果上述断定为真，则下列哪项关于该公司今年情况的断定一定为真？（ ）

I. 获得激励奖的职员，一定获得优秀奖。

II. 获得优秀奖的职员，一定获得激励奖。

III. 半数职员获得了优秀奖。

A. 仅 I

B. 仅 II

C. 仅 III

D. 仅 I 和 III

9. 文化是活的生命。持久的生命力有赖于其影响力，而社会大众的喜爱是构成影响力的前提条件。

由此可以推出（ ）。

A. 只有具备了持久的生命力，才有可能收到社会大众的喜爱

B. 不受大众喜爱的文化就没有持久的生命力

C. 受到大众喜爱的文化就会有影响力和持久的生命力

D. 文化没有影响力就不会受到社会大众的喜爱

10. 若要人不知，除非己莫为。

根据上述前提，可以推出以下哪项结论？（ ）

A. 若要人知，则己为

B. 若要人不知，则己为

C. 若己为，则人知

D. 若己不为，则人不知

11. 总经理：我主张小王和小张两人中至多提拔一人，董事长：我不同意。

以下哪项最为准确的表达了董事长实际同意的意见？（ ）

A. 小王和小张都得提拔

B. 小王和小张都不能提拔

C. 小王和小张两人中至少提拔一人

D. 如果提拔小王，则也得提拔小张

12. 某单位招聘了甲、乙、丙、丁、戊 5 名新员工，每位员工被分配到不同的部门，并且满足以下条件：

- (1) 如果甲去销售部，那么乙不去设计部；
- (2) 或者丙去生产部，或者甲去销售部；
- (3) 或者丁去后勤部，或者戊不去财务部；
- (4) 如果乙不去设计部，那么丁也不去后勤部。

以下哪项为真，可以推出“丙去生产部”？（ ）

- A. 戊去财务部
- B. 甲去销售部
- C. 乙不去设计部
- D. 丁不去后勤部

13. 副校长：我认为张老师和王老师中至多有一个人可以被推荐为国家级教学名师候选人，校长：我不同意。

以下选项最能表达校长意见的是（ ）。

- A. 张老师和王老师都不可以被推荐
- B. 张老师和王老师至少一人可以被推荐
- C. 张老师和王老师都可以
- D. 如果王老师被推荐，则张老师也可以

14. 关于“不劳动者不得食”这一说法，甲、乙、丙的认识如下：

甲说：“不劳动者不得食，意味着不得食者一定不劳动”

乙说：“不劳动者不得食，意味着得食者必须是劳动者。”

丙说：“不劳动者不得食，意味若劳动者一定得食。”

以下结论正确的是（ ）。

- A. 丙的意见正确，甲和乙的意见不正确
- B. 甲和丙的意见正确，乙的意见不正确
- C. 乙的意见正确，甲和丙的意见不正确
- D. 甲的意见正确，乙和丙的意见不正确

15. 良好的基础设施建设是一个经济体快速发展的必要条件，但是如果没有良好的投资政策，经济也不能快速发展。

如果上述命题为真，那么哪项一定为真？（ ）

“不敢腐”

D. 如果官员缺乏必要的廉耻之心，只要建立和完善权力运作各个环节的相关制度，他们就“不能腐”

19. 亚里士多德学院的门口竖着一块牌子，上面写着“不懂逻辑者不得入内”。这天，来了一群人，他们都是懂逻辑的人，如果牌子上的话得到准确的理解和严格的执行，那么以下诸断定中，只有一项是真的。

这一项断定是（ ）。

- A. 他们可能不会被允许进入
- B. 他们一定不会被允许进入
- C. 他们一定会被允许进入
- D. 他们不可能被允许进入

20. 下列表述中，与并非“只有致力于创新发展，才能实现长足进步”的意思一致的是（ ）。

- A. 要想实现长足进步，必须致力于创新发展
- B. 只要实现了长足进步，创新发展自然不是难事
- C. 不致力于创新发展，也可以实现长足进步
- D. 不致力于创新发展，就不能实现长足进步

21. 只有小张、小谢和小李都参加马拉松比赛，小康才跟他们一起参加
如果上述断定是真的，那么以下哪项也是真的？（ ）

- A. 如果小康没参加马拉松比赛，那么小张、小谢、小李三人中至少有一人没参加
- B. 如果小谢没参加马拉松比赛，那么小康和小李不会都参加
- C. 如果小李没参加马拉松比赛，那么小张和小谢不会都参加
- D. 如果小张、小谢、小李都参加马拉松比赛，那么小康也参加

22. 某公司制定规定，只有平时表现好，无迟到早退现象。年底才能拿到考勤奖或年终奖。

下列情况不符合该单位的人事制度规定？（ ）

- A. 小王一次早退被领导发现，考勤奖没有了，可他还是拿到了年终奖
- B. 小李全年有三次迟到，都是堵车引起的，单位决定不给他发考勤奖
- C. 老张平时表现突出，从不迟到早退，年底单位给他颁发了年终奖
- D. 老吴在单位表现积极，全年没有迟到早退现象，年底拿到考勤奖

23. 如果实行决策的科学化和民主化, 就要坚持民主集中制原则; 如果坚持民主集中制原则, 就要广泛发动群众, 倾听群众的意见。

据此可以推出 ()。

- A. 群众的意见都能被广泛地收集到
- B. 如果不能实行决策的科学化、民主化, 就不需要坚持民主集中制
- C. 如果广泛听取群众的意见, 就能实行决策的科学化、民主化
- D. 如果不能坚持民主集中制原则, 就不能实行决策的科学化和民主化

24. 良好的精神状态是做好一切工作的重要前提。综观我国革命、建设、改革各个时期创造的业绩, 无不彰显出一种充满正能量的精气神。以新状态踏上新征程, 同样需要这种精气神。如果党员、干部责任意识不强, 担当精神缺乏, 工作就难以推进, 任务就难以完成, 梦想就难以实现。

根据以上陈述, 可以得出以下哪项? ()

- A. 党员、干部如果具备充满正能量的精气神, 就能做好工作、创造业绩
- B. 党员、干部如果能够推进工作和完成任务, 就能实现新时代的伟大梦想
- C. 党员、干部如果具备较强的责任意识和担当精神, 就能推进工作、完成任务
- D. 党员、干部只有具备较强的责任意识或担当精神, 才能推进工作、实现梦想

25. 只有具备了本科学历的求职者才有资格应聘甲企业, 如果有相关工作经验可以优先考虑, 而所有受过处分的人都不具备应聘资格。

如果上述陈述都是正确的, 那么下列陈述也正确的是 ()。

- A. 具备硕士学历但受过处分的人可以应聘甲企业
- B. 受过处分但是具有相关工作经验的人可以应聘甲企业
- C. 有相关工作经验的本科毕业生一定能成功应聘甲企业
- D. 具备了本科学历的人不一定有资格应聘甲企业

26. 当代一位犹太思想家的问题困扰了罗马教廷 30 年: 一个基督教神职人员和一个普通信徒的灵魂是否都能进天堂? 一个基督徒和一个其他宗教信徒的灵魂是否都能进天堂? 一个有宗教信仰的人和 一个无神论者的灵魂是否都能进天堂? 如果有人的灵魂不能进天堂, 则“上帝之爱”就不是普适的; 如果“上帝之爱”不是普适的, 则上帝的存在就不是合理的。如果所有人的灵魂都能进天堂, 那么, 信教与不信教、信仰不同宗教之间还有什么重

大区别？

如果接受以上陈述，那么下列推理一定正确的是（ ）。

- A. “上帝之爱”是普适的，但是信教与不信教、信仰不同宗教之间有重大区别
- B. 上帝的存在是合理的，那么信上帝与不信上帝之间就没有重大区别
- C. “上帝之爱”是普适的，神职人员、普通信徒和无神论者都是上帝关爱的对象
- D. 如果“上帝之爱”是普适的，则上帝的存在就是合理的

27. 犯罪行为不是合法行为，故意杀人是犯罪行为。

因此我们可以推出（ ）。

- A. 故意杀人不是合法行为
- B. 不合法行为是犯罪行为
- C. 不是犯罪行为一定合法
- D. 有的犯罪行为是合法行为

28. 除非具备无限的数据计算能力，否则就不能有完备的数据挖掘能力。

由此可见（ ）。

- A. 现在不具备无限的数据计算能力
- B. 现在还没有完备的数据挖掘能力
- C. 只要具备无限的数据计算能力，就可以实现完备的数据挖掘能力
- D. 只有具备无限的数据计算能力，才可以实现了完备的数据挖掘能力

29. 有一起案件涉及甲、乙、丙、丁四名被告，通过调查确定了如下事实。

- I. 如果甲有罪，那么乙是搭档。
- II. 如果乙有罪，那么或者丙是搭档或者甲无罪。
- III. 如果丁无罪，那么甲有罪而丙无罪。
- IV. 如果丁有罪，那么甲也有罪。

根据以上事实，可以确定哪几个人有罪，哪几个人无罪？（ ）

- A. 甲、乙、丙有罪，丁无罪
- B. 甲、乙有罪，丙、丁无法确定
- C. 甲、丁有罪，丙无罪，乙无法确定
- D. 甲、乙、丙、丁都有罪

30. 有人说：“只有高考分数超过本科线的考生才进得了本科院校。”

以上判断是真的，可能出现的情况是（ ）。

- (1) 某考生高考分数超过了本科线，没有进本科院校。
- (2) 某考生高考分数没有超过本科线，进了本科院校。
- (3) 某考生高考分数没有超过本科线，没有进本科院校。
- (4) 某考生高考分数超过了本科线，进了本科院校。

- A. (4)
- B. (1)、(2)、(3)
- C. (3)、(4)
- D. (1)、(3)、(4)

31. 老吴家儿子结婚，如果小凡参加婚礼，那么小丽、小远和小青将一起参加婚礼。

如果上述断定是真的，那么以下哪项也是真的？（ ）

- A. 如果小凡没有参加婚礼，那么小丽、小远和小青三人中至少有一人没参加婚礼
- B. 如果小凡没有参加婚礼，那么小丽、小远和小青都没参加婚礼
- C. 如果小丽、小远和小青都参加了婚礼，那么小凡参加了婚礼
- D. 如果小远没有参加婚礼，那么小青和小凡不会都参加婚礼

32. 创业者应该具备沟通说服能力，这是一项成功创业必不可少的能力，创业的目的就是让社会大众认同并购买你的产品和服务，所以，沟通说服的能力，与执行力同样重要。

根据上述观点，不能得出以下哪项结论？（ ）

- A. 既具备沟通说服能力又具备执行力的人都是成功的创业者
- B. 执行力也是成功创业必不可少的能力
- C. 如果不具备沟通说服能力，就不可能成功创业
- D. 张楠是个成功创业者，他一定有很强的沟通说服能力

33. 一个学生如果没有灵活的数学思维能力，就不可能学好奥数，而一个学生只有不断加强思维训练，才能始终保持数学思维的灵活性。

根据以上信息，下列说法正确的有几项？（ ）

- 1. 一个人只有不断加强思维训练，才能学好奥数
- 2. 一个人如果能学好奥数，就一定有数学思维的灵活性
- 3. 一个人只要有灵活的数学思维能力，就能学好奥数
- 4. 一个人只要不断加强思维训练，就能学好奥数

- A. 1
- B. 2
- C. 3
- D. 4

34. 在城镇化过程当中，当城镇化率超过 50% 以后，城镇化减速的现象将逐渐出现。阻止城镇化减速的一个必备的战略思路是加快农民工市民化进程，加快这一进程的一个必要举措是建设农民工信息系统和信用体系。

由此可以推出（ ）。

- A. 如果没能阻止城镇化减速，也就没有加快农民工市民化
- B. 如果加快农民工市民化进程，就可以阻止城镇化减速
- C. 如果不建设农民工信息系统和信用体系，就不能阻止城镇化减速
- D. 如果建设农民工信息系统和信用体系，就可以推进农民工市民化进程

35. “不为明天做准备的人永远不会有未来”

以下哪项不是上面这句话的逻辑推理？（ ）

- A. 只有为明天做准备，才会有未来
- B. 若为明天做准备，则有未来
- C. 除非为明天做准备，否则不会有未来
- D. 凡有未来的都是为明天做准备的

36. 一个企业要发展好，良好的渠道和优秀的人才缺一不可。以下各项都符合题干的断定。除了（ ）。

- A. 一个企业发展不好，说明它或者没有良好的渠道，或者缺乏优秀的人才
- B. 一个企业，只有拥有良好的渠道和优秀的人才，才能发展好
- C. 一个企业要发展好，说明它有良好的渠道和优秀的人才
- D. 一个企业，除非有良好的渠道和优秀的人才，否则不可能发展好

37. 某学校六年级有五个班，其中一班所有的学生期中考试成绩都在前 100 名，二班所有的学生期中考试成绩都在 100 名之后，现在我们知道小张期中考试成绩是第 15 名。

由此可以推断出下列说法不正确的是（ ）。

- A. 小张一定是一班的学生
- B. 小张可能是三班的学生
- C. 小张一定不是二班的学生

D. 小张可能不是五班的学生

38. 时下的网上充斥着愤世嫉俗的惊人之语。事实上, 如果被恶意和仇恨蒙住眼睛, 即使具有敏锐的观察力, 也只能见到表面的东西; 而只有当敏锐的观察力同善意和爱相结合, 才能探到人心和社会的深处, 才能真正弘扬正义。

以下哪项可以从上述断定中必然地推出? ()

A. 时下网上的言论大都只触及人心和社会表面的东西

B. 没有敏锐的观察力不可能真正弘扬正义

C. 善意和爱相结合就能探知人心和社会的深处

D. 被恶意和仇恨蒙住眼睛就不能具有敏锐的观察力

39. 一扇门上写着无事勿扰。

下列哪项与之意思最为接近? ()

A. 有事, 就可以打扰

B. 进去的人可能是无事

C. 不进去的都是有事的

D. 不进去的人可能是无事的

40. 如果国民生产总值提高了并且民众消费心理变化了, 那么蔬菜的供应将大幅度增加; 如果国民生产总值没有提高, 或者蔬菜供应大幅度增加, 那么城市居民的最低生活将没有保障; 如果蔬菜供应大幅度增加, 那么或者农民增收, 或者社会福利增加。而事实上, 城市居民的最低生活获得了保障。

由此可见 ()。

A. 农民增收了

B. 社会福利增加了

C. 民众的消费心理没有发生变化

D. 民众的消费心理变化了

41. 如果李锐会英语了, 那么王伟、文瑞和张敏也肯定会英语。

由此可以得知 ()。

A. 如果李锐、文瑞和张敏都会英语, 那么王伟也肯定会英语

B. 李锐如果不会英语, 那么王伟、文瑞和张敏中至少有一个不会英语

C. 如果张敏不会英语，那么李锐和张敏不都会英语

D. 如果王伟、文瑞不会英语，那么张敏不会英语

42. 有了宽容之心，见人之长，容人之短；见人之功，容人之过。有了宽容之心，就可以心平气和，不居高临下，盛气凌人，不为蝇头小利斤斤计较，不为虚名耿耿于怀。有了宽容的胸怀，就不会以己之优势识人而漠视了贤才，以己之喜好遇人从而拒绝了知己，以己之度量度人而误解了朋友。有了宽容的美德，就具备了人格的魅力，只有宽容他人，才能成就自己。

由此不能推出（ ）。

A. 如果你赢得知己，那你一定没有以己之喜好遇人

B. 如果你没有成就自己，那一定是因为你没有宽容他人

C. 如果你为蝇头小利而斤斤计较，就说明你没有宽容之心

D. 如果你不具备人格的魅力，那一定是因为你缺乏宽容的美德

43. 在市场经济条件下，只要机会均等，合法竞争、不坑蒙拐骗、不搞特权和腐败，社会贫富差别的出现，就只能归结为个人的先天差异、后天努力及机会运气等原因。

据此可以推出（ ）。

A. 社会中的贫富差距总是需要改变的

B. 社会中贫富差别的出现，如果不是因为个人后天的努力，那肯定是因为个人的机会不均等

C. 社会中贫富差别的出现，如果不是因为个人的先天差异，那可能是因为社会中存在着特权和腐败

D. 如果社会中存在坑蒙拐骗、特权和腐败到处横行，则贫富差别的出现就不能归结为个人的先天差异、后天努力及机会运气等原因了。

44. 真正高明的魔术师的表演永远不能被他人复制。

由此可推出（ ）。

A. 真正高明的魔术师的表演只能表演一次

B. 真正高明的魔术师不能收徒传艺

C. 能被他人复制的表演都不能称作真正高明的魔术师的表演

D. 只有真正高明的魔术师才能表演真正高明的魔术

45. 每个人的 DNA 携带的遗传信息都不相同, 只要罪犯是累犯, 只要他在作案现场留下了身体上包括一根头发、一滴血、还是一片皮屑在内的任何物质, 警方都可以通过鉴定人类 DNA 的遗传信息, 马上确定罪犯的身份。

由此可以推出 ()。

- A. 警方不能鉴定初犯的 DNA 携带的遗传信息
- B. 罪犯的 DNA 携带的遗传信息不会因作案时间不同发生变化
- C. 同一个人身上的头发和血分别带有不同的遗传信息
- D. 只有根据人类 DNA 的遗传信息才能马上确定罪犯的身份

46. 只要今晚台风不登陆上海, 轮船就按时开。

以下哪项正确地表达了上述断定? ()

- (1) 如果轮船按时起航, 则今晚台风一定没有登陆上海
 - (2) 如果轮船不按时起航, 则今晚台风登陆上海了
 - (3) 除非台风登陆上海, 否则轮船按时起航
- A. 只有 (1)
 - B. 只有 (2) 和 (3)
 - C. 只有 (3)
 - D. (1)、(2) 和 (3)

47. 未来人工智能将取代旅游行业内 90% 的服务类工作, 带来巨大变革。人工智能不是要模仿人类, 而是要超越人类。未来的十年一定是人工智能的时代, 我们可以通过人工智能的技术解决旅游行业的很多问题。要促进人工智能在旅游行业的深入发展, 技术变革和创新型人才必不可少, 而高薪和福利将成为招纳人才的关键。

由此可以推出 ()。

- A. 如果不实行技术变革, 人工智能难以在旅游行业深入发展
- B. 未来是人工智能的时代, 人工智能的发展必会颠覆传统旅游行业
- C. 若能招募到创新型人才, 人工智能在旅游行业的变革将会成功实现
- D. 高薪和福利是当前创新型人才在择业时首先考虑的问题

48. 如果小王不去打羽毛球, 那么小李也不去打羽毛球。只有小王陪伴, 小张才去踢足球。

由此可推断 ()。

- A. 小王去踢足球，则小李没去打羽毛球
- B. 小王去踢足球，则小张也去踢足球
- C. 小王打羽毛球，则小张去踢足球
- D. 小张没去踢足球，则小李去打羽毛球

49. 一个产品要创成名牌，必须保持过硬的质量；一个产品，只有提高技术含量，才能保持过硬的质量；而一个企业如果忽视技术投资，则产品的技术含量就不可能提高。

以下哪项结论可以从题干的断定中推出？ ()

- I. 一个生产名牌产品的企业，不可能忽视技术投资。
 - II. 一个缺少技术含量的产品，不可能创成名牌。
 - III. 一个产品质量不过硬的企业，一定忽视了技术投资。
- A. 只有 I
 - B. 只有 II
 - C. 只有 I 和 II
 - D. 只有 I 和 III

50. 有以下几个条件成立：(1) 如果 A 是植物，那么 B 不是动物；(2) 或者 C 是植物，或者 A 是植物；(3) 如果 B 不是动物，那么 D 不是真菌；(4) 或者 D 是真菌，或者 E 不是化石。

下列哪项为真，可得出“C 是植物”的结论？ ()

- A. E 不是化石
- B. E 是化石
- C. D 不是真菌
- D. A 是植物

51. 幼儿园老师小李发现墙壁被乱涂乱画，并知道是甲、乙、丙、丁四个孩子中的一人干的，于是询问了四人。甲说：“是丙画的。”乙说：“是甲画的。”丙说：“甲在撒谎。”丁说：“不是我画的。”

如果这四个孩子中只有一人说了真话，则可知 ()。

- A. 甲说的是真话
- B. 丙说的是真话
- C. 是乙画的
- D. 是甲画的

52. 某学校学雷锋小组决定给校园的小树浇水，可当他们到了学校之后，发现学校正好有三个学生，而小树也浇过了。甲说：“是乙干的”；乙说：“不是我干的”；丙说：“不是我干的”。这三个人中有两个说了假话，一个说了真话。

由此可知，浇树的是（ ）。

- A. 甲
- B. 乙
- C. 丙
- D. 谁也没浇

53. 在餐桌上有四个水果盒, 在每个水果盒上小明都写了一个提示语, 甲餐盒上写道: “所有餐盒中都有苹果”; 乙餐盒上写道: “本餐盒有桔子”; 丙餐盒上写道: “本餐盒没有香蕉”; 丁餐盒上写道 “有些餐盒没有苹果”。小明写的这四个提示语仅有一个提示语为真。

请根据上面陈述, 判断下列哪个选项为真? ()

- A. 丁餐盒有苹果
- B. 丙餐盒有香蕉
- C. 乙餐盒有桔子
- D. 甲餐盒没有苹果

54. 陈华、刘刚、王明三人中, 星期日只有一个人在家做作业, 陈华说: “我在家做作业”, 刘刚说: “我没在家做作业”, 王明说: “陈华没有在家做作业”。

如果这三句话, 只有一句是真的, 那么说真的是 ()。

- A. 无法判定
- B. 王明
- C. 刘刚
- D. 陈华

55. 某会计师事务所共有 5 名工作人员。①有人会使用计算机; ②有人不会使用计算机; ③所长不会使用计算机。这三个命题中有一个是真的。

以下哪项正确的表示该律师事务所会使用计算机的人数? ()

- A. 5 人都会使用
- B. 5 人没人会使用
- C. 仅有 1 个人会使用
- D. 不能确定

56. 在年终考核时, 某高校陈教授获得优秀。

如果上述陈述为真, 则以下不能确定真假的是 ()。

- ①该校所有教授都获得了优秀
 - ②该校有教授荣获了优秀
 - ③该校教授都没有获得优秀
 - ④该校有教授没有获得优秀
- A. ①②
 - B. ①④
 - C. ②④
 - D. ②③

57. 甲、乙、丙、丁四人参加考试，他们这样评价考试的分数：

甲说，我的成绩绝对不是最高的

乙说，我估计丁的成绩最高

丙说，乙的状态最好，他肯定最高

丁说，乙不是最高的

四人中只有一人说对，则最高分由（ ）获得的。

- A. 丙
- B. 乙
- C. 甲
- D. 丁

58. 孙悟空去太上老君的丹房偷仙丹，恰巧太上老君回来，悟空变成了一个童子，太上老君发现仙丹被偷，找来三个童子询问，三人的表述分别为：

童子甲说：“不是丙拿的。”

童子乙说：“甲说谎。”

童子丙说：“甲没说谎。”

已知只有孙悟空变的童子说了谎，问孙悟空变成了谁？（ ）

- A. 童子甲
- B. 童子乙
- C. 童子丙
- D. 无法判断

59. 甲、乙、丙是住在同一城市但分住不同小区的好友。在一次聚会时，他们三人都谈到电梯安全问题：

甲：我们城市所有楼宇里的电梯都必然进行了定期检修；

乙：我们小区有些高楼里的电梯可能并没有进行定期检修；

丙：如果实行电梯定期检修制度，就能确保电梯运行安全。

现在知道，上述三人中只有一人说对了，据此，可以推出（ ）。

- A. 三人所在的城市所有楼宇里的电梯都必然进行了定期检测
- B. 乙所在小区有些高楼里的电梯可能并没有进行定期检测
- C. 即使实行电梯定期检测制度，也不能确保电梯运行安全
- D. 如果不能确保电梯运行安全，就不实行电梯定期检测制度

60. 某综艺节目上，挑战嘉宾要从四个黑箱子中摸出小球，四个箱子上分别写着一句话。

第一个箱子：“有的箱子里没有球”，第二个箱子：“这个箱子里没有球”，第三个箱子：“所

有的箱子里都有球”，第四个箱子：“球在这个箱子里”。

嘉宾被告知上述四句提示中只有一句是真的，则嘉宾从哪个箱子中一定可以摸出球？

()

- A. 第一个箱子
- B. 第二个箱子
- C. 第三个箱子
- D. 第四个箱子

61. 甲、乙两队参加比赛，关于甲、乙两队是否最终能够夺得奖牌，有如下断言。I. 甲队不可能夺不到奖牌；II. 甲队不一定夺得奖牌；III. 乙队夺得了奖牌；IV. 甲、乙两队至少有一队能夺得奖牌。已知以上断言有两句为真，两句为假。

由此可以推知 ()。

- A. 甲、乙两队都没有夺得奖牌
- B. 甲、乙两队都夺得了奖牌
- C. 甲队夺得了奖牌，乙队未夺得
- D. 乙队夺得了奖牌，甲队未夺得

62. 桌子上有四个杯子，每个杯子上都写着一句话，第一个杯子：“所有杯子中都是啤酒”；第二个杯子：“本杯子中是可乐”；第三个杯子：“杯子中不是咖啡”；第四个杯子：“有些杯子中不是啤酒”。

只有一句话是真话，那么这句真话在哪个杯子上？ ()

- A. 第一个杯子
- B. 第二个杯子
- C. 第三个杯子
- D. 第四个杯子

63. 甲、乙、丙、丁四人对四个抽屉中的物品进行预测。

甲：有些抽屉中没有书本；

乙：所有抽屉中都有书本；

丙：第二个抽屉中没有钢笔；

丁：第三个抽屉中有信件。

如果四人的断定中只有一项为真。那么以下哪项一定为真？ ()

- A. 第二个抽屉中有钢笔
- B. 第三个抽屉中有信件
- C. 四个抽屉中都有书本
- D. 四个抽屉中都没有书本

64. 某校管理学院会计班有 38 名同学，关于这 38 名同学，甲乙丙三人有如下讨论：甲

说：“有些同学是河北人。”乙说：“葛强不是河北人。”丙说：“有些同学不是河北人。”事实上，甲乙丙三人的话只有一句为真。

以下哪个选项为真？（ ）

- A. 38 名同学都不是河北人 B. 有些同学不是河北人
C. 葛强不是河北人 D. 38 名同学都是河北人

65. 周老师放在课桌上的讲义不翼而飞，现怀疑是甲、乙、丙、丁四人中的一人拿走了讲义。以下是四人的回答：

甲：“是丙拿走了讲义。”乙：“我没有拿走讲义。”丙：“是丁拿走了讲义。”丁：“丙在说谎。”

这四人中只有一个人说了真话，由此可推出（ ）。

- A. 甲说了真话，是丙拿走了讲义 B. 乙说了真话，是丙拿走了讲义
C. 丙说了真话，是丁拿走了讲义 D. 丁说了真话，是乙拿走了讲义

66. 工厂职员的特长有很多，如乒乓球、唱歌、下棋等，已知：

- (1) 职员陈某和吴某都擅长唱歌
(2) 所有的职员都擅长唱歌
(3) 有的职员不擅长唱歌

如果以上三句话中只有一句符合事实，那么下列必然为真的是（ ）。

- A. 陈某和吴某都擅长唱歌
B. 陈某和吴某至少有一人不擅长唱歌
C. 陈某和吴某都不擅长唱歌
D. 只有少数职员擅长唱歌

67. 某次考试后，四位老师在一起探讨这次考试的结果：

张老师说：“我对金融学专业的学生有信心，他们都能通过考试”

李老师说：“这次考试难度较大，有的金融学专业的学生不能通过”

周老师说：“管理专业这是考试难度也不小，但是管理专业的学生甲能通过考试”

赵老师说：“管理专业的甲和乙都能通过考试”

考试结果出来后，上述四位老师有两个猜对，两个猜错，由此推出（ ）。

- A. 金融学专业的学生都通过了考试

- B. 金融专业的学生不都通过了考试
- C. 管理学专业的甲通过了考试
- D. 管理学专业的乙通过了考试

68. 校领导今日对初中三年级的 1/2/3 班学生进行早恋情况调查，调查结论如下：

- (1) 有班级存在早恋问题；
- (2) 有班级不存在早恋问题；
- (3) 1 班和 2 班没有早恋问题。

如果上述三个结论中只有一个正确，那么下列选项中，正确的是（ ）。

- A. 1 班和 2 班都有早恋问题
- B. 1 班和 2 班都没有早恋问题
- C. 有存在早恋问题，但 2 班没有
- D. 1 班没有早恋问题，但是 2 班有

69. 四个孩子在草坪上踢足球，足球撞碎了邻居家的玻璃，邻居不知道是谁踢碎了，以下是四个孩子的回答：甲说：“是乙踢的”，乙说：“是丁踢的”，丙说：“我没踢”，丁说：“乙在说谎”。

这四个人中只有一个人说了真话，由此可以判断（ ）。

- A. 甲说了真话，是乙踢的
- B. 乙说了真话，是丁说的
- C. 丙说了真话，是甲踢的
- D. 丁说了真话，是丙踢的

70. 周末的时候，萌萌和她的三个好朋友乐乐、嘉嘉和欣欣在家里玩。妈妈买菜回来后发现餐桌下面有一个打碎的杯子，于是询问四个孩子是谁打碎了杯子。以下是四个孩子的回答：

- 萌萌：“是乐乐打碎的。”
- 乐乐：“是欣欣打碎的。”
- 嘉嘉：“不是我打碎的。”
- 欣欣：“乐乐在说谎。”

这四个孩子中只有一个人说了真话，由此可以推断出是（ ）打碎了杯子。

- A. 萌萌
B. 乐乐
C. 嘉嘉
D. 欣欣

71. 对某受害人的五位朋友进行侦查分析后，四个警员各自做出了如下推测：甲说：“这五个人都有嫌疑。”乙说：“老陈不能逃脱干系，他有嫌疑。”丙说：“这五个人不都是有嫌疑的。”丁说：“五人中肯定有人作案。”

如果四个人中只有一个人推测正确，那么以下哪项为真？（ ）

- A. 甲推测正确，老陈最有嫌疑
B. 丙推测正确，老陈没有嫌疑
C. 丙推测正确，但老陈可能作案
D. 丁推测正确，老陈有嫌疑

72. 对甲、乙、丙三人有如下判断

- (1) 有人喜欢游泳
(2) 有人不喜欢游泳
(3) 甲喜欢游泳

如果以上判断中只有一个为真，那么可以推出（ ）。

- A. 乙喜欢游泳
B. 乙不喜欢游泳
C. 丙喜欢游泳
D. 甲不喜欢游泳，但乙喜欢游泳

73. 不可能所有的证人都说实话。

如果上述命题是真的，那么，以下哪个命题必然是假的？（ ）

- A. 所有证人一定都不说实话
B. 有的证人说实话
C. 有的证人不说实话
D. 所有证人都说实话

74. 河南大学艺术专业有 42 名同学，关于这些同学，小张小李小赵有如下讨论：

小张说：有些同学是河南人

小李说：牛牛不是河南人

小赵说：有些同学不是河南人

然而三个人只有一个为真，以下哪个选项为真？（ ）

- A. 42 名同学都是河南人
B. 有些同学不是河南人
C. 牛牛不是河南人
D. 42 名同学都不是河南人

75. 年终，A 公司三名职工议论单位先进评选事宜。甲说：“今年的先进肯定是乙。”

乙说：“我肯定评不上先进。”丙说：“先进肯定轮不上我。”

结果证明只有一人预测正确，此人是（ ）。

- A. 甲
- B. 乙
- C. 丙
- D. 其他人

76. 小王、小张、小赵、小刘四人讨论比赛四强的甲、乙、丙、丁四个队伍哪个将获得冠军。

小王：“乙是冠军。”

小张：“冠军是丁或丙。”

小赵：“冠军是甲或丁。”

小刘：“甲和丙不是冠军。”

结果出来后，只有两个人的推断是正确的，冠军是（ ）。

- A. 甲
- B. 乙
- C. 丙
- D. 丁

77. 甲、乙、丙、丁四人对四个盒子中的物品进行猜测。

甲：有的盒子中没有鞋子

乙：第二个盒子中没有球

丙：第三个盒子中有首饰

丁：所有盒子中都有鞋子

如果四人中只有一个人的话是真的，那么以下哪项一定为真？（ ）

- A. 第二个盒子中有球
- B. 第三个盒子中有首饰
- C. 四个盒子中都有鞋子
- D. 四个盒子中都没有鞋子

78. 期末考试结束后，某实验班共有 30 名同学，该班老师对本班成绩作出如下分析：

①王老师：有些学生的成绩没有进入年级前 100 名；

②李老师：有些学生的成绩进入了年级前 100 名；

③张老师：班上小明同学的成绩没有进入前 100 名；

若三位老师中只有一人说对了，由此，下列为真的是（ ）。

- A. 该班有些同学的成绩没有进入年级前 100 名
- B. 该班所有同学的成绩都进入了年级前 100 名
- C. 班上小明同学的成绩没有进入前 100 名

D. 该班所有同学的成绩都没有进入前 100 名

79. 小东在玩“勇士大战”游戏，进入第二关时，界面出现四个选项。第一个选项是“选择任意选项都需要支付游戏币”，第二个选项是“选择本项后可以得到额外游戏奖励”，第三个选项是“选择本项后游戏不会进行下去”，第四个选项是“选择某个选项不需要支付游戏币”。

如果四个选项中的陈述只有一句为真，则以下哪项一定为真？（ ）

- A. 选择任意选项都需要支付游戏币
- B. 选择任意选项都不需要支付游戏币
- C. 选择第二个选项后可以得到额外游戏奖励
- D. 选择第三个选项后游戏能继续进行下去

80. 期末考试后，有三位学生先后找到老师询问考试结果。老师尚未结束阅卷。因此每次都回答的模棱两可。回答第一位学生时说“有人没过”，回答第二位学生时说“放心，总有人过的”，回答第三位学生时直接吓唬“你没过！”

事后证明，老师的回答只有一次是正确的。

可以推断，此次考试的结果是（ ）。

- A. 全部都过了
- B. 全部都没过
- C. 仅有第三位学生没过
- D. 过的人数不确定

81. 在以下 4×4 的图形中，共有 16 个小方格，每个小方格中可以填入一个字，使图形的每行、每列均包含“东”“西”“南”“北”四个字，要求不能重复，也不能遗漏。

①	②	③	④
北		西	
南	北		
			东

根据以上信息，依次填入图形中①②③④处的四个字应是（ ）。

- A. 东、西、南、北
- B. 东、南、西、北
- C. 南、北、东、西
- D. 北、东、西、南

82. 某单位的财务人员买了甲、乙、丙三本工具书，这三本书的封面不一样，有红色，

有黄色、有蓝色。其中丙书的价格比黄色封面的书价格要高，甲书和蓝色封面的书的价格不一样，蓝色封面的价格比丙书的价格要低。

据此，可以推出甲、乙、丙三本书的封面颜色分别为（ ）。

- A. 红色、蓝色、黄色
- B. 蓝色、黄色、红色
- C. 黄色、红色、蓝色
- D. 黄色、蓝色、红色

83. 与社会学比起来，小王更喜欢外国文学，事实上他在所有大学课程中，最喜欢经济学；但是和社会学比起来，他更不喜欢心理学。

除了以下哪项外，其余各项都能从上述信息推出？（ ）

- A. 比起社会学，小王更喜欢世界历史
- B. 比起心理学，小王更喜欢外国文学
- C. 比起数学分析，小王更喜欢经济学
- D. 比起外国文学，小王更不喜欢社会学

84. 某车友俱乐部举办自驾旅游活动，这次活动他们总共经过了五个城市，分别是：D市、E市、F市、J市、H市。有的城市他们只是路过，有的城市则会停下来休整。其中：

- (1) 路过的第三个城市是H市；
- (2) 路过第二个城市做了休整；
- (3) E市和F市他们只是路过；
- (4) 路过D市是在E市之后，且在F市之后。

下列哪一项是他们经过的线路？（ ）

- A. E市、F市、H市、J市、D市
- B. E市、J市、H市、F市、D市
- C. F市、D市、H市、J市、E市
- D. F市、E市、H市、D市、J市

85. 下个星期刘老师的活动安排是：参观科技馆，去税务所，去医院看外科，还要去饭店午餐。饭店是在星期三停止营业，税务所是星期六休息，科技馆在周一、三、五开放，外科大夫每逢周二、五、六坐诊。

那么刘老师应该在星期几才能一天之内完成所有事情呢？（ ）

- A. 星期一
- B. 星期三

C. 星期五

D. 星期六

86. A、B、C、D、E、F 六名内科医生日均接诊患者人数情况如下：

- ①B 医生日均接诊患者人数比 C 医生多，但低于 A 医生；
- ②D 医生日均接诊患者人数少于 A 医生和 C 医生；
- ③E 医生日均接诊患者人数高于 D 医生和 F 医生，但低于 A 医生和 C 医生。

由此，可以确定（ ）。

- A. D 医生日均接诊患者人数高于 F 医生
- B. E 医生日均接诊患者人数高于 B 医生
- C. B 医生日均接诊患者人数高于 E 医生
- D. F 医生日均接诊患者人数高于 D 医生

87. 现将七本不同的书，从左至右摆放到书架上。语文右面跟着数学，英语右面接着放的是政治，历史紧跟在地理右面，化学右面紧跟着英语，语文和政治之间有两本书，化学和地理之间有两本书。最右侧放的是数学。

如上述陈述为真，则下列哪项为真？（ ）

- 1. 地理在右侧第三位置
 - 2. 英语放在左侧第二位置
 - 3. 历史放在最中间
- A. 只有 1
 - B. 只有 2
 - C. 只有 1 和 2
 - D. 只有 1 和 3

88. 德国、英格兰、巴西进入世界杯四强，甲说：“冠军不是巴西，也不是英格兰。”乙说：“冠军不是巴西，一定是德国。”丙说：“冠军不是德国，一定是巴西。”结果表明：三个人中，有一人两个判断都对；有一人两个判断都错；还有一人两个判断一对一错。

由此可知，冠军是（ ）。

- A. 英格兰
- B. 巴西
- C. 德国
- D. 不能确定

89. N 中学在进行高考免试学生的推荐时，共有甲、乙、丙、丁、戊、己、庚等 7 位同学入围。在 7 人中，有 3 位同学是女生，4 位同学是男生；有 4 位同学年龄为 18 岁，而另 3 位同学年龄则为 17 岁。已知，甲、丙和戊年龄相同，而乙、庚的年龄则不相同；乙、丁

与己的性别相同，而甲与庚的性别则不相同。最后，只有一位 17 岁的女生得到推荐资格。

据此，可以推出获得推荐资格的是（ ）。

- A. 甲
- B. 乙
- C. 丁
- D. 庚

90. 某班进行演讲比赛，最后进入决赛的是 a、b、c、d、e 五位同学。关于谁是第一名，班上三位同学甲、乙、丙谈了自己的看法。

甲：b、c 都不可能是第一名

乙：第一名不是 b 就是 e

丙：第一名绝不是 e

比赛结果出来后，发现他们三人中只有一个人的看法是正确的，那么，这次演讲比赛的第一名是（ ）。

- A. a
- B. b
- C. c
- D. e

91. 某国家乒乓球队有队员 80 名。男女队员各占一半，其中有 50 名队员业余喜欢唱卡拉 OK，有 60 名队员业余喜欢玩电子游戏。

根据以上陈述，以下哪项有可能是对的？（ ）

- A. 30 名男队员业余喜欢唱卡拉 OK 但不喜欢玩电子游戏
- B. 30 名男队员业余喜欢玩电子游戏但不喜欢唱卡拉 OK
- C. 40 名女队员业余喜欢玩电子游戏但不喜欢唱卡拉 OK
- D. 40 名女队员业余喜欢唱卡拉 OK 但不喜欢玩电子游戏

92. 下面是济南、郑州、合肥、南京四城市某日的天气预报。已知四城市有三种天气情况，济南和合肥的天气相同。郑州和南京当天没有雨。

以下推断不正确的是（ ）。

- A. 济南小雨
- B. 郑州多云
- C. 合肥晴
- D. 南京晴

93. 已知甲、乙、丙三人分别是小明、小华和小敏三人中的一人，且三人年龄各不相同。已知小明的年龄比甲高，乙的年龄与小敏不同，小敏的年龄比丙低，小华的年龄比乙小且和甲不同。

由此可以推出 ()。

- A. 甲是小明
- B. 乙是小华
- C. 丙是小敏
- D. 甲是小敏

94. 下面是 2015 年 5 月 25 日 W、M、K、Q 四个城市的天气预报：四城市中有三种天气情况，暴雨、沙尘暴、雾霾。W 市和 K 市的天气一样，M 市和 Q 市当天没有雾霾。

根据以上条件，以下哪项不可能为真？ ()

- A. W 市雾霾
- B. M 市沙尘暴
- C. K 市暴雨
- D. Q 市暴雨

95. 甲、乙、丙三人去钓鱼，他们的职业分别为医生、律师和教师，已知丙钓到的鱼比教师多，甲和律师钓到的鱼的数量相差较大，律师钓到的鱼比乙少。

则下列说法正确的是 ()。

- A. 律师钓到的鱼比甲少
- B. 律师钓到的鱼比医生少
- C. 乙钓到的鱼最少
- D. 甲不是教师

96. 张、王、赵三人在一个单位工作，其中一人是局长，一人是书记，还有一人是科长。已知：书记的个头比王矮，张和书记不一样高，王、赵的个头比科长高。

由此可见 ()。

- A. 张是书记，王是局长，赵是科长
- B. 张是局长，王是书记，赵是科长
- C. 张是局长，王是科长，赵是书记
- D. 张是科长，王是局长，赵是书记

97. 小张，小李，小王，小赵四人代表学校参加省级数学竞赛，四人预测他们之间的成绩排名如下：

小张说：我排第四

小李说：我不排第二，也不排第四

小王说：我的名次在小李的前面

小赵说：我将得第一。

最后的考试结果表明，四人中只有一人预测错了。那么第一到第四名的依次为 ()。

- A. 小赵，小张，小李，小王

- B. 小张, 小李, 小赵, 小王
- C. 小张, 小赵, 小李, 小王
- D. 小王, 小赵, 小李, 小张

98. 三个好朋友“五一”节准备外出游玩, 他们对出行方式的态度如下: 王某要坐车, 什么车都可以; 李某可以不坐车, 要坐就坐公交车; 张某可以不坐车, 要坐就坐出租车。如果他们根据自己的态度, 对以下意见表示自己的看法: 不坐车; 坐公交车, 坐出租车。

根据以下资料, 以下哪项是不可能成立的? ()

- A. 有一个人同意全部意见
- B. 每个意见至少有两个人同意
- C. 王某和李某都同意坐公交车
- D. 张某同意不坐车和坐出租车

99. 甲、乙、丙、丁四人参加赛跑比赛, 已知甲比丁跑得慢, 乙冲刺阶段超过了第二名并保持到终点, 丙不是最后一名, 丁比丙跑得快。

则比赛结果可能的排名有 () 种?

- A. 1
- B. 3
- C. 4
- D. 2

100. 小张, 小李, 小王, 小赵四人代表学校参加省级数学竞赛, 四人预测他们之间的成绩排名如下:

- 小张说: 我排第四
- 小李说: 我不排第二, 也不排第四
- 小王说: 我的名次在小李的前面
- 小赵说: 我将得第一。

最后的考试结果表明, 四人中只有一人预测错了。那么第一到第四名的依次为 ()。

- A. 小赵, 小张, 小李, 小王
- B. 小张, 小李, 小赵, 小王
- C. 小张, 小赵, 小李, 小王
- D. 小王, 小赵, 小李, 小张

101. 甲、乙、丙三人的职业是律师、教师及公务员, 三人中有人喜欢喝茶, 有人喜欢

喝咖啡，每人只喜欢喝一种饮品且各人喜欢喝的饮品都不同。现已知：甲不喜欢喝茶，丙不喜欢喝咖啡，喜欢喝茶的不是教师，喜欢喝咖啡的是律师，乙不是公务员。

由此可以推出（ ）。

- A. 甲是律师
- B. 甲是教师
- C. 丙是律师
- D. 丙是公务员

102. 李明、方强和高林是好朋友，三人的职业有法官、法医和检察官。其中：（1）方强的收入比法官高；（2）高林的收入和检察官不同；（3）检察官的收入比李明低。

根据以上条件，下列对李明、方强、高林三人身份判断正确的是（ ）。

- A. 李明是法官，方强是法医，高林是检察官
- B. 李明是法官，方强是检察官，高林是法医
- C. 李明是检察官，方强是法医，高林是法官
- D. 李明是法医，方强是检察官，高林是法官

甲、乙、丙、丁、戊五位大学生来自北京、重庆、天津、广州、武汉5地。已知：（1）如果甲来自北京，乙就来自武汉；（2）只有丙来自广州，丁才来自天津；（3）或者乙来自武汉，或者戊来自广州；（4）来自武汉的大学生曾给乙和丁带过特产。

103. 根据以上信息，可以得出（ ）。

- A. 甲并非来自武汉
- B. 乙并非来自重庆
- C. 丙并非来自北京
- D. 丁并非来自天津

104. 如果丙来自重庆，则可以得出（ ）。

- A. 甲来自武汉
- B. 乙来自广州
- C. 丁来自天津
- D. 戊来自北京

某窗口只有张、王、李、赵、宋5个同学站成一列在排队，已知：

- （1）王和李两人紧挨着；
- （2）张和宋之间隔着一人。

105. 根据以上陈述，以下哪项一定是正确的？（ ）

- A. 张和李前后相邻
- B. 王和宋前后相邻
- C. 宋和李前后不相邻
- D. 赵和王前后不相邻

106. 如果赵和王之间隔一人，则以下哪项是不可能的？（ ）

- A. 张排在第一
B. 李排在第一
C. 王排在第一
D. 宋排在第一

假日值班，公司安排孟明、孔秀、李菲、关铮、邓芳 5 人负责 3 台大型机组飞龙、烈鸟、圣物的监控工作，每人只固定监控其中一台机组，并且每台机组至少有一人监控。已知：

- (1) 李菲监控飞龙；
(2) 李菲和关铮没有监控同一机组；
(3) 邓芳和关铮监控同一台机组；
(4) 如果孟明监控圣物，那么孔秀也监控圣物。

107. 以下哪句可能是正确的？（ ）

- A. 只有孔秀监控圣物
B. 孔秀、关铮、邓芳都监控烈鸟
C. 李菲和邓芳监控同一机组
D. 有 3 人监控飞龙

108. 以下哪项一定是正确的？（ ）

- A. 孔秀和邓芳监控不同机组
B. 至多有两人监控飞龙
C. 孟明和孔秀监控同一机组
D. 孔秀没有监控飞龙

109. 附加以下哪项条件，则可以确定每人监控的机组？（ ）

- A. 孟明监控飞龙
B. 孟明监控圣物
C. 邓芳监控烈鸟
D. 邓芳监控圣物

110. 如果邓芳监控圣物，则以下哪项一定是错误的？（ ）

- A. 只有 1 人监控烈鸟
B. 有 3 人监控圣物
C. 孟明监控圣物
D. 孔秀监控圣物

111. 由于身体太重，狗熊抬起左前脚迈步时，前半边身子就会歪向左边，换脚的时候，身体又会倒向另一边。

所以（ ）。

- A. 狗熊很可爱
B. 狗熊很凶
C. 狗熊走路时总是摇头晃脑的
D. 狗熊非常重

112. 一项研究调查了 5000 名 18 岁到 30 岁的 Badoo 用户,询问他们觉得什么职业的潜在伴侣最吸引人。研究发现,女性最有可能被厨师、工程师、市场营销人员和艺术家吸引;男性更喜欢美发师、护士、律师、教师,无论是男性还是女性,都将“企业家”列为第四最具吸引力的职业。

由此可推断()。

- A. 男性愿意将厨师、工程师、市场营销人员和艺术家作为职业
- B. 职业会影响到男性和女性选择伴侣
- C. 在选择伴侣时,女性更愿意选择企业家
- D. 在选择伴侣时,电脑程序员不具备吸引力

113. 西方发达国家的大学教授几乎都是得到过博士学位的。目前,我国有些高等学校也坚持在招收新老师时,有博士学位是必要条件,除非是本校的少数优秀硕士毕业生留校。

从这段文字中,我们可以得知()。

- A. 在我国,有些高等学校的新教师都有了博士学位
- B. 在我国,有些高等学校得到博士学位的教师的比例在增加
- C. 大学教授中得到博士学位的比没有得到博士学位的更受学生欢迎
- D. 在我国,大多数大学教授已经获得了博士学位,少数正在读在职博士

114. 近年来,素以“健康”为主打的茶饮料越来越人气飙升。瓶装茶饮料是一种饮料而不是茶,经过工业化生产,茶水中的茶多酚、维生素含量降低,而所加入的色素、白砂糖、香精、防腐剂等添加剂对人体没有益处。因此,要追求健康和营养价值,茶饮料不是一个好的对象。

由此可以推出()。

- A. 一些打着茶饮料名号的饮品实质上是添加了茶味香料
- B. 茶多酚的含量达到国家规定的新标准就是健康的茶饮料
- C. 目前市场上茶饮料产品的内在质量差异较大
- D. 瓶装茶饮料营养价值不大

115. 学生在设计毕业论文时通常仅注意论文结构的设计,而往往忽略语言设计可能出现的各种问题。事实证明,这些语言设计方面的问题对毕业论文的评分可以产生十分重要的影响。

假设答辩评委都同意毕业生通过论文答辩，下列结论，可能从上述断定中推出的是（ ）。

- A. 在设计毕业论文时，语言设计比结构设计更重要
- B. 学生的毕业论文对语言设计重视不够
- C. 论文评分通常不能完全反映实际情况
- D. 答辩评委识别语境、语言的歧义的能力不强

116. 一般病菌多在室温环境生长繁殖，在低温环境停止生长，仅能维持生命。而耶尔森氏菌却恰恰相反，不但不怕低寒冷，而且只有在 0°C 左右才能大量繁殖。冰箱里存储的食物使耶尔氏森氏菌处于最佳生长状态。

由此可以推出（ ）。

- A. 0°C 环境下，冰箱里仅存在耶尔森氏菌
- B. 耶尔森氏菌的最佳生长环境不适合一般病菌
- C. 一般病菌生长的环境也适合耶尔森氏菌生长
- D. 耶尔森氏菌在室温环境无法生存

117. 根据电视收视率调查发现，看娱乐综艺节目的观众中，25 岁以下的青少年人群比例要高于中老年人群比例，而新闻类节目则更受中老年人群的追捧。

由此可推断出（ ）。

- A. 中老年人群不喜欢观看娱乐综艺类节目
- B. 青少年人群具有更高的幽默水平
- C. 综艺类节目更符合青少年人群的需求
- D. 中老年人更喜欢严肃认真的电视节目

118. 在一项关于网络游戏王者荣耀的玩家身份调查活动中，参与调查的受访者中，00 后占 28.1%，90 后占 44.2%，80 后占 22.5%，70 后占 5.2%，初中及以下学历占 10.2%，高中学历占 19.6%，大专及本科学历占 57.7%，硕士研究生及以上学历占 12.5%，由此可以推出受访者中必然有（ ）。

- A. 大专及本科学历的 90 后
- B. 大专及本科学历的 80 后
- C. 初中及以下学历的 00 后

D. 硕士研究生及以上学历的 70 后

119. 生物技术正在酝酿大的突破。在农业转基因生物技术方面，利用转基因技术，转基因谷物、大豆、杂交水稻等抗逆、抗病高产物，转基因动物等不断培育成功，是对传统农业的重大技术革命。在医药生物技术方面，基因克隆、细胞克隆、个体水平克隆等无性繁殖技术发展迅速。基于器官的修复和移植的干细胞克隆研究取得了积极进展，为人类从治疗疾病到预防疾病的历史性转变奠定了坚实基础。在生物芯片方面，DNA 芯片成为生物技术与微电子技术相结合的产物，它的应用将大大提高疾病的检测准确度和效率，对更快地发现一些疑难疾病带来希望。

由此可以推断（ ）。

A. 生物技术在当代已经取得了许多重大的成就。器官的修复和移植、干细胞克隆研究取得了积极的进展

B. 生物技术在农业方面利用“转基因技术”培育出了新型的转基因作物，得到了消费者的好评

C. 在生命科学中的疑惑被人类一个个破译和解答之后，将会形成一个巨大而充满活力的生物产业，并对环境、农业等产业的发展带来巨大影响

D. 对人类生命威胁严重的心血管病、癌症、艾滋病、神经系统疾病等症状的最终攻克要靠基因结构排序的破译

120. 中国自 1994 年开始，全国人大代会议案组每年都会收到一份要求为安乐死立法的提案。然而，法律实现的是大多数人的意志，安乐死是否符合大多数人的意志，眼下尚无科学性的调查结果；而且法律付诸实践，就有极大的强迫性，一旦安乐死立法，它就像横在病人面前的一把双面刀，用得好，就可以真正解除病人的痛苦；用得不好，就可能成为剥夺病人选择生命权利的借口。

由此可以推出（ ）。

A. 中国在 1994 年之前，没有人提出要为安乐死立法

B. 赞成安乐死的人大部分都是病人

C. 有时候法律也可能会被人利用来做不义之事

D. 只要有调查表明大多数国民赞同安乐死，实施安乐死就是合法行为

121. 现在，不少民意调查都是以在线投票的方式来进行的，但这种调查往往忽略了没

有上网习惯的人群的意见。有研究表明：没有上网习惯的人群的意见对民意调查的结果有着十分重要的影响。

假设在线投票的人都如实表达了自己的意见，那么以下哪项结论最有可能从上述判定中推出来？（ ）

- A. 在进行民意调查时，在线投票这种方式比别的方式更重要
- B. 在进行民意调查时，街头访谈、电话调查等方式比在线投票更困难
- C. 在线投票的结果一般能够完全反映民意
- D. 在线投票的结果通常很难完全反映民意

122. 规模相当于摧毁西伯利亚森林的那一次在地球大气层中的陨石爆炸，威力大概相当于万吨级的核爆炸，一个世纪大概出现一次，由复杂的计算机程序控制的高度自动化的系统对于未预料的情况的反应是无法预测的。

如果以上关于由一个复杂的计算机程序控制的高度自动化的核导弹防御系统的陈述是正确的，可以最适当地得出以下哪个结论？（ ）

- A. 在它建成后一个世纪以内，该系统会做出不适当的反应并且可能由于偶然性而引发一场核战争
- B. 如果该系统的设计者没有考虑到陨石爆炸这种偶然性，那么该系统对一次大陨石爆炸要做出的反应是不确定的
- C. 对于该系统来说，不可能将一次大陨石爆炸和一件核武器爆炸区分开来
- D. 该系统是否对一次大陨石爆炸做出不适当的反应取决于爆炸发生的位置

123. 市场经济的内在规律倡导公平竞争和质量取胜，只有符合人们需要的优质产品才能在市场上站稳脚跟。研究表明，在市场经济发展过程中，假冒伪劣的出现是与之呈负相关变化的。

由此可知（ ）。

- A. 随着市场经济体制的完善，造假行为将会得到有效制止
- B. 随着市场经济体制的完善，假冒伪劣产品将会消失
- C. 实行市场经济以前，没有假冒伪劣产品
- D. 实行市场经济，假冒伪劣产品就会大量出现

124. 市场经济的内在规律倡导公平竞争和质量取胜，只有符合人们需要的优质产品才

能在市场上站稳脚跟。研究表明，在市场经济发展过程中，假冒伪劣的出现是与之呈负相关变化的。

由此可知（ ）。

- A. 随着市场经济体制的完善，造假行为将会得到有效制止
- B. 随着市场经济体制的完善，假冒伪劣产品将会消失
- C. 实行市场经济以前，没有假冒伪劣产品
- D. 实行市场经济，假冒伪劣产品就会大量出现

125. 当一个高压峰遭遇一个低压峰时，通常会发生降水。气象学家通过测量两个相向运动的峰的速度，可确定是它们什么时候、在什么地方相遇，借此来预测降水。

据此可知（ ）。

- A. 气象学家的职责是预测降水
- B. 低压峰总是向着高压峰方向移动
- C. 降水不一定需要低压峰的出现
- D. 某些降水的预测是基于高、低压峰的一般反应

126. 与以往新生事物在城市更热的局面不同，移动支付并未呈现出明显的城乡差异。数据显示，2016年，县城的移动支付用户最多，占比为19.6%；省会城市列第二，占比为19.0%；农村地区列第三，占比为17.0%；其后依次是地级市，直辖市和乡镇地区。由此不可以推出（ ）。

- A. 移动支付在城乡之间并无差异
- B. 2016年，县城的移动支付用户在所有的地区中占比最高
- C. 2016年，农村地区的移动支付用户占比高于乡镇地区
- D. 以往有很多的新生事物在城市更热，且具有明显的城乡差异

127. 人类的到来着实给这个世界的某些自然法则带来了不少的挑战。比如说，植物的果实之所以味道鲜美，就是因为它需要吸引动物前来将它的果实中附赠的种子带往更远的地方，当然同时也将富含大量营养物质的果实作为对传播种子的动物的报酬。这是一桩完美的公平交易，可是，人类对于果实中的种子要么集中处理成垃圾，要么集中种植成果园。

据此，可以推断（ ）。

- A. 人类违背自然法则就是为了改造自然

- B. 动植物之间的交易总是完美的
- C. 人类挑战自然法则的勇气可敬可佩
- D. 人类有时会破坏自然界的公平交易

128. 对于受欢迎的商品，市场上往往会出现很多“山寨货”，例如：旺仔牛奶出现了山寨的“旺旺牛奶”。有关部门不能再坐视不管了。

由此，可推出（ ）。

- A. 人们需要的是假冒产品
- B. 必须加强对市场的监督与管理以保障消费者的权益
- C. 假冒产品也是商品
- D. 正牌产品的购买已经过时了

129. 电冰箱的问世引起了冰市场的崩溃，以前人们用冰来保鲜食物，现在电冰箱替代了冰的作用。同样道理，由于生物工程的成果，研究出能抵抗害虫的农作物，则会引起什么后果？

以下哪项是上述问题的最好回答？（ ）

- A. 化学农药的需求减少
- B. 增加种子成本
- C. 增加农作物的产量
- D. 农田的价值下降

130. 中国改革基金会国民经济研究所副所长王小鲁的团队近日发布了一份调研报告指出，2008年中国城市家庭人均收入应为32144元，比官方数据高出90%，这一大幅度增加主要是被高收入居民的收入拉高了，而高收入居民未纳入官方统计的收入中的很大部分是“灰色收入”。

由此可以得出的结论是（ ）。

- A. 国家开始下大力度抑制“灰色收入”
- B. 普通老百姓没有“灰色收入”
- C. 高收入居民的收入中有部分是“灰色收入”
- D. 官方公布的数据没有权威

131. 中国目前进行的改革意味着社会结构的重组与创新，经济的市场化与政治民主是

现代社会前进的两个车轮。但民主政治的发展不仅仅依托民主体制的构建，还需要立足于民主体制在文化上的认同。无此，民主政治既缺乏根源，又会出现操作失效的情况。

因此（ ）。

- A. 建设民主政治，首先构建民主体制
- B. 建设民主政治的前提条件是具有民主政治文化
- C. 只要经济发展了，就可以发展民主政治
- D. 民主政治在任何情况下实施都有利于社会进步

132. 我国酸雨主要出现于长江以南，北方只有零星分布，这是因为北方常有沙尘天气，来自沙漠的沙尘和当地土壤都偏碱性。

由此可以推出（ ）。

- A. 长江以北地区的酸性污染物排放较少
- B. 长江以南地区的土壤偏碱性的较少
- C. 沙尘天气可有效降低酸雨出现的几率
- D. 有酸雨的地区出现沙尘天气的几率较小

133. 为了保护某些新开发的工业，A 国政府禁止这类在国内刚刚开始研制的产品进口。但这类产品的购买者是 A 国几家从事国际贸易的大公司，对该类产品的禁止进口大大提高了这些产品的价格，从而严重地削弱了这几家公司在国际市场上的竞争能力。

可见（ ）。

- A. A 国只进口它的出口国的产品
- B. A 国政府希望那些新开发工业成熟以后，再反过来出口它们的产品
- C. 这些产品的价格，进口要比在 A 国国内自行生产便宜得多
- D. 进口的产品必须是对 A 国经济起关键作用的

134. 荣华富贵几乎是每个人都向往的。但贵而不显，华而不炫却不是每个人都能做到的。低调正是这些已获得荣华富贵者的做人哲学。富贵固然令人倾慕，但自古富贵险中求，富贵者常在风头浪尖；荣华固然令人向往，但自古荣华难常在，荣华者多在枝头惹眼处。富贵荣华者只有深谙低调做人之道，才能更好的成就自己和保全自己。

根据这段文字，可以推出（ ）。

- A. 所有人都向往荣华富贵

- B. 每个人都能做到贵而不显，华而不炫
- C. 荣华富贵者不太安全
- D. 低调做人能使荣华富贵者更好地生活

135. 毋庸讳言，我国传统文化法律中确实存在大量与现代法律格格不入的消极因素。它们严重阻碍了传统文化法律的自我更新，也是中国近现代法律制度必须实现转型的根本原因之一。但我们不能因此就简单否定其全部价值，毕竟，“传统是历史和文化的积淀，只能更新，不能铲除，失去传统就丧失了民族文化的特色，就失去了前进的历史与文化的基础”。

从这段话中，我们可以推出的是（ ）。

- A. 我国的法律文化曾经长时间止步不前
- B. 我国今天的法律制度已经实现了转型
- C. 传统的法律文化仍具有一定的历史和文化价值
- D. 传统的法律文化是当今法律制度发展的基础

136. 我国《选举法》规定，中华人民共和国年满 18 周岁的公民，不分民族、种族、性别、职业、家庭出身、宗教信仰、财产状况和居住期限，都有选举权和被选举权；依照法律被剥夺政治权利的人除外。

根据这一法律（ ）。

- A. 罪犯都不具有选举权和被选举权
- B. 学生也都具有选举权和被选举权
- C. 拥有选举权和被选举权的必须是 18 周岁以上的中国公民
- D. 选举权是不受任何限制的

137. 我国是一个农业大国，农业是国民经济的基础，减轻农民负担，就是要保护和调动农民的积极性，促进农业、农村经济和国民经济的发展。如果不注意农民的利益，随意向农民乱收费，必将挫伤农民的生产积极性。

所以（ ）。

- A. 不减轻农民的负担，将会影响农村的社会稳定。
- B. 要发展经济，特别是发展农村基础设施，国家财政支持是非常重要的。
- C. 发展经济与减轻农民负担两者并不矛盾，它们之间是相互促进的关系。

D. 国家取消农业税受到农民的普遍欢迎。

138. 只有解决好就业问题，才能真正消除贫困。因此，在社会救助制度中，不仅要对社会救助对象提供金钱和实物的救助，而且要对其提供就业援助服务，变下游干预为上游干预，促进受救助者自力更生、自食其力，最终摆脱贫困。将“输血式”救助与“造血式”帮扶有机结合，将物质救助和提供综合性服务有机结合，将救助政策与扶贫政策以及促进就业政策有机结合，建立新型城镇贫困人口就业援助制度，是解决我国城镇贫困人口问题的根本出路。

根据这段文字，可以推出的是（ ）。

- A. 消除贫困只能靠解决好就业问题
- B. 建立就业援助制度就能解决贫困
- C. 我国社会救助制度极其不完善
- D. 新型贫困人口就业援助制度是解决贫困的关键

139. 最新研究成果表明，血液中高密度脂蛋白胆固醇含量较低的人要比那些含量高的人更容易出现记忆力缺陷，前者发生记忆力缺陷的几率要比后者高出 27%。同时，高密度脂蛋白胆固醇能够将血管中的血脂运到肝脏中处理掉，有效防止心脏病和其他心血管疾病，而低密度脂蛋白胆固醇会把肝脏中的血脂运到血管中，诱发疾病。

由此，可以推知（ ）。

- A. 胆固醇含量高对人体健康有害
- B. 血脂较低的人一般来说较健康
- C. 高密度脂蛋白胆固醇有降低血脂的作用
- D. 记忆力有缺陷的人血液里高密度脂蛋白胆固醇含量较低

140. 2015 年，国际环境组织有一份报告称，每年约有 200 万人死于雾霾中 PM2.5 所引发的疾病。假如当前以牺牲环境为代价的经济发展方式不改变，到 2035 年死亡人数将会突破 500 万人，其中，超过 80%发生于发展中国家。而空气污染所带来的影响已经导致全球 GDP 下降了 1.2%。并且，环境污染对世界最贫穷国家影响最大，到 2035 年将使这些国家 GDP 平均下降约 7.9%。

据此，可以判断下列哪个选项正确？（ ）

- A. 空气污染对全球经济发展产生不小的影响

- B. 发展速度较快的国家受环境污染的影响非常小
- C. 到 2035 年将有 500 多万人因雾霾中 PM2.5 所带来的疾病丧生
- D. 以牺牲环境为代价的经济发展方式导致全球变暖

141. 李工程师：农科院最近研制了一种高效杀虫剂，通过飞机喷洒，能够大面积地杀死农田中的害虫。

张研究员：我看使用这种杀虫剂未必能达到保护农作物生长的目的，甚至可能适得其反，因为这种杀虫剂在杀死害虫的同时，也杀死了农田中的各种益虫。

李工程师：你的观点缺乏说服力，因为我们之所以要保护益虫，就在于它能消灭危害农作物的害虫，而我们的杀虫剂起到了这个作用。

以下哪项如果为真，最能加强李工程师对张研究员观点的反驳？（ ）

- A. 一般地说，害虫的生长繁殖能力和速度要高于益虫
- B. 上述杀虫剂对人畜无害
- C. 害虫比益虫更容易获得对于杀虫剂的抗药性
- D. 上述杀虫剂的有效率，在同类产品中是最高的

142. 为开拓更大的市场，某地国有燃气公司开始销售煤气灶等燃气用具。民营的燃气用具销售商抱怨这种竞争会损害他们的利益。但国有燃气公司经营的业务没有走出其经营范围。

以下哪项假设如果为真，最有助于支持上述观点？（ ）

- A. 国有燃气公司的经营范围涵盖了民营燃气公司可做的任何业务
- B. 政府要认真地对待民营燃气用具销售商的抱怨
- C. 民营企业无权与政府垄断企业竞争
- D. 只要民营企业主不抱怨，国有燃气公司销售燃气用具就没有什么不妥

143. 常言道，人非圣贤，孰能无过。公众人物也是人，是人就会犯错误，公众人物自带影响力，犯了错更应该主动认错，否则民众会认为公众人物有名气就可以无所顾忌。

如果以下各项为真，最能支持上述结论的是（ ）。

- A. 错误面前人人平等
- B. 普通民众不认错社会影响有限
- C. 公众人物比普通人更有义务认错

D. 公众人物不认错的负面影响更大

144. 如今,晚上开灯睡觉的人不在少数。有些人是因为晚上睡太晚,结果忘记关灯或懒得关灯;还有些人则是因为害怕黑漆漆的环境所以直接不关灯,感觉在明亮的环境中睡觉更有“安全感”。科研人员对睡眠时室内光线的强弱与人体健康状况之间的关系做过多项研究,发现如果睡眠环境中的光线过于明亮,会使人昼夜节律出现紊乱,会增加肥胖的风险。

以下哪项如果为真,最能支持上述观点? ()

- A. 过于明亮将导致美洛托宁的松果体激素分泌减少,而该激素可以调解体重和糖脂代谢
- B. 人们肥胖风险的增加,往往由社会节奏过快、压力过大以及不好的生活习惯所导致
- C. 经过研究机构统计,肥胖人群中的一部分人习惯开灯睡觉,一旦关灯便会失眠
- D. 都市夜晚的光污染使得一些人在睡眠时的环境过于明亮,会使人的昼夜节律出现紊乱

145. 近年来,随着甲状腺癌发病率的大幅上升,“吃碘盐致甲状腺癌”的说法流传甚广。某国卫生健康部门发布的首部《居民补碘指南》中指出,目前尚无证据表明食盐加碘与甲状腺癌高发的现象关联。

以下哪项如果为真,最有助于增强题干结论? ()

- A. 甲状腺癌病因暂未确定
- B. 近年来人们的碘盐食用量增加
- C. 几十年前人们就开始食用碘盐,但那时甲状腺癌发病率很低
- D. 调查发现沿海地区人群甲状腺发病率更高

146. 目前,我国越来越多的新婚夫妇登记结婚前进行私人财产公证。这种做法无论对于社会还是对于家庭都是有利的,应当提倡,至少不应反对。

以下诸项如果是真的,都能支持上述结论,除了 ()。

- A. 我国的离婚率呈逐年上升的趋势
- B. 以往的离婚案中,财产分割是最棘手的问题之一
- C. 婚前财产公证,只要当事人对此举有正确的理解,不会对新婚夫妇的感情产生不利的影响

D. 我国离婚率上升的一个重要原因，是当事人双方社会地位失衡，例如，名人中离婚率是最高的

147. 在某餐馆中，所有的菜品或者属于中餐或者属于西餐，甲乙两人一同前往某餐馆吃饭，甲点的菜中有中餐，因此，乙点的菜中没有西餐。

以下哪项最能增强上述论证？（ ）

- A. 餐馆规定，点西餐就不能点中餐，反之亦然
- B. 餐馆规定，如果点了中餐，可以不点西餐，但点了西餐，一定也要点中餐
- C. 甲受到中国传统饮食文化影响很深，只喜欢中餐
- D. 乙曾经在国外留学多年，但一直吃不惯西餐

148. 使用手机打电话，手机在刚接通时瞬间功率相对较大，所以辐射也较大，有研究小组为了考察手机辐射与脑瘤之间的关系，收集了四个国家 352 名 7 岁到 19 岁的脑瘤患者使用手机的情况，并把有关数据与 646 名同样年龄段健康孩子的情况进行了对比。结果显示，患有脑瘤的儿童并不比没有患脑瘤的儿童更多地使用手机，研究人员据此认为，使用手机可能并不是引发儿童脑瘤的主要原因。

下列各项如果为真，不能支持上述结论的是（ ）。

- A. 手机辐射频率远远低于电离辐射，产生的热效应很小，不会使化学键断裂而令人体患病
- B. 频繁使用手机的儿童往往心理压力大、情绪紧张，可能是这些因素导致发病
- C. 儿童手机用户的脑瘤发病率与那些不使用手机的儿童相比，没有明显的差异
- D. 该调查对“使用手机”界定不清，儿童使用手机大多是为了上网和玩游戏，而不是打电话

149. 动物种群的跨物种研究表明，出生一个月就与母亲隔离的幼仔常常表现出很强的侵略性。例如，在觅食时好斗且拼命争食，别的幼仔都退让了它还在争抢。解释这一现象的假说是，形成侵略性强的毛病是由于幼仔在初生阶段缺乏由父母引导的社会化训练。

下列叙述如果为真，最能有力加强上述论证的是（ ）。

- A. 早期与母亲隔离的羚羊在冲突中表现出极大的侵略性以确立其在种群中的优势地位
- B. 在父母的社会化训练环境中长大的黑猩猩在交配冲突中的侵略性，比没有在这一环境中长大的黑猩猩弱得多

- C. 出生头三个月被人领养的婴儿在童年时期常常表现得富有侵略性
- D. 许多北极熊在争食冲突中的侵略性比交配冲突中的侵略性强

150. 最近研制了一种自动照相机，凭借其对速度的敏锐反应，当违规超速的汽车，经过镜头时，它会自动按下快门，在某条单向行驶的公路上，一个小时内，这架照相机，拍下了 50 辆超速汽车的照片，从这架照相机出发，在这条公路前方的一公里处，一群交通警察在隐蔽处对超速汽车进行测速，在上述同一个小时中，某个警察测定共有 25 辆汽车超速通过，由于经过自动照相机的汽车，一定经过目测处，因此可以推断，这个警察的目测准确率不高于 50%。

要使题干的推断成立，必须假设的是（ ）。

- A. 在上述一个小时内，在照相机前超速的汽车到目测处不会超速
- B. 在警察目测定位超速的汽车中，包括在照相机处不超速，而到目测处超速的汽车
- C. 在警察目测定为超速的汽车中，包括在照相机处超速而到目测处不超速的汽车
- D. 在上述一个小时内，在照相机前超速的汽车都一定超速通过目测处

151. 有研究显示，高果糖溶液会损伤小鼠神经元，导致学习能力受损。将小鼠分为两组，实验组每天喂食高果糖溶液来取代饮用水；对照组则同时喂食高果糖溶液和欧米茄脂肪酸。六周之后，训练两组小鼠走迷宫，对照组可以很容易学会，而实验组则非常难。因而可以认为欧米茄脂肪酸能保护小鼠免受高果糖溶液的损伤。

以下（ ）如果为真，是得出该结论的前提。

- A. 高果酸溶液浸泡下的大脑神经元易出现萎缩
- B. 欧米茄脂肪酸加上高果酸溶液可以增进小鼠记忆力
- C. 实验前两组小鼠学习走迷宫的能力不存在差异
- D. 实验中两组小鼠均接受了大量的走迷宫训练

152. 东坡市有关部门策划了一项“全市理想生活小区排列名次”的评选活动。方法是，选择十项指标，内容涉及小区硬件设施（住房质量、配套设施等）、环境卫生、绿化程度、治安状况、交通方便程度等。每项指标按实际质量或数量的高低，评以从 1~10 分之间某一分值，然后求得这十个分值的平均数，并根据其高低排出名次。

以下哪项不是上述策划具有可行性所必须假设？（ ）

- A. 各项指标的重要性基本是均等的

- B. 各项指标的测定，是可以较为准确地量化的
- C. 各项指标测定数据所反映的状况，具有较长时间的稳定性
- D. 若把指标内容作相应修改，则这种评选方法具有一般性，例如，可用于评“全市重点中学排列名次”

153. 有研究资料表明，颈椎病患者往往缺钙，而大量实际事例表明，通过食用钙片，可改善人体内缺钙的状况，因此有人认为，可以通过食用钙片来治疗颈椎病。

以下哪项最有可能是上述观点依赖的假设？（ ）

- A. 在食用钙片的过程中不会产生副作用
- B. 具体服用钙片的量与颈椎病患者的年龄有关
- C. 颈椎病患者体内钙的缺乏量不会因其他原因而有太大变化
- D. 钙的缺乏是导致颈椎病的原因，而不是颈椎病引起的缺钙

154. 由于春季天气多变，时暖时寒，加上此时人体的免疫力相对低下，细菌，病毒等致病微生物趁机而入，侵袭人体，特别容易引起流感，流脑，流腮等呼吸道传染病。同时，随着气温升高，若平时不注意锻炼，手足口病等传染病也逐渐“抬头”。若平时不注意锻炼，再加上室内空气不流通，很容易发生呼吸道传染性疾病的流行。

下列选项如如果为真，不能加强上述结论的是（ ）。

- A. 气温反复多变时病毒的生命活动更加活跃
- B. 适当的锻炼对增强人的免疫能力大有帮助
- C. 室内通风状况不好会造成细菌大量繁殖
- D. 天气的时暖时寒不利于人们进行防寒保暖

155. 56岁的湖北男子赵某，2009年8月29日在重庆市朝天门金海洋批发市场4楼楼梯口抽烟，被处5天拘留，成为重庆市公共场所吸烟被拘第一人。此案曝光后立即引起了社会争议。有人认为，公共场所违法吸烟理应依法严惩。

下列最能支持上述观点的一项是（ ）。

- A. 公安部有明确规定：“对在有火灾危险场所吸烟者，一律拘留5日。”
- B. 吸烟有害健康已达成共识
- C. 对违法吸烟者进行重罚严惩是许多国家的共识
- D. 吸烟和随地吐痰、乱扔垃圾一样是道德领域的事情

156. 汽车排出的废气是滨河区一个严重的污染问题，在滨河区的桥上收取通行费将会减少汽车行驶的里程数。尽管如此，仍无法降低总的污染水平，因为在收费亭排起了长队，而汽车停着不走时会比其在行驶状态下放出更多的废气。

上面的论述依赖于下面哪一个假设？（ ）

- A. 因为缴费排队产生的多余废气相当于或超过因汽车行驶里程数减少而减少的汽车尾气
- B. 平均来讲，汽车在滨河区停着不走的时间比处于其他行驶状态时间长
- C. 在桥上增加的汽车尾气不会严重影响大气污染，因为在滨河区很少有司机经常驾车过桥
- D. 减少汽车废气排放不是降低空气污染的最有效办法

157. 一项调查表明，一些学术类期刊每一份杂志平均有 5 到 6 个读者。由此可以推断，在《党刊》12000 订户的背后约有 60000 到 72000 个读者。

上述估算的前提是（ ）。

- A. 大多数《党刊》的读者都是该刊物的订户
- B. 《党刊》的读者与订户的比例与文中提到的学术类期刊的读者与订户的比例相同
- C. 读者通常都喜欢阅读一种以上的刊物
- D. 学术类期刊的读者数与《党刊》的读者数相近

158. 矿产勘探人员观察发现，不同颜色和形状的矿物结晶体虽然有各自不同的名称和表象，但可能是化学组成相同的物质在不同的物理化学条件下结晶成不同结构的晶体，而且一般都有着不同的物理特征。所以说，不同的矿物种类可以有相同的化学成分。

以下选项最能支持上述论断的是（ ）。

- A. 二氧化碳和干冰名称不同而且表象也不同
- B. 不同颜色的矿物晶体暴露在空气里会变色
- C. 分析仪器能快速判断矿物晶体的化学成分
- D. 二氧化硅可以有 12 种不同的矿物结晶体

159. 以往研究表明，玩手机游戏会使孩子学习成绩下降。而一项最新的调查结果显示，许多玩手机游戏的孩子学习成绩并没有下降，估计该结果公布后，家长会放宽对孩子玩手机游戏的管制。

上述推论基于的假设是（ ）。

- A. 学习成绩不好的孩子通常更喜欢玩手机游戏
- B. 孩子的学习成绩是否下降取决于其玩手机游戏时间的长短
- C. 除玩手机游戏外，还有其他因素可能影响孩子的学习成绩
- D. 家长反对孩子玩手机游戏是因为他们认为玩游戏会导致孩子学习成绩下降

160. 有人认为，S 国政府对社会科学研究的经费投入不见得有利于科研水平的提高，近十年间，S 国政府对社会科学研究的经费投入年增长超过 20%。但是这十年间 S 国社会科学领域发表的论文数量却没有显著增长。

上述结论的成立必须补充以下哪一项前提？（ ）

- A. 论文发表数量是衡量社会科学研究水平的重要指标
- B. 近十年间 S 国社会科学领域的研究人员数量显著增长
- C. 近十年间 S 国物价水平逐年增长
- D. 近十年间 S 国社会科学领域的研究人员在国外发表的论文数量没有显著增长

161. 1784 年著名天文学家威廉·赫歇尔曾经写道，火星表面的黑暗区域是海洋，而较明亮区域则是陆地。赫歇尔推测，火星上肯定有智慧生命存在，它们或许与我们地球人差不多。赫歇尔的理论流行了一个多世纪，甚至其他一些天文学家也附和称，在一些颜色较亮的区域可以观测到植被。

如果下列各项为真，哪项最能支持赫歇尔的推测？（ ）

- A. 有智慧生命存在的地方必定有海洋、陆地
- B. 凡是有植被的地方必定有智慧生命存在
- C. 凡是有海洋、陆地的地方必定有智慧生命存在
- D. 可以观测到植被的地方就可能有智慧生命存在

162. 补充 A 物质可以提高人血浆中 A 物质的水平，从而影响大脑中 B 物质的合成。B 物质是一种非常关键的神经传递素，其水平的高低可以影响人们的行为。B 物质水平的下降，可能会引发焦虑、抑郁和攻击行为；而其水平的增加会促进人们的亲社会行为，比如合作和服从等。

要推导出“补充 A 物质能缓解焦虑状况”的结论，以下哪些是不可缺少的前提条件（ ）。

- ①血浆中 A 物质的水平与大脑中 B 物质合成的能力成正比
②正常人大脑中 B 物质的合成能力足够让人处于低焦虑状态
③除了提升血浆中 A 物质水平以外，没有其他途径可以影响大脑中 B 物质的合成

- A. 仅①
B. ①和②
C. 仅③
D. ①和③

163. 面试是保证招聘成功的一个重要环节，因为面试可以帮助企业剔除那些个性特点与工作内部特征不相匹配的人。

要得出上述结论需要以下哪项为前提？（ ）

- A. 包含面试环节的招聘通常是成功的
B. 面试比招聘过程中的其他环节更重要
C. 企业通过面试可以准确判断出求职者的个性特点
D. 个性特点与工作岗位相匹配可以提高员工的工作绩效

164. 人工甜味剂主要有阿斯巴甜、三氯蔗糖和糖精这几种。很多产品都在使用人工甜味剂来增强口感，不会像其他糖类一样给人们造成热量上的负担。但有研究人员认为，人工甜味剂会让人变胖。因为人工甜味剂能改变肠道菌群，有助于某些特定肠道菌群的生长，这些细菌可以高效提取食物中的能量，把能量转化为脂肪。

以下哪项如果为真，不能支持上述研究人员的论证？（ ）

- A. 摄入人工甜味剂变胖的小鼠，用广谱抗生素杀死其体内肠道细菌后，体重会恢复正常
B. 肥胖基因小鼠的肠道内会有一群细菌格外繁荣，人工甜味剂也会使小鼠肠道内的这种细菌格外繁荣
C. 研究人员把来自肥胖小鼠的肠道细菌转入正常体重的小鼠后，正常小鼠变胖了
D. 在肥胖小鼠和正常小鼠的对比实验中发现，基因决定小鼠肠道菌群结构的不同

165. 为验证戒酒是否有助于减肥，某课题组进行了一次实验，参与实验的人均为饮酒超过十年以上的人，将参与者分为两组，一组不戒酒，保持以前的饮酒习惯；另一组完全戒酒。四个月对实验参与者测量体重，发现戒酒组成员的体重平均减少了 3 公斤，而非戒酒组成员的体重基本不变。因此，课题组得出结论：戒酒有助于减肥。

以下哪项如果为真，最能加强实验结论的说服力？（ ）

- A. 戒酒组和饮酒组的平均体重基本相同
- B. 戒酒组和饮酒组的平均年龄基本相同
- C. 除戒酒外，每个实验参与者的饮食习惯基本相同
- D. 除戒酒外，每个实验参与者的其他生存条件基本不变

166. 有些人若有某一次厌食，会对这次膳食中有特殊味道的食物持续产生强烈厌恶，不管这种食物是否会对身体有利。这种现象可以解释为什么小孩更易于对某些食物产生强烈的厌食。

以下哪项如果为真，最能加强上述解释？（ ）

- A. 小孩的膳食搭配中含有特殊味道的食物比成年人多
- B. 对未尝过的食物，成年人比小孩子更容易产生抗拒心理
- C. 小孩的嗅觉和味觉比成年人敏锐
- D. 和成年人相比，小孩子较为缺乏食物与健康的相关知识

167. 某保健公司今年在某市进行了一场大规模的宣传，但根据调查显示，只有不到一成的居民使用保健品。因此，该保健品公司的宣传具有很大的盲目性。

以下哪项最能加强上述论点（ ）。

- A. 保健品行业竞争激烈，必须加大宣传力度
- B. 该保健品在该市的市场占有率比较低
- C. 绝大多数不使用保健品的居民不关注此类宣传
- D. 前几年使用保健品的居民不止一成

168. 王教授说：“管理学院的大学生家庭困难情况比起以前有了很大的改观，因为我的学生现在要求学校安排勤工俭学的越来越少了。”

上面的结论是由下列哪个假设得出的？（ ）

- A. 现在大学生父母亲的收入随着改革开放的深入发展而增加，使得大学生不再需要通过勤工俭学来养活自己了
- B. 尽管家境有了改善，大学生也应当参加勤工俭学来锻炼自己的全面能力
- C. 要求学校安排勤工俭学是学生家庭是否困难的一个重要标志
- D. 大学生把更多的时间用在学业上，勤工俭学的人就少了

169. 由于大蒜价格上涨，甚至被社会舆论戏谑为“蒜你狠”，有人认为，那些年前改种

棉花的农民，并不见得比不改种的好，但是这个观点是不正确的。

下列哪项最可能加强上述结论（ ）。

- A. 那些改种棉花的农民并不能预见到棉花价格会下降很多
- B. 那些改种棉花的农民并不能预见大蒜价格会涨的多高
- C. 如果农民不改种棉花，大蒜的供给不可能如此之低而导致价格上涨
- D. 当棉花种植数量大幅上升时，棉花的供给就会上升，价格就会下降

170. 人们在社会生活中常会面临选择，要么选择风险小，报酬低的机会；要么选择风险大，报酬高的机会。究竟是在个人决策的情况下富于冒险性，还是在群体决策的情况下富于冒险性？有研究表明，群体比个体更富有冒险精神，群体倾向于获利大但成功率小的行为。

以下哪项如果为真，最能支持上述研究结论？（ ）

- A. 在群体进行决策时，人们往往会比个人决策时更倾向于向某一个极端偏斜，从而背离最佳决策
- B. 个体会将其意见与群体其他成员相互比较，因其想要被其他群体成员所接受及喜爱，所以个体往往会顺从群体的一般意见
- C. 在群体决策中，很可能出现以个体或子群体为主发表意见、进行决策的情况，使群体决策为个体或子群体所左右
- D. 群体决策有利于充分利用其成员不同的教育程度、经验和背景，他们的广泛参与有利于提高决策的科学性

171. 在一项实验中，研究人员要求 12 名男性志愿者每晚只睡 4 小时，持续两周。研究者检测了志愿者血液内的饥饿激素的含量，结果发现该激素的水平跃升了 28%。与此同时，另一种叫瘦素的激素则减少了 18%。瘦素的作用是向大脑发出不需要进食的信号从而抑制饥饿。研究者发现志愿者的饥饿程度平均提高了 23%。研究人员认为，睡眠不足可能会导致肥胖。

以下哪项如果为真，最能支持上述结论？（ ）

- A. 6—9 岁儿童每晚睡眠时间少于 10 小时，肥胖可能性会提高 1.5—2 倍
- B. 研究表明，肥胖的人群平均睡眠时间比体重正常的人群要高出许多
- C. 这 12 名男性志愿者在实验期间食欲没有表现出明显的变化

D. 12 名志愿者在实验之前的若干天睡眠质量都不太好

172. 有统计数据表明, 9 月份国内汽车累计销售 160 万台左右, 终结了连续 7 个月同比正增长的记录, 日系车产销出现大幅下降, 同步下降达 40% 左右, 与日系车销量全线下降形成鲜明对比的是自主品牌, 自主品牌占乘用车销售总量的 42.7% 左右, 为今年销售的第二高记录, 因此, 有关专家判断自主品牌汽车销量将进入快速增长期。

以下哪项如果为真, 最能支持上述结论? ()

- A. 9 月份, 某日系品牌汽车被曝存在质量问题, 影响了日系汽车的整体销量
- B. 在第 4 季度, 自主品牌汽车销量依然高于其他品牌汽车, 并持续增长
- C. 9 月份, 除了日系汽车外, 德系、美系汽车的销量也不如自主品牌汽车
- D. 汽车销售统计数据不包括未上牌照的汽车, 且存在大量不上牌照汽车

173. 美国鸟类学基金会在不久前公布了《美国鸟类状况》的报告。他们认为, 全球变暖正促使鸟类调整生物钟, 提前产蛋期, 而上述变化中会使这些鸟无法为其刚破壳而出的后代提供足够的食物, 比如蓝冠山雀主要以蛾和蝴蝶的幼虫为食, 而蛾和蝴蝶的产卵时间没有相应提前, “早产”的小蓝冠山雀会在破壳后数天内持续挨饿。

下列哪项如果为真, 最能支持上述论证? ()

- A. 最近 40 年的英国的平均气温不断上升
- B. 很多鸟类的产蛋期确实提前了
- C. 除了蛾和蝴蝶的幼虫外, 蓝冠山雀很少吃其他食物
- D. 蛾和蝴蝶的产卵期不同

174. 今年来, 海外代购发展迅速, 但许多代购者在代购过程中通过各渠道避开关税, 某专家由此指出, 政府应该严厉打击海外代购的行为。

以下哪项如果为真, 最能支持上述结论? ()

- A. 有位空姐经常帮国内消费者代购, 后来被法院判定为走私罪
- B. 国内同类产品与海外代购产品相比, 无论质量还是价格都缺乏竞争优势
- C. 某消费者通过海外代购买到的产品, 经认定其实是国内产品
- D. 去年, 我国奢侈品海外代购规模占国内店销售额的一半, 这些交易大多避开关税

175. 世界经济出现缓慢复苏已经得到许多国家和经济学者的确认, 可是许多国家的失业率却在继续上升。在经济有所复苏的情况下, 失业率继续上升的主要原因是劳动生产率

的提高和经济结构的调整。

以下哪项如果为真，最能加强上述断定？（ ）

- A. 应对危机，企业往往以降低成本、提高效率的办法减轻危机对企业的影响，尽可能少用或不用员工，企业劳动生产率有明显提升，并足以抵消劳动力的减少
- B. 在遇到经济危机的情况下，失业率会降低
- C. 一个国家为了减少失业而增加就业，脱离消费需求是不可取的
- D. 经济复苏了，就业形势马上出现好转

176. 实验发现，少量口服某种类型的安定药物，可使人们在测谎器的测验中撒谎而不被发现。测谎器所产生的心理压力能够被这类安定药物有效地抑制，同时没有显著的副作用。因此，这类药物可同样有效地减少日常生活的心理压力而无显著的副作用。

以下哪项最可能是题干的论证所假设的？（ ）

- A. 任何类型的安定药物都有抑制心理压力的效果
- B. 如果禁止测试者服用任何药物，测谎器就可以得到完全准确的测试结果
- C. 测谎器所产生的心理压力与日常生活人们面临的心理压力类似
- D. 大多数药物都有副作用

177. 西尼罗热（West Nile Fever）是由西尼罗病毒经蚊子传播的一种虫媒人畜共患病。其可侵犯中枢神经系统引起脑炎。一直以来，科学家们认为 A 型野马的种群数量是西尼罗热发病率最好的预报因素。然而，在非洲南部一个西尼罗热高发区，一项历时 5 年的对西尼罗热生态学的决定因素进行的研究推翻了该观点，该研究发现在西尼罗热发病率高的年份中，A 型野马的种群数量一般比西尼罗热发病率低的年份低。

上述论述基于以下哪一种假设？（ ）

- A. 从未发生西尼罗热疫情的地区通常 A 型野马的种群数量较低
- B. 发生西尼罗热疫情之前 A 型野马的种群数量不会显著降低
- C. 其他物种的种群数量也可预报西尼罗热疫情
- D. A 型野马的种群数量提高是其他人畜共患病爆发的先兆

178. 某市市场监督管理局查获一批劣质药品，企业辩称根据国家标准药典制造，即使企业说的为真，下列哪一项最有助于该市场监督管理局将此类药品认定为劣质药品？（ ）

- A. 国家药典标准已过时

- B. 药品中含有不应该出现的其他成分，这种成分药典标准中标注不允许出现
- C. 其他药厂同类药品更好
- D. 该药厂以前生产过劣质药品

179. 相对论的创立者爱因斯坦是左撇子，发明家富兰克林和科学家牛顿是左撇子，达·芬奇、米开朗琪罗、毕加索和贝多芬等艺术家也都是左撇子。可见，突出的创造性是左撇子独特的天然禀赋。

下列哪项陈述是上述论证所依赖的假设？（ ）

- A. 左撇子的独特优势是右撇子不具备的
- B. 据研究表明，左撇子具有一定的遗传性
- C. 中国许多父母会强迫孩子矫正惯用左手的“坏毛病”
- D. 左撇子突出的创新能力并非由教育和环境等后天因素决定的

180. 小女孩喜欢洋娃娃，小男孩更爱玩具汽车，这是天生本能反应还是后天环境影响下的选择？在一项实验中，研究人员观察了3至8个月大的婴儿对玩具的喜好，发现女婴盯着粉色洋娃娃看的时间明显长于玩具卡车，而男婴关注蓝色卡车的时间更多。因此，研究者认为婴儿对玩具的不同偏好或许是由性别基因决定的。

上述结论隐含的假设是什么？（ ）

- A. 婴儿对新鲜事物关注的时间较长
- B. 婴儿对玩具的喜好不受玩具颜色的影响
- C. 玩具卡车和洋娃娃摆放位置的不同会对婴儿的注意力产生影响
- D. 大多数婴儿更容易注意到和自己衣服色调相同或相近的玩具

181. 有报道称，女性多吃水果少吃快餐有利于受孕。

若下列选项为真，则不能支持上述结论的是（ ）。

- A. 如果女性采取基本不吃水果的饮食方式，其受孕时间比每天至少吃3份水果的女性平均晚两周
- B. 每天至少吃四次快餐的女性，比从不吃快餐的女性受孕晚一个月
- C. 爱吃快餐和其他高脂肪食物的女性不孕的几率要比其他女性高出一倍
- D. 妊娠和营养的研究主要将注意力集中在经诊断患有不育症的女性的饮食上

182. 历史并非清白之手编织的网，使人堕落和道德沦丧的一切原因中，权力是最永恒

最活跃的。因此，应该设计出一些制度限制和规范权力的滥用。

以下哪个假设能最有力地支持上述推理？（ ）

- A. 应该设法避免使人堕落和道德沦丧
- B. 没有权力的人就没有机会在道德上堕落
- C. 权力常常使人堕落和道德沦丧的
- D. 没有权力的人往往没有对权力的追求

183. 近日，有研究人员梳理了将近 76000 名 60 岁以上女性的维生素摄入习惯，这些女性参与了为期数十年的护理健康研究。研究发现，服用高剂量维生素 B6（每日 35 毫克以上）的人，相比较于服用低剂量或不服用的人，髌关节骨折的风险高出近 50%。研究人员据此得出结论，服用高剂量维生素 B6 易导致老年女性髌关节骨折风险升高。

以下哪项如果为真，最能支持上述论证？（ ）

- A. 服用高剂量维生素 B6 会对神经系统产生毒性，增加老人跌倒的几率
- B. 大多数出现体内维生素不足的人，都是因为日常的饮食摄入不当而导致的
- C. 服用维生素 B6 会降低雌激素水平，使髌关节部位骨质疏松，从而更易骨折
- D. 50 岁-60 岁的女性中，有 10%-30% 因吸收较差而需要额外补充维生素 B

184. 意大利生物学家特里布奇知道了动物在地震前的种种异常行为之后，尤其是当他听到钟表匠楚德尔告诉他，震前无法把拆开的钟表重新组装起来后，对动物预报地震产生了强烈的兴趣。特里布奇想，被拆开的钟表零件互相排斥，不能组装在一起，说明它们带有同样的电荷。这些电荷来自空气，在木制的工作台上又不能导电，所以，这些带电荷的零件难以组装起来。特里布奇最后证明动物预报地震确实是由于空气中的电荷。

以上陈述如果为真，则必须有下列哪项作为科学依据？（ ）

- A. 地震是一种灵异的现象，动物的特异功能使它们能对此预测
- B. 地震发生前，空气中产生了一种带电的气溶胶微粒，能使动物体内产生一种特殊激素，而对中枢神经起作用，因而使动物产生反常行为
- C. 动物的导电性比人体高
- D. 人体是导电体

185. 招牌柱在离店门前用于指示店铺名称，实际上是经营者的品牌标识，记者调查发现，一些城市的街道变丑了，变冷清了，主要原因是一些地方政府以“美化市容，规范管

理”为由，将原本各具特色的店铺招牌拆除，取而代之的大小，颜色风格，字体，都一模一样的统一招牌。因此，有学者尖锐的指出，城市“统一招牌”的做法，不仅是对美化内容的一种误解，还会扼杀城市的内在活力。

下列如果为真，最能支持上述学者观点的是？（ ）

- A. 中国招牌文化源远流长，博大精深是中华文化的重要组成部分
- B. 招牌管理的重点主要是考虑如何改善市容环境和清除安全隐患
- C. 对招牌盲目追求整齐划一，会造成对城市底蕴，商业氛围的破坏
- D. 美有多种，有简洁之美，有繁华之美，商业街区就应当以繁华为美

186. 在某私营公司的一次董事会上，大家就研发部门展开了讨论。副董事长说：我们是私营企业，就应该以盈利为目的。为了节约开支，我建议撤销研发部门，因为公司为研发而支付的费用太高。总经理对此反驳说：我不同意这样做，研发部门集中了我公司最好的技术人员，他们可以研发出高质量的新产品。

以下哪项如果为真，最能支持总经理的观点？（ ）

- A. 高收益的公司都有自己的研发部门
- B. 优秀的技术人员才是公司盈利的根本保证
- C. 高质量的新产品可以很快占据市场
- D. 高质量的新产品可以使公司获得高额利润

187. 提高能源使用效率、鼓励能源灵活利用是英国减少温室气体排放政策的一个必要环节，它需要采用管理智能技术，包括通过智能表将能源使用信息从需求方或者客户发送到能源公司等，该信息可用于制定和实施更高效的能源使用条例。但英国消费者对此态度不一，因为该技术用于监控和支持能源高效率使用行为时，居民个人及家庭的能源数据不得不被动分享。所以，个人使用能源相关数据的被动分享有可能成为推广智能技术的主要障碍。

以下哪项如果为真，最能支持上述论证？（ ）

- A. 60%的被调查者表示，不愿意因数据被动分享而降低个人能源使用比例
- B. 60%的被调查者认为，数据的被动分享大大增加个人隐私被侵犯的风险
- C. 60%的被调查者表示，那些关心气候变化的人更可能接受数据被动分享
- D. 60%的被调查者认为，数据不可能不被分享，否则智能技术不可能应用

188. 中等收入陷阱指的是一个经济体的人均收入达到世界中等水平后，由于不能顺利实现发展战略和发展方式转变，导致新的增长动力特别是内生动力不足，经济长期停滞不前；同时，快速发展中积聚的问题集中爆发，造成贫富分化加剧、产业升级艰难、城市化进程受阻等问题。而有些专家认为，目前中国只有通过大力发展和鼓励创新，才能真正的跨过中等收入陷阱。

如果以下选项为真，最能加强专家观点的是（ ）。

- A. 创新是实现发展战略和发展方式转变的关键
- B. 国家一直都很支持科技创新
- C. 西方国家也是通过创新而跨过中等收入陷阱的
- D. 并不是每一个国家都能成功跨过中等收入陷阱

189. 减肥的方式一般有节食和体育锻炼两种。采取节食的方式减肥不仅会对身体有伤害，还容易反弹。因此，对于希望减肥的人士来说，通过体育锻炼的方式减肥更合适。

以下哪项陈述如果为真，最有力地加强了上述论证？（ ）

- A. 通过体育锻炼的方式来减肥，不仅对人体是健康的而且减肥效果更持久
- B. 体育运动不可避免会引起食欲增加，消化功能增强，运动后吃得多了反而可能增加体重
- C. 采取体育锻炼减肥，必须遵循循序渐进、持之以恒、长期坚持、注意安全等原则，才能收到锻炼减肥的效果
- D. 体育锻炼的方式减肥消耗的卡路里更多

190. 某些法学家是大学武术系的毕业生，因此，某些大学武术系的毕业生是对律师业务很有研究的人。

下列哪项如果为真，则能够保证上述论断的正确？（ ）

- A. 某些对律师业务很有研究的法学家不是大学武术系毕业的
- B. 所有对律师业务很有研究的人都是法学家
- C. 某些法学家不是大学武术系的毕业生，而是学法学的
- D. 所有的法学家都是对律师业务很有研究的人

191. 酒文化在中国可谓源远流长，人们在唱歌的时候要饮酒，在远行的时候要饮酒，在孤独的时候要饮酒，在聚会的时候更要饮酒，提起饮酒，很多人会想起“三碗不过岗”

的武松，而且“千杯不醉”被很多人贴上了“男人味儿”“豪爽”等标签，殊不知一个人的酒量取决于很多因素，比如个人的肝功能代谢能力，体内有无乙醇脱氢酶，而过量饮酒会损害身体健康，尤其是对胃部的伤害极大。

下列选项中，哪项为真最能支持上述结论？（ ）

- A. 实际生活中有更多的场合人们都会喝酒
- B. 酒精会导致胃黏液层变薄使胃受到损伤
- C. 大多数人喝酒时并未考虑身体是否能够承受
- D. 有些人的体内并没有乙醇脱氢酶

192. 某网站每年发布中国大学排行榜，然而学生们通常不以这一排行榜作为自己报考某所大学的依据。

下列哪一项为真，最能有力地证明学生的选择是正确的？（ ）

- A. 看这个网站排名的学生大多是已经上了大学的学生，而不是高中生
- B. 网站排名最好的几所学校事实上是在利用这一排行榜作为广告进行招生
- C. 这个网站公布的排行榜几年之内各学校的排行变化很微小
- D. 对不同的学生来说，排行榜衡量学校的标准并不是针对他们需求的标准

193. 当人们在海洋游泳时，身体会释放一种看不见的电信号，科研人员根据这一情况研制了海洋隐形衣，该隐形衣通过屏蔽掉身体释放的电信号，使得鲨鱼等海洋生物无法发现人们的踪迹。这样，人们就可以近距离接触并观察鲨鱼等海洋生物。

以下哪项是科研人员假设的前提？（ ）

- A. 有些海洋生物利用超声波进行信息交流、觅食、发现并躲避天敌
- B. 部分鱼类其视网膜中含有很多视锥细胞，能够敏锐地感受水中细微的光线变化
- C. 鲨鱼等海洋生物是凭借人体释放的电信号来发现人们踪迹的
- D. 该隐形衣非常轻薄，对人们在水下的活动不会形成阻碍

194. 大学的一次校庆会上，李主任发言说：“总的来说，现在的大学生的家庭环境情况有了大幅度的改善，这种变化是十分明显的，因为现在要求学校安排课余勤工俭学的学生越来越少了。”

上述李主任的发言必须基于下列哪个假设？（ ）

- A. 越来越多的大学生将时间用在学习上，勤工俭学的人就少了

- B. 就算家庭环境有了改善，也应当参加勤工俭学来锻炼自己的实践能力
- C. 现在大学生父母的收入不断增加，大学生不再需要勤工俭学来养活自己了
- D. 课余要求学校安排勤工俭学是大学生家庭环境困难的一个重要标志

195. ①小李是可口可乐在中国的高级雇员之一。

②那怎么可能！小李只喝百事可乐。

上述对话中，②的陈述隐含的一个前提是（ ）。

- A. 可口可乐与百事可乐同属一个总公司
- B. 小李在可口可乐并不受重用
- C. 小李在百事可乐公司兼职
- D. 一般地，所有的高级职员只喝本公司的产品

196. 一个没有去国外学过外文的人不可能成为一个外文主持人，因为外文主持人不能发音不标准。

上述论证还需基于以下哪一前提？（ ）

- A. 没有去国外学过外文的人都会发音不标准
- B. 发音不标准的外文主持人可能没有去国外学过外文
- C. 一个发音不标准的人有可能在国外学过外文
- D. 一个发音不标准的外文主持人不可能成为一个受欢迎的主持人

197. 据某权威组织的调查报告显示，2015年全国突发心肌梗死患者中，作息混乱，经常熬夜者占70%，其中年轻人占80%。这说明熬夜会极大增加突发心肌梗死的危险。

以下哪项如果为真，则最能支持上述结论？（ ）

- A. 近年来，老年人突发心肌梗死者人数有明显增加
- B. 到2017年，年轻人中经常熬夜者占比上升到总人数的35%
- C. 2017年未成年中经常熬夜的人数在增加
- D. 近年来，年轻女性的熬夜人数有所增加

198. 某市最近举行了以“我家的传家宝”为题的小学生征文比赛。在逾两万名学生的参赛作品中，“外婆留了一件补了又补的旧衣服”在上千名学生笔下成了“我家的传家宝”。对此，小王认为，不是生活阅历的缺乏，而是创造力的匮乏导致了孩子们的作文千篇一律。

以下哪项如果为真，最能支持小王的观点？（ ）

- A. 孩子课外时间几乎都被各种补习班占用，没有属于自己的生活，缺乏创作素材
- B. 课外班也有足球、钢琴、机器人等兴趣型的，孩子们的生活色彩并不是单一的
- C. 孩子们被要求背诵范文，模仿范文写作，抑制了其创造力的激发
- D. 与其追问“千篇一律”的原因，倒不如想办法激发孩子们的创造力

199. 建筑历史学家丹尼斯教授对欧洲 19 世纪早期铺有木地板的房子进行了研究。结果发现，较大的房间铺设的木板条比较小房间的木板条窄得多。丹尼斯教授认为，既然大房子的主人一般都比小房子的主人富有，那么，用窄木条铺地板很可能是当时有地位的象征，用以表明房主的富有。

以下哪项如果为真，最能加强丹尼斯教授的观点？（ ）

- A. 欧洲 19 世纪晚期的大多数房子所铺设的木地板的宽度大致相同
- B. 丹尼斯教授的学术地位得到了国际建筑历史学界的公认
- C. 欧洲 19 世纪早期，木地板条的价格是以长度为标准计算的
- D. 欧洲 19 世纪早期，有些大房子铺设的是比木地板昂贵得多的大理石

200. 复活节岛是位于太平洋上的一座孤岛。在报道中，复活节岛文明的衰落常作为一个警世故事，讲述人类肆意采伐棕榈树林，致使肥沃的土壤流失，最终导致岛中食物短缺，文明自此衰落。然而近日有专家提出，复活节岛文明的衰落与树木砍伐并无必然联系。

以下哪项如果为真，最能支持上述专家的观点？（ ）

- A. 考古发现，当岛上最后的树木（棕榈树）被砍伐之后，仍有大量原住居民生活着，其农业耕作的水平没有下降
- B. 大约公元 1200 年，岛上居民开始砍伐棕榈树，用于建造木船，运送大型石质雕像
- C. 花粉分析表明，早在公元 800 年，森林的毁灭就已经开始，岛屿地层中的大棕榈树和其他树木的花粉越来越少

D. 1772 年荷兰殖民者开始登陆复活节岛，并对当地居民进行奴役，那时岛上的土著人口是 4000 人，到 1875 年时仅有 200 人

201. 从创意到成片，一部电影需要正常的制作周期，而中国电影市场也需要细分工种后才能成熟。资本入场后，往往一股脑冲着更抢眼、更易出名的内容创作而去，殊不知，从前期设备到后期制作，电影工业的王国里，每一颗螺丝钉都有其必要价值，高度工业化的完善成熟，中国电影仍需理性等待。

以下各项如果为真，不能支持上述观点？（ ）

- A. 《智取威虎山》特意从澳大利亚进口无污染的逼真纸雪
- B. 《三体》前期拍摄时全然没有后期的专业建议加入，导致前后期无法对接
- C. 《摆渡人》因其签约的作家导演不按电影制作规律，遭遇大面积差评
- D. 《同桌的你》低成本大卖后，很多电影悄然调整为投资更小变现方式灵活的网络电影

202. 进入互联网时代，手机虽然可以帮助人们进行沟通，但手机游戏却妨碍了青少年沟通能力的发展，他们把课余时间都花费在玩手机游戏上，而不是与人交流上，所以说，把课余时间花费在玩手机游戏上的青少年比其他孩子的沟通能力差。

如上述结论成立，则必须假设（ ）

- A. 大多数孩子在玩手机游戏之外还有其他事情可做
- B. 玩手机游戏带来的思维能力的增强对孩子的智力开发没有实质性的益处
- C. 一些活动如看电视和听音乐不会阻碍孩子们交流能力的发展
- D. 课余时间不玩手机游戏的孩子至少有些时候是在与人交流

203. 为丰富师生视野，学校图书馆决定新购买一批图书。经过图书馆工作人员开会决定，最先购买的一批是最受师生读者欢迎的图书，而不是根据原有的购买原则。

图书馆这一决定最应具备的前提是（ ）。

- A. 每一本买来的新书受欢迎程度是不同的
- B. 不受欢迎的图书就不是好图书
- C. 具备能够评判图书受欢迎程度的具体标准
- D. 每一本书都有在自己领域的闪光点

204. 某市最近举行了以“我家的传家宝”为题的小学生征文比赛。在逾两万名学生的参赛作品中，“外婆留了一件补了又补的旧衣服”在上千名学生笔下成了“我家的传家宝”。对此，小王认为，不是生活阅历的缺乏，而是创造力的匮乏导致了孩子们的作文千篇一律。

以下哪项如果为真，最能支持小王的观点？（ ）

- A. 孩子课外时间几乎都被各种补习班占用，没有属于自己的生活，缺乏创作素材
- B. 课外班也有足球、钢琴、机器人等兴趣型的，孩子们的生活色彩并不是单一的

- C. 孩子们被要求背诵范文，模仿范文写作，抑制了其创造力的激发
- D. 与其追问“千篇一律”的原因，倒不如想办法激发孩子们的创造力

205. 老张好抽烟，老王劝他说：“老张，咱们都是上了岁数的人了，你以后少抽些烟吧，烟草味道再好，毕竟对健康有害啊。”老张说：“没事，我抽了30多年的烟，现在肺部功能还很好。”

以下哪项如果为真，则最能加强老王的告诫？（ ）

- A. 老王曾经因抽烟而伤肺
- B. 抽烟会使人产生神经依赖
- C. 许多抽烟的人健康都有损害
- D. 伤肺并不是抽烟对健康的唯一损害

206. 公元250年至800年，玛雅文明还十分发达，城市繁荣，庄稼收成也很喜人。气候记录显示，这一时期玛雅地区的降水量相对较高，此后玛雅文明开始衰落。从公元820年左右起，在连续95年的时间里，该地区开始经历断断续续的干旱，有些地方的干旱甚至持续了数十年之久，许多专家由此认为，9世纪的气候变化或许正是玛雅文明消亡的原因。

以下哪项如果为真，最能支持上述专家的观点？（ ）

- A. 在9世纪衰退的玛雅城市大多分布在南部，使用木材进行的建造活动也大大减少
- B. 和所有大型农耕文明一样，玛雅人的社会很大程度上依赖于农作物，干旱导致农产品减少，严重影响玛雅人的生存
- C. 大多数玛雅城市是在公元850年到925年之间衰落的，和干旱发生的时间高度重合
- D. 公元1000年至1075年期间，玛雅地区石雕和其他建造活动减少了将近一半，而那时当地又一次遭受了严重的旱灾

207. 出售像心脏、肾脏和眼角膜这样的人类器官，应该宣布为非法。

以下选项中，除哪项外都支持上述结论？（ ）

- A. 动物器官和人类器官一样具有贩卖价值
- B. 如果容许出售像心脏、肾脏和眼角膜这样的人类器官这种行为得以立足，身陷令人绝望的财务困境的人将开始出卖他们自己的器官以满足生活所需
- C. 有犯罪倾向的人将热衷于谋害健康的人，把他们的器官拿到黑市上去卖
- D. 人类器官的买卖接近于生命本身的买卖

208. 某校研究人员研制出了世界上首个合成的非生物流感疫苗，这种非生物流感疫苗在治疗效果上与注射型疫苗相差无几，可通过口服使用，并且可以在室温下稳定保存。由此，相关研究人员认为，该新型疫苗会在未来得到大力推广，并逐渐取代注射型疫苗。

假如下列论述为真，最能加强题干论断的一项是（ ）。

- A. 该疫苗的出现为其他非生物疫苗的研发和推广奠定了基础
- B. 该疫苗更易于保存和运输，在很多偏远地区也可以广泛使用
- C. 该疫苗是通过蛋白质分子“镜像”方法形成的具有活性的蛋白质
- D. 该疫苗是否能够投入临床使用还需要进一步的实验验证

209. 《汉武故事》文中不涉佛家言语，行文质朴无华，谈求仙时也没有提及魏晋以后的各种仙方仙术，因此有些研究者推测：它并非与辞藻华丽、描写细腻的《汉武帝内传》一样，产生于六朝时期。

以下哪一项如果为真，不能为研究者的推测提供支持？（ ）

- A. 六朝时期的文章凡谈及求仙，必然会提及魏晋以后的仙方仙术
- B. 六朝时期的君王传记文章必然具有辞藻华丽、描写细腻的特色
- C. 佛家文化繁荣于六朝时期，此时期的作者行文大都会引用佛家言语
- D. 六朝时期的君王传记文章中，谈及求仙的内容非常少见

210. 针对地球冰川的研究发现，当冰川之下的火山开始喷发后，会快速产生蒸汽流，爆炸式穿透冰层，释放灰烬进入高空，并且产生出沸石、硫化物和黏土等物质。日前人们发现，在火星表面的一些圆形平顶山丘也探测到这些矿物质，并且广泛而大量地存在。因此，人们推测火星早期是覆盖着冰原的，那里曾有过较多的火山活动。

要得到上述结论，需要补充的前提是（ ）。

- A. 近日火星侦察影像频谱仪发现，火星南极存在火山
- B. 火星地质活动不活跃，地表地貌大部分形成于远古较活跃的时期
- C. 在火星平顶山丘的岩石中发现了某种远古细菌，说明这里很可能曾经有水源
- D. 沸石、硫化物和黏土这三类物质是仅在冰川下的火山活动后才会产生的独特物质

211. 孩子们看的电视越多，他们的数学知识就越贫乏。甲市有超过 1/3 的孩子每天看电视的时间在 5 小时以上，在乙市仅有 7% 的孩子这样做。在甲市只有不到 15% 的孩子懂得高等测量与几何学要领，而在乙市却有 40% 的孩子在这个领域有这个能力。有鉴于此，如

果甲市孩子要在数学上表现出色的话，他们就必须少看电视。

下列哪一项是上述论证所依赖的假设？（ ）

A. 甲市孩子对高等测量和几何学要领的兴趣比乙市孩子小

B. 乙市孩子在功能方面的训练比甲市孩子多

C. 如果一个孩子每天看电视的时间不超过 1 小时，那么他在高等测量与数学方面的能力就会提高

D. 甲市孩子在高等测量与几何学要领方面所能接受的教育并不比乙市孩子差很多

212. 辅酶 q10 经淋巴管吸收，大量存在线粒体中，它具有促进氧化磷酸化反应和保护生物膜完整性的功能。某大学教授的两个实验结果表明，心脏病越严重，体内 q10 含量越少，因此辅酶 q10 含量决定了心脏的健康与否，辅酶 q10 是治疗心脏病的良药。

上述判断是以下哪项为前提假设的？（ ）

A. 健康人的血液中辅酶 q10 含量稳定不变

B. 对辅酶 q10 的药效作用得到了初步验证

C. 辅酶 q10 胶囊是国家准字药

D. 决定心脏健康的因素非常多

213. 为了确保我校代表队能够夺冠，A 领导对教练施压，要求更换几位参赛队员。A 领导坚持认为，预选赛突然冒尖的几个人应该更换为平时成绩一直居前且预选赛稳定发挥但预选赛落选的人员。

A 领导的行为最主要基于他做出的以下哪一种假设？（ ）

A. 认真遴选参赛人员，是参赛方的职责所在

B. 其他领导面对参赛人员的名单也会做出类似的调整建议

C. A 领导提议更换的新参赛人员将会一如既往地稳定发挥

D. 预选赛突然冒尖的队员几个月前成绩不如提议更换的新参赛队员

214. 荷兰伊拉斯莫斯大学医学中心的研究人员在对 1.8 万人进行调查并研究后发现。如果体内“CYP1A1”和“NRCAM”这两种基因表现活跃，人就会爱喝咖啡，而且不太容易出现大量摄入咖啡因后的不良感觉。因此，爱喝咖啡可能与基因有关。

下列各项如果为真，最能支持题干观点的一项是（ ）。

A. 由于喝咖啡时摄入咖啡因会导致“CYP1A1”和“NRCAM”表现活跃

B. 喝咖啡的习惯是慢慢养成的，很多人本来不喜欢喝，喝习惯了也就离不开了

C. “CYP1A1”和“NRCAM”这两种基因负责制造能够分解咖啡因的蛋白质，可以增强对咖啡因的耐受性

D. 参与调查的1.8万人本来就喜欢喝咖啡，很少会出现不良反应

215. 笔迹，广义上讲，是运用各种工具在定界面上书写的带有文字规范限制的痕迹。狭义上讲，就是指在自然状态下由书写人留在纸上或石头上的带有文字规范限制的书写痕迹。因为书写者的性格和心理特征是不同的，由此可以推测，研究人的笔迹可以分析书写者的性格特点和心理状态。

以下哪项如果为真，最能支持上述推测？（ ）

A. 据调查，现在很多公司在招聘员工时加入了笔迹分析这一项

B. 不同笔迹的起笔、连笔方式程度和笔画结构是不同的

C. 近代以来，很多先进的理论和仪器被用来进行笔迹鉴定

D. 书写的压力、笔画结构和字体大小能反映人的自我意识和对外部世界的态度

216. 有研究者认为，人体内血糖的升高和脂肪值的增加才是导致肥胖的原因，与晚上吃宵夜无关。

下列哪项如果为真，最能削弱上述观点？（ ）

A. 经常吃高热量的食物，会导致脂肪值偏高

B. 晚上吃宵夜会使人体内的血糖升高，脂肪值增加

C. 现代人的身体普遍处于一个亚健康状态

D. 如果睡前感觉饥饿，就表明人体内的血糖升高了

217. 在考古学研究中判断人类遗骸的性别具有重要意义，对于了解古代社会结构具有重要意义。科学家发现牙釉质中含有釉原蛋白，编码这种蛋白的基因恰好位于性染色体—X染色体和Y染色体上，研究者认为，用牙齿判定遗骸性别的方法可用于考古研究。

以下哪项如果为真，最能支持上述论证？（ ）

A. 牙齿是古人类遗骸中最容易找到并且保存最完好的部分

B. 儿童遗骸的骨骼没有明显的性别差异

C. 人类遗骸的性别比例与当时人类社会的性别比例大致相同

D. 测量某些骨骼特征如骨盆的结构通常可以直接判定性别

218. 老师不可能无时无刻照顾好每一个学生，即使他们能够这样做，他们也并不总是能够提前预判某个学生会摔跤、会尿裤子。这就是他们不能因为学生没有被照顾的不出任何问题而受到家长的指责和谩骂。

下列哪个一般原则，如果成立，最有助于证明上面论证中的结论？（ ）

- A. 老师没有责任和义务教会每个孩子如何避免摔跤和尿裤子
- B. 在道德体系中，家长和老师应该受到同样的对待
- C. 老师只应该对那些他们能够加以控制的行为承担责任
- D. 在教育体系中，老师，家长和学生都有各自的责任

219. 一个人到国外留学并不意味着能力水平的提升，更不意味着所受的教育可以对接国内的就业市场，有的留学生可能还会因离开了国内，回国后在人际关系、工作理念和为人处世方面，反倒与国内社会格格不入。既然如此，用人单位凭什么要高薪聘用一名不好用的海归？

以下哪项如果为真，最能支持上述观点？（ ）

- A. 从学历教育的角度看，留学也只是诸多学历教育的一种，并不天然具有竞争优势。
- B. 留学生一般具有较高的能力
- C. 留学人员是目前中国发展的生力军
- D. 海归人才面临就业压力

220. 医生经常告诫我们，警惕高的血液胆固醇水平会增加由血液凝结而引起的中风的危险性。但是，最新研究报告指出，低的血液胆固醇水平易使人罹患其他致命类型的中风，即脑溢血，此类型中风由大脑的动脉血管破裂引起。因为血液胆固醇在维持细胞膜的韧性方面起着非常重要的作用，所以低的血液胆固醇会削弱动脉血管壁的力量，从而使它们易于破裂。上述研究结果证实了西方饮食比非西方饮食能更好地防止脑溢血。

上述论述基于下列哪项假设？（ ）

- A. 西方饮食比非西方饮食更有益于健康
- B. 与非西方饮食相比，西方饮食易使人产生较高的血液胆固醇
- C. 高的血液胆固醇水平能消除动脉血管的衰弱
- D. 脑溢血比血液凝结引起的中风更危险

221. 正常人体内的酸碱度（pH 值）稳定在 7.35—7.45 之间，是偏碱性的。之所以这

么稳定，其原因在于人体有三大调节系统，分别为体内缓冲系统调节、肺调节和肾脏调节。如果体内的 pH 值低于 7.35，就属于“酸中毒”。有一种理论认为，癌症患者几乎都是酸性体质，因此酸性体质会诱发癌症。

以下哪项如果为真，最能质疑这一理论？（ ）

- A. 现代医学研究证实，癌症是由多种因素导致的
- B. 健康人体内的 pH 值一般不会受摄入食物的影响而改变
- C. 人的身体处于“酸中毒”状态，若未得到及时治疗，不出几天就会死亡
- D. 没有证据表明癌症患者的人体调节系统失常，“酸性体质”难以界定

222. 研究发现，20 到 39 岁的群体更热衷于使用智能手机中的运动类应用，最主要的原因在于该群体大部分都已经参加工作，且亚健康在该群体中较普遍，所以越来越多的白领和年轻人更注重身体健康；同时，年轻人肥胖率占比较高，而年轻人对美的追求远远超过中老年人，所以他们更在乎运动；此外，该年龄段的用户群体也更熟悉智能手机的操作。

以下哪项如果为真，最能削弱上述调研发现？（ ）

- A. 许多年轻人沉迷于智能手机中的游戏
- B. 许多年轻人长期加班，睡眠远远不足
- C. 年轻人不坚持运动易引发亚健康问题
- D. 当代年轻人营养过于丰富，体型偏胖

223. 撒哈拉沙漠是全世界面积最大的沙漠，其南端一些国家的居民每天都要和黄沙作斗争。为了阻止撒哈拉沙漠对农田的侵蚀，11 个非洲国家决定联合起来，在撒哈拉沙漠的南端建造一条防护林带。这个植树造林项目被命名为“绿色长城”，截止到目前为止，这个项目已经得到了非盟、欧盟、世界银行和联合国粮农组织等机构的大力支持，最终目标是在撒哈拉沙漠的南端建造一条长 8000 公里、宽 15 公里的绿化带。相关机构人员表示：“绿色长城”最终能有效抵御土地沙漠化，最终使当地居民有更好的生存条件，造福撒哈拉南部的普罗大众。

以下选项如果为真，最能质疑上述结论？（ ）

- A. 相对较为富裕的塞内加尔早在去年就开始了试点，已经种植了超过 1200 万棵树
- B. 在某些面临同样问题的国家，植树造林确实起到抵御土地沙漠化的作用
- C. 沙漠并不是一毛不拔之地，沙漠中生活着很多只有沙漠才有的动植物，其中不少种

类都属于濒危物种

D. 为了让绿色长城能够长期维持下去，将不得不使用大量的水资源，而撒哈拉南部是世界上最缺水的地方之一

224. 为了调查当前人们的识字水平，其实验者列举了 20 个词语，请 30 位文化人士识读，这些人的文化程度都在大专以上。识读结果显示，多数人只读对 3 到 5 个词语，极少数人读对 15 个以上，甚至有人全部读错。其中，“蹒跚”的辨识度最高，30 人中有 19 人读对；“呱呱坠地”所有人都读错。20 个词语的整体误读率接近 80%。该实验者由此得出，当前人们的识字水平并没有提高，甚至有所下降。

以下哪项如果为真，最能对该实验者的结论构成质疑？（ ）

- A. 实验者选取的 20 个词语不具有代表性
- B. 实验者选取的 30 位识读者均没有博士学位
- C. 实验者选取的 20 个词语在网络流行语言中不常用
- D. “呱呱坠地”这个词的读音有些大学老师也经常读错

225. 一个通常为狩猎运动辩护的观点是，狩猎发挥了对野生动物管理的重要功能。如果没有狩猎运动，无数动物可能由于饥饿和疾病而死亡。这个观点导致一个过分草率的结论：狩猎运动产生了一个更健康的动物群体。

下列哪一项如果正确，能够有效地反驳这个结论？（ ）

- A. 对于许多经济困难的家庭，狩猎是谋生手段
- B. 当其他事物来源变少时，野生动物物种会侵害农作物
- C. 狩猎运动中倾向于追捕动物群体中最大和最健康的动物
- D. 一个物种数量过多会导致强壮和虚弱的动物都会遭受疾病

226. 费米悖论提出，银河系大约有 2500 亿 (2.5×10^{11}) 颗恒星，可观测宇宙内则有 700 垓 (7×10^{22}) 颗，即使智慧生命以很小的概率出现在围绕这些恒星的行星中，则在银河系内就应有相当大数量的地外文明存在；考虑到智慧生命克服资源稀缺的能力和对外扩张的倾向性，任何高等文明都应会寻找新的资源和开拓其所在的恒星系统而涉足邻近的星系。因此宇宙中存在且可探测到地外文明。

以下哪项如果为真，不能削弱上述结论？（ ）

- A. 智慧生命是很稀少的，人类对智慧生命一般行为的理解是有误的

- B. 目前人类没有在可观测的宇宙范围内发现其他智慧生命的存在
- C. 地球拥有满足生物维持生存和演化的条件，才演化出高等智慧生命
- D. 迄今为止，没有任何先进的地外文明访问地球

227. 某企业的一项调查显示：经营岗人员的平均收入是行政岗人员的 2 倍，因此经营岗人员的收入普遍都比行政岗人员高。

以下哪项如果是真的，则最能削弱上述论证？（ ）

- A. 经营岗人员的人数只有 20 人，而行政岗人员却有 35 人
- B. 经营岗人员收入悬殊，最高收入与最低收入的差别远远大于行政岗人员
- C. 经营岗人员平均工龄是 15 年，比行政岗高很多，收入高些是很正常的
- D. 经营岗人员工资组成中有 40% 是绩效工资，而行政岗人员只有 10%

228. 某国每年对全国吸毒情况进行调查，统计结果表明：最近三年来，吸毒的中学生人数在逐年下降。调查组由此得出结论：吸毒的青少年人数在逐年减少。

下列哪项如果为真，将最能质疑调查组的结论？（ ）

- A. 调查发现，吸毒的初次年龄呈不断下降趋势
- B. 近几年各中学都明显加强了毒品危害性的教育
- C. 大部分吸毒的青少年都不是中学生
- D. 近三年来，社会上帮助吸毒者戒毒的协会、组织在增加

229. 有些地方规定对行人闯红灯进行罚款，但是该规定没有任何效果。因为，遵守交通规则的人不需要它，即使没有这项规定，这些行人也不会闯红灯。

最准确指出上述论证存在漏洞的一项是（ ）。

- A. 罚款越多，越能起到警示作用
- B. 解决闯红灯的根本在于倡导行人自觉遵守交通规则
- C. 解决闯红灯的问题需要罚款和教育相结合
- D. 有些闯红灯者受到罚款后会遵守交通规则

230. 在一项对大学生是否喜欢“京剧或者其他地方剧种”的调查中，居然有 51.2% 的“不感兴趣”，39.7% 的人认为可以去看看，还有 2.1% 的人“非常讨厌”，只有 8% 的人表示喜欢。由此专家得出一项结论：现在的大学生普遍缺乏中国传统文化的学习和积累。

以下哪项最能削弱上述观点？（ ）

- A. 大学生缺少对京剧艺术欣赏方面的指导，不懂得怎样去欣赏
- B. 有一些大学生既喜欢京剧，又对中国传统文化的其他方面有兴趣
- C. 喜欢京剧艺术与学习中国传统文化不是一回事，不要以偏概全
- D. 8%正说明培养大学生对传统文化的学习大有潜力可挖

231. 托勒密派天文学家坚持“地球静止说”，其根据是如果地球是转动的，每天一圈，那么地球表面上任何一点在很短的时间都将运动很大一段距离。这时，如果一块石头从塔顶落下来，应该落在离塔很远的地方。可是人们看到的情景并非如此。石头总是落在塔基边缘，可见“地球运动说”是错误的。

下面哪个选项最能对这些论断提出质疑？（ ）

- A. 难道从塔顶落下的石头不会受到人为的干扰吗？
- B. 难道塔一定是垂直的吗？
- C. 地球不转动怎么会有白天和黑夜的替换？
- D. 从正在航行的船桅杆顶上落下的一件重物不也是落到桅杆脚下而没有落到船底吗？

232. 一般都有私立高中比公立高中要好的误解，实际上公立高中的高考上线率比私立高中要高，从这点可以清楚的看到私立高中的教学水平比其他学校都低。

下面选项中，最能够有力地削弱上文论证的是（ ）。

- A. 在公立高中工作的老师赚钱比私立高中的老师少
- B. 公立高中买不起私立高中的高级硬件设施
- C. 私立高中的重点是培养学生的全面素质
- D. 进入私立高中学生能力没有公立高中的强

233. 有研究者认为，儿童缺钙会导致脾气暴躁，因此对于脾气暴躁的儿童应当补钙。但是，有反对者认为，儿童焦虑不安是导致脾气暴躁的原因。家长的溺爱、家庭的教育缺乏一致性、父母对孩子要求过于严格以及遗传等因素都会导致儿童焦虑不安。因此心理因素才是导致儿童脾气暴躁的原因。

以下哪项如果为真，最能削弱反对者的观点？（ ）

- A. 有些脾气暴躁的儿童经检查并不缺钙
- B. 儿童缺钙会导致焦虑不安等心理现象
- C. 家长对孩子溺爱或要求过严是社会普遍现象

D. 有些先天缺钙的儿童并没有表现出脾气暴躁

234. 甲球队半个赛季后，仅仅得到 36 分，这个数据仅是上个赛季总分的 40%，由此可知，今年甲球队的得分一定比去年少。

若下列选项为真，最能削弱上述结论的是？（ ）

A. 甲球队全赛季的 50% 得分都来源于赛季末期 2 个月的抢分

B. 本赛季，甲球队新引进了实力队员，球队实力大增

C. 去年甲球队上半赛季拿了 50 分

D. 赛季后半程对球员的体力是个考验，而甲队队员体力普遍较好

235. 黑脉金斑蝶的幼虫以乳草植物为食，这种植物所含的毒素使得黑脉金斑蝶对它的一些捕食动物有毒。副王峡蝶的外形和黑脉金斑蝶非常相似，但它的幼虫并不以乳草植物为食。因此有研究者认为，副王峡蝶之所以很少被捕食，是因为它和黑脉金斑蝶在外形上相似。

下列哪项如果为真，最能削弱研究者的论证？（ ）

A. 副王峡蝶对大多数捕食它的动物都有毒

B. 有些动物在捕食了副王峡蝶后并没有中毒

C. 有些捕食黑脉金斑蝶的动物也捕食副王峡蝶

D. 蝴蝶具有通过自身的毒性来抵御捕食者的保护机制

236. 几乎所有人在吃葡萄的时候都会把葡萄籽扔掉，研究显示，葡萄籽中含有一种对人体健康很重要的营养物质，而葡萄果肉中并没有这种营养物质，因此我们吃葡萄时候，为了得到葡萄籽中的特殊营养应该把葡萄籽一起吃下去。

下列哪个如果正确，最能质疑专家的上述建议？（ ）

A. 葡萄籽味道酸涩，难以下咽

B. 人体无法消化未经加工处理的葡萄籽

C. 人类不可以通过其他途径获得葡萄籽中的营养物质

D. 其他食物中都不含有葡萄籽中的特殊营养物质

237. 传统观点认为鸡蛋黄胆固醇含量高是直接造成高血压，动脉粥样硬化、冠心病及脑中风的罪魁祸首。所以，很多中老年人不敢吃鸡蛋黄，最近，营养学家组织了一个专门研究鸡蛋黄与胆固醇之间关系的小组，对 116 名 50 至 65 岁男性进行了为期半年的实验。

假定以下是几种实验的结果，哪项最能削弱传统观点？（ ）

A. 将被试者分为两组，分别食用蛋黄和蛋清，结果发现两组被试者体内胆固醇含量没有明显差异

B. 将被试者分为两组，分别食用蛋黄和蛋清，结果发现食用蛋清的一组被试者体内胆固醇含量明显增加

C. 将被试者分为两组，一组食用蛋黄，一组不食用蛋黄，半年后发现没有食用蛋黄的被试者体内胆固醇含量有所减少

D. 将被试者分为两组，一组食用蛋黄，一组不食用蛋黄，半年后被试者体内的胆固醇含量均没有发生变化

238. 两个实验大棚里种上相同数量的黄瓜苗，在第一个大棚里施加镁盐但在第二个里不加。第一个产出了 10 公斤黄瓜而第二个产出了 5 公斤。由于除了水以外没有向大棚施加任何别的东西，第一个大棚较高的产量一定是由于镁盐。

以下哪项如果为真，最严重地削弱了上述论证？（ ）

A. 两个实验大棚的土壤里都有少量镁盐

B. 第三个实验大棚施加了一种高氮肥料但没有加镁盐，产出了 7 公斤黄瓜

C. 两个实验大棚里都种植了四个不同的黄瓜品种

D. 两个实验大棚的土质和日照量不同

239. 某市环保部门的监测结果显示：今年上半年，该市的空气质量整体处于优良水平，严重污染天数不足 15 天，污染天数比去年同期少了 4 天。由此可知，今年的空气质量好于去年。

最能质疑上述结论的一项是（ ）。

A. 该市去年关停了几家重污染企业

B. 该市今年开展了植树造林活动

C. 该市的严重污染时段一般在下半年

D. 该市环保部门今年更新了空气检测设备

240. 有人认为一个人的年龄越大，体内积累的自由基会越多，氧化造成的伤害就越多，最后就会衰老死亡，葡萄籽提取物中含有的原花青素能有效清除体内自由基，保护人体细胞组织免受自由基的氧化损伤。因此，多吃葡萄籽提取物可以抗氧化防衰老。

以下哪项论述如果为真，最能削弱上述论证？（ ）

- A. 葡萄籽提取物中含有的多酚类物质易对肝脏造成损害
- B. 各种蔬菜水果等日常食物中，含有的抗氧化物质也比较多
- C. 年轻人、中年人和老年人体内的自由基浓度没有什么区别
- D. 体内的歧化酶结合一部分自由基，会减轻其氧化造成的伤害

241. 由于网络相亲的方式便捷且有更多选择，如今，不少人热衷于通过相亲网站来寻找自己的另一半。但是，反对者们认为，仅仅通过点击鼠标就能轻易找到伴侣，这段感情的未来也将更加充满变数，因此网络相亲不可取。

最有助于支持反对者们的观点的研究结果是（ ）。

- A. 个人在情感选择过程中投入的时间、精力越少，其情感的稳固程度越低
- B. 据统计，采用熟人介绍相亲方式相识并结婚的成功率最高
- C. 当选择更多时，个人倾向于将自己的择偶条件简单化，决定将更加草率
- D. 情感选择中过多的“备选项”，容易使人放弃自己已经选定的目标

242. 已在 4000 年前灭绝的猛犸象死于突如其来的冰期，死后尸体被冻结，有完好的化石保存，因现存的非洲、亚洲象牙被禁止交易，象牙制品价格逐年下降，人们将目光投向猛犸象牙的挖掘开采和加工，猛犸象牙的价格一路飙升，有人推测猛犸象牙制品交易将在近十几年走向巅峰。

以下哪项如果为真，能够质疑该推测？（ ）

- A. 猛犸象牙属于古生物化石，法律上禁止交易
- B. 猛犸象的挖掘开采不受濒危物种保护条例的限制
- C. 西伯利亚冰层下的猛犸象化石已经为数不多
- D. 物以稀为贵，猛犸象牙的收藏价值水涨船高

243. 购买彩票，很多往往愿意自己选号，不愿交由电脑随机选号。因为他们相信，中奖号码从长远看是随机产生的，但在短期内却有规律，比如前面连续多期出现的数字，这期出现的可能性就要小一些；或者某些数字对于自己意味深长，或干脆就是自己的幸运数字，选择它们应该更可能中奖。

以下哪项如果为真，最能质疑上述这些人的想法？（ ）

- A. 很多人研究彩票的中奖规律，但他们的中奖率并没有因此而显著提高

- B. 每一期中奖号码都是独立随机产生的，彼此间没有任何内在的关联
- C. 对于中奖号码的产生究竟有无规律，很多人持“信则有，不信则无”的观念
- D. 电脑选号是随机的，而自己选号有特定意向，在这一点上人比电脑更聪明

244. 某大公司的会计部经理要求总经理批准一项改革计划。会计部经理：我打算把本公司会计核算所使用的良友财务软件更换为智达财务软件。总经理：良友软件不是一直用得很好吗，为什么要换？会计部经理：主要是想降低员工成本。我拿到了一个会计公会的统计，在新雇员的财会软件培训成本上，智达要比良友低 28%。总经理：我认为你这个理由并不充分，你们完全可以聘请原本就会使用良友财务软件的雇员嘛。

以下哪项如果为真，最能削弱总经理的反驳？（ ）

- A. 现在公司的所有雇员都曾经被要求参加良友财务软件的培训
- B. 当一个雇员掌握了财务会计软件的使用技能后，他们就开始不断地更换雇主
- C. 有会计软件使用经验的雇员通常比没有太多经验的雇员要求更高的工资
- D. 智达财务软件的升级换代费用可能会比良友财务软件升级的费用高

245. 随着智慧城市建设的推进，智能安防系统如视频监控、楼宇对讲、人脸识别将得到快速的发展。

下列选项如果为真，最能影响智能安防系统发展的是（ ）。

- A. 传统安防对人的依赖性比较强，非常耗费人力
- B. 智能安防系统如无声的“保镖”守护着我们人身和财物的安全
- C. 只有当机器视觉、语音识别、生物特征识别等关键技术 在现有基础上取得重大突破后，智能安防才会显现应有的效能
- D. 智能安防系统每年以 11% 以上的增加速度在发展

246. 经常使用电脑办公的人，通常比不使用电脑办公的人办事效率更高，因此，使用电脑办公有助于提高办事效率。

以下各项如果为真，最能削弱上述结论的是（ ）。

- A. 使用电脑办公能训练使用者双手的协调性
- B. 有的使用电脑办公的人的办事效率并不如不使用电脑的人高
- C. 有少数人在使用电脑办公的过程中因电脑故障而导致工作未按时完成
- D. 只有具备电脑办公操作经验与技巧的人才能使用电脑办公

247. 今年1月至6月, 某品牌轿车在全国的销售量为1万台, 仅占去年全年该品牌国内销售量的40%。由此可预测, 今年该品牌轿车全年的销售量一定少于去年。

以下哪项如果为真, 最能削弱上述结论? ()

- A. 该品牌轿车今年的售价低于去年
- B. 该品牌轿车去年销售量的70%是在上半年完成的
- C. 通常来说, 轿车全年销售量的70%是在9月至12月之中完成的
- D. 该品牌轿车去年的销售量比前年要少

248. 当细菌遭遇威胁性病毒时, 会本能地切断攻击性病毒的部分DNA, 剪切进自己的基因代码并形成防御系统, 将信息传至后代。受到这一启发, 人们将计算机代码作为病毒DNA对细菌进行攻击, 使细菌能够复制计算机代码, 从而实现了信息的存储。因此, 有人认为这一技术会将细菌转变成“硬盘”, 实现大量的信息“备份”。

下列哪项如果为真, 不能削弱上述结论? ()

- A. 不是所有信息都能被剪切至细菌, 仅有少量信息可以被复制
- B. 应用这一技术时会出现细菌先后死亡的情况
- C. 不同细菌的复制能力不同, 许多细菌根本无法拷贝信息
- D. 通过合成生物学工程的处理, 可以指数级地增加细菌信息存储能力

249. 某市环保部门的监测结果显示: 今年上半年, 该市的空气质量整体处于优良水平, 严重污染天数不足15天, 污染天数比去年同期少了4天。由此可知, 今年的空气质量好于去年。

最能质疑上述结论的一项是 ()。

- A. 该市去年关停了几家重污染企业
- B. 该市今年开展了植树造林活动
- C. 该市的严重污染时段一般在下半年
- D. 该市环保部门今年更新了空气检测设备

250. 一些研究发现, 女性相对于男性不仅在识别脸部的能力方面更好, 而且在观察脸部时, 大脑中与面部识别相关的区域具有更强的反应, 在这些区域中有更密集的细胞组织。这些发现似乎印证了一个观点: 一般情况下, 女性比男性更擅长认人。

以下哪项如果为真, 最能削弱上述观点? ()

- A. 参加实验的男性平均年龄为 30 岁，高出女性平均年龄 2 岁
- B. 一般来说，女性更注重细节，因此对于人面孔的特征，女性观察得更为细致
- C. 男性在识别人的面孔时速度较慢，但在时间充足的情况下有更准确的识别率
- D. 在一些类似刑侦的特殊职业中，男性与女性在识别面孔的表现中没有显著差别

251. 某市今年进入夏天以来，不少市民发现蚊子越来越多，简直无法控制。之所以出现这种情况，有医学专家认为，由于该市今年气温比去年同期要高，而高温的天气有利于蚊子的生长，这就使得今年的蚊子比往年多。

下列选项中，最能削弱该专家观点的是（ ）。

- A. 该市前年同期气温更高，但是蚊子不多
- B. 也有部分市民觉得今年的蚊子不那么多
- C. 邻近某市今年气温不高，但蚊子也很多
- D. 蚊子的繁殖与蚊子所处环境的卫生有关

252. 某湿地公园的工作人员，在湿地周围发现一只已经死亡的候鸟，为了确定候鸟的死亡原因，对它进行化验。化验结果显示，候鸟体内含有大量的重金属元素。于是该工作人员认为，该候鸟不是由于湿地公园的原因而引起的死亡，应该是在上一栖息地受到了污染。

如果以下选项为真，不能质疑上述推测的是（ ）。

- A. 候鸟体内的重金属元素，是由该湿地土壤中的重金属元素渗透进来的
- B. 候鸟对环境要求非常高，会趋利避害
- C. 这只候鸟属于年老候鸟，属于自然死亡
- D. 该湿地并没有因重金属中毒而大批量死亡的候鸟

253. 美国迈阿密大学的迦勒埃弗雷特博士和他的研究团队研究了 3700 多种语言，发现 629 种声调多变的语种，大多出现在非洲和南亚的湿热地区，北美、亚马逊和新几内亚的潮湿地带以及中国以南的地区，比如越南语、缅甸语等。因此，气候可能影响了语言的形成和演化。

以下哪项为真，最能削弱上述结论？（ ）

- A. 吸入干燥的空气会令声带干湿，缺乏弹性，所以较难发出声调复杂的话语
- B. 粤语中共有 9 个声调，而北方人则习惯普通话的 4 个声调

C. 声调平和的语言如蒙古语、埃及语等，大都出现在干燥或干旱的地区

D. 声调多变的语种是研究语种中比较少见的一种，不具有代表性

254. 某市的新法规要求那里的企业制定 5 年期的节能规划。法规要求每家企业制定一个至少能节能 30% 的详细计划。然而很清楚，法规将不会导致能耗的显著减少，因为法规并没有强制要求企业实施他们的计划。

下列哪项最能削弱上述论证？（ ）

A. 节能改造所需要提升的设备，市场供应充足

B. 详细计划显示，节能改造措施能降低企业成本

C. 节能改造计划将受到社会欢迎

D. 节能改造计划将需要政府某部门的备案

255. 有人认为一个人的年龄越大，体内积累的自由基会越多，氧化造成的伤害就越多，最后就会衰老死亡，葡萄籽提取物中含有的原花青素能有效清除体内自由基，保护人体细胞组织免受自由基的氧化损伤。因此，多吃葡萄籽提取物可以抗氧化防衰老。

以下哪项论述如果为真，最能削弱上述论证？（ ）

A. 葡萄籽提取物中含有的多酚类物质易对肝脏造成损害

B. 各种蔬菜水果等日常食物中，含有的抗氧化物质也比较多

C. 年轻人、中年人和老年人体内的自由基浓度没有什么区别

D. 体内的歧化酶结合一部分自由基，会减轻其氧化造成的伤害

256. 当前，有专家建议，在房地产领域进行投资是一项有利可图的商业活动。《中国房市》杂志的一项研究表明，该杂志读者中的 80% 的人正准备购房，而对于房市的调查表明，目前每年推出的购房业务只能满足购买需求的 50%。

以下最能质疑上述投资建议正确性的是（ ）。

A. 购房的人中有大约一半的人为了购房而进行抵押贷款

B. 在购房业务开展的前两个月里，商品房只卖出了总数的 10%

C. 购房的人中有一半的人曾经有过购房投资行为

D. 那些宣称要购房的人中仅仅只有 15% 的人最后真正购买了商品房

257. 人们坐地铁前安检所受到的辐射小于体检时拍胸片 X 光检查的辐射量，体检时拍胸片的辐射量对身体的影响极其微弱，所以，地铁安检人员没必要担心该职业会对健康带

来的隐形危害。

下列哪项如果为真，最能削弱上述结论？（ ）

- A. X 射线是地铁安检设备产生的辐射之一
- B. 地铁安检设备的辐射同时对安检人员和乘客产生影响
- C. 长期或多次受到辐射时，辐射对人体产生的负面影响较大
- D. 体检时拍胸片受到的辐射对人体无影响，但是辐射对人体依然有害

258. 某公司专门生产深受年轻人喜欢的高端智能手机，产品销路一直很好，但近段时间却出现了销售量明显下降的趋势，以下是公司职员和经理二人对销量下降原因的分析。

公司职员：近段时间我们公司的产品销量明显下滑，这是由于我们生产的产品质量下降导致的。公司经理：产品销量下滑与产品质量没有关系，这是由于我们的产品缺乏市场竞争力。

以下哪项如果为真，能对公司经理的观点提出质疑？（ ）

- A. 其他生产相同产品的公司均无缺乏市场竞争力之忧
- B. 产品质量下降导致其缺乏市场竞争力
- C. 高端智能手机在市场上一直处于供不应求的状态，而不是无销路
- D. 公司近段时间抓产品质量，产品质量有很大提升

259. 研究者招募了一批学生并分成三组，要求每人完成智力测试，但在测试前有 10 分钟的准备时间；这期间，第一组听了莫扎特的乐曲，第二组听了普通流行音乐，第三组没有听任何音乐。之后让受试者答题，结果显示：第一组受试者得分明显比后两组要高。因此，研究者认为：听莫扎特的音乐可以有效提高人们在智力测试中的得分。

以下哪项如果为真，最能反驳上述结论？（ ）

- A. 第一组受试者都很喜欢莫扎特的音乐
- B. 第一组受试者在尖子班中选取，后两组在普通班中选取
- C. 后两组受试者在进行智力测试时较为紧张、焦虑
- D. 智力测试的题目只有图形推理题，不能全面反映受试者的智力情况

260. 美国是发生交通事故最多的国家，那是因为在美国拥有汽车的人多。

以下选项如果为真，最能驳斥上述论证的是（ ）。

- A. A 国很少发生交通事故，因为 A 国拥有汽车的人不多

- B. B 国不经常发生交通事故，那是因为 B 国拥有汽车的人不多
- C. C 国拥有汽车的人不多，所以 C 国很少发生交通事故
- D. D 国拥有汽车的人数较多，但是 D 国极少发生交通事故

261. H 国赤道雨林的面积每年以惊人的比例减少，引起了全球的关注。但是，卫星照片的数据显示，去年 H 国雨林面积的缩小比例明显低于往年。去年，H 国政府支出数百万美元用以制止滥砍滥伐和防止森林火灾。H 国政府宣称，上述卫星照片的数据说明，本国政府保护赤道雨林的的努力取得了显著成效。

以下哪项如果为真，最能削弱 H 国政府的上述结论？（ ）

- A. 去年 H 国用以保护赤道雨林的财政投入明显低于往年
- B. 与 H 国毗邻的 G 国的赤道雨林的面积并未缩小
- C. 去年 H 国的旱季出现了异乎寻常的大面积持续降雨
- D. H 国用于雨林保护的费用只占年度财政支出的很小比例

262. 很多白天没有时间锻炼的人往往会选择夜跑。实验发现，人们在夜跑的时候，血液中的血小板数量下降了 20%，这能降低跑者患血管栓塞的风险。此外，在适当夜跑后，睡觉时大脑分泌的褪黑激素和生长荷尔蒙会更加充足，这能促进青少年成长，提高成年人的免疫力，同时促进深度睡眠。因此，夜跑对青少年和成年人的健康都很有利。

以下哪项如果为真，最能削弱上述结论？（ ）

- A. 经常夜跑的人比晨跑的人更易患呼吸系统疾病
- B. 夜跑如果跑步姿势不正确，会对身体造成伤害
- C. 睡前夜跑会使大脑皮层神经元兴奋，延缓入睡时间
- D. 青少年和成年人患血管栓塞的风险本来就低于老年人

263. 过去，大多数航空公司都尽量减轻飞机的重量，从而达到节省燃油的目的。那时最安全的飞机座椅是非常重的，因此只安装很少的这类座椅。今年，最安全的座椅卖得最好，这非常明显地证明，现在的航空公司在安全和省油这两面更倾向重视安全了。

以下哪项如果为真，能够最有力的削弱上述结论？（ ）

- A. 去年销量最大的飞机座椅并不是最安全的座椅
- B. 所有航空公司总是宣称他们比其他公司更加重视安全
- C. 由于技术创新，今年最安全的座椅反而比一般座椅重量轻

D. 由于原材料成本提高，今年的座椅价格比以往都贵

264. 实验是生物化学教育中最有效的手段。但许多中学开始取消实验课，学生仅利用计算机做模拟实验。其结果是，许多大学生根本不知道如何使用实验器材。因此，上述取消实验课的势头必须制止。

如果下列哪项为真，最能削弱上述论证？（ ）

- A. 有的中学让学生观察老师做实验的过程
- B. 计算机是中学生学习生物化学知识的重要工具
- C. 各中学都为计算机教学投入不少经费
- D. 不会使用实验器材的大学生完全可以有效地学习生物化学

265. 小区居民代表说：“附近垃圾处理厂引起的污染危害了本小区居民的健康。”垃圾处理厂负责人说：“责任不在本厂。我们的研究表明，贵小区居民健康受损是由变异病菌引起的。”

下列哪一项如果成立，则能最有力削弱垃圾处理厂负责人的论断？（ ）

- A. 垃圾处理厂的研究没有涉及该厂排出的有害物质的危害
- B. 小区居民的生活方式近年来没有什么变化
- C. 垃圾处理厂负责人所说的变异病菌由来已久
- D. 垃圾处理厂引起的污染促生了变异病菌

266. 实现垃圾分类可以减少土地资源的消耗，为了更好地进行垃圾分类，某市决定发动市民开展垃圾分类工作，于是开始为市民发放大量有关垃圾分类知识的宣传册。

下列选项哪项正确，最能质疑上述做法的效果？（ ）

- A. 一些市民认为应该实行收费式的垃圾投放政策
- B. 市民们抱怨垃圾投放点过少
- C. 该市市民产生的垃圾量不大
- D. 宣传册上的垃圾分类知识对一般人来说难以理解

267. 有位政治家曾说过：“有益的社会改革的首要目的是增加人类幸福的总量。因此，任何使一些人幸福的改革都达到了它的目的。因为我所提出的社会改革会使我的选民们幸福，所以它是一个有益的社会改革。”

下列哪一项如果正确，可以削弱这位政治家的论述？（ ）

- A. 提出的改革会使少数人幸福，但不会使大多数人更幸福
- B. 有益的社会改革通常会受到广泛的支持
- C. 如果增加一些人的幸福，却损害了另一些人的幸福，那么人类幸福的总量就不会增加
- D. 不同的幸福会使不同的人幸福

268. 科学家通过动物模型，发现酒精和其代谢产物乙醛会对造血干细胞造成显著影响，引起基因突变，导致癌症。

以下哪一项如果为真，最能削弱上述内容？（ ）

- A. 事实上，全世界 5.5% 的癌症发生和 5.8% 的癌症死亡是酒精引起的
- B. 酒精在体内的代谢产物乙醛能直接破坏细胞 DNA 结构，诱发基因突变
- C. 携带乙醛脱氢酶（ALDH2）基因缺陷的人，特别容易受到酒精和乙醛的伤害，实验中携带 ALDH2 基因缺陷的老鼠喝酒后，DNA 突变数量是普通老鼠的 4 倍
- D. 长期以来，大量数据显示长期酗酒的人，造血能力与正常人差不多

269. 两个实验大棚里种上相同数量的黄瓜苗，在第一个大棚里施加镁盐但在第二个里不加。第一个产出了 10 公斤黄瓜而第二个产出了 5 公斤。由于除了水以外没有向大棚施加任何别的东西，第一个大棚较高的产量一定是由于镁盐。

以下哪项如果为真，最严重地削弱了上述论证？（ ）

- A. 两个实验大棚的土壤里都有少量镁盐
- B. 第三个实验大棚施加了一种高氮肥料但没有加镁盐，产出了 7 公斤黄瓜
- C. 两个实验大棚里都种植了四个不同的黄瓜品种
- D. 两个实验大棚的土质和日照量不同

270. H 市的交通管理部门表示，和去年相比，今年我市市区的道路通行有明显改善。该部门负责人认为，这是由于我市聘用了大量的交通协管员。

以下哪项最不能削弱该负责人的结论？（ ）

- A. 今年初，H 市专门召开会议对交通问题进行认真研究和整顿
- B. 许多专家认为，聘用大量的交通协管员的成本巨大，得不偿失
- C. 今年初，H 市市区的道路新建扩建工程刚刚结束
- D. 今年 H 市对驶入市区的车辆进行了严格的限制，许多大货车、外地车在交通“高峰”

时期不能进入市区

271. 法国研究人员针对 10 万余名法国成年人的研究发现, 饮用含糖饮料与患癌风险之间存在显著关联, 就算是喝纯果汁也可能增加患癌风险。研究人员建议, 出于健康考虑, 大家最好少喝含糖饮料。

下列选项如果为真, 最能推翻上述结论的是 ()。

- A. 欧洲人都喜欢含糖饮料
- B. 意大利人凯文喝含糖饮料, 后来他患癌了
- C. 亚洲研究人员发现, 含糖饮料与患癌风险没有必然联系
- D. 法国人保罗不爱喝饮料, 他没有患癌

272. 一项调查结果显示: 78%的儿童中耳炎患者均来自二手烟家庭。研究人员表示, 二手烟环境会增加空气中的不健康颗粒, 其中包括尼古丁和其他有毒物质。与居住在无烟环境的孩子相比, 居住于二手烟环境的孩子患中耳炎几率更大。因此医学专家表示, 父母等家人吸烟, 是造成儿童罹患中耳炎的重要原因。

以下哪项如果为真, 最能削弱上述论证? ()

- A. 调查中还显示, 无烟家庭的比率呈逐年上升的趋势
- B. 研究证明, 二手烟家庭中儿童中耳炎的治愈率较高
- C. 门诊数据显示, 儿童中耳炎就诊人数下降了 4.6%
- D. 在这次调查的人群中, 只有 20%的儿童来自无烟家庭

273. 为加强党员干部队伍建设、从严治党, 某乡政府推出了干部考核新规定: 干部工作以外的“私德情况”将纳入考察中。按照规定, 领导干部平时生活作风是否严谨、家庭关系是否和睦、……这些都将由干部的同事、下属、邻居给出评价, 作为干部任用的重要参考。

以下最能反驳这一新规定的一项是 ()。

- A. 应将领导干部工作以内的职业道德纳入考核
- B. 考核领导干部“私德”涉嫌侵犯个人隐私
- C. “私德”考核指标难以量化, 更难以比较
- D. 领导干部的人际关系状况对考核结果有影响

274. 近日, 有研究人员开发了一种生发新技术, 这种技术通过温和的低频电脉冲来刺

激皮肤, 诱使休眠的毛囊重新开始产生头发。使用这种技术的设备靠佩戴者的日常活动供电, 因此不需要笨重的电池组或复杂的电子设备, 以至于可以放在普通棒球帽的下面。研究人员据此预测, 这种新技术将会有效改善脱发。

以下哪项如果为真, 最能质疑上述结论? ()

- A. 这种新技术对毛囊已被破坏的病理性脱发效果不明显
- B. 目前这种新技术设备处于实验室研发阶段, 尚未商用
- C. 这种低频电脉冲有助于减少精神压力, 改善睡眠质量
- D. 脱发原因多样, 遗传因素、免疫异常等都易造成脱发

275. 一般认为, 为了预防胎儿神经管畸形, 妇女必须在怀孕之前的三个月及孕期头三个月适量服用叶酸制剂以补充体内叶酸。现有一项新的研究表明, 我们经常食用的绿叶蔬菜、水果、动物肝脏中都含有不少叶酸, 因此孕前及孕中额外补充叶酸并非必需。

以下哪项如果为真, 最能削弱上述结论? ()

- A. 只有早孕反应强烈的人才会缺乏叶酸, 而并非所有孕妇都会出现强烈的早孕反应
- B. 胎儿神经管畸形一般都是由遗传因素所致, 只有极少数才是由孕妇叶酸缺乏引起
- C. 天然叶酸极不稳定, 遇光或被加热后容易氧化
- D. 叶酸制剂是经过提纯的, 其生物利用度较高, 便于人体吸收

276. 高脂肪、高糖含量的食物有害人的健康。因此, 既然越来越多的国家明令禁止未成年人吸烟和喝含酒精的饮料, 那么, 为什么不能用同样的方法对待那些有害健康的食品呢? 应该明令禁止 18 岁以下的人食用高脂肪、高糖食品。

以下哪项如果为真, 最能削弱上述建议? ()

- A. 许多国家已经把未成年人的标准定在 16 岁以下
- B. 烟、酒对人体的危害比高脂肪、高糖食物的危害要大
- C. 禁止有害健康的食品的生产, 要比禁止有害健康的食品的食用更有效
- D. 高脂肪、高糖食品主要危害中年人的健康

277. 为了调查国人对投资理财关注程度, 《财经速递》杂志在读者中展开了一项调查。调查结果显示, 每月拿出收入一半以上进行投资理财的占 50%, 每月拿出收入 30% 以上进行投资理财的占 25%, 15% 的人都拿出 20% 的收入进行投资理财, 只有 10% 的人不进行投资。《财经速递》杂志得出结论: 当前国人 90% 左右的人会进行投资理财。

以下哪项如果为真，最能削弱上述结论？（ ）

- A. 《财经速递》杂志的读者都是对投资理财特别关注的人
- B. 并不是所有人都认真参与了问卷调查，有些人并没有认真地回答问题
- C. 并非所有《财经速递》杂志读者都参与了这次问卷调查，其可信度值得商榷
- D. 《财经速递》杂志发行量特别大，全国 80%以上的人都是读者

278. 近年来，幸福指数成为人们关注的一个话题，许多地方政府幸福指数侧重的主要是一种物质性和量化的标准，其实这是不科学的，财富与幸福并没有绝对的联系，富裕并不一定等于幸福，因为幸福指数反映的是一种主观感觉，怎么能用经济指数量衡量呢？

以下哪项为真，最能够对上述判断提出质疑？（ ）

- A. 某种权威调查报告指出，分别有 54.6%的城镇居民和 66.4%的农村居民都以为贫穷是得不到幸福的首要原因
- B. 经济不是使人感到幸福的主要因素
- C. 穷人也可以有幸福的感受
- D. 就社会层面而言，其成员的幸福感受受到他们心里参照系的影响

279. 喜爱旅游的人通常比不喜爱旅游的人心情愉悦，因此，多外出旅游有助于让人心情愉悦。

如果下列选项为真，则最能构成对上述结论质疑的是（ ）。

- A. 旅游需要一笔不小的花销，会造成经济负担
- B. 外出旅游的人通常都是心情愉悦的乐天派
- C. 在旅游前需要做好功课，这是一项繁杂的工作
- D. 不少人没有很多时间外出旅游

280. 一种新的、更具攻击性的导致 19 世纪爱尔兰马铃薯饥荒的真菌最近已经出现。然而，因为这种新型的真菌能够被新近使用的杀真菌药杀死，这种真菌不会使目前依赖马铃薯生存的国家发生广泛的食物短缺。

下列哪一个，假如正确，最能使上面的论述陷入疑问？（ ）

- A. 尽管马铃薯是世界上许多地方的重要作物，大多数国家的人主要依赖小麦或大米为生
- B. 在这种新型真菌已经散布到的国家，马铃薯农场主付不起在杀真菌剂上增加的花费

- C. 大多数国家的农场主在他们的作物上使用许多杀虫剂和杀死新型真菌的杀真菌剂
- D. 大多数政府有用于减少诸如严重的食品短缺和洪水等大规模灾难的专门基金

281. 某地儿科主任张某某表示，充足的睡眠是促进儿童身高增长的重要因素，生长激素夜间分泌达高峰，睡眠促进骨钙沉积、促进营养物质的吸收。而愉快的心情有利于生长激素的分泌，良好的心情可促进营养吸收、提高睡眠质量。

若下列论断为真，最能反驳题干中儿科主任张某某的结论的是（ ）。

- A. 大多数孩子的最终身高也就是成年身高并不完全由遗传身高决定
- B. 睡眠质量越高，孩子生长的潜能越低
- C. 缺少户外运动会严重影响孩子的身高增长
- D. 体重的增长需要营养物质，盲目补充营养易造成孩子的肥胖

282. 给苹果表皮打蜡有助于保持表皮光泽，防腐防虫，减少水分蒸发，是一种常用的水果保鲜方法。而蜡中含有的一些物质若大量食用，可能危害人体健康甚至导致癌症。故有人认为，食用打蜡苹果有害。

假设以下选项为真，最能质疑上述结论的是（ ）。

- A. 给苹果打蜡是以前交通不便，技术落后时常用的保鲜手段，如今运输便利，技术发展，已经少有果农给苹果打蜡
- B. 一般给苹果打蜡用的是食用蜡，其主要成分对人体并无害处，且国家对食用蜡的用量有严格规定
- C. 苹果表皮上的蜡层可以通过温水浸泡，粗盐搓洗等方法去掉
- D. 许多人害怕用水难以洗净苹果上的农药残留，一般都会将苹果削皮后食用

283. 探望病人通常会送上一束鲜花。但某国曾有报道说，医院花瓶的水可能含有很多细菌，鲜花会在夜间与病人争夺氧气，还可能影响病房里电子设备的工作。这引起了人们对鲜花的恐慌，该国一些医院甚至禁止在病房内摆放鲜花。尽管后来证实鲜花并未导致更多的病人受感染，并且权威部门也澄清，未见任何感染病例与病房里的植物有关，但这并未减轻医院对鲜花的反感。

以下除哪项外，都能减轻医院对鲜花的担心？（ ）

- A. 鲜花并不比病人身边的餐具、饮料和食物带有更多可能危害病人健康的细菌
- B. 在病房里放置鲜花让病人感到心情愉悦、精神舒畅，有助于病人康复

C. 给鲜花换水、修建需要一定的人工，如果花瓶倒了还会导致危险产生

D. 已有研究证明，鲜花对病房空气的影响微乎其微，可以忽略不计

284. 一项关于英国大学里男性学术水平的调查发现，比起低阶的讲师和研究人员，教授的胡子“明显浓密得多”。由此可见，胡须男的社会地位较高，比其他人更令人敬重。

以下是能对上述观点提出质疑的是（ ）。

A. 近年来人们对职业社会地位的划分有了不同以往的认识

B. 男性在大学的教职人员中只占很小一部分

C. 除了学术界，其他行业的男性少有蓄胡子的习惯

D. 女性在某些领域比男性拥有更高的地位

285. A 公司为了节省办公设备的开支，决定尝试让一部分员工在家里工作半年。半年后的绩效考核发现，在家工作的员工与他们以前在公司里的表现相当。所以，管理层决定大力推广在家办公计划。

以下哪项为真，最能有力阻止在家办公计划的推广？（ ）

A. 采用在家办公计划并取得良好成果的公司往往比 A 公司规模更大

B. 参加这项计划试测的是公司最自律的那部分员工

C. 这项计划在 A 公司的试测采取的是员工自愿报名的方式

D. 在家办公计划节省的办公设备开支仅占公司利润的一小部分

286. 在信息化的背景下，发展中国家和发达国家在经济全球化的机遇和风险是相对平等的，因此，发达国家和发展中国家的经济发展差距呈现日益缩小的趋势。

以下哪项为真，能对以上结论提出最严重的质疑？（ ）

A. 经济全球化一方面促进了各国经济快速增长，另一方面却蕴含着前所未有的风险

B. 即使对美国这样的发达国家来说，全球化也给它带来了不利影响：过量移民、廉价商品、跨国犯罪等

C. 据联合国的报告，1990 年到 2000 年间，世界各国中按发达程度排名的前 15 名和后 15 名的人均年收入比率从 60:1 扩大到 74:1

D. 经济全球化为世界创造了无数的就业机会，为千百人创造了新的发展机遇

287. 一位小学教师声称其发现了“第十名现象”，即在一个班级中，日后最有出息的学生往往不是学习成绩最好的前几名，而是班上处于中游的第十名左右的学生。该教师称，

这种现象出现的原因是这类成绩中等的学生拥有性格优势，他们既没有优秀生“想赢怕输”的负担，也没有差生的自卑心理，他们敢闯敢拼，因此在后面的人生中比前两者更容易取得成功。

以下哪项如果为真，最能质疑该教师的观点？（ ）

- A. 最能影响小学生性格发展的因素是老师以及家长的教导，而非成绩的高低
- B. 当年成绩中等的学生现在的平均工资远高于当年成绩靠后的学生
- C. 判断一个人成功与否取决于他是否感到幸福
- D. 一些小学时成绩处在中游的学生进入大学后成绩大幅下滑

288. 现在能够纠正词汇、语法和标点符号使用错误的中文电脑软件越来越多，记者们即使不具备良好的汉语基础也不妨碍撰稿。因此培养新闻工作者的学校不必重视学生汉语能力的提高，而应注重新闻工作其他素质的培养。

以下哪项如果为真，最能削弱上述论证和建议？（ ）

- A. 避免词汇、语法和标点符号的使用错误并不一定能确保文稿的语言质量
- B. 新闻学课程一直强调并要求学生能够熟练应用计算机并熟悉各种软件
- C. 中文软件越是有效，被盗版的可能性越大
- D. 在新闻学院开设新课要经过复杂的论证与报批程序

289. 环保人士批评海滨浴场用网将游泳区域与鱼隔开的做法。因为每年这种网无谓地杀死了数以千计的海洋动物。最近环保人士发现将电缆埋在游泳区四周的下面，鱼就会自动游开，这样既不伤人又不伤害海洋动物。所以，安装上这种电缆后，游泳区既能维持旅游业，同时又能满足环保人士的要求。

以下哪项最能削弱上面的论述？（ ）

- A. 许多从未出现鱼的海滨浴场也计划安装电缆
- B. 尽管许多人声称害怕鱼，但有鱼出没地区的旅游业所受影响并不大
- C. 一些游泳的人看不到将它们与鱼隔开的障碍，以后就不再光顾这些海滩了
- D. 环保主义者认可的能成功驱除鱼，同时又不伤害他们的办法中，在下面埋电缆并非唯一的办法

290. 地球和火星相比，有许多共同属性，如同隶属于太阳系，都是较规则球体，有公转和自转。既然地球有生命存在，火星也很有可能存在生命存在。

以下哪项为真，最可能削弱上述判断的可靠性？（ ）

- A. 地球距离火星过远，火星很难有生命
- B. 地球和火星生成时间不同
- C. 地球和火星转速不同
- D. 火星上目前没有发现液态水

291. 美国是发生交通事故最多的国家，那是因为在美国拥有汽车的人多。

以下选项如果为真，最能驳斥上述论证的是（ ）。

- A. A 国很少发生交通事故，因为 A 国拥有汽车的人不多
- B. B 国不经常发生交通事故，那是因为 B 国拥有汽车的人不多
- C. C 国拥有汽车的人不多，所以 C 国很少发生交通事故
- D. D 国拥有汽车的人数较多，但是 D 国极少发生交通事故

292. 为了顾及当前人们对管理基本知识的掌握水平，《管理者》杂志为读者开展了一次管理知识有奖答卷活动。答卷评分后发现，60%的参加者对于管理基本知识掌握的水平很高，30%左右的参加者也表现很高的水平。《管理者》杂志因此得出结论，目前社会群众对于管理基本知识的掌握还是不错的。

以下哪项如果为真，最能削弱以上结论？（ ）

- A. 管理基本知识范围很广，仅凭一次答卷得出的结论未免过于草率
- B. 管理基本知识的掌握与管理水平的真正提高是有一定距离的
- C. 并非所有的《管理者》的读者都参加了这次活动
- D. 从定价、发行渠道等发面看，《管理者》的读者主要集中在高等学历知识阶层

293. 过去 10 年中国粮食增产仅 2.5%。中国要实现 2020 年 1000 亿斤的粮食增产计划，也就是要比 2010 年增产 10%，任务非常艰巨。尽管常规育种仍有很大的发展潜力，可是单靠常规育种是不行的，一定要与新技术相结合。转基因技术是解决粮食短缺现状的一项可取技术，转基因技术商业化因此也是必由之路。

下列选项如果为真，最能对上述结论提出质疑的是（ ）。

- A. 由于受到科学种植观的指导，农民能够科学用地、养地，农作物长势较好
- B. 转基因食品的安全问题存在不确定性，此外推广转基因植物可能造成对生态环境的影响

C. 转基因作物本身并不增产，目前的品种只是对虫害有所控制，经过几代连续种植，其亩产量会越来越低

D. 在一项新肥料实验中，水稻、玉米的标准实验和大田实验都取得了非常明显甚至惊人的增产效果

294. 某区从8月份以来启动“文明交通志愿者”活动，每天组织近300名文明交通志愿者到早晚高峰路段上岗，引导行人不闯红灯，文明出行。活动开展三个多月以来，行人闯红灯的老大难问题得到了有效整治，行人交通违章行为有了明显下降，可见，“文明交通志愿者”活动，可以有效治理交通违章，改善交通环境。市公安局决定在全市范围内推广该活动。

以下各项如果为真，最能削弱上述论证的是（ ）。

- A. 行人并非自愿遵守交通法规，一旦没有了志愿者监督，违章行为还会上升
- B. “文明交通志愿者”活动增加了交通执法的成本，数百人的人力动员没有可持续性
- C. 行人违章在交通违章中所占比例很低，交通环境改善的重点在于机动车的遵章守法
- D. 8月以来，行人违章引发的交通伤亡事故仅8起，与去年同期相比数量明显下降

295. 不管你使用哪种牙膏，经常刷牙将降低你牙齿腐烂的可能性，科学家得出结论“当刷牙时，通过去除牙齿与牙龈上所形成的牙菌斑薄片可降低牙齿腐烂的可能性。因此你可以不用加氟牙膏，只要认真刷牙就能告别蛀牙”。

下面哪一项是对上面论述推理的反驳？（ ）

- A. 用加氟牙膏刷牙可以降低牙齿腐烂的可能性
- B. 刷牙可降低牙齿腐烂可能性的事实并没有表明氟不起任何作用
- C. 几乎没有人可以通过刷牙充分的清除牙菌斑
- D. 在绝大多数时间内，人们的牙齿上都有牙菌斑

296. “爆竹声声除旧岁”，说的是欢度春节时的传统习俗，春节燃放烟花爆竹虽然喜庆，但是会带来空气、噪音等环境污染问题，还可能引起火灾，一旦引起火灾，势必造成人身伤亡和财产损失，现在很多城市已经限制燃放，这样就可以避免发生火灾，而且只要限制燃放，就能避免环境污染，让空气新鲜、环境优美。

以下哪项如果为真，最可能质疑上述结论？（ ）

- A. 火灾会造成人身伤亡

- B. 限制燃放烟花爆竹能避免火灾的发生
- C. 限制燃放烟花爆竹不能避免环境污染
- D. 保护环境人人有责

297. 甲说：尽管政府努力通过积极的就业政策和开展全民创业活动降低失业率，但是这一计划仍然失败了，因为在本市实施一年后失业率并没有什么变化，乙说：但是在计划开始的最初一段时间，本地的失业率是有降低的，该计划还是有帮助的。

以下哪项为真，最能削弱乙的论断？（ ）

- A. 政府将实施更加积极的就业政策
- B. 该地的失业率在全国范围内属于平均水平以下
- C. 该地的失业率在当前一段时间内出现了上升
- D. 在政府计划开始的一段时间里，该地的居民外出打工的人数有明显增加

298. 遇到高温时，房屋建筑材料会发出独特的声音。声音感应报警器能够精确探测这些声音，提供一个房屋起火的早期警报，使居住者能在被烟雾困住之前逃离。由于烟熏是房屋火灾人员伤亡最通常的致命因素，所以安装声音感应报警器将会有效降低房屋火灾的人员伤亡。

下列哪一项假设如果正确，最能反驳上面的论述？（ ）

- A. 在完全燃烧时，许多房屋建筑材料发出的声音在几百米外也可以听见
- B. 在一些较大的房子里，需要多个声音感应报警器以达到足够的保护
- C. 声音感应报警器广泛使用的话，其高昂的成本将下降
- D. 许多火灾开始于室内的沙发坐垫或床垫，产生大量烟雾却不发出声音

299. 在市场经济条件下，每个商品生产的经营者都是独立的经济主体，都有充分的自主权。因此，他们生产什么，如何生产都由自己说了算。

以下哪项最能削弱上述结论？（ ）

- A. 商品生产的经营者都是独立的经济主体就意味着由自己决定自己的命运
- B. 商品生产经营者享有充分的自主权利这就意味着由自己决定生产什么
- C. 商品生产经营者必须了解市场行情和消费者的需求等，才能生产出适销对路的产品
- D. 每个商品生产的经营者虽然是独立的经济主体，但是在经营中也要顾及他人的利益

300. 平装书比精装书更容易破损，但是精装书比平装书贵。如果在预算固定的情况下，

公共图书馆把所有的资金用于购买平装书，就会增加图书馆的新书藏量，读者就会得到更好的服务。

如果下列选项为真，最能削弱上述结论的是（ ）。

- A. 如果公共图书馆的总预算减少了，那么用来买新书的预算也会减少
- B. 许多平装书从来不出精装书
- C. 如果公共图书馆不购买精装书，那么预算会被进一步削减
- D. 只有依靠图书馆才能读到的各种大型工具书只出精装本